

الدرس الأول

الخصائص الطبيعية للبيئة الصحراوية

في نهاية هذا الدرس يتوقع أن يكون التلميذ قادراً على أن :

- ١- يعطى تعريفاً لمفهوم البيئة الصحراوية .
- ٢- يحدد مناطق البيئة الصحراوية على خريطة مصر .
- ٣- يحدد الخصائص الطبيعية للبيئة الصحراوية .
- ٤- يقرأ مظاهر سطح البيئة الصحراوية من خريطة مصر .
- ٥- يقارن بين الصحراء الشرقية والصحراء الغربية من حيث مظاهر السطح .
- ٦- يحدد أنواع الحيوانات البرية والنباتات الطبيعية السائدة في البيئة الصحراوية .
- ٧- يقدر عظمة الله في تنوع الخصائص الطبيعية للبيئة الصحراوية .

الخصائص السكانية للبيئة الصحراوية

الدرس الثاني

في نهاية هذا الدرس يتوقع أن يكون التلميذ قادراً على أن :

- ١- يحدد خصائص سكان البيئة الصحراوية.
- ٢- يوزع مناطق تركيز السكان في البيئة الصحراوية على خريطة مصر .
- ٣- يميز بين العادات الإيجابية والعادات السلبية لسكان البيئة الصحراوية .
- ٤- يفسر أسباب تركيز السكان في بعض مناطق البيئة الصحراوية .
- ٥- يحدد بعض المشكلات المرتبطة بسكان البيئة الصحراوية .
- ٦- يقترح حلولاً مناسبة لحل المشكلات السكانية .
- ٧- يقدر جهود الدولة لحل المشكلات السكانية في البيئة الصحراوية .
- ٨- يذكر بعض الخدمات التي تقدمها الدولة لسكان البيئة الصحراوية .

الموارد والأنشطة الاقتصادية في البيئة الصحراوية

الدرس الثالث

في نهاية هذا الدرس يتوقع أن يكون التلميذ قادراً على أن :

- ١- يحدد أهم الموارد الطبيعية في البيئة الصحراوية .
- ٢- يعدد الأنشطة الاقتصادية في البيئة الصحراوية .
- ٣- يستنتج العلاقة بين الموارد الطبيعية وتنوع الأنشطة الاقتصادية .
- ٤- يجمع معلومات عن السياحة في البيئة الصحراوية باستخدام المكتبة وشبكة الإنترنت .
- ٥- يحدد على خريطة مصر مواقع أهم المناطق السياحية .
- ٦- يقترح حلولاً مناسبة للحفاظ على الموارد الطبيعية في البيئة الصحراوية .
- ٧- يقدر أهمية النشاط السياحي لسكان البيئة الصحراوية .

تنمية البيئة الصحراوية

الدرس الرابع

في نهاية هذا الدرس يتوقع أن يكون التلميذ قادراً على أن :

- ١- يعطى تعريفاً دقيقاً لبعض المفاهيم الجغرافية مثل (حركة الرمال - التصحر - تملح التربة -.....).
- ٢- يذكر أهم المشكلات المرتبطة بالبيئة الصحراوية.
- ٣- يستنتج الآثار المترتبة على السيول .
- ٤- يحدد أهم المشروعات الاقتصادية بالبيئة الصحراوية.
- ٥- يقدر جهود الدولة في الحفاظ على الموارد الطبيعية.
- ٦- يقدر جهود الدولة في تنمية البيئة الصحراوية.

مقدمة الوحدة

أنعم الله على مصرنا الحبيبة بمساحات صحراوية واسعة غنية برمالها وثرواتها المعدنية ومناظرها الطبيعية الخلابة ،
بالإضافة لوجود بعض المساحات الزراعية داخل الواحات ، ويسكنها عدد قليل من السكان تميزهم عادات وتقاليدهم خاصة بهم ،
والأهمية للبيئة الصحراوية في مصر سوف تهتم هذه الوحدة بدراستها من حيث خصائصها الطبيعية والبشرية ،
وأهم الأنشطة الاقتصادية بها ، ودور الدولة في حمايتها وحل مشكلاتها وتنمية مواردها .

الدرس الأول

الخصائص الطبيعية للبيئة الصحراوية

عرفنا في الفصل الدراسي الأول أن بيئات مصر متنوعة وكل بيئة تحتاج إلى البيئات الأخرى ، كما تعرفنا على البيئة الزراعية والبيئة الصناعية وسوف نقوم بدراسة كل من البيئة الصحراوية والبيئة الساحلية .



البيئة الصحراوية

البيئة الصحراوية

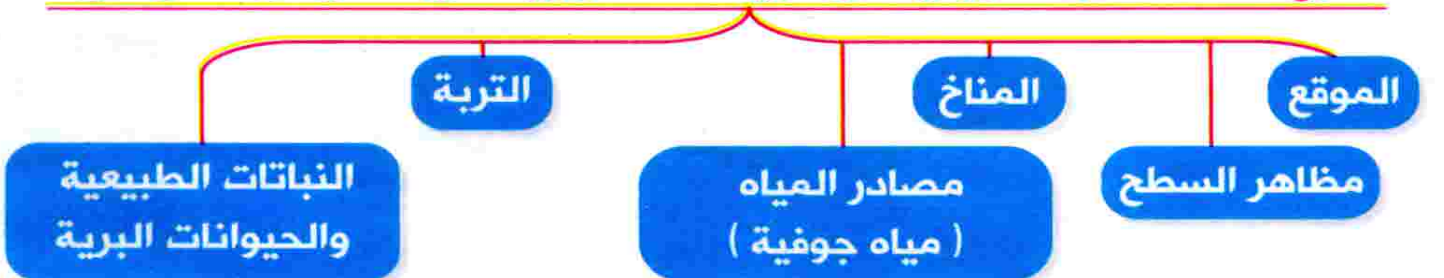


هي المناطق التي يقل فيها المطر ويسود الجفاف والفقير الشديد في النبات مع ندرة الحيوان وغالبًا ما يغطي سطحها الرمال والحصى والصخور .

تبلغ نسبة مساحة البيئة الصحراوية في مصر ٩٦ ٪ تقريبًا من جملة مساحة مصر .

الخصائص الطبيعية للبيئة الصحراوية في مصر

تتنوع الخصائص الطبيعية في البيئة الصحراوية في مصر ، وتتمثل في :





أولاً: الموقع

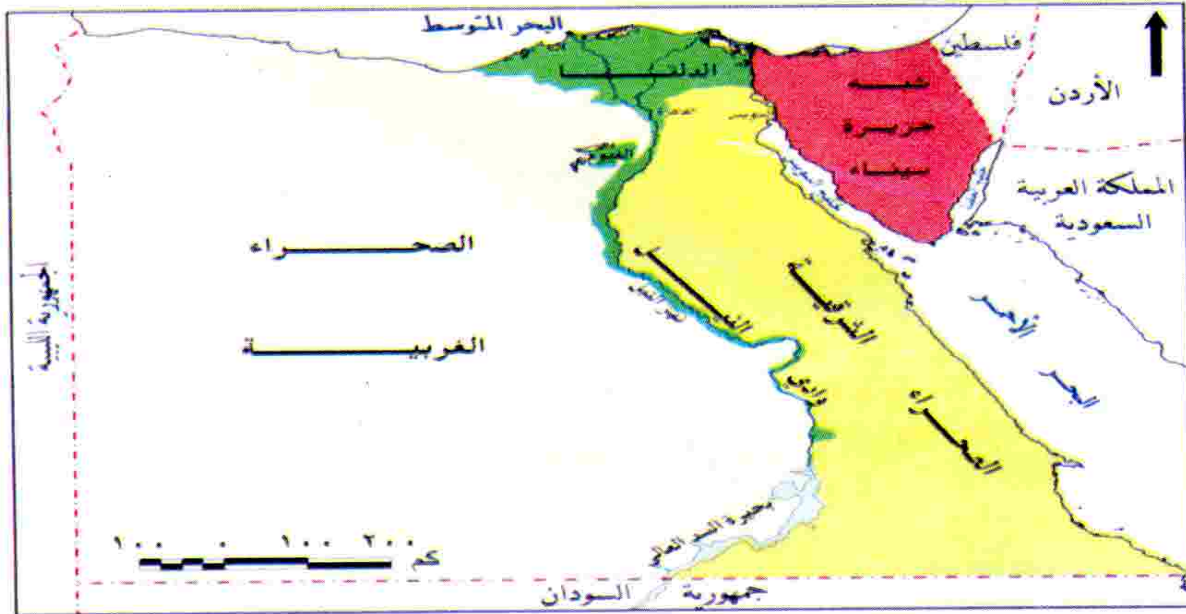


توجد البيئة الصحراوية في مصر في ثلاث مناطق رئيسية وهى :-

شبه جزيرة سيناء

الصحراء الشرقية

الصحراء الغربية



مقارنة بين (مناطق البيئة الصحراوية في مصر) من حيث المساحة والموقع :

وجه المقارنة	الصحراء الغربية	الصحراء الشرقية	شبه جزيرة سيناء
المساحة	٦٨ ٪ من مساحة مصر (أكبر صحارى مصر).	حوالى ٢٢ ٪ من مساحة مصر .	حوالى ٦ ٪ من مساحة مصر.
الموقع	تمتد من : - ساحل البحر المتوسط شمالاً حتى الحدود المصرية مع جمهورية السودان جنوباً . - ومن وادى النيل والدلتا شرقاً حتى الحدود المصرية الليبية غرباً .	تمتد من : - شرق الدلتا شمالاً حتى الحدود السياسية مع جمهورية السودان جنوباً . - ومن ساحلى البحر الأحمر وخليج السويس شرقاً حتى وادى النيل غرباً .	تقع ما بين : - البحر المتوسط شمالاً والبحر الأحمر جنوباً . - خليج العقبة والحدود المصرية الفلسطينية شرقاً وخليج السويس وقناة السويس غرباً .

ثانياً : مظاهر السطح

(١) في الصحراء الغربية :

(أ) **الجبال** : يوجد جبل العوينات (جنوب غرب مصر) ويمتد في الحدود بين مصر وليبيا والسودان .

(ب) **الهضاب** : يوجد بها ثلاث هضاب رئيسية ، وهي :

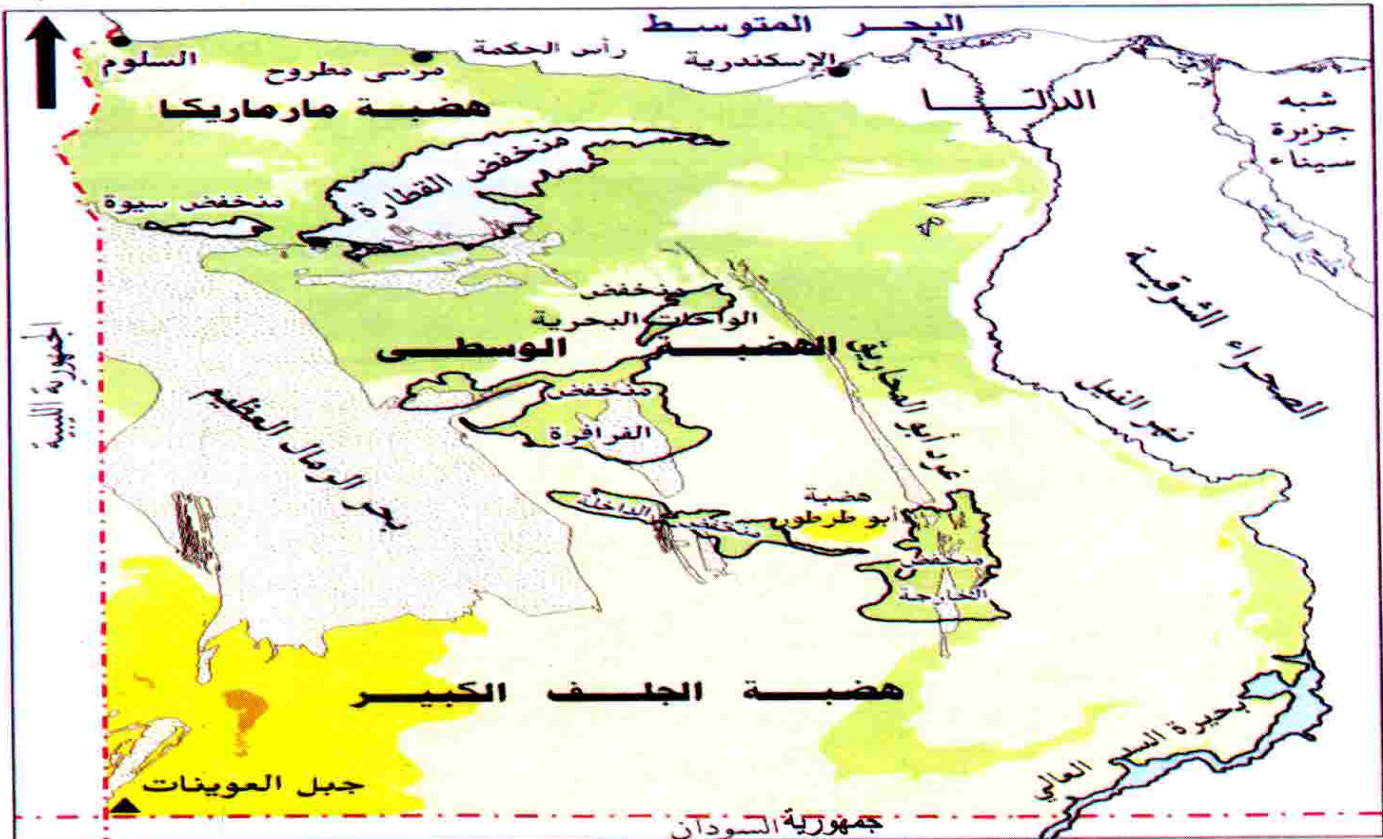
هضبة مارماريكا في الشمال الهضبة الوسطى هضبة الجلف الكبير في الجنوب

تنتشر فوق هذه الهضاب بعض الظواهر الجغرافية ،

مثل : ١- المنخفضات **مثل** : منخفض القطارة .

٢- الكثبان الرملية **مثل** : بحر الرمال العظيم .

٣- الواحات **مثل** : (الخارجة - الداخلة - الفرافرة - البحرية - سيوة) .



مظاهر السطح في الصحراء الغربية



◆ **المنخفض** : هو جزء من الأرض يقل مستواه عن الأراضي المحيطة به.

(أرض منخفضة عما حولها) .

◆ **الكثبان الرملية** : هي تجمعات من الرمال تتراكم بفعل الرياح .

◆ **الواحات** : هي أرض منخفضة في الصحراء تقوم بها الزراعة على المياه

الجوفية (الآبار والعيون) .

ملحوظات هامة

(١) يعتبر منخفض القطارة أكبر منخفضات مصر الصحراوية ، و تبلغ مساحته (٢٠ ألف كم^٢) .

(٢) يعيش معظم سكان البيئة الصحراوية في الواحات داخل المنخفضات حيث تتوفر مياه الآبار والعيون ؛ أو بدو رُحْل ينتقلون بحثًا عن العشب والماء .

(٢) في الصحراء الشرقية :

(أ) الجبال تتمثل في :

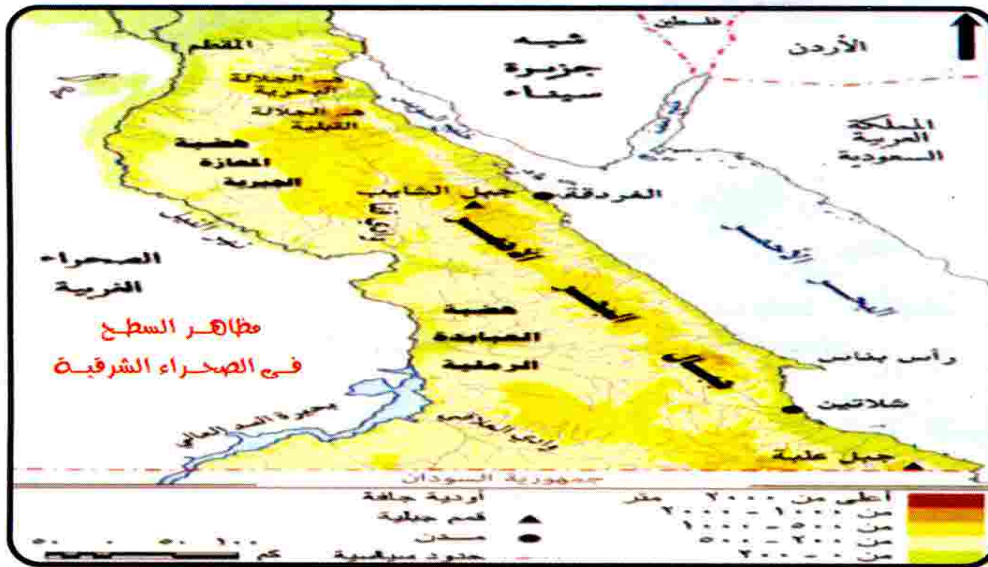
سلاسل جبال البحر الأحمر (تمتد من الشمال الغربي إلى الجنوب الشرقي)
ومنها : جبل الشايب (أكثرها ارتفاعًا) .

(ب) الهضاب : تنتشر بعض الهضاب في الصحراء الشرقية منها :

هضبة المعازة

هضبة الجلالة البحرية والجلالة القبليّة

هضبة العبادرة والتي تقطعها الأودية الجافة أهمها وادي العلاقي





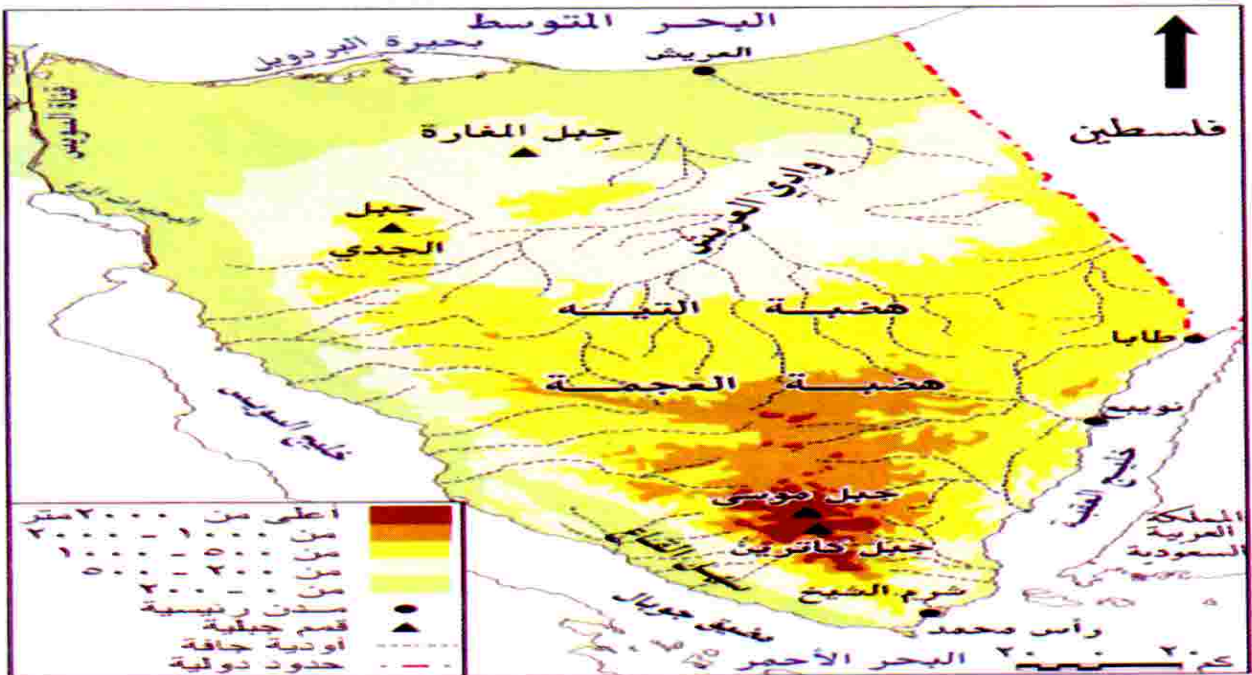
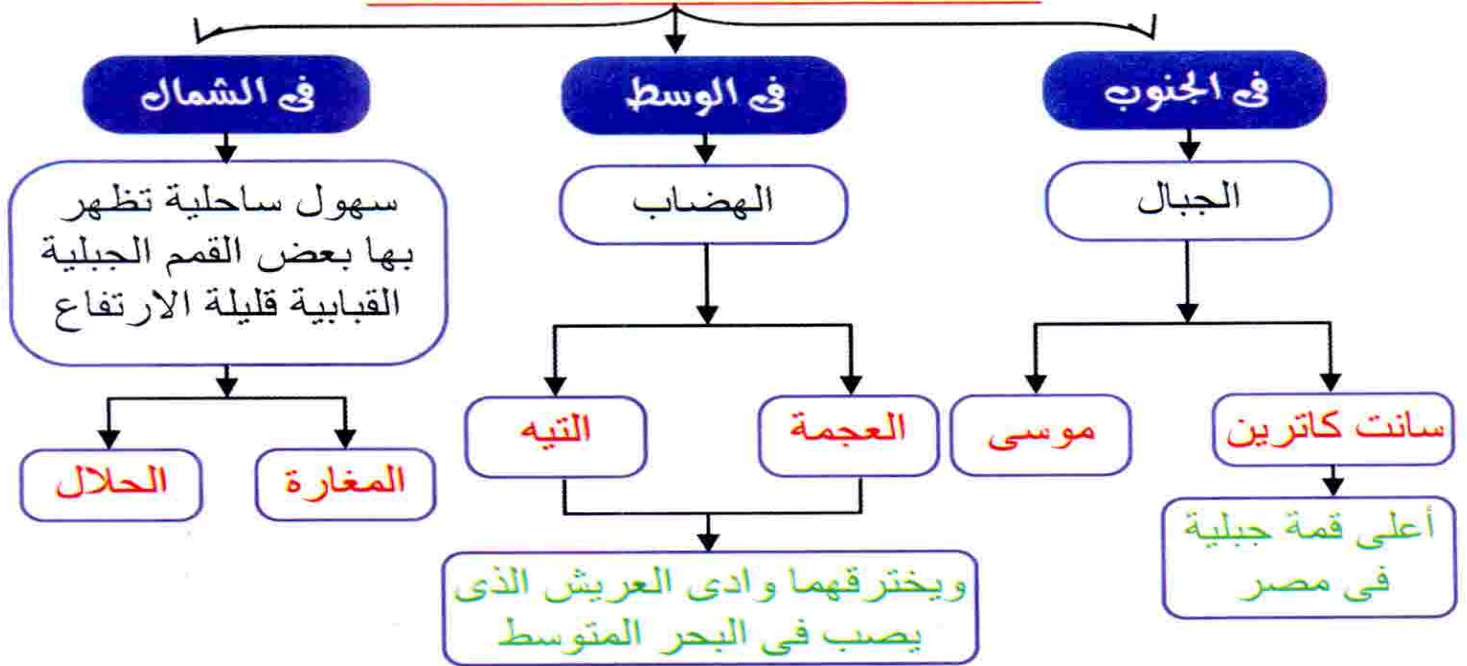
الأودية الجافة : هي مجار مائية كانت تجرى بها المياه قديماً ثم جفت .

لاحظ أن

تخلو الصحراء الشرقية من وجود المنخفضات .

(٣) في شبه جزيرة سيناء :

مظاهر السطح في شبه جزيرة سيناء



مظاهر السطح في شبه جزيرة سيناء



اختبر معلوماتك

س ١ : اكتب كلمة (صح) أمام العبارة الصحيحة وكلمة (خطأ) أمام العبارة الخاطئة :

- (١) يقع جبل العوينات في الصحراء الشرقية. ()
- (٢) تبلغ مساحة شبه جزيرة سيناء حوالي ٦ ٪ من مساحة مصر. ()
- (٣) تمتد الصحراء الغربية من وادي النيل غرباً حتى حدود ليبيا شرقاً. ()
- (٤) تبلغ مساحة البيئة الصحراوية في مصر ٩٦ ٪ من جملة مساحة مصر. ()

س ٢ : أكمل ما يأتي :

- (١) توجد البيئة الصحراوية في ثلاث مناطق هي و و
- (٢) تبلغ مساحة الصحراء ٢٢ ٪ من مساحة مصر.
- (٣) من أشهر الهضاب الموجودة بالصحراء الشرقية و
- (٤) أكبر المنخفضات الصحراوية مساحة في مصر هو منخفض

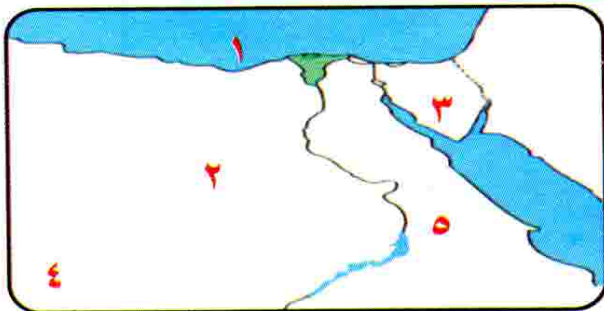
س ٣ : اكتب ما تشير إليه كل عبارة من العبارات الآتية :

- (١) تجمعات من الرمال تتراكم بفعل الرياح .
- (٢) بيئة يقل فيها المطر ويسود الجفاف والفقر الشديد في النبات الطبيعي.
- (٣) تمتد من ساحل البحر الأحمر شرقاً إلى وادي النيل غرباً.
- (٤) هضبة توجد في جنوب الصحراء الشرقية ويقطعها وادي العلاقي.

س ٤ : (أ) اختر الإجابة الصحيحة مما بين القوسين فيما يلي :

- (١) تنتشر المنخفضات في (الصحراء الغربية - الشرقية - شبه جزيرة سيناء)
- (٢) من أشهر جبال الصحراء الشرقية (العوينات - الشايب - موسى)
- (٣) توجد هضبة مارماريكا في
- (٤) يحد الصحراء الغربية من الشرق ... (وادي النيل - البحر الأحمر - السودان)

(ب) أمامك خريطة صماء لمصر ، اكتب مدلول الأرقام الآتية :



- ١- البحر
- ٢- الصحراء
- ٣- شبه جزيرة
- ٤- جبل
- ٥- هضبة

ثالثاً : المناخ فى البيئة الصحراوية



- (أ) الحرارة : يتسم مناخ البيئة الصحراوية بارتفاع درجة الحرارة فى فصل الصيف ، بينما تنخفض فى فصل الشتاء خاصة فى الليل.
- (ب) الأمطار : أمطار البيئة الصحراوية (تسقط فجائية) تتجمع على شكل سيول مدمرة وتؤدى إلى جريان الماء فى بعض الأودية الجافة لمدة قصيرة.

ملحوظة هامة

من الخطأ إقامة المباني والمشاريع داخل مجرى الأودية الجافة حتى لا تتعرض لأخطار السيول.

- (ج) الرياح : تهب من الصحراء الغربية رياح مُحملة بالأتربة خاصة فى شهرى مارس وأبريل (فصل الربيع) وتعرف برياح الخماسين وهى ضارة بالمحاصيل الزراعية والإنسان.
- تهب على البيئة الصحراوية أحياناً رياح ملطفة للجو من جهة الشمال.

رابعاً : موارد المياه (المياه الجوفية)



بئر فى الصحراء الغربية

- تتوفر المياه الجوفية (الآبار والعيون) بالبيئة الصحراوية فى شكل خزانات جوفية فى باطن الأرض فى مناطق تسمى الواحات وهى السبب الرئيس فى وجود السكان بها ، حيث يقومون بالنشاط الزراعى والرعى والاستخدامات الأخرى.
- بالإضافة إلى الأمطار شتاءً فى المناطق القريبة من السواحل.

- الآبار : مصدر للمياه الجوفية يقوم الإنسان بحفرها.

- العيون : مصدر للمياه الجوفية تتدفق منه المياه تلقائياً لقربه من سطح الأرض.



خامساً : التربة



تربة البيئة الصحراوية تربة رملية صفراء فقيرة .

تزداد جودة التربة فى الواحات بسبب اختلاط الرمال بالطين وتوفر موارد المياه.

معلومة إثرائية

تربة الواحات : هى تربة جيدة بسبب اختلاط الرمال بالطين وتوفر موارد المياه ويُزرع بها معظم المحاصيل التى يمكن زراعتها بالوادي والدلتا بجانب نمو النخيل وأشجار الزيتون.



نبات الصبار

سادساً : النباتات الطبيعية والحيوانات البرية



(أ) النباتات الطبيعية :

نباتات البيئة الصحراوية من الأنواع التى تتحمل الجفاف وذلك بطرق مختلفة ، منها :

(١) تمد جذورها فى التربة لمسافات بعيدة للحصول على المياه الجوفية

مثال : (أشجار النخيل) و (أشجار الدوم) .

(٢) لها أوراق أسفنجية سميكة تخزن فيها المياه لفترة طويلة مثال : الصبار .

(٣) بعضها له أوراق إبرية

مثال : النباتات الشوكية التى تقاوم ارتفاع الحرارة والجفاف .

يتميز النبات الطبيعي فى البيئة الصحراوية بتبعثره ولكنه يتركز فى :

١- مناطق الأودية.

٢- الواحات (لتوفر المياه الجوفية) .

٣- السهول القريبة من السواحل (لتوفر مياه الأمطار) .

(ب) الحيوانات البرية :

حيوانات البيئة الصحراوية من الأنواع

التي تتحمل الجفاف والبيئة القاسية ، مثال :

الغزلان والأرانب البرية والثعالب والجمال .





اختبر معلوماتك

س ١ : اكتب كلمة (صح) أمام العبارة الصحيحة وكلمة (خطأ) أمام العبارة الخطأ :

- (١) مناخ البيئة الصحراوية حار صيفاً بارداً شتاءً خاصة ليلاً. البيئه ()
- (٢) تعتمد الزراعة في الواحات على مياه الأمطار الشتوية. ()
- (٣) تتعرض مصر لرياح الخماسين في شهرى يناير وفبراير. ()
- (٤) تربة البيئة الصحراوية تربة طينية خصبة. ()
- (٥) الآبار مصادر للمياه الجوفية تتدفق منها المياه تلقائياً. ()

س ٢ : أكمل ما يأتى :

- (١) من مصادر المياه فى البيئة الصحراوية و
- (٢) من النباتات التى تتحمل الظروف القاسية للبيئة الصحراوية و
- (٣) تتركز النباتات الطبيعية فى البيئة الصحراوية فى مناطق ومناطق
- (٤) من الحيوانات البرية و
- (٥) أمطار البيئة الصحراوية على شكل

س ٣ : بم تفسر؟

- (١) يمد النبات فى البيئة الصحراوية جذوره لمسافات بعيدة .
- (٢) البيئة الصحراوية فقيرة فى نباتها الطبيعى .
- (٣) سكان البيئة الصحراوية بدو رُحل .
- (٤) يتركز سكان البيئة الصحراوية فى الواحات .
- (٥) أوراق بعض النباتات الصحراوية إبرية.

س ٤ : اذكر :

- (١) الطرق التى تتحمل بها نباتات البيئة الصحراوية الجفاف .
- (٢) الخصائص الطبيعية للبيئة الصحراوية فى مصر .


س ٥ : ما النتائج المترتبة على كل من ؟

- ١- قلة الأمطار فى البيئة الصحراوية .
- ٢- وجود الآبار والعيون المائية داخل الواحات بالمنخفضات .

الدرس الثانى



الخصائص السكانية للبيئة الصحراوية



- رغم أن البيئة الصحراوية تشغل معظم مساحة مصر إلا أن نسبة السكان بها قليلة.
- يعيش سكان البيئة الصحراوية فى خمس محافظات تُعرف باسم محافظات الحدود .

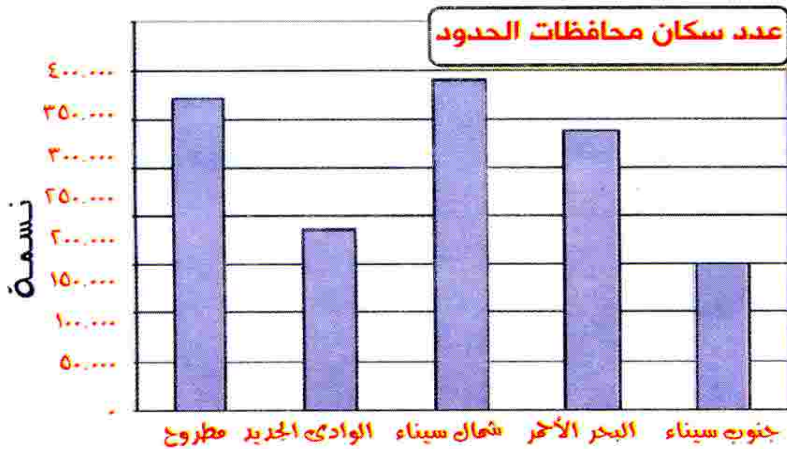
محافظات الحدود : هى مطروح والوادى الجديد وشمال وجنوب سيناء والبحر الأحمر.



تسمية محافظات الحدود بهذا الاسم .
ج / لأنها تقع على حدود مصر مع الدول المجاورة .

من الرسم البيانى نلاحظ أن :-

محافظه شمال سيناء أكثر
محافظات الحدود سكاناً
ومحافظه جنوب سيناء أقلها
سكاناً.



مناطق تركيز سكان البيئة الصحراوية

معظم سكان البيئة الصحراوية يتركزون فى :

مناطق الرعى حيث
العشب والماء.مناطق التعدين
واستخراج البترول.الواحات للعمل فى الزراعة
اعتماداً على المياه الجوفية.

لاحظ أن

الواحات المصرية هى : (سيوة - البحرية - الفرافرة - الخارجة - الداخلة)

معلومة إثرائية

- يقوم الجهاز المركزى للتعبئة العامة والإحصاء بعمل التعداد العام للسكان والإسكان والمنشآت بجميع المحافظات ، ويتم بشكل دورى كل ١٠ سنوات ويعد تعداد عام ٢٠١٦م آخر التعدادات.
- تستخدم بيانات التعداد فى وضع خطط التنمية لكل البيئات المصرية.

خصائص سكان البيئة الصحراوية

خصائص اقتصادية

خصائص تعليمية

خصائص اجتماعية

يتميز سكان البيئة الصحراوية بخصائص تميزهم عن غيرهم من سكان بيئات مصر الأخرى وتتمثل فى :

تتمثل فى :

أولاً : الخصائص الاجتماعية



- (١) حجم الأسرة كبير .
- (٢) زواج الأقارب والترابط الأسرى بين أفراد الأسرة .



عادات وتقاليد سكان البيئة الصحراوية

- لسكان البيئة الصحراوية عادات منها ما هو إيجابي ومنها ما هو سلبي :

عادات سلبية	عادات إيجابية
<p>١- الزواج المبكر.</p> <p>٢- عمل الأطفال فى الرعى والزراعة.</p> <p>٣- العلاج بوسائل بدائية مما يؤدي إلى زيادة الوفيات خاصة بين الأطفال.</p>	<p>١- الحفاظ على التقاليد والتراث القديم فى عادات الزواج.</p> <p>٢- احترام المجالس العرفية التى يرأسها شيخ القبيلة.</p> <p>٣- تكوين علاقات طيبة مع سكان البيئات الأخرى.</p> <p>٤- إكرام الضيف.</p>

جهود الدولة لتعديل بعض عادات سكان البيئة الصحراوية :

- ١- التوعية بعدم عمالة الأطفال والزواج المبكر .
- ٢- إقامة المستشفيات وتوفير الرعاية الصحية .

ثانياً : الخصائص التعليمية



♦ ارتفاع نسبة الأمية فى المحافظات الصحراوية ولكنها بدأت تقل بشكل تدريجى.

ج/ نتيجة لجهود الدولة فى مواجهة مشكلات التعليم بالبيئة الصحراوية .

جهود الدولة لحل مشكلات التعليم :

- (١) أقامت العديد من المدارس وبعض الكليات والمعاهد مما أدى إلى زيادة نسبة التعليم .
- (٢) وجود كثير من المهندسين والأطباء وأساتذة الجامعات من البيئة الصحراوية يعملون فى خدمة المجتمع .



بم تفسر



تتمثل فى :

ثالثاً : الخصائص الاقتصادية



١- انخفاض مستوى معيشة السكان .

٢- يعمل معظم السكان بحرفتى الرعى والزراعة .

وقد أدت قلة الموارد الطبيعية فى البيئة الصحراوية إلى ظهور العديد من

المشكلات الاقتصادية ، منها :

(أ) نقص الغذاء .

(ب) الهجرة إلى البيئات الأخرى .

(ج) الاعتماد على البيئات الأخرى لسد حاجاتهم عن طريق التجارة فيما بينهم .

جهود الدولة لحل المشكلات الاقتصادية فى البيئة الصحراوية :



(١) تعمير الصحراء واستصلاح الأراضى ،

مما يساعد على زيادة التبادل التجارى

مع البيئات الأخرى.

(٢) الاهتمام بالمشروعات السياحية بتشجيع

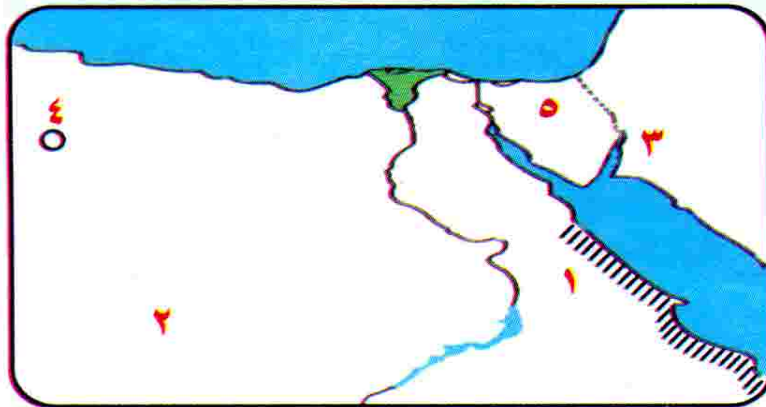
المستثمرين على إنشاء المنتجعات

والفنادق.

(٣) تشجيع سياحة السفارى.

اختبر معلوماتك

س ١ : أمامك خريطة صماء لمصر . اكتب مدلول الأرقام :



١- جبال

٢- هضبة

٣- خليج

٤- واحة

٥- محافظة حدودية



س ٢ : اكتب كلمة (صح) أمام العبارة الصحيحة وكلمة (خطأ) أمام العبارة الخاطئة :

- (١) الزواج المبكر من العادات الإيجابية لسكان البيئة الصحراوية . ()
- (٢) سيوة والفرافرة من الواحات المصرية . ()
- (٣) قلت نسبة الأمية في البيئة الصحراوية في السنوات الأخيرة . ()
- (٤) مطروح والقاهرة من محافظات الحدود . ()
- (٥) التوعية بعدم عمالة الأطفال من جهود الدولة لتعديل العادات السلبية في البيئة الصحراوية . ()

س ٣ : أكمل ما يأتي :

- (١) من العادات السلبية لسكان البيئة الصحراوية و
- (٢) من الخصائص التعليمية لسكان البيئة الصحراوية
- (٣) يرأس المجالس العرفية في البيئة الصحراوية
- (٤) من الخصائص الاقتصادية لسكان البيئة الصحراوية و
- (٥) أقامت الدولة العديد من و في البيئة الصحراوية وذلك لاهتمامها بالتعليم .


س ٤ : اكتب ما تشير إليه كل عبارة من العبارات الآتية :

- (١) محافظات تقع على حدود مصر و تتميز بقلة عدد سكانها .
- (٢) مجار مائية كانت تجرى بها المياه قديماً ثم جفت .
- (٣) أحد المشكلات التعليمية لسكان البيئة الصحراوية وقلت في السنوات الأخيرة .
- (٤) أرض منخفضة في الصحراء وتقوم فيها الزراعة على المياه الجوفية .
- (٥) الزواج المبكر و عمل الأطفال في الرعى والعلاج بوسائل بدائية .

س ٥ : بم تفسر..؟

- (١) تعاني البيئة الصحراوية من مشكلات اقتصادية عديدة .
- (٢) قلة عدد السكان في البيئة الصحراوية رغم اتساع مساحتها .
- (٣) انخفاض نسبة الأمية في المحافظات الصحراوية مؤخراً .
- (٤) قيام الزراعة في الواحات المصرية .
- (٥) تسمية محافظات الحدود بهذا الاسم .

الدرس الثالث



الموارد والأنشطة الاقتصادية في البيئة الصحراوية

تتنوع الأنشطة الاقتصادية في البيئة الصحراوية لتنوع الموارد الطبيعية ، حيث يمارس سكان البيئة الصحراوية العديد من الأنشطة الاقتصادية الهامة ، وهي :

السياحة

التعدين واستخراج البترول

الصناعات الحرفية

الزراعة

الرعى

أولاً : الرعى



هو نشاط يقوم به بعض سكان البيئة الصحراوية حيث يتنقلون فيه من مكان لآخر بحثاً عن العشب والماء .

أهم القبائل التي تقوم بحرفة الرعى في البيئة الصحراوية

بعض القبائل في سيناء.

قبائل (العبابدة) بالصحراء الشرقية.

قبائل (أولاد علي) في محافظة مطروح بالصحراء الغربية.

من أهم حيوانات الرعى :

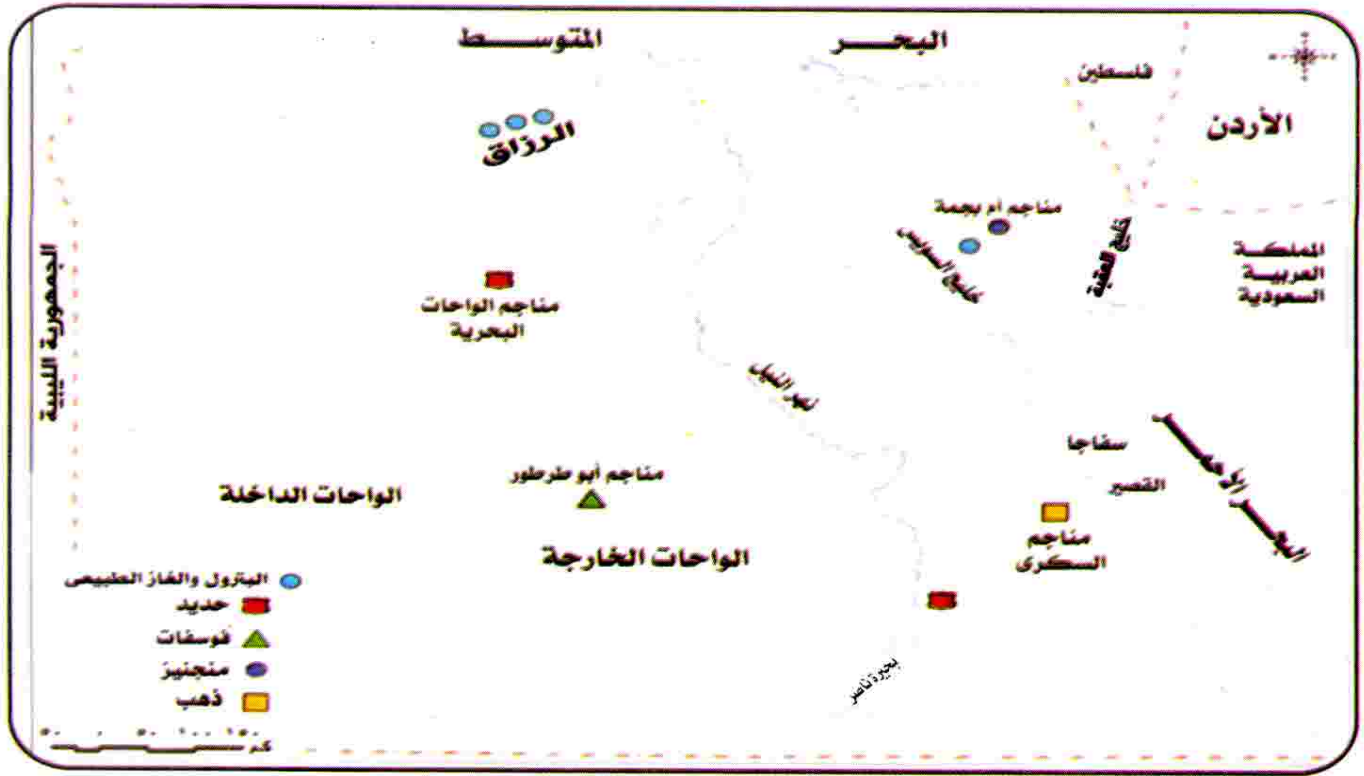
الماعز والأغنام والإبل حيث توفر اللحوم والألبان والجلود والصوف.



رابعاً : التعدين واستخراج البترول

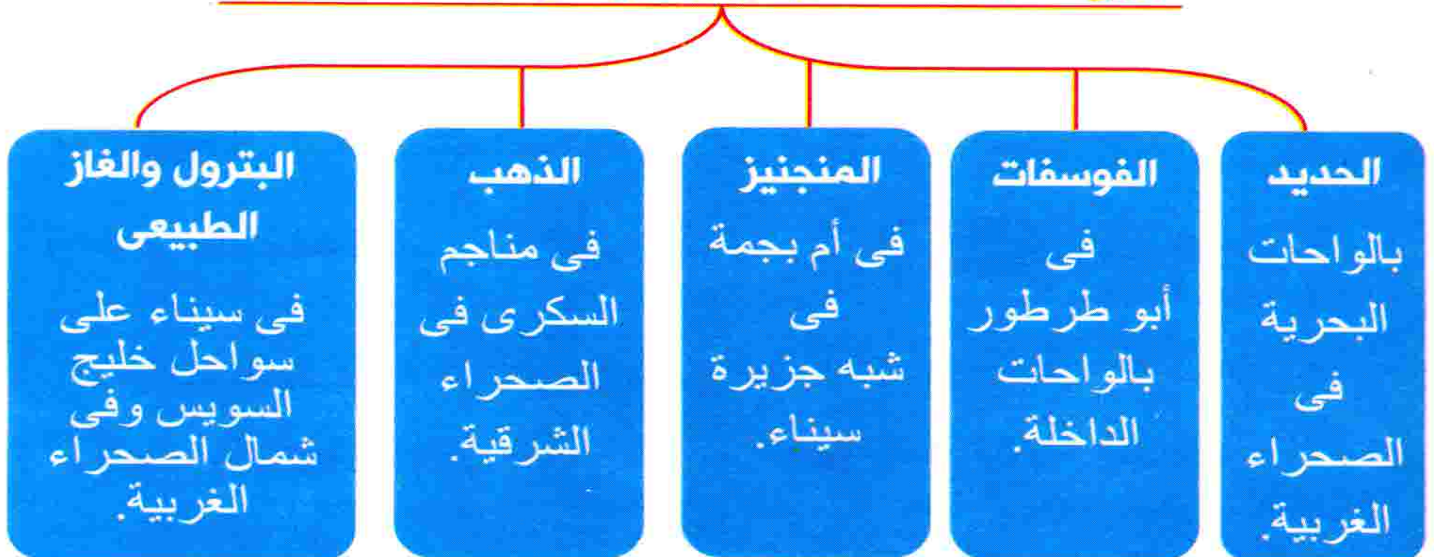


- يعمل عدد كبير من سكان البيئة الصحراوية بالتعدين واستخراج البترول ، وقد استقر عدد كبير منهم في المراكز العمرانية القريبة من مناطق التعدين وحقول البترول.



خريطة الموارد المعدنية والطاقة في مصر

توزيع الموارد المعدنية والبترول في البيئة الصحراوية





معلومة إثرائية

الصخور :

- توجد بالبيئة الصحراوية كميات ضخمة جداً من أجود أنواع الصخور التي تستخدم في البناء والزينة والسيراميك **مثال:** الجرانيت والحجر الجيري الذي بنيت منه الأهرامات ومعظم المباني التاريخية .

خامساً : السياحة



تعد السياحة من الأنشطة الاقتصادية المهمة في البيئة الصحراوية لعدة

أسباب هي:

(١) تعدد المزارات السياحية **مثال:** دير سانت كاترين في سيناء وجبل موسى (سياحة دينية) .

(٢) مناظرها الخلابة مما يجذب السياح لسياحة السفارى **مثال:** محمية الصحراء البيضاء بالفرافرة.

(٣) توافر المنشآت السياحية من فنادق ومخيمات وطرق جيدة لخدمة السياحة. **مثال:** فنادق الواحات البحرية وساحل البحر الأحمر.

(٤) تمتعها بالنباتات والطيور والحيوانات النادرة **مثال:** الكبش الجبلى.

(١) **سياحة السفارى :** هي سياحة داخل الصحراء .

(٢) **السياحة البيئية :** هي سياحة الغرض منها التمتع بالبيئة الطبيعية ، خاصة مناطق المحميات.



الصحراء البيضاء بالفرافرة

كبش جبلى

فندق بالواحات البحرية

دير الأنبا انطونيوس



بم تفسر

♦ تتنوع الأنشطة الاقتصادية في البيئة الصحراوية.

ج / لتنوع الموارد الطبيعية بها حيث :

- قامت حرفة الزراعة والرعى لتوفر المياه من الآبار والعيون.
- قامت حرفة التعدين لتوفر الموارد المعدنية.

معلومة إثرائية

جبل موسى بسيناء



- أرض سيناء يوجد بها الكثير من المقدسات

مثال: جبل موسى (حيث كلم الله نبيه موسى

العليه) ونزل عليه الوصايا العشر) و دير سانت

كاترين والكثير من الآثار الإسلامية،
ومسار رحلة العائلة المقدسة.

اختبر معلوماتك

س ١ : اكتب كلمة (صح) أمام العبارة الصحيحة وكلمة (خطأ) أمام العبارة الخاطئة :

- (١) البيئة الصحراوية غنية بمناظرها الطبيعية الخلابة. ()
- (٢) قبيلة (أولاد على) من أشهر القبائل الموجودة بالصحراء الشرقية. ()
- (٣) يعمل عدد كبير من سكان البيئة الصحراوية بحرفة التعدين. ()
- (٤) تعتبر منطقة أم بجمة من أهم مناطق استخراج الحديد في مصر. ()
- (٥) يهتم سكان البيئة الصحراوية بالصناعات الحرفية. ()

س ٢ : أكمل ما يأتي :

- (١) ينتشر النشاط الرعوى في البيئة الصحراوية بحثًا عن و
- (٢) من الصناعات الحرفية في البيئة الصحراوية و
- (٣) من أهم محاصيل الحبوب الغذائية و
- (٤) من أشهر الواحات المصرية و
- (٥) يعمل سكان البيئة الصحراوية بأنشطة مختلفة منها أو أو



س ٣ : اكتب ما تشير إليه كل عبارة من العبارات الآتية :

- (١) نشاط يقوم به سكان البيئة الصحراوية للبحث عن العشب والماء.
- (٢) أحد الصناعات الغذائية المهمة في البيئة الصحراوية بسبب توفر أشجار النخيل.
- (٣) نباتات تستخدم في علاج بعض الأمراض .
- (٤) سياحة الغرض منها التمتع بالبيئة الطبيعية في مناطق المحميات .
- (٥) أحد مناطق البيئة الصحراوية ويوجد بها الكثير من المقدسات مثل جبل موسى .

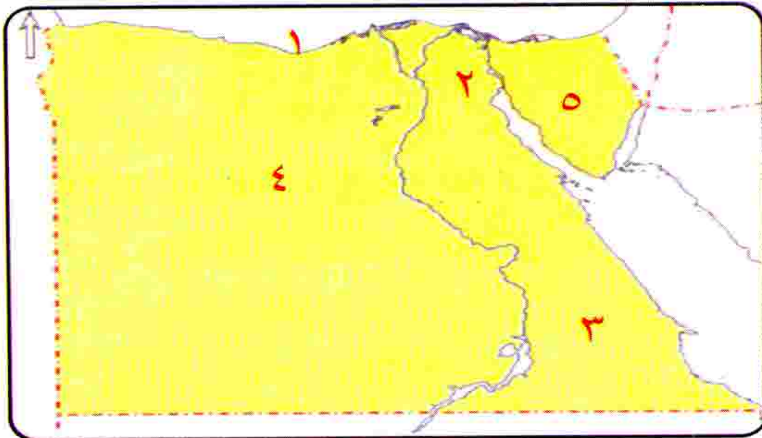
س ٤ : اختر الإجابة الصحيحة مما بين القوسين :

- (١) من أنشطة سكان البيئة الصحراوية.....
(الرعى - الزراعة - التعدين - كل ما سبق)
- (٢) تسكن قبائل العبادة في.....
(الصحراء الشرقية - الصحراء الغربية - شبه جزيرة سيناء)
- (٣) يستخرج الفوسفات من منطقة .. (الواحات البحرية - أبو طرطور - أم بجمة)
- (٤) من الصناعات الحرفية لسكان البيئة الصحراوية.....
(السجاد اليدوى - المنسوجات - السيارات)

س ٥ : (أ) بم تفسر ؟

- (١) يعمل عدد كبير من سكان البيئة الصحراوية بحرفة التعدين .
- (٢) انتقال سكان البيئة الصحراوية من مكان إلى آخر .
- (٣) تنوع الأنشطة الاقتصادية في البيئة الصحراوية .
- (٤) السياحة من الأنشطة الاقتصادية الهامة في البيئة الصحراوية .
- (٥) قيام الزراعة في الواحات المصرية .

(ب) أمامك خريطة صماء لمصر ، اكتب مدلول الأرقام الآتية :



- ١- البحر
- ٢- قناة
- ٣- الصحراء
- ٤- منطقة استخراج الحديد
- ٥- شبه جزيرة

تنمية البيئة الصحراوية

تسعى الدولة لحل مشكلات البيئة الصحراوية لتصبح منطقة جذب سكانى ؛ لأنها تعتبر مستقبل مصر .

أهم المشكلات البيئية فى البيئة الصحراوية هى :

تملح التربة

السيول

حركة الرمال

ندرة الماء

أولاً : ندرة الماء



◆ تعاني البيئة الصحراوية من ندرة مياه الأمطار ، مما يؤثر سلباً على النباتات، كما ينخفض منسوب مياه الآبار نتيجة للإسراف فى استخدامها خاصة فى الزراعة .

ثانياً : حركة الرمال



حركة الرمال



- تتحرك رمال البيئة الصحراوية بفعل الرياح فتؤدى إلى:

- (١) إتلاف الحقول الزراعية .
- (٢) ردم الآبار وزيادة التصحر .
- (٣) تعطيل حركة النقل لتراكم الرمال على الطرق.

حركة الرمال : هى وجود كميات كبيرة من الرمال المفككة تقوم الرياح

بتحريكها من مكان لآخر وأحياناً نحو الأراضى الزراعية مما يفسد التربة.

التصحّر: هو تدهور التربة الزراعية وانخفاض قدرتها الإنتاجية.

المحمية الطبيعية : هي مساحة محدودة من الأرض أو المياه أو بعض المناطق السياحية تتميز بوجود كائنات حية (طيور - حيوانات - نباتات) لها قيمة ثقافية تقوم الدولة بحمايتها.



سد الروافعة

(٦) إنشاء سدود على الأودية التي تتعرض للسيول وفقاً لأسس علمية لحجز المياه والاستفادة منها بدلاً من إهدارها **مثال:** سد الروافعة على وادي العريش.

اختبر معلوماتك

س ١ : اكتب كلمة (صح) أمام العبارة الصحيحة وكلمة (خطأ) أمام العبارة الخاطئة :

- (١) تملح التربة من أهم مشكلات البيئة الزراعية . ()
- (٢) تؤدي السيول إلى تدمير الحقول الزراعية . ()
- (٣) تعتبر الصحارى المصرية مستقبل مصر فى التنمية . ()
- (٤) تعاني البيئة الصحراوية من ندرة مياه الأمطار . ()

س ٢ : أكمل ما يأتى :

- (١) من مشكلات البيئة الصحراوية و
- (٢) تم إنشاء سد على وادي العريش للاستفادة من مياه
- (٣) من المحميات الطبيعية فى مصر و
- (٤) اعتمد مشروع على حفر الآبار العميقة فى مناطق الاستصلاح.

س ٣ : اكتب ما تشير إليه كل عبارة من العبارات الآتية :

- (١) وجود كميات كبيرة من الرمال تحركها الرياح.
- (٢) محافظة مصرية توجد بها محمية جزر سالوجا وغزال.
- (٣) سد أقامته الدولة على وادي العريش للاستفادة من مياه السيول.
- (٤) تدهور التربة الزراعية وانخفاض قدرتها الإنتاجية.

س ٤ : بم تفسر ؟

- (١) استزراع الكتبان الرملية.
- (٢) إقامة سد الروافعة على وادي العريش.
- (٣) إنشاء شبكة من الطرق فى المناطق الصحراوية.
- (٤) انخفاض منسوب المياه الجوفية بسرعة فى البيئة الصحراوية.



أهم مفاهيم الوحدة الأولى



هي مناطق يقل فيها المطر ويسود الجفاف والفقير الشديد في النباتات مع ندرة الحيوان وغالبًا ما يغطي سطحها الرمال والحصى والصخور.	البيئة الصحراوية
هو جزء من الأرض يقل مستواه عن الأراضي المحيطة به. (أرض منخفضة عما حولها من الأراضي).	المنخفض
هي تجمعات من الرمال تتراكم في المناطق الصحراوية بفعل الرياح.	كثبان رملية
هو مصدر صناعي للحصول على المياه الجوفية قام الإنسان بحفره.	البئر
هو مصدر طبيعي تتدفق منه المياه تلقائيًا لقربها من سطح الأرض.	العين
هي المحافظات التي تقع على حدود مصر مع الدول المجاورة وهي : (مطروح - الوادي الجديد - شمال سيناء - جنوب سيناء - البحر الأحمر).	محافظات الحدود
هي أرض منخفضة في الصحراء تقوم بها الزراعة على مياه الآبار والعيون (المياه الجوفية).	الواحة
هو نشاط يقوم به بعض سكان البيئة الصحراوية حيث يتنقلون فيه من مكان لآخر بحثًا عن العشب والماء.	الرعى
هي مجار مائية كانت تجري بها المياه قديمًا ثم جفت.	الأودية الجافة
هي مساحة محدودة من الأرض أو المياه أو بعض المناطق الساحلية تتميز بوجود كائنات حية (طيور - حيوانات - نباتات - إلخ) لها قيمة ثقافية تقوم الدولة بحمايتها.	المحمية الطبيعية
هي سياحة داخل الصحراء.	سياحة السفارى
هي سياحة الغرض منها التمتع بالبيئة الطبيعية خاصة مناطق المحميات.	السياحة البيئية
هي سياحة الغرض منها زيارة المساجد والأديرة والكنائس والمنشآت الدينية.	السياحة الدينية
هي الأعمال التي يقوم بها الإنسان في البيئة التي يعيش فيها مثل : الزراعة والصناعة والتعدين والسياحة وغيرها.	أنشطة اقتصادية



هو تراكم الأملاح على سطح التربة وداخل مسامها بسبب تبخر المياه.	تملح التربة
هى تحريك الرياح لكميات كبيرة من الرمال المفككة من مكان لآخر وأحياناً نحو الأراضي الزراعية مما يفسد التربة.	حركة الرمال
هى كميات كبيرة من مياه الأمطار التى تتجمع وتتدفق بشدة فى الأودية المنتشرة فى الأماكن المرتفعة.	السيول
هو تدهور التربة الزراعية وانخفاض قدرتها الإنتاجية.	التصحّر
هو مشروع يقوم على زراعة النباتات وريها بالتنقيط فتؤدى إلى تثبيت حركة الرمال.	استزراع الكثبان الرملية



أهم تفسيرات الوحدة الأولى وإجاباتها النموذجية



(١) أغلب سكان البيئة الصحراوية بدو رحل.

ج / لأنهم يتنقلون باستمرار بحثًا عن العشب والماء.

(٢) تركز سكان الصحارى فى الواحات أو قيام الزراعة فى الواحات.

ج / بسبب توفر المياه الجوفية (الآبار والعيون).

(٣) رياح الخماسين رياح ضارة.

ج / لأنها رياح مُحملة بالأتربة وتضر بالمحاصيل الزراعية والإنسان.

(٤) تمد نباتات البيئة الصحراوية جذورها فى التربة لمسافات بعيدة.

ج / للحصول على المياه الجوفية.

(٥) أوراق بعض النباتات الصحراوية أسفنجية سميقة.

ج / حتى تستطيع تخزين المياه لفترة طويلة.

(٦) أوراق بعض النباتات الصحراوية إبرية.

ج / حتى تستطيع مقاومة ارتفاع درجة الحرارة والجفاف.

(٧) تركز النبات الصحراوى فى السهول القريبة من السواحل.

ج / بسبب توفر مياه الأمطار الشتوية.

(٨) البيئة الصحراوية فقيرة فى نباتها الطبيعى.

ج / بسبب ندرة المياه.



(٩) تربة الواحات تربة خصبة.

ج / بسبب اختلاط الرمال بالطين وتوفر موارد المياه (المياه الجوفية).

(١٠) امتلاء الأودية الجافة بالماء.

ج / بسبب سقوط أمطار غزيرة فجائية على شكل سيول مدمرة.

(١١) تسمية محافظات الحدود بهذا الاسم.

ج / لأنها تقع على حدود مصر مع الدول المجاورة.

(١٢) زيادة عدد الوفيات خاصة الأطفال فى البيئة الصحراوية.

ج / بسبب استخدام الوسائل البدائية فى العلاج.

(١٣) قلت نسبة الأمية فى البيئة الصحراوية بشكل كبير فى السنوات الأخيرة.

ج / نتيجة لجهود الدولة فى مواجهة مشكلات التعليم.

(١٤) يعانى سكان البيئة الصحراوية من العديد من المشكلات الاقتصادية.

ج / بسبب نقص الغذاء وقلة الموارد وانخفاض مستوى المعيشة والاعتماد على البيئات الأخرى فى سد احتياجاتهم.

(١٥) تسعى الدولة إلى تعمير الصحراء واستصلاح الأراضى الصحراوية.

ج / لحل المشكلات الاقتصادية فى البيئة الصحراوية.

(١٦) ضرورة التوعية بعدم عمالة الأطفال والزواج المبكر فى البيئة الزراعية.

ج / لتعديل العادات السلبية لسكان البيئة الصحراوية.

(١٧) يلجأ سكان الصحارى إلى الهجرة إلى بيئات أخرى.

ج / بسبب قلة الموارد وانخفاض مستوى المعيشة.

(١٨) قلة السكان فى البيئة الصحراوية رغم اتساعها.

ج / بسبب الظروف القاسية وقلة الموارد وانخفاض مستوى المعيشة.

(١٩) يعمل عدد كبير من سكان البيئة الصحراوية بالتعدين واستخراج البترول.

ج / بسبب توفر المعادن والبترول فى البيئة الصحراوية.

(٢٠) تنوع الأنشطة الاقتصادية فى البيئة الصحراوية.

ج / بسبب تنوع الموارد الطبيعية.

(٢١) انتشار صناعة حفظ وتعبئة التمور فى البيئة الصحراوية.

ج / بسبب كثرة أشجار النخيل والأيدى العاملة.



(٢٢) قيام صناعة السجاد اليدوى فى البيئة الصحراوية.

جـ / بسبب وفرة صوف الأغنام ووبر الإبل.

(٢٣) تعد السياحة من الأنشطة الاقتصادية المهمة فى البيئة الصحراوية.

جـ / بسبب تعدد المزارات السياحية ومناظرها الطبيعية الخلابة وتوفر المنشآت السياحية بالإضافة إلى تمتعها بالنباتات والحيوانات والطيور النادرة.

(٢٤) استزراع الكثبان الرملية فى البيئة الصحراوية.

جـ / لنتثبيت حركة الرمال ومراقبتها على الطرق.

(٢٥) إقامة سد الروافعة على وادى العريش.

جـ / لحجز مياه السيول والاستفادة منها فى فترات الجفاف.

(٢٦) تعتبر السيول خطراً كبيراً على البيئة الصحراوية.

جـ / لأنها تؤدى إلى تدمير الحقول والمبانى وتعطيل حركة النقل على الطرق.

(٢٧) صعوبة التنمية فى البيئة الصحراوية.

جـ / بسبب قلة السكان وتبعثرهم وقلة الموارد.

(٢٨) إنشاء شبكة من الطرق فى البيئة الصحراوية.

جـ / لتسهيل حركة التجارة ونقل الركاب وربط الصحراء بالوادي والدلتا.

(٢٩) تملح التربة فى البيئة الصحراوية.

جـ / بسبب تبخر الماء وترسب الملح على سطح التربة.

(٣٠) مناخ البيئة الصحراوية لا يناسب كثيراً سكنى الإنسان.

جـ / بسبب ارتفاع درجة الحرارة صيفاً ، والبرودة الشديدة شتاءً والظروف المناخية القاسية.

(٣١) تعمل الدولة على وقف حركة الرمال فى الصحارى المصرية.

جـ / لأنها تسبب إتلاف الحقول وردم الآبار وزيادة التصحر وتعطيل حركة النقل.

(٣٢) حدوث السيول أحياناً فى البيئة الصحراوية.

جـ / بسبب سقوط الأمطار الفجائية وامتلاء الأودية الجافة.



أهم أسئلة النتائج المترتبة في الوحدة الأولى



- (١) حركة الرمال في البيئة الصحراوية.
 - ج / أدى إلى: ١- إتلاف المحاصيل الزراعية. ٢- ردم الآبار وزيادة التصحر.
 - ٣- تعطيل حركة النقل على الطرق.
- (٢) إنشاء السدود على الأودية في البيئة الصحراوية.
 - ج / أدى إلى : حجز المياه والاستفادة منها.
- (٣) ندرة الأمطار في البيئة الصحراوية.
 - ج / أدى إلى : قلة النبات الطبيعي ، قلة عدد السكان وقلة الموارد.
- (٤) زيادة استهلاك المياه في البيئة الصحراوية.
 - ج / أدى إلى : انخفاض منسوب المياه في الآبار.
- (٥) وجود الآبار والعيون المائية داخل الواحات بالمنخفضات.
 - ج / أدى إلى : ١- تركيز السكان في الواحات .
 - ٢- قيام حرفة الزراعة.
- (٦) انتشار التربة الرملية الصفراء في البيئة الصحراوية.
 - ج / أدى إلى : ١- قلة الأراضي الزراعية في البيئة الصحراوية.
 - ٢- قلة عدد السكان في البيئة الصحراوية.
- (٧) وجود المعادن والبتروول في بعض مناطق البيئة الصحراوية.
 - ج / أدى إلى : اشتغال بعض سكان البيئة الصحراوية بحرفة التعدين واستخراج البتروول ، والاستقرار في المراكز العمرانية القريبة من مناطق التعدين.
- (٨) حدوث السيول في البيئة الصحراوية.
 - ج / أدى إلى : ١- تدمير الحقول الزراعية .
 - ٢- تدمير المباني والطرق.
- (٩) تعرض مصر لرياح الخماسين .
 - ج / أدى إلى حدوث أضرار بالمحاصيل الزراعية والإنسان.
- (١٠) تنوع الموارد الطبيعية في البيئة الصحراوية.
 - ج / أدى إلى تنوع الأنشطة الاقتصادية في البيئة الصحراوية.

تدريبات الكتاب المدرسى على الوحدة الأولى

السؤال الأول : اختر الإجابة الصحيحة مما بين القوسين :

- (١) تبلغ مساحة نحو ٦٪ من مساحة مصر .
- (الصحراء الغربية - الصحراء الشرقية - شبه جزيرة سيناء - الصحارى المصرية)
- (٢) من جبال شبه جزيرة سيناء جبل (الشايب - موسى - علبه - العوينات)
- (٣) من هضاب الصحراء الغربية هضبة.....
- (الجلف الكبير - الجلالة البحرية - التيه - العباددة)
- (٤) تهب على مصر رياح محملة بالأتربة خاصة فى شهرى مارس وأبريل
- تعرف برياح (السيروكو - السموم - الهبوب - الخماسين)
- (٥) من أشهر القبائل التى تعمل بحرفة الرعى فى الصحراء الغربية قبيلة أولاد.....
- (عامر - على - عابد - الشهرى)
- (٦) تنتشر الجبال القبابية قليلة الارتفاع على السهول الساحلية فى شمال سيناء
- منها جبل (سانت كاترين - الحلال - موسى - حماطة)
- (٧) تنتشر ظاهرة فى الصحراء الشرقية.
- (الكثبان الرملية - المنخفضات - الأودية الجافة - الواحات)

السؤال الثانى : بم تفسر ؟

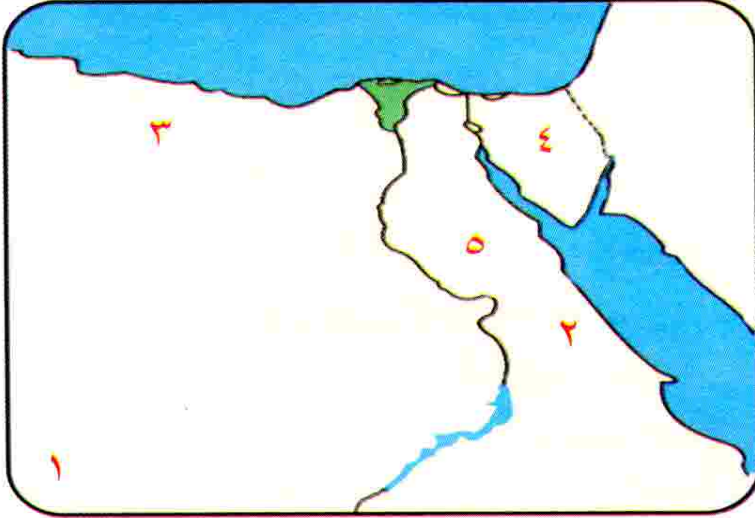
- (١) نمو النباتات الطبيعية فى البيئة الصحراوية.
- (٢) تنوع الأنشطة الاقتصادية فى البيئة الصحراوية.
- (٣) إقامة مشروع استزراع الكثبان الرملية جنوب واحة سيوة.
- (٤) حفر الآبار العميقة فى مناطق استصلاح الأراضى بالصحراء الغربية.
- (٥) انتشار صناعة التمور والسجاد اليدوى فى البيئة الصحراوية.
- (٦) عمل بعض سكان البيئة الصحراوية بحرفة التعدين.
- (٧) عمل بعض سكان البيئة الصحراوية بالانشاط السياحى.

السؤال الثالث : قارن بين:

- (١) العادات الإيجابية والعادات السلبية لسكان البيئة الصحراوية.
- (٢) الصحراء الغربية والصحراء الشرقية من حيث الهضاب بكل منها.



السؤال الرابع : اكتب مدلول الأرقام الموقعة على الخريطة التي أمامك :



- ١- جبل
- ٢- سلاسل جبال
- ٣- هضبة
- ٤- هضبة
- ٥- وادى

السؤال الخامس : اكتب كلمة (صح) أمام العبارة الصحيحة وكلمة (خطأ) أمام العبارة الخطأ مع التصويب :

- () (١) تبلغ مساحة الصحراء الشرقية ٢٢٪ من جملة مساحة مصر.
- () (٢) تعرف محافظات البيئة الصحراوية بمحافظات الحدود وعددها خمس محافظات.
- () (٣) يتركز السكان حول الواحات بالصحراء الشرقية.
- () (٤) تعاني البيئة الصحراوية من عدة مشكلات منها حركة الرمال.
- () (٥) يقوم سكان الصحارى ببناء أسوار شجرية حول الحقول لمنع تملح التربة.
- () (٦) أنشأت الدولة سد الروافعة على وادى قنا لحجز مياه السيول والاستفادة منها.
- () (٧) يعد جبل موسى وديرسانت كاترين من المزارات السياحية الدينية فى البيئة الصحراوية.

السؤال السادس : اكتب المصطلح الجغرافى الذى تدل عليه العبارات الآتية:

- () (١) منطقة يقل فيها المطر ويسود الجفاف.
- () (٢) جزء من الأرض يقل مستواه عن الأرض المحيطة به.
- () (٣) تراكم الأملاح على سطح التربة وداخل مسامها.
- () (٤) مجارى مائية كانت تجرى بها المياه قديماً ثم جفت.



أسئلة وردت بامتحانات المحافظات على الوحدة الأولى

السؤال الأول : اكتب كلمة (صح) أو كلمة (خطأ) أمام العبارات الآتية :

- (١) يتميز النبات الطبيعي فى الصحراء بأنه يتحمل الجفاف . () [المنيا ٢٠١٥]
- (٢) يوجد الحديد بمصر فى مناجم الواحات البحرية . () [أسيوط ٢٠١٦]
- (٣) ترتفع نسبة الأمية فى المحافظات الصحراوية . () [الفيوم ٢٠١٦]
- (٤) جبل الشايب من أشهر جبال شبه جزيرة سيناء . () [القليوبية ٢٠١٦]
- (٥) القمح والشعير من أهم محاصيل البيئة الصحراوية . () [مطروح ٢٠١٦]
- (٦) يعتمد سكان الواحات على المياه الجوفية فى الزراعة . () [المنوفية ٢٠١٦]
- (٧) الصحراء الغربية أكبر صحارى مصر مساحة . () [كفر الشيخ ٢٠١٥]
- (٨) تهب على مصر فى فصل الشتاء رياح الخماسين . () [الشرقية ٢٠١٦]
- (٩) الرعى نشاط قديم يقوم به سكان البيئة الصناعية . () [الأقصر ٢٠١٥]
- (١٠) تتميز الصحراء الشرقية بكثرة المنخفضات والكتبان الرملية . () [السويس ٢٠١٦]
- (١١) تؤدى السيول إلى تدمير الحقول الزراعية والمباني والطرق . () [الإسماعيلية ٢٠١٥]
- (١٢) الجاموس والأبقار من حيوانات البيئة الصحراوية . () [الجيزة ٢٠١٦]
- (١٣) تملح التربة من المشكلات التى تتعرض لها البيئة الصحراوية . () [السويس ٢٠١٦]
- (١٤) يؤدى تملح التربة إلى رفع كفاءة إنتاجية الأرض . () [البحر الأحمر ٢٠١٥]
- (١٥) تم إنشاء سد الروافعة على وادى النيل . () [سوهاج ٢٠١٥]

السؤال الثانى : أكمل العبارات التالية :

- (١) صناعة حفظ التمور فى البيئة الصحراوية من الصناعات [كفر الشيخ ٢٠١٦]
- (٢) تنتشر التربة الرملية الصفراء فى المناطق [الدقهلية ٢٠١٥]
- (٣) يوجد فى جنوب سيناء أعلى جبال مصر جبل [القليوبية ٢٠١٥]
- (٤) توجد مناجم الذهب فى الصحراء [الأقصر ٢٠١٥]
- (٥) يقع فى الجنوب الغربى لمصر جبل [كفر الشيخ ٢٠١٦]
- (٦) يحد الصحراء الشرقية شرقًا البحر وغربًا [القاهرة ٢٠١٦]
- (٧) يهتم سكان البيئة الصحراوية بالصناعات الحرفية و [الغربية ٢٠١٦]
- (٨) من العادات السلبية فى البيئة الصحراوية عمل الأطفال فى [أسيوط ٢٠١٥]



(٩) من الصناعات الحرفية فى البيئة الصحراوية صناعة اليدوى .

[المنوفية ٢٠١٦]

(١٠) تؤثر فى إتلاف الحقول الزراعية بالبيئة الصحراوية .

[السويس ٢٠١٥]

السؤال الثالث : اختر الإجابة الصحيحة مما بين القوسين :

(١) تم إنشاء سد الروافعة على وادى

[القاهرة ٢٠١٥]

(النيل - العلاقى - العريش - قنا)

(٢) نشاط قديم الذى يقوم به سكان البيئة الصحراوية هو

[الفيوم ٢٠١٦]

(الرعى - الزراعة - الصناعة - السياحة)

(٣) يوجد جبل فى جنوب غرب مصر .

[سوهاج ٢٠١٦]

(العوينات - شومر - موسى - المغارة)

(٤) أهم الصناعات بالبيئة الصحراوية صناعة

[كفر الشيخ ٢٠١٥]

(الأسمدة - الأسمنت - حفظ التمور - الصابون)

(٥) تهب رياح الخماسين فى فصل

[القاهرة ٢٠١٦]

(الصيف - الربيع - الخريف - الشتاء)

(٦) تعيش قبيلة (أولاد على) فى محافظة

[المنيا ٢٠١٦]

(البحر الأحمر - مطروح - الإسكندرية - جنوب سيناء)

(٧) يستخرج الفوسفات من حقل

[الشرقية ٢٠١٥]

(أم بجمة - أبو طرطور - مرجان - بلاعيم)

(٨) من أهم حيوانات الرعى فى البيئة الصحراوية

[البحيرة ٢٠١٥]

(الأبقار - الخيول - الجاموس - الماعز والأغنام)

(٩) يتميز مناخ البيئة الصحراوية بارتفاع درجة الحرارة

[الشرقية ٢٠١٦]

(الصيف - الربيع - الخريف)

فى فصل

(١٠) من جبال شبه جزيرة سيناء جبل

[أسيوط ٢٠١٦]

(الشايب - موسى - علبة - العوينات)

السؤال الرابع : اكتب ما تشير إليه العبارات الآتية :

(١) رياح حارة محملة بالأتربة وضارة بالمحاصيل والإنسان .

[البحر الأحمر ٢٠١٦]

(٢) أكبر صحارى مصر مساحة .

[الجيزة ٢٠١٦]

(٣) أرض منخفضة فى الصحراء تقوم فيها الزراعة

[سوهاج - الأقصر ٢٠١٥]

على المياه الجوفية.

(٤) وجود كميات كبيرة من الرمال المفككة تقوم الرياح بتحريكها

[الفيوم ٢٠١٦]

من مكان لآخر .

[السويس ٢٠١٥]

(٥) أعلى قمم جبال البحر الأحمر ارتفاعاً .



السؤال الخامس : بم تفسر ؟

- (١) إنشاء سد الروافعة على وادى العريش.
- (٢) انخفاض نسبة الأمية فى المحافظات الصحراوية مؤخرًا.
- (٣) تركيز سكان البيئة الصحراوية فى الواحات.
- (٤) انتشار صناعة السجاد اليدوى فى البيئة الصحراوية.
- (٥) تنمو النباتات الطبيعية فى البيئة الصحراوية.
- (٦) تسمية محافظات الحدود بهذا الاسم.
- (٧) يعانى سكان البيئة الصحراوية من مشكلات اقتصادية عديدة.
- (٨) تملح التربة فى بعض المناطق بالبيئة الصحراوية.
- (٩) السياحة من الأنشطة المهمة فى البيئة الصحراوية.
- (١٠) تؤثر حركة الرمال على البيئة الصحراوية.

السؤال السادس : ما النتائج المترتبة على ؟

- (١) إنشاء السدود على الأودية فى البيئة الصحراوية.
- (٢) تعرض مصر لرياح الخماسين فى شهرى مارس وأبريل.
- (٣) حدوث السيول فى المناطق الصحراوية.
- (٤) قلة الأمطار فى البيئة الصحراوية.
- (٥) وجود مناطق للتعدين فى البيئة الصحراوية.

السؤال السابع : ما المقصود بالمفاهيم الآتية ؟

- (١) التصحر.
- (٢) كثبان رملية.
- (٣) حركة الرمال.
- (٤) الواحة.
- (٥) المنخفض.

السؤال الثامن : أمامك خريطة صماء لمصر . وضع مدلول الأرقام التى عليها :



- (١) البحر
- (٢) هضبة
- (٣) جبل
- (٤) منخفض
- (٥) خليج

[بنى سويف ٢٠١٥]



اختبار عام (١) على الوحدة الأولى



س ١ : اكتب كلمة (صح) أو كلمة (خطأ) أمام العبارات الآتية مع التصويب :

- (١) عدد محافظات الحدود في مصر ٥ محافظات . ()
 (٢) تعتبر السياحة من الأنشطة الاقتصادية الهامة في الصحراء المصرية. ()
 (٣) عمل الأطفال من العادات السلبية لسكان البيئة الصحراوية . ()
 (٤) يعاني سكان البيئة الصحراوية من انخفاض مستوى المعيشة . ()

س ٢ : أكمل ما يأتي :

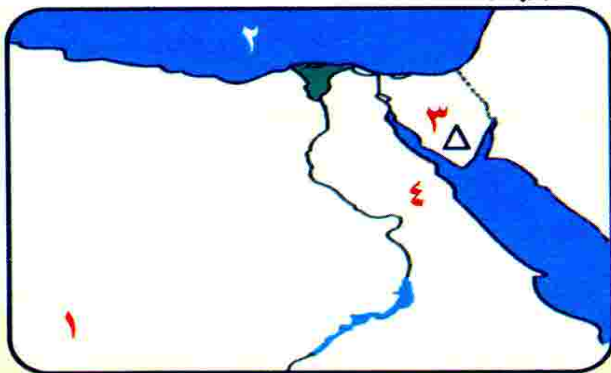
- (١) قامت الدولة بجهود كثيرة لحل مشكلات التعليم فأقامت و
 (٢) من أشهر جبال شبه جزيرة سيناء و
 (٣) يتم استخراج الحديد من منطقة بالصحراء الغربية.
 (٤) من الصناعات الحرفية في البيئة الصحراوية و

س ٣ : اختر الإجابة الصحيحة مما بين القوسين :

- (١) من هضاب الصحراء الغربية (الجلف الكبير - المعازة - التيه - العبادبة)
 (٢) يحد شبه جزيرة سيناء شمالاً البحر (الأحمر - المتوسط - الميت - الأسود)
 (٣) من أشهر قبائل الصحراء الشرقية قبيلة ... (على - العبادبة - عامر - الشهرى)
 (٤) من جبال الصحراء الغربية جبل (علبة - العوينات - الشايب - موسى)

س ٤ : اكتب ما تشير إليه كل عبارة من العبارات الآتية :

- (١) أرض منخفضة في الصحراء وتعتمد في زراعتها على المياه الجوفية.
 (٢) جزء من الأرض يقل مستواه عن الأراضي المحيطة به.
 (٣) تجمعات رملية تأخذ أشكالاً مختلفة وتنتشر في مناطق الصحارى.
 (٤) تدهور التربة الزراعية وانخفاض قدرتها الإنتاجية.



س ٥ : (أ) اكتب مدلول الأرقام الآتية :

- (١) هضبة
 (٢) البحر
 (٣) جبل
 (٤) الصحراء

(ب) بم تفسر؟

- (١) انتشار صناعة التمور والسجاد اليدوى في البيئة الصحراوية.
 (٢) نمو النباتات الطبيعية في البيئة الصحراوية .



س ١ : اكتب كلمة (صح) أو كلمة (خطأ) أمام العبارات الآتية مع التصويب :

- (١) يتميز سكان البيئة الصحراوية بإكرام الضيف. ()
- (٢) أقامت الدولة سد الروافعة على وادى قنا. ()
- (٣) تتعرض البيئة الصحراوية لرياح الخماسين فى فصل الشتاء. ()
- (٤) ترتفع نسبة الأمية فى البيئة الصحراوية. ()

س ٢ : أكمل ما يأتى :

- (١) من الخصائص الطبيعية للبيئة الصحراوية و و
- (٢) من أشكال الكثبان الرملية فى الصحراء الغربية
- (٣) أكثر جبال البحر الأحمر ارتفاعاً هو
- (٤) تقع هضبة شمال الصحراء الغربية وهضبة فى الجنوب .

س ٣ : اختر الإجابة الصحيحة مما بين القوسين فيما يلى :

- (١) من جبال شبه جزيرة سيناء جبل (علبة - الشايب - العوينات - موسى)
- (٢) من العادات الإيجابية لسكان البيئة الصحراوية
- (٣) تتفق حدود مصر الجنوبية مع دولة (ليبيا - السودان - السعودية)
- (٤) أكبر المنخفضات الصحراوية فى مصر هو منخفض
- (القطارة - الفيوم - سيوة)

س ٤ : اكتب ما تشير إليه كل عبارة من العبارات الآتية :

- (١) تراكم الأملاح على سطح التربة وداخل مسامها.
- (٢) تحريك الرياح لكميات كبيرة من الرمال المفككة من مكان لآخر.
- (٣) المحافظات التى تقوم على حدود مصر مع الدول المجاورة.
- (٤) أحد الصناعات الغذائية فى البيئة الصحراوية وتعتمد على أشجار النخيل.

س ٥ : بم تفسر ؟

- (١) عدد كبير من سكان البيئة الصحراوية بدو رُحل (غير مستقرون).
- (٢) قيام الزراعة فى الواحات المصرية.
- (٣) تمد النباتات الصحراوية جذورها لمسافات بعيدة فى التربة.
- (٤) تملح التربة فى البيئة الصحراوية.

الدرس الأول

الخصائص الطبيعية للبيئة الساحلية

في نهاية هذا الدرس يتوقع أن يكون التلميذ قادراً على أن :

- ١- يعطى تعريفاً دقيقاً لبعض المفاهيم الجغرافية (البيئة الساحلية - شرم - شعاب مرجانية -) .
- ٢- يميز مناطق البيئة الساحلية عن غيرها من البيئات الأخرى .
- ٣- يحدد على خريطة مصر مناطق البيئة الساحلية .
- ٤- يحدد مظاهر السطح المختلفة المميزة للبيئة الساحلية .
- ٥- يفسر بعض الخصائص المناخية الرئيسة للبيئة الساحلية .
- ٦- يقدر عظمة الله تعالى في تنوع مظاهر البيئة الساحلية .

الدرس الثاني

الخصائص السكانية للبيئة الساحلية

في نهاية هذا الدرس يتوقع أن يكون التلميذ قادراً على أن :

- ١- يعطى تعريفاً صحيحاً للمفاهيم التالية (المدن المليونية - الهجرة غير الشرعية) .
- ٢- يعدد خصائص سكان البيئة الساحلية .
- ٣- يحدد على خريطة مصر تيارات الهجرة للمدن الساحلية .
- ٤- يحدد مشكلات السكان بالبيئة الساحلية .
- ٥- يقترح الحلول المناسبة لهذه المشكلات .
- ٦- يقدر جهود الدولة لحل المشكلات السكانية في البيئة الساحلية .
- ٧- يقدر أهمية البيئة الساحلية في تنمية وازدهار الاقتصاد المصري .

الدرس الثالث

الموارد والأنشطة الاقتصادية في البيئة الساحلية

في نهاية هذا الدرس يتوقع أن يكون التلميذ قادراً على أن :

- ١- يحدد أهم الموارد الطبيعية في البيئة الساحلية .
- ٢- يميز الأنشطة الاقتصادية التي يمارسها السكان في البيئة الساحلية .
- ٣- يعدد المشكلات الاقتصادية المرتبطة بالبيئة الساحلية .
- ٤- يساهم في حل المشكلات التي تتعرض لها البيئة الساحلية .
- ٥- يقدر أهمية الموارد التي تتمتع بها البيئة الساحلية وضرورة الحفاظ عليها .

مقدمة الوحدة

تعد البحار من الثروات الطبيعية المهمة لأي دولة لغناها بالموارد الطبيعية من أسماك وأملاح معدنية ومصادر طاقة ، هذا فضلاً عن استخدامها كطرق للنقل تربط بين دول العالم ، وتطل مصر على أهم بحرين تجاريين في العالم وقد عاش على سواحلها كثير من السكان منذ القدم اشتغلوا بالتجارة والصيد وصناعة السفن ، وسوف نتناول عزيزي التلميذ في هذه الوحدة الخصائص الطبيعية والبشرية للبيئة الساحلية ، وأهم الأنشطة بها ، ودور الدولة في الحفاظ عليها وحل مشكلاتها وتنمية مواردها .

الخصائص الطبيعية للبيئة الساحلية

تتمتع مصر بموقع متميز على بحرين مهمين ، وعدد من البحيرات ، عاش الناس بجوارها وعمرها سواحلها واعتمدوا على ثروات البحر في معيشتهم فعرفت حياتهم بحياة البحر وسميت بيئتهم بالبيئة الساحلية .

البيئة الساحلية :

شريط سهلى قد يتسع أو يضيق تبعاً لاقتراب الجبال أو الهضاب من البحر، ويتأثر مناخها وأعمال و عادات سكانها بالبحر .

الخصائص الطبيعية للبيئة الساحلية فى مصر

تتميز البيئة الساحلية فى مصر بتنوع الخصائص الطبيعية على النحو التالى :

النباتات الطبيعية
والحيوانات البرية

المناخ

مظاهر السطح

الموقع

يرتبط وجود البيئة الساحلية بالبحار والمسطحات المائية الكبرى :

أولاً : الموقع



- أين تقع البيئة الساحلية؟

تمتد البيئة الساحلية فى مصر على سواحل البحر المتوسط فى الشمال ، وسواحل البحر الأحمر وخليجى السويس والعقبة فى الشرق .





البيئة الساحلية فى مصر

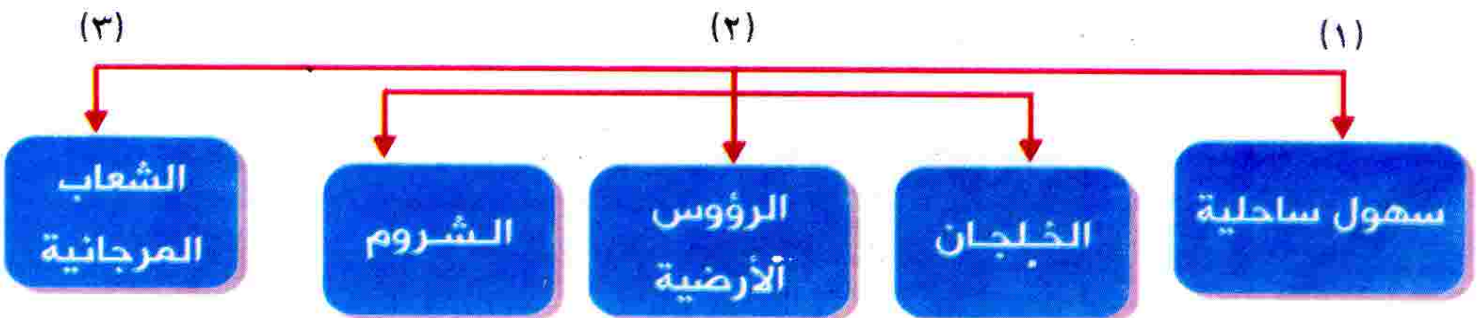


وجه المقارنة	البيئة الساحلية على (البحر المتوسط)	البيئة الساحلية على (البحر الأحمر)
الامتداد	من شرق مدينة رفح شرقاً حتى غرب مدينة السلوم غرباً .	من شرق مدينة طابا شمالاً إلى جنوب مدينة حلايب حتى الحدود مع جمهورية السودان جنوباً .
تنقسم إلى	ثلاث أقسام : (١) الساحل الشمالى لشبه جزيرة سيناء. (٢) ساحل شمال الدلتا من بورسعيد حتى شرق الإسكندرية. (٣) الساحل الشمالى الغربى من الإسكندرية حتى غرب السلوم.	قسمين : (١) من مدينة السويس شمالاً حتى جنوب مدينة حلايب جنوباً. (٢) سواحل خليجى العقبة والسويس و جنوب سيناء.
أهم المدن المطلة عليها	العريش - بورسعيد - الإسكندرية - مرسى مطروح - السلوم .	طابا - شرم الشيخ - السويس - الغردقة - مرسى علم - حلايب .

ثانياً: مظاهر السطح



تتمتع البيئة الساحلية المصرية بظواهر طبيعية جميلة وخطابة ومتنوعة، ومنها :



وسوف يتم تناول بعض هذه الظواهر بشئ من التفصيل

(١) السهول الساحلية

هى أرض شبه مستوية السطح تمتد من خط الساحل إلى داخل اليابس وتنقسم إلى:

السهول الساحلية فى مصر

سهول ساحلية مطلة على البحر المتوسط

سهول ساحلية مطلة على البحر الأحمر

(أ) السهول الساحلية المطلة على البحر المتوسط :



السهول الساحلية المطلة على البحر المتوسط



بم تفسر

١- تتميز بالاتساع والانبساط بشكل عام.

ج/ لا ابتعاد الحواف المرتفعة عن البحر .

٢- تغطى معظمها الرمال الناعمة .

٣- توجد بها ظاهرات طبيعية مثل الكثبان الرملية وسلاسل التلال الجيرية ناصعة البياض على طول الساحل الشمالى الغربى لمصر .

لاحظ أن

- للتلال الجيرية أهمية كبيرة فى تخزين مياه الأمطار.

(ب) السهول الساحلية المطلة على البحر الأحمر :

١- تمتد بين البحر الأحمر شرقاً وجبال البحر الأحمر غرباً وتضيق فى مناطق وتتسع بشكل عام بالاتجاه جنوباً.

٢- السهل الساحلى على خليج العقبة ضيق.



بم تفسر

ج/ لاقتراب الجبال من ساحل خليج العقبة.



السهول الساحلية المطلة على خليج السويس

٣- السهل الساحلى على جانبى خليج السويس أكثر اتساعاً.

اختبر معلوماتك

س ١ : اكتب كلمة (صح) أمام العبارة الصحيحة وكلمة (خطأ) أمام العبارة الخطأ :

- (١) السهول الساحلية المطلة على البحر المتوسط ضيقة . ()
- (٢) يؤثر البحر في عادات سكان البيئة الساحلية . ()
- (٣) السهول الساحلية على خليج العقبة أكثر اتساعاً من سهول خليج السويس. ()
- (٤) الإسكندرية وشرم الشيخ من أهم المدن المطلة على البحر المتوسط. ()
- (٥) يمتد ساحل البحر الأحمر من مدينة طابا شمالاً حتى مدينة حلايب جنوباً. ()

س ٢ : أكمل ما يأتي :

- (١) تنقسم البيئة الساحلية المطلة على البحر المتوسط إلى و و
- (٢) من الظواهر الطبيعية التي يتميز بها السهل الساحلى للبحر المتوسط و
- (٣) يتميز السهل الساحلى لخليج العقبة بـ لاقتراب
- (٤) يمتد ساحل شمال الدلتا من مدينة بورسعيد حتى شرق مدينة
- (٥) من الخصائص الطبيعية للبيئة الساحلية فى مصر و

س ٣ : اكتب ما تشير إليه كل عبارة من العبارات الآتية :

- (١) شريط سهلى قد يتسع أو يضيق تبعاً لاقتراب أو ابتعاد الجبال عن البحر .
- (٢) ساحل يمتد من شرق مدينة رفح شرقاً حتى غرب مدينة السلوم غرباً .
- (٣) تلال ناصعة البياض على طول الساحل الشمالى الغربى لمصر .
- (٤) ساحل يمتد من مدينة السويس حتى مدينة حلايب جنوباً .
- (٥) سهل ساحلى فى مصر يتميز بالانبساط والاتساع .

س ٤ : بم تفسر ؟

- (١) للتلال الجيرية على ساحل البحر المتوسط أهمية كبيرة .
- (٢) اتساع السهول الساحلية المطلة على البحر المتوسط .
- (٣) تعرف حياة سكان البيئة الساحلية بحياة البحر .
- (٤) ضيق السهول الساحلية على خليج العقبة .

تذكر الوحدة الأولى

س ١ : أكمل العبارات الآتية :

- (١) تقع شبه جزيرة سيناء بين البحر شمالاً وخليجي و جنوباً .
- (٢) تتميز الصحراء الشرقية بوجود سلاسل جبال
- (٣) من الحيوانات البرية فى البيئة الصحراوية و
- (٤) من الخصائص التعليمية لسكان البيئة الصحراوية
- (٥) من المزارات السياحية فى البيئة الصحراوية و

س ٢ : بم تفسر ؟

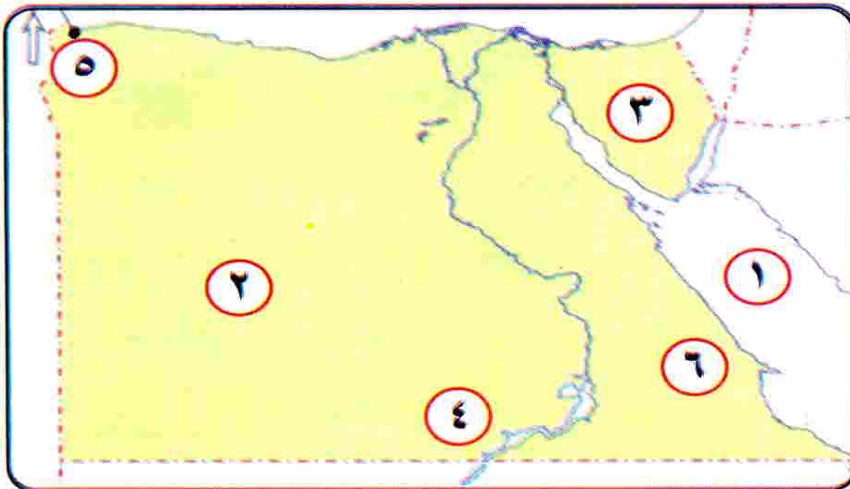
- (١) عدد كبير من سكان البيئة الصحراوية بدو رحل .
- (٢) حدوث السيول فى البيئة الصحراوية .
- (٣) قيام الزراعة فى الواحات المصرية .
- (٤) وجود النباتات الطبيعية فى الساحل الشمالى .
- (٥) تعد السياحة من الأنشطة الاقتصادية المهمة فى البيئة الصحراوية .

س ٣ : قارن بين :

الصحراء الشرقية والغربية وشبه جزيرة سيناء ، من حيث :

(الموقع - المساحة - أشهر الجبال)

س ٤ : أمامك خريطة صماء لمصر اكتب مدلول الأرقام الموجودة على الخريطة :



- ١- البحر
- ٢- الصحراء
- ٣- شبه جزيرة
- ٤- بحيرة
- ٥- مدينة
- ٦- سلاسل جبال



(٢) الخلجان والرؤوس الأرضية والشروم :

بعض الخلجان والرؤوس الأرضية على الساحل الشمالي الغربي لقطر



- ساحل البحر المتوسط :

يتميز بوجود العديد من الخلجان المتسعة ،

☛ **مثال:** خليج أبو قير و خليج العرب و خليج الحكمة .

يتميز أيضاً بوجود عدد من الرؤوس الأرضية ،

☛ **مثال:** رأس الضبعة ورأس الحكمة و رأس علم الروم .

- ساحل البحر الأحمر :

بعض الخلجان والرؤوس الأرضية والشروم على ساحل البحر الأحمر



☛ تقل الرؤوس الأرضية على طول

سواحل البحر الأحمر

☛ **مثال:** رأس بناس.

☛ يوجد بها العديد من الخلجان

والشروم التي أنشأ عليها العديد

من الموانئ الهامة

☛ **مثال:** شرم الشيخ ونويبع.

خليج: توغل لجزء من البحر فى اليابس و يتصل بالبحر بفتحة واحدة.

رأس أرضى: امتداد أرضى من اليابس داخل البحر.

شـرم: خليج ذو مدخل ضيق متعمق فى اليابس.

(٣) الشعاب المرجانية



تتميز الشعاب المرجانية بمناظرها وألوانها الخلابة .

تمثل الشعاب المرجانية عاملاً مهماً للجذب السياحى من شتى أنحاء العالم .

تنتشر الشعاب المرجانية فى مناطق متفرقة على طول ساحل البحر الأحمر .



ج / لصفاء مياه البحر الأحمر وارتفاع حرارتها وهدوء حركتها.

الشعاب المرجانية :



هى عبارة عن تكوينات أفرزتها حيوانات بحرية دقيقة على طول امتداد سواحل البحر الأحمر فى مصر .

لاحظ أن

تمتلك مصر خمس بحيرات شمالية على ساحل البحر المتوسط وهم :

(البردويل - المنزلة - البرلس - إدكو - مريوط)



ثالثاً : المناخ



(أ) مناخ ساحل البحر المتوسط :

(١) الحرارة :

تمتاز البيئة الساحلية على البحر المتوسط بحرارة معتدلة طوال العام .

ج / لأن البحر يعمل على تلطيف درجة حرارة الجو

معظم فصول السنة ، وإن مالت إلى الارتفاع صيفاً .

(٢) الرياح :

تمتاز سواحل البحر المتوسط برياح هادئة تلطف الجو في فصل الصيف .

تتعرض سواحل البحر المتوسط لرياح شديدة

وأما غزيرة تسمى **النوة** تسبب تقلب الجو

وتستمر لعدة أيام متواصلة في فصل الشتاء .



النوة : هي رياح شديدة تسبب ارتفاع موج البحر بشدة وتؤدي إلى إغلاق

الموانئ وتوقف الصيد وتعطل الملاحة .

مثال : (نوة السلوم و نوة الحسوم و نوة العوة) .

(٣) الأمطار :

تسقط الأمطار على طول ساحل البحر المتوسط شتاءً مما يساعد على قيام الزراعة في مناطق مختلفة مثل شمال سيناء والساحل الشمالي الغربي لمصر .

(ب) مناخ ساحل البحر الأحمر :

(١) الحرارة :

تمتاز البيئة الساحلية على البحر الأحمر وخليجي السويس

والعقبة بحرارة معتدلة طوال العام مثل باقي جهات مصر .

(٢) الرياح :

تتعرض سواحل البحر الأحمر لرياح هادئة تلطف الجو في فصل الصيف .

(٣) الأمطار :

تتميز المناطق الساحلية للبحر الأحمر بندرة الأمطار .

أحياناً تسقط الأمطار بشدة وتسبب ما يعرف بالسيول وينتج عنها دماراً كبيراً

للطرق والمنشآت .

رابعاً : النباتات الطبيعية والحيوانات البرية

(أ) أهم النباتات الطبيعية والحيوانات البرية على ساحل البحر المتوسط :



- ◀ تتمثل في الحشائش والأعشاب التي تعد مراعى طبيعية للحيوانات
- 💡 **مثال:** الأغنام والماعز بجانب أشجار الزيتون والتين .
- ◀ يوجد بها بعض الحيوانات البرية ،
- 💡 **مثال:** الغزلان والثعالب البرية .

(ب) أهم النباتات الطبيعية على ساحل البحر الأحمر :



شجيرات امانجروف

- ◀ تتمثل في شجيرات المانجروف (تنمو في المناطق الطينية) وشجيرات الغرقد .
- ◀ يوجد بها بعض الحيوانات البرية
- 💡 **مثال:** القط البرى والقليل جداً من الغزلان.

اختبر معلوماتك

س ١ : اكتب كلمة (صح) أمام العبارة الصحيحة وكلمة (خطأ) أمام العبارة الخطأ :

- (١) تكثر الخلجان والرؤوس الأرضية على سواحل البحر الأحمر . ()
- (٢) تتعرض سواحل البحر الأحمر للنوات شتاءً . ()
- (٣) تنتشر الكثبان الرملية والتلال الجيرية على ساحل البحر الأحمر . ()
- (٤) تنمو أشجار الزيتون والتين على سواحل البحر المتوسط . ()

س ٢ : أكمل العبارات الآتية :

- (١) من الموانئ الهامة على ساحل البحر الأحمر و
- (٢) من أمثلة الحيوانات البرية على البحر الأحمر وعلى البحر المتوسط
- (٣) من أهم النباتات الطبيعية في البيئة الساحلية شجيرات على البحر الأحمر.
- (٤) تنتشر في مناطق متفرقة على طول ساحل البحر الأحمر.



س ٣ : اكتب ما تشير إليه كل عبارة من العبارات الآتية :

- (١) أرض شبه مستوية تمتد من خط الساحل إلى داخل اليابس .
- (٢) امتداد أرضى من اليابس داخل البحر .
- (٣) خليج ذو مدخل ضيق متعمق فى اليابس .
- (٤) توغل لجزء من البحر فى اليابس ويتصل بالبحر بفتحة واحدة.
- (٥) تكوينات أفرزتها حيوانات بحرية دقيقة على طول ساحل البحر الأحمر .

س ٤ : بم تفسر ؟

- (١) نمو الشعاب المرجانية على طول ساحل البحر الأحمر .
- (٢) تتوقف حركة الصيد وعدم خروج المراكب أثناء حدوث النوات شتاءً .
- (٣) يأتى السياح من شتى أنحاء العالم لزيارة البحر الأحمر .
- (٤) تمتاز البيئة الساحلية على البحر المتوسط بحرارة معتدلة طوال العام .

تذكر الوحدة الأولى

س ١ : اكتب كلمة (صح) أمام العبارة الصحيحة وكلمة (خطأ) أمام العبارة الخطأ :

- (١) يقل أعداد السكان فى البيئة الصحراوية رغم اتساعها . ()
- (٢) تبلغ مساحة الصحراء الغربية ٧٦ ٪ من جملة مساحة مصر . ()
- (٣) تؤدى السيول إلى تدمير المباني والحقول الزراعية . ()
- (٤) أقامت الدولة سد الروافعة على وادى قنا . ()
- (٥) تعتبر السياحة من الأنشطة الاقتصادية الهامة فى البيئة الصحراوية . ()

س ٢ : أكمل ما يأتى :

- (١) تمتد الصحراء الغربية من وادى النيل حتى حدود ليبيا
- (٢) من أهم مناطق البيئة الصحراوية فى مصر و و
- (٣) يوجد جبل العوينات فى الصحراء ومن أشهر هضابها و
- (٤) أكبر المنخفضات الصحراوية المصرية مساحة هو منخفض
- (٥) من موارد المياه فى البيئة الصحراوية و

س ٣ : اختر الإجابة الصحيحة مما بين القوسين فيما يلي :

- (١) أعلى جبال البحر الأحمر ارتفاعًا جبل..... (الشايب - العوينات - موسى - علبة)
- (٢) توجد هضبة مارماريكا فى . (الصحراء الشرقية - الصحراء الغربية - سيناء)
- (٣) يوجد بحر الرمال العظيم فى الصحراء (الشرقية - الغربية - سيناء)
- (٤) يقطع هضبة العباددة وادى (قنا - العلاقى - العريش)
- (٥) يمتد جبل بين مصر وليبيا والسودان . (سانت كاترين - الشايب - العوينات)

س ٤ : اكتب ما تشير إليه كل عبارة من العبارات الآتية :

- (١) مجار مائية تجرى بها المياه قديمًا ثم جفت .
- (٢) تراكم الأملاح على سطح التربة وداخل مسامها .
- (٣) تدهور التربة الزراعية وانخفاض قدرتها الإنتاجية .
- (٤) وجود كميات كبيرة من الرمال المفككة تقوم الرياح بتحريكها.
- (٥) أرض منخفضة تقوم عليها الزراعة اعتمادًا على المياه الجوفية .

س ٥ : بم تفسر ؟

- (١) قلة أعداد سكان البيئة الصحراوية رغم اتساعها .
- (٢) إنشاء الدولة للمحميات الطبيعية .
- (٣) تناقص منسوب المياه الجوفية فى البيئة الصحراوية .
- (٤) أوراق بعض النباتات الصحراوية أسفنجية .

س ٦ : (أ) اذكر :

- (١) أهم الخصائص الاقتصادية لسكان البيئة الصحراوية .
- (٢) أهم الخصائص الاجتماعية لسكان البيئة الصحراوية .
- (٣) جهود الدولة لتنمية البيئة الصحراوية .

(ب) ماذا يحدث إذا ؟

- (١) أقامت الدولة السدود على الأودية الجافة .
- (٢) لم تهتم الدولة بإنشاء المدارس وبعض الكليات فى البيئة الصحراوية .
- (٣) أهملت الدولة إقامة الفنادق والمخيمات والطرق الجديدة .

الدرس الثانى

الخصائص السكانية للبيئة الساحلية

- تتمتع مصر ببيئة ساحلية متميزة على سواحل البحرين الأحمر والمتوسط.
- يتركز سكان البيئة الساحلية فى المدن ومراكز العمران الساحلية .
- يعيش سكان البيئة الساحلية داخل (١١) محافظة ساحلية ويوجد بهذه المحافظات بعض المدن المليونية .

المدينة المليونية: هى المدينة التى يزيد عدد سكانها على مليون نسمة ،
مثال: (الإسكندرية) .



بم تفسر

تركز نسبة كبيرة من السكان فى المدن الساحلية .

- ج / (١) لوجود الموارد الغذائية والمواد الخام التى هى أساس التنمية الاقتصادية.
- (٢) توفر المناظر الطبيعية البيئية الهامة التى تعد مقصدًا أساسيًا للترويح وال جذب السياحى.
- (٣) المنطقة الساحلية مجالاً حيويًا للنقل البحرى والتجارة والانفتاح على الخارج .



خصائص سكان البيئة الساحلية

الخصائص الاقتصادية

الخصائص التعليمية

الخصائص الاجتماعية

أولاً : العادات والخصائص الاجتماعية لسكان البيئة الساحلية

للبحر أثراً كبيراً في عادات وخصائص سكان البيئة الساحلية ، حيث يوجد عادات إيجابية وأخرى سلبية لسكان البيئة الساحلية تتمثل في :

عادات سلبية	عادات إيجابية
<p>١- الهجرة غير الشرعية .</p> <p>٢- صرف المخلفات المنزلية والصناعية في البحر .</p> <p>٣- الصيد غير القانوني .</p>	<p>١- العمل الجماعي ، وذلك لأن أعمال البيئة الساحلية تحتاج إلى التعاون ، مثل : الصيد والشحن وتفريغ السفن .</p> <p>٢- حب المخاطرة والشجاعة في مواجهة أخطار البحر نتيجة لطبيعة البحر والعمل به .</p> <p>٣- مشاركة المرأة للرجل بنصيب وافر في معظم الأعمال .</p> <p>ج / لقضاء الرجال معظم أوقاتهم في أعمال مرتبطة بالبحر .</p> <p>٤- إقامة العديد من الاحتفالات الخاصة بهم ، مثل : الاحتفال بمسابقات الصيد والمهرجانات الساحلية وألعاب الشاطئ .</p> <p>٥- انفتاح سكان البيئة الساحلية على العالم الخارجي .</p>



الهجرة غير الشرعية : هي هجرة أفراد وجماعات إلى خارج الدولة بطرق غير قانونية.

معلومة إثرائية

المدينة : هي مركز عمراني كبير يقوم بعدة وظائف مثل التجارة والخدمات الحكومية والصناعة وعدد سكانها كبير ولا يعملون بالزراعة.

المحافظة : هي وحدة إدارية كبيرة تتكون من مراكز وأقسام وتوجد داخلها المدن والقرى ويبلغ إجمالي محافظات مصر ٢٧ محافظة ولكل محافظة عاصمة.



ثانياً : الخصائص التعليمية لسكان البيئة الساحلية

- ارتفاع نسبة التعليم بين سكان البيئة الساحلية خاصة تعليم البنات وزيادة عدد المدارس بها .

ثالثاً : الخصائص الاقتصادية لسكان البيئة الساحلية

- يعمل العديد من سكان البيئة الساحلية **بالتجارة والصيد والصناعة** ، كما يعمل بعض السكان **بالزراعة** في بعض مناطق شمال الدلتا على السواحل الشمالية .

الهجرة إلى البيئة الساحلية :



بم تفسر

هناك تيارات هجرة داخلية من البيئة الصحراوية أو الزراعية إلى المدن الساحلية .

ج / للعمل بالأنشطة الاقتصادية المختلفة .

- من أمثلة تيارات الهجرة :

- ♦ هجرة سكان واحة سيوة للاستقرار في مدينة مرسى مطروح .
- ♦ هجرة بعض سكان الوجهين القبلى والبحرى إلى مدينة الإسكندرية والغردقة وشرم الشيخ والسويس .

التلوث في المدن الساحلية




مشكلات السكان في البيئة الساحلية :

- (١) الازدحام السكانى .
- (٢) التلوث البيئى الذى أدى إلى انتشار كثير من الأمراض .

جهود الدولة لحل مشكلات السكان في البيئة الساحلية :

أحد المصانع في مدينة برج العرب الجديدة



- (١) قامت الدولة بإنشاء مدن جديدة ،

مثل : مدينة برج العرب الجديدة .

- (٢) مد الطرق والكبارى .

- (٣) إنشاء مصانع جديدة .

اختبر معلوماتك

س ١ : اكتب كلمة (صح) أمام العبارة الصحيحة وكلمة (خطأ) أمام العبارة الخاطئة :

- (١) العمل الجماعي من العادات الإيجابية لسكان البيئة الساحلية. ()
 (٢) التلوث من المشكلات التي تواجه سكان البيئة الساحلية. ()
 (٣) أنشأت الدولة مدينة برج العرب الجديدة لاهتمامها بالبيئة الساحلية. ()
 (٤) تعاني البيئة الساحلية من ارتفاع نسبة الأمية. ()
 (٥) مدينة الإسكندرية من المدن المليونية. ()

س ٢ : أكمل ما يأتي :

- (١) من مشكلات السكان في البيئة الساحلية و
 (٢) يتجه سكان الوجه القبلي والبحري للاستقرار في مدينة و
 (٣) من الخصائص الإيجابية لسكان البيئة الساحلية
 (٤) من جهود الدولة لحل مشكلات البيئة الساحلية و
 (٥) عدد المحافظات الساحلية منها و

س ٣ : بم تفسر ؟

- (١) تركيز السكان في المدن الساحلية.
 (٢) مشاركة المرأة للرجل في معظم الأعمال في البيئة الساحلية.
 (٣) تعمل الدولة على إنشاء المصانع ومد الطرق والكبارى في البيئة الساحلية.
 (٤) يعمل سكان البيئة الساحلية في جماعة.
 (٥) يتميز سكان البيئة الساحلية بحب المخاطرة والشجاعة.

س ٤ : اذكر :

- (١) تيارات الهجرة إلى البيئة الساحلية.
 (٢) العادات الإيجابية لسكان البيئة الساحلية.
 (٣) أهم مشكلات سكان البيئة الساحلية.
 (٤) العادات السلبية لسكان البيئة الساحلية.

س ٥ : (أ) ما النتائج المترتبة على ؟

- (١) وفرة الموارد الغذائية والمواد الخام بالمناطق الساحلية.
 (٢) قضاء الرجال معظم أوقاتهم في أعمال البحر.

(ب) ما المقصود بكل من ؟

- (١) الهجرة غير الشرعية.
 (٢) المدن المليونية.

الدرس الثالث

الموارد والأنشطة الاقتصادية في البيئة الساحلية

➔ أنعم الله على مصر بالعديد من الموارد التي ساعدت على قيام كثير من الأنشطة الاقتصادية وزيادة الدخل القومي.

أهم الموارد الطبيعية للبيئة الساحلية

٣- الأسماك.



٢- المراعى الساحلية.



١- البترول والغاز الطبيعي.



أولاً : الأنشطة الاقتصادية التي يمارسها سكان البيئة الساحلية



التجارة
والنقل
البحري

السباحة

الرعى

الزراعة

الصناعة
والتعدين

صيد
الأسماك

١ - صيد الأسماك



- تعد حرفة صيد الأسماك من الحرف الرئيسية لسكان البيئة الساحلية ، حيث يعمل بها عدد كبير من السكان بالإضافة إلى حفظ وتعليب الأسماك.
- تعتبر البحار والبحيرات المصدر الرئيس للأسماك في مصر ، حيث تأتي بحيرة المنزلة أولى البحيرات من حيث الإنتاج السمكى.
- من أهم أسماك البحر المتوسط **البورى والسردين** ، ومن أهم أسماك البحر الأحمر **المرجان والذئس**.

٢ - الصناعة والتعدين



يعمل عدد من سكان البيئة الساحلية فى العديد من الصناعات المختلفة منها :

- ١ - صناعة الغزل والنسيج.
- ٢ - صناعة الحديد والصلب.
- ٣ - صناعة السفن.
- ٤ - استخراج البترول والغاز الطبيعى.

تنتشر حقول البترول والغاز الطبيعى فى البيئة الساحلية ، مثل :

- حقول البترول : (بلاعيم - مرجان) فى سيناء (على ساحل خليج السويس).
- أهم حقول الغاز الطبيعى بالبيئة الساحلية : (أبو ماضى) فى شمال الدلتا.



حقول البترول والغاز الطبيعى



أشجار البرتقال

٣- الزراعة



- تنتشر زراعة أشجار الزيتون على طول الساحل الشمالى وشمال سيناء ، ويستخرج منها أجود أنواع زيت الزيتون .

- كما تنتشر مزارع الفاكهة خاصة التين ومزارع الموالح والشعير.



رعى الأغنام فى البيئة الساحلية

٤- الرعى



تنتشر مراعى الأغنام والماعز والإبل فى البيئة الساحلية ، خاصة فى شمال سيناء والساحل الشمالى بين الإسكندرية والسلوم (ساحل مريوط).

٥- السياحة



* **تعتبر السياحة مصدراً للدخل القومى ، حيث :**

- يعمل بعض سكان البيئة الساحلية فى الأنشطة المرتبطة بالسياحة ،
مثال: استقبال السياح و الأعمال الفندقية .

- تمتلك مصر العديد من الشواطئ والموانئ الجميلة على ساحلى البحر الأحمر والمتوسط ، والتي تجذب السائحين كمصايف ومشاتى ، كما تعد من مناطق الترويج الرئيسة للمصريين .

٦- التجارة والنقل البحرى



- يعمل بعض سكان البيئة الساحلية بشحن وتفريغ السفن فى الموانئ ونقل البضائع والمسافرين عن طريق البحر .



ثانياً : المشكلات الرئيسية فى البيئة الساحلية و جهود الدولة لحلها



هناك عديد من المشكلات فى البيئة الساحلية ومن أهمها وأكثرها تأثيراً هو ما يلى :

م	أهم المشكلات	جهود الدولة لحلها
١	تلوث المياه الشاطئية.	أصدرت الدولة القوانين التى تجرم صرف المخلفات فى مياه البحر.
٢	تآكل السواحل بفعل نحت الأمواج خاصة ساحل الدلتا.	المحافظة على الشواطئ من التآكل بعمل مصدات للأمواج لحماية الشواطئ وتجديد رمالها.



مصدات أمواج لحماية الشواطئ

تآكل السواحل : هو قيام الأمواج بنحت الصخور التى تشكل ساحل البحر.

ملحوظات هامة

(١) يؤدى تآكل السواحل إلى إزالة الشواطئ الرملية وتدمير بعض الشاليهات المخصصة للاصطياف .

(٢) أسباب تلوث المياه الشاطئية :



الصرف المباشر فى البحر

(أ) إلقاء مياه الصرف الصحى والصناعى والزراعى فى البحر والبحيرات الساحلية.

(ب) التلوث الناتج عن حركة سفن الشحن ونقل البترول .

♦ يؤثر هذا التلوث على الأسماك وبالتالي يضر بصحة الإنسان .



اختبر معلوماتك

س ١: اكتب كلمة (صح) أمام العبارة الصحيحة وكلمة (خطأ) أمام العبارة الخاطئة :

- ١- تعتبر بحيرة المنزلة أولى البحيرات المصرية إنتاجاً للأسماك. ()
- ٢- تنتوع الأنشطة الاقتصادية تبعاً لتنوع الموارد الطبيعية. ()
- ٣- تعاني البيئة الساحلية في مصر من مشكلات التلوث. ()
- ٤- تنتشر صناعة الغزل والنسيج وصناعة الحديد والصلب في البيئة الساحلية. ()

س ٢: أكمل العبارات التالية :

- ١- من أهم حقول البترول على ساحل خليج السويس حقل و
- ٢- تعد مشكلة من أكثر المشكلات التي تهدد البيئة الساحلية في مصر.
- ٣- من أهم حيوانات المراعى في البيئة الساحلية..... و
- ٤- يعمل بعض سكان البيئة الساحلية في الموانئ بعمليات و السفن.

س ٣: اكتب ما تشير إليه كل عبارة من العبارات الآتية :

- ١- قيام الأمواج بنحت الصخور التي تشكل ساحل البحر.
- ٢- حرفة يعمل بها معظم سكان البيئة الساحلية ومنها الأعمال الفندقية.
- ٣- ساحل يمتد من الإسكندرية حتى السلوم.
- ٤- شريط سهلى قد يتسع أو يضيق تبعاً لاقتراب الجبال أو الهضاب من البحر.

س ٤: بم تفسر؟

- ١- تلوث المياه الشاطئية بالمناطق الساحلية.
- ٢- تعمل الدولة على وضع مصدات خرسانية على الشواطئ.
- ٣- يعمل بعض سكان البيئة الساحلية بالسياحة.
- ٤- يعمل بعض سكان البيئة الساحلية باستخراج البترول والغاز الطبيعي.

س ٥: اذكر:

- ١- أهم مشكلات البيئة الساحلية.
- ٢- أهم أنشطة السكان في البيئة الساحلية.
- ٣- أهم ما تقوم به الدولة لحل مشكلات البيئة الساحلية.

س ٦: ماذا يحدث إذا؟

- ١- اقتربت الجبال من ساحل البحر.
- ٢- حدثت نوة في مدينة ساحلية.
- ٣- كانت مياه البحر الأحمر باردة وغير صافية.

أهم مفاهيم الوحدة الثانية

هى شريط سهلى قد يتسع أو يضيق تبعًا لاقتراب الجبال أو الهضاب من البحر أو البعد عنه وتتأثر به بشكل كبير فى مناخها وأعمال و عادات سكانها بالبحر.	البيئة الساحلية
هى أرض شبه مستوية السطح تمتد من خط الساحل إلى داخل اليابس.	السهول الساحلية
هو توغل لجزء من البحر فى اليابس يتصل بالبحر بفتحة واحدة ، مثل : (خليج السويس - خليج أبى قير) .	الخليج
هو امتداد أرضى من اليابس داخل البحر.	الرأس الأرضى
هو خليج ذو مدخل ضيق متعمق فى اليابس.	الشـرم
هى عبارة عن تكوينات أفرزتها حيوانات بحرية دقيقة على طول امتداد سواحل البحر الأحمر فى مصر.	الشعاب المرجانية
هى رياح شديدة وأمطار غزيرة تسبب ارتفاع أمواج البحر بشدة وتؤدى إلى تعطيل الملاحة وإغلاق الموانئ وتوقف الصيد.	النـوات
هى مركز عمرانى كبير تقوم بعدة وظائف مثل التجارة والخدمات الحكومية والصناعة وعدد سكانها كبير ولا يعملون بالزراعة.	المدينة
هى المدينة التى يزيد عدد سكانها عن مليون نسمة كالإسكندرية.	المدينة المليونية
هى وحدة إدارية كبيرة تتكون من مراكز وأقسام ، ولكل محافظة عاصمة تعد أهم المدن بها. - يبلغ عدد محافظات مصر ٢٧ محافظة.	المحافظة
هى هجرة أفراد وجماعات إلى خارج الدولة بطرق غير قانونية.	الهجرة غير الشرعية
هو ساحل يمتد من الإسكندرية شرقاً حتى السلوم غرباً وتقوم به الزراعة على مياه الأمطار الشتوية.	ساحل مريوط
هو قيام الأمواج بنحت الصخور التى تشكل ساحل البحر.	تآكل السواحل
هو أن تصبح المياه غير صالحة للاستهلاك للكائنات الحية.	تلوث المياه



أهم تفسيرات الوحدة الثانية وإجاباتها النموذجية



- (١) تتميز السهول الساحلية المطلة على البحر المتوسط بالاتساع والانبساط.
ج / لابتعاد الحواف المرتفعة عن البحر.
- (٢) ضيق السهول الساحلية على ساحل خليج العقبة.
ج / لاقتراب الجبال من البحر.
- (٣) تعرف حياة سكان البيئة الساحلية بحياة البحر.
ج / لاعتماد سكان البيئة الساحلية على البحر في معيشتهم وتجارتهم وأعمالهم.
- (٤) أهمية التلال الجيرية ناصعة البياض على ساحل البحر المتوسط.
ج / لأنها تقوم بدور مهم في تخزين مياه الأمطار.
- (٥) نمو الشعاب المرجانية في البحر الأحمر.
ج / لصفاء مياهه وارتفاع حرارته وهدوء حركة المياه فيه.
- (٦) أهمية الشعاب المرجانية في السياحة.
ج / لأنها تمثل عاملاً مهماً للجذب السياحي من شتى أنحاء العالم.
- (٧) مناخ البيئة الساحلية على البحر المتوسط معتدل طوال العام.
ج / لأن البحر يعمل على تلطيف درجة حرارة الجو معظم فصول السنة.
- (٨) تتوقف حركة الصيد وإغلاق الموانئ وقت حدوث النوات.
ج / لأن النوة رياح شديدة وأمطار غزيرة تسبب ارتفاع أمواج البحر بشدة.
- (٩) انتشار المراعى الطبيعية على ساحل البحر المتوسط.
ج / بسبب سقوط الأمطار الشتوية.
- (١٠) تركيز السكان في المدن الساحلية.
ج / لتوفر الموارد الغذائية والمواد الخام والمناظر الطبيعية البيئية الخلابة وانتشار النشاط السياحي والتجاري وللترويج.
- (١١) تعتبر الإسكندرية من المدن المليونية.
ج / لأن سكانها يزيدون على مليون نسمة.



- (١٢) اعتاد سكان البيئة الساحلية على العمل الجماعى.
- ج / لأن أعمال البيئة الساحلية تحتاج إلى التعاون مثل الصيد والشحن والتفريغ.
- (١٣) يتصف سكان البيئة الساحلية بالشجاعة وحب المخاطرة.
- ج / لأنهم اعتادوا مواجهة أخطار البحر ، ولطبيعة العمل بالبحر.
- (١٤) تشارك المرأة بنصيب وافر فى معظم الأعمال فى البيئة الساحلية.
- ج / لأن الرجال يقضون معظم أوقاتهم فى الأعمال المرتبطة بالبحر.
- (١٥) هجرة سكان المناطق الصحراوية أو الزراعية إلى البيئة الساحلية.
- ج / للترويح والعمل بالأنشطة الاقتصادية المختلفة.
- (١٦) تعمل الدولة على إنشاء مدن جديدة فى البيئة الساحلية.
- ج / لحل مشكلات البيئة الساحلية.
- (١٧) تنوع الأنشطة الاقتصادية فى البيئة الساحلية.
- ج / بسبب تنوع الموارد الطبيعية بها.
- (١٨) أهمية سياحة الشواطئ فى مصر.
- ج / لأن السياحة تعد من أهم مصادر الدخل القومى فى مصر.
- (١٩) ازدهار النشاط التجارى والنقل البحرى فى البيئة الساحلية.
- ج / بسبب عمليات شحن وتفريغ السفن بالموانئ بالإضافة إلى نقل البضائع والمسافرين.
- (٢٠) تلوث المياه الشاطئية فى البيئة الساحلية.
- ج / بسبب إلقاء مياه الصرف الصحى للمدن الساحلية والمصانع فى البحر بالإضافة إلى التلوث الناتج عن السفن (خاصة ناقلات البترول).
- (٢١) تعمل الدولة على وضع مصدات خرسانية على الشواطئ.
- ج / للمحافظة على الشواطئ من التآكل بفعل الأمواج.
- (٢٢) يعمل بعض سكان البيئة الساحلية بالزراعة على السواحل الشمالية.
- ج / بسبب وجود مياه الأمطار الشتوية.
- (٢٣) يواجه سكان البيئة الساحلية عدة مشكلات.
- ج / بسبب : ١- الازدحام السكانى.
٢- التلوث البيئى فى المدن الساحلية.
٣- انتشار الكثير من الأمراض.



أهم أسئلة النتائج المترتبة في الوحدة الثانية

- (١) انتشار الكثبان الرملية والتلال الجيرية على ساحل البحر المتوسط.
 - ج / أدى إلى تخزين مياه الأمطار و الاستفادة منها.
- (٢) صفاء مياه البحر الأحمر وهدوء حركتها.
 - ج / أدى إلى نمو الشعاب المرجانية التي تجذب السياح من جميع أنحاء العالم.
- (٣) سقوط الأمطار على ساحل البحر المتوسط.
 - ج / أدى إلى قيام الزراعة في مناطق متفرقة مثل شمال سيناء والساحل الشمالى.
- (٤) نحت الأمواج للسواحل.
 - ج / أدى إلى : ١- تآكل السواحل.
 - ٢- إزالة الشواطئ الرملية.
 - ٣- تدمير بعض الشاليهات المخصصة للاصطياف.
- (٥) اقتراب الجبال من ساحل خليج العقبة.
 - ج / أدى إلى ضيق السهل الساحلى المطل على خليج العقبة.
- (٦) قضاء الرجال معظم أوقاتهم فى البحر.
 - ج / أدى إلى : ١- مشاركة المرأة للرجل فى كثير من الأعمال.
 - ٢- تميز سكان البيئة الساحلية بحب المخاطرة والشجاعة.
- (٧) وفرة الموارد الطبيعية والمواد الخام بالمناطق الساحلية.
 - ج / أدى إلى تعدد وتنوع الأنشطة الاقتصادية ، وهجرة الكثير من سكان البيئات الأخرى إليها.
- (٨) تعدد المناظر الطبيعية الخلابة فى البيئة الساحلية.
 - ج / أصبحت البيئة الساحلية منطقة جذب سياحى.
- (٩) تعرض سواحل البحر الأحمر لسيول فجائية.
 - ج / أدى إلى تدمير الطرق والمنشآت وتعطيل حركة النقل.
- (١٠) صرف مخلفات المصانع فى مياه البحر.
 - ج / أدى إلى تلوث مياه البحار والبحيرات الساحلية.
- (١١) كثرة الخلجان والشروم على ساحل البحر الأحمر.
 - ج / أدى إلى إنشاء العديد من الموانئ الهامة مثل شرم الشيخ و نويبع.

تدريبات الكتاب المدرسى على الوحدة الثانية

السؤال الأول : اختر من العمود (أ) ما يناسبه من العمود (ب) :

(ب)	(أ)
() ساحل البحر الأحمر.	١- امتداد أرضى من اليابس داخل البحر
() ساحل البحر المتوسط.	٢- إنشاء العديد من الموانئ الهامة مثل شرم الشيخ ونويبع على
() تلال جيرية.	٣- يوجد العديد من الخلجان المتسعة مثل خليج أبو قير وخليج العرب على
() رأس أرضى.	٤- تكوينات أفرزتها حيوانات بحرية دقيقة
() خليج.	٥- توغل لجزء من البحر فى اليابس يتصل به بفتحة واحدة
() شعاب مرجانية.	
() الساحل الشمالى لسيناء.	

السؤال الثانى : أكمل الفراغات التالية :

- (١) قامت الدولة بإنشاء مدن جديدة فى البيئة الساحلية مثل مدينة ، كما قامت بمد الطرق و
- (٢) المدن المليونية هى المدن التى
- (٣) من مشكلات السكان فى البيئة الساحلية مشكلة ومشكلة
- (٤) يتجه سكان واحة سيوة للاستقرار فى مدينة ، أما المهاجرين من سكان الوجه القبلى فقد يتجهون إلى المدن الساحلية كمدينة على ساحل البحر المتوسط.
- (٥) من أهم الموارد الطبيعية فى البيئة الساحلية الثروة والبترول و..... والموارد الحيوانية.
- (٦) تسقط الأمطار على ساحل البحر المتوسط مما يساعد على قيام
- (٧) تمتد البيئة الساحلية على البحر المتوسط من شرق مدينة فى أقصى الشرق حتى غرب مدينة غربًا.



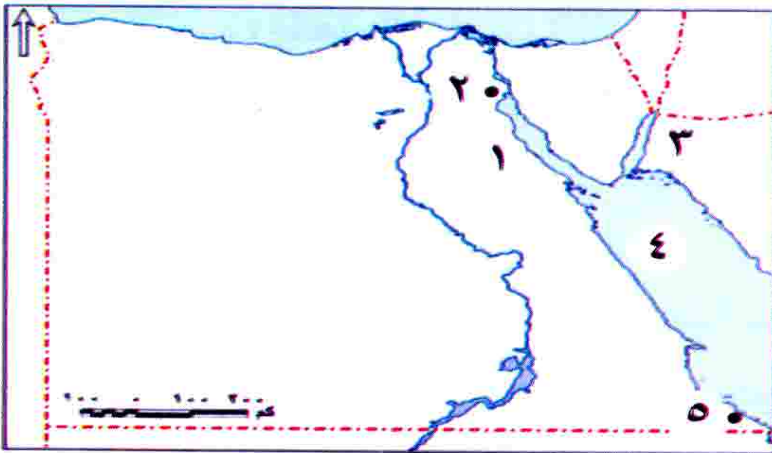
السؤال الثالث : بم تفسر ؟

- (١) ضيق السهل الساحلى على خليج العقبة.
- (٢) إنشاء عدد من الموانئ المهمة على ساحل البحر الأحمر.
- (٣) قيام النشاط الزراعى فى الساحل الشمالى الغربى لمصر.
- (٤) نمو الشعاب المرجانية على سواحل البحر الأحمر.
- (٥) اعتبار المدن الساحلية منطقة جذب سكانى.

السؤال الرابع : ما النتائج المترتبة على ؟

- (١) تآكل أجزاء من السواحل المصرية.
- (٢) تلوث المياه الشاطئية.
- (٣) سقوط الأمطار الشتوية على سواحل البحر المتوسط.
- (٤) اقتراب الجبال من ساحل خليج العقبة.
- (٥) تنوع الأنشطة الاقتصادية فى البيئة الساحلية.

السؤال الخامس : أمامك خريطة صماء لمصر وقع عليها مدلول الأرقام التالية :



- ١- خليج
- ٢- مدينة
- ٣- خليج
- ٤- البحر
- ٥- مدينة

السؤال السادس : ما المقصود بالمصطلحات الجغرافية الآتية ؟

- شرم.
- خليج.
- رأس أرضى.
- مدينة مليونية.
- هجرة غير شرعية.
- شعاب مرجانية.

السؤال السابع : قارن بين :

المشكلات البيئية والسكانية فى البيئة الساحلية وجهود الدولة لحلها.



أسئلة وردت بامتحانات المحافظات على الوحدة الثانية

السؤال الأول : اكتب كلمة (صح) أمام العبارة الصحيحة وكلمة (خطأ) أمام العبارة الخطأ :

- (١) يؤدي تآكل السواحل إلى إزالة الشواطئ الرملية وتدمير الشاليهات. ()
[بنى سويف - المنيا ٢٠١٦]
- (٢) بحيرة البردويل أولى بحيرات مصر إنتاجًا للأسماك . ()
[الغربية - بور سعيد ٢٠١٦]
- (٣) تمتاز البيئة الساحلية على البحر المتوسط في مصر بصفة عامة [أسبوط ٢٠١٥]
بمناخ معتدل طوال العام . ()
- (٤) من الخصائص التعليمية لسكان البيئة الساحلية ارتفاع نسبة التعليم. ()
[المنيا ٢٠١٦]
- (٥) السهول الساحلية المطلة على البحر الأحمر تكون متسعة وممتدة. ()
[القاهرة ٢٠١٥]
- (٦) تنمو شجيرات المانجروف على طول ساحل البحر المتوسط . ()
[الجيزة ٢٠١٦]
- (٧) تعد البيئة الساحلية منطقة جذب لسكان البيئات الأخرى . ()
[الشرقية - الجيزة ٢٠١٥]
- (٨) من مشكلات سكان البيئة الساحلية الازدحام السكاني . ()
[الدقهلية ٢٠١٦]

السؤال الثاني : أكمل العبارات التالية :

- (١) ساعد سقوط الأمطار على الساحل الشمالى الغربى لمصر وشمال سيناء على قيام والرعى. [الأقصر ٢٠١٦]
- (٢) البيئة الساحلية تظهر فى شكل شريط يتسع و يضيق تبعًا لاقتراب والهضاب من البحر أو البعد عنه. [القليوبية ٢٠١٦]
- (٣) من أمثلة حقول الغاز الطبيعى ويوجد بشمال الدلتا حقل [القاهرة ٢٠١٥]
- (٤) تقوم بدور هام فى تخزين مياه الأمطار فى البيئة الساحلية. [الغربية ٢٠١٥]
- (٥) تنتشر فى مناطق متفرقة على طول ساحل البحر الأحمر. [السويس ٢٠١٦]
- (٦) تعد مشكلة ... من أكثر المشكلات التى تهدد البيئة الساحلية فى مصر. [السويس ٢٠١٥]
- (٧) تعد بحيرة أولى بحيرات مصر إنتاجًا للأسماك فى مصر. [جنوب سيناء ٢٠١٦]
- (٨) يبلغ عدد محافظات مصر الساحلية [القليوبية ٢٠١٦]
- (٩) المدن هى المدن التى يزيد عدد سكانها عن مليون نسمة. [الجيزة ٢٠١٦]
- (١٠) من العادات السلبية لسكان البيئة الساحلية و [الفيوم ٢٠١٥]



السؤال الثالث : اختر الإجابة الصحيحة مما بين القوسين :

- (١) تعد حرفة من الحرف الرئيسية في البيئة الساحلية .
[القليوبية ٢٠١٦] (الصيد - الرعي - الزراعة - النشاط السياحي)
- (٢) يمتد ساحل مريوط ما بين مدينتي الإسكندرية و
[الجيزة ٢٠١٦] (مرسى مطروح - السلوم - العلمين - الضبعة)
- (٣) تنتشر الشعاب المرجانية في
[الفيوم ٢٠١٥] (بحيرة ناصر - البحر المتوسط - البحر الأحمر - نهر النيل)
- (٤) يعرف الخليج ذو المدخل الضيق المتعمق في اليابس باسم
[المنيا ٢٠١٥] (البحيرة - الشرم - الرأس الأرضي - الخليج)
- (٥) مدينة تقع على ساحل البحر الأحمر .
[القاهرة ٢٠١٥] (الإسكندرية - الغردقة - رفح - السلوم)
- (٦) تتميز البيئة الساحلية في مصر بحقول الغاز الطبيعي ومنها حقول
[الشرقية ٢٠١٦] (بلاعيم - رأس غارب - مرجان - أبو ماضي)
- (٧) من المشكلات التي تواجه البيئة الساحلية مشكلة
[المنوفية ٢٠١٥] (حركة الرمال - التصحر - تآكل السواحل - تجريف التربة)
- (٨) من أهم النباتات الطبيعية على سواحل البحر الأحمر أشجار
[جنوب سيناء ٢٠١٥] (الصفصاف - المانجروف - البلوط - الأرز)
- (٩) من الخصائص الإيجابية للبيئة الساحلية
[الشرقية ٢٠١٥] (الهجرة غير الشرعية - الصيد غير القانوني - العمل الجماعي - تصريف المخلفات في البحر)
- (١٠) تمتد البيئة الساحلية في مصر على البحر المتوسط في
[الدقهلية ٢٠١٦] (الغرب - الشرق - الشمال - الجنوب)

السؤال الرابع : اكتب ما تشير إليه العبارات الآتية :

- (١) المدينة التي يزيد عدد سكانها على مليون نسمة .
[الأقصر ٢٠١٦]
- (٢) رياح شديدة تقلب الجو وتسبب ارتفاع موج البحر وتستمر لعدة أيام. [السويس ٢٠١٦]
- (٣) تلال مكونة من الصخور الجيرية ناصعة البياض .
[الجيزة ٢٠١٥]
- (٤) تكوينات أفرزتها حيوانات بحرية دقيقة على طول ساحل البحر الأحمر .
[الفيوم ٢٠١٦]
- (٥) أرض شبه مستوية السطح تمتد من خط الساحل إلى داخل اليابس .
[المنيا ٢٠١٦]

السؤال الخامس : بم تفسر ؟

- (١) تلوث المياه الشاطئية فى المناطق الساحلية . [المنوفية - الإسماعيلية ٢٠١٦]
- (٢) نمو الشعاب المرجانية على ساحل البحر الأحمر . [كفر الشيخ - الجيزة ٢٠١٦]
- (٣) مشاركة المرأة للرجل فى كثير من الأعمال فى البيئة الساحلية . [سوهاج ٢٠١٥]
- (٤) أهمية التلال الجيرية على طول الساحل الشمالى الغربى لمصر . [البحيرة ٢٠١٥]
- (٥) ضيق السهول الساحلية المطلة على خليج العقبة . [دمياط ٢٠١٦]

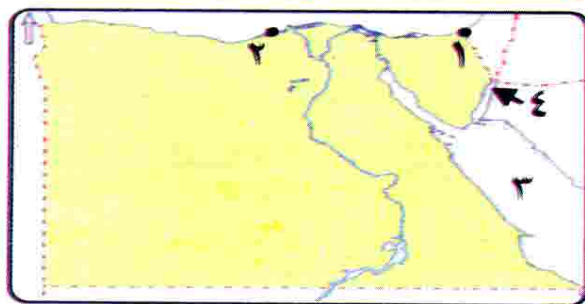
السؤال السادس : ما النتائج المترتبة على ؟

- (١) نحت الأمواج للسواحل . [البحيرة ٢٠١٥]
- (٢) صفاء وهدوء حركة المياه فى البحر الأحمر . [الدقهلية ٢٠١٦]
- (٣) سقوط الأمطار بكميات كبيرة على ساحل البحر المتوسط . [السويس ٢٠١٦]
- (٤) إلقاء مخلفات المصانع والمنازل فى مياه البحار . [بورسعيد ٢٠١٦]
- (٥) تنوع الموارد الطبيعية بالبيئة الساحلية . [مطروح ٢٠١٥]

السؤال السابع : ما المقصود بالمفاهيم الآتية ؟

- (١) تأكل السواحل . [الإسكندرية ٢٠١٦]
- (٢) الرأس الأرضى . [بنى سويف ٢٠١٦]
- (٣) الخليج . [القاهرة ٢٠١٥]
- (٤) الهجرة غير الشرعية . [الأقصر ٢٠١٥]
- (٥) السهول الساحلية . [بورسعيد ٢٠١٦]

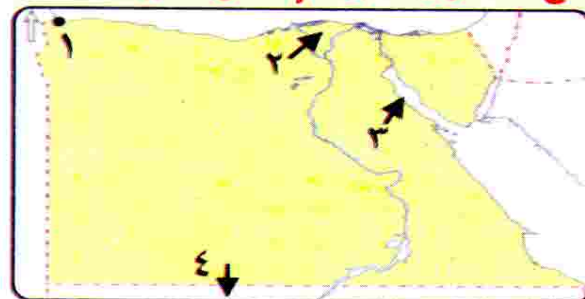
السؤال الثامن : (أ) أمامك خريطة صماء لمصر . وضع مدلول الأرقام التى عليها :



[بورسعيد ٢٠١٦]

- (١) مدينة
- (٢) مدينة مليونية
- (٣) البحر
- (٤) خليج

(ب) أمامك خريطة صماء لمصر . وضع مدلول الأرقام التى عليها :



[المنيا ٢٠١٥]

- (١) مدينة
- (٢) حقل غاز طبيعى
- (٣) خليج
- (٤) دولة



اختبار عام (١) على الوحدة الثانية



س ١: اكتب كلمة (صح) أمام العبارة الصحيحة وكلمة (خطأ) أمام العبارة الخطأ :

- ١- يعتبر النشاط الزراعى نشاطاً أساسياً لسكان البيئة الساحلية . ()
- ٢- يعيش سكان البيئة الساحلية فى إحدى عشر محافظة . ()
- ٣- تعد البيئة الساحلية منطقة جذب لسكان البيئات الأخرى . ()
- ٤- الهجرة غير الشرعية من العادات الإيجابية لسكان البيئة الساحلية . ()

س ٢: أكمل ما يأتى :

- ١- من مشكلات السكان فى البيئة الساحلية و
- ٢- من أهم الموارد الطبيعية للبيئة الساحلية و
- ٣- يتجه سكان الواحات للاستقرار فى مدينة
- ٤- تعد بحيرة أولى البحيرات إنتاجاً للأسماك.

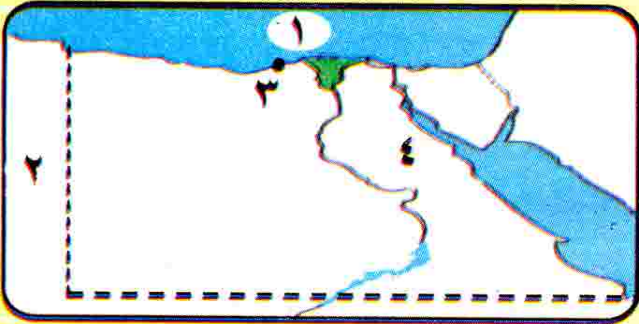
س ٣: اكتب ما تشير إليه كل عبارة من العبارات الآتية:

- ١- قيام الأمواج بنحت الصخور التى تشكل ساحل البحر .
- ٢- رياح شديدة تسبب ارتفاع موج البحر بشدة وتؤدى إلى إغلاق الموانئ .
- ٣- هجرة بعض الأفراد إلى خارج الدولة بطرق غير قانونية .
- ٤- توغل لجزء من مياه البحر فى اليابس ويتصل بالبحر بفتحة واحدة .

س ٤: اختر الإجابة الصحيحة مما بين القوسين فيما يلى :

- ١- الحرفة الرئيسة لسكان البيئة الساحلية (الزراعة - صيد الأسماك - الرعى)
- ٢- تنتشر الكثبان الرملية على ساحل ... (البحر المتوسط - البحر الأحمر - كلاهما)
- ٣- من المشكلات التى تواجه البيئة الساحلية (السيول - ندرة الماء - تآكل الشواطئ)

س ٥: (أ) اكتب مدلول الأرقام :



- (١) البحر
- (٢) دولة
- (٣) مدينة مليونية
- (٤) خليج

(ب) بم تفسر..؟

- ١- تلوث المياه الشاطئية بالمناطق الساحلية .
- ٢- قيام النشاط الزراعى فى الساحل الشمالى الغربى لمصر .
- ٣- يتميز سكان البيئة الساحلية بحبهم للعمل الجماعى .



مجاب عنه

اختبار عام (٢) على الوحدة الثانية



س ١ : اكتب كلمة (صح) أمام العبارة الصحيحة وكلمة (خطأ) أمام العبارة الخطأ :

- (١) تعرف حياة سكان البيئة الساحلية بحياة البحر. ()
- (٢) تتميز السهول الساحلية للبحر الأحمر بالاتساع بشكل عام. ()
- (٣) يحد مصر البحر الأحمر من ناحية الشمال والبحر المتوسط من الشرق. ()
- (٤) يمتد ساحل البحر الأحمر من مدينة طابا شمالاً حتى مدينة حلايب جنوباً. ()

س ٢ : أكمل ما يأتي :

- (١) تتلوث المياه الشاطئية بسبب و
- (٢) من مشكلات السكان في البيئة الساحلية و
- (٣) من المدن الساحلية المليونية
- (٤) من البحيرات الساحلية على ساحل البحر المتوسط و

س ٣ : اختر الإجابة الصحيحة مما بين القوسين فيما يلي :

- (١) من أهم النباتات الطبيعية على ساحل البحر الأحمر أشجار
- (٢) تنتشر الشعاب المرجانية في (نهر النيل - البحر الأحمر - البحر المتوسط)
- (٣) يتعرض للنوات شتاءً (خليج السويس - البحر الأحمر - البحر المتوسط)
- (٤) يمتد ساحل مريوط ما بين مدينتى الإسكندرية و (مطروح - السلوم - العلمين - الضبعة)

س ٤ : اكتب ما تشير إليه كل عبارة من العبارات الآتية :

- (١) تكوينات أفرزتها حيوانات بحرية على البحر الأحمر.
- (٢) خليج ذو مدخل ضيق متعمق في اليابس.
- (٣) سهل ساحلى يتميز بالاتساع والانبساط لابتعاد الحواف المرتفعة عن البحر.
- (٤) امتداد أرضى من اليابس داخل البحر.

س ٥ : بم تفسر ؟

- (١) قيام النشاط الزراعى فى الساحل الشمالى الغربى لمصر.
- (٢) اعتبار المناطق الساحلية مناطق جذب سكانى.
- (٣) الأهمية الاقتصادية للتلال الجيرية على طول الساحل الشمالى لمصر.
- (٤) ضيق السهول الساحلية المطلة على ساحل خليج العقبة.

الدرس الأول

الحركة الوطنية ومقاومة الاحتلال البريطاني

في نهاية هذا الدرس يتوقع أن يكون التلميذ قادراً على أن :

- ١- يحدد دور أحمد عرابي في أحداث الثورة العرابية .
- ٢- يوضح أسباب الثورة العرابية ونتائجها .
- ٣- يتتبع على خريطة لمصر خط سير القوات البريطانية .
- ٤- يقدر دور الزعيم أحمد عرابي ورفاقه .
- ٥- يقدر دور الشعب والجيش المصري في مواجهة الاحتلال البريطاني .
- ٦- يتعرف السياسة البريطانية في مصر .
- ٧- يقدر دور مصطفى كامل ومحمد فريد في مواجهة الاحتلال البريطاني .

الدرس الثاني

ثورة ١٩١٩ م

في نهاية هذا الدرس يتوقع أن يكون التلميذ قادراً على أن :

- ١- يعطى تعريفاً صحيحاً للمفاهيم التالية (دستور ، مؤتمر صلح ، استقلال اقتصادي) .
- ٢- يوضح أحوال مصر أثناء الحرب العالمية الأولى .
- ٣- يحدد عوامل قيام ثورة ١٩١٩ م .
- ٤- يقدر دور الزعيم سعد زغلول ورفاقه في أحداث ثورة ١٩١٩ م .
- ٥- يحدد أهم بنود تصريح ٢٨ فبراير ١٩٢٢ م .
- ٦- يوضح أثر الوحدة الوطنية في نجاح ثورة ١٩١٩ م .
- ٧- يستخلص نتائج ثورة ١٩١٩ م .
- ٨- يوضح دور طلعت حرب في بناء اقتصاد مصر .

مقدمة الوحدة

ضعفت أحوال مصر السياسية والاقتصادية في عهد خلفاء (محمد علي) وكثرت عليها الديون مما أوقعها في براثن الاستعمار ؛ فعانت ويلات الاحتلال البريطاني ، ولكن لم يستسلم شعبها العظيم فظل يكافح لتحرير وطنه الحبيب سياسياً واقتصادياً . وستتعرف عزيزي التلميذ خلال هذه الوحدة على كفاح شعب مصر ضد الاحتلال البريطاني بداية من الثورة العرابية عام ١٨٨١ م وحتى ثورة ١٩١٩ م .

الدرس الأول

الحركة الوطنية ومقاومة الاحتلال البريطاني

تاريخ مصر مليء برجال كافحوا للحصول على حرية البلاد ، هيا بنا نتعرف على تاريخ هؤلاء الرجال.



أحمد عرابي

أولاً : أحمد عرابي والثورة العرابية ١٨٨١م



- انضم أحمد عرابي للجيش المصري في عهد سعيد باشا الذي أمر بتجنيد أولاد عمِّ البلاد ومشايخها.
- أخذ عرابي يترقى حتى وصل إلى رتبة أميرآلي (عميد) في عهد الخديو توفيق .

معلومة إثرائية

- ولد أحمد عرابي في إحدى القرى المصرية التابعة لمحافظة الشرقية في مارس عام ١٨٤١ م .
- التحق بكتاب القرية وحفظ القرآن الكريم ، ثم التحق بالأزهر الشريف .

كفاحه :

- بدأ كفاح أحمد عرابي منذ عصر الخديو إسماعيل ضد استبداد النظام التركي والچركسى .
- طالب بالمساواة بين أبناء مصر وغيرهم من باقى الأجناس .
- اشترك مع بعض المصريين فى تأسيس الجمعية السرية (مصر الفتاة) وأصبح عضواً بارزاً فيها :



زعامة الثورة العربية



لم تخلو الثورة العربية من زعامات وطنية أخرى غير أحمد عرابي ، بل كان هناك زعماء آخرون أدوا معه دورهم الوطني بنفس الإخلاص والجرأة والتضحية ،
مثال: (محمد عبيد - على الروبى - على بك فهمى - عبد العال حلمى - محمود سامى البارودى - الإمام محمد عبده) .

معلومة إثرائية



الإمام محمد عبده

الإمام محمد عبده: (من زعماء الإصلاح)
 - وقف بجانب الثورة العربية ، واتخذ من صحيفة (الوقائع المصرية) منبراً لمناصرة وتأييد العربيين الثائرين .
 - توفى سنة ١٩٠٥ م .

أسباب الثورة العربية



- بم تفسر**
- ازدياد التدخل الأجنبي فى شئون مصر .
 - الامتيازات الأجنبية التى منحتها الدولة العثمانية للرعايا الأجانب فى مصر .
 - القروض .
 - إنشاء مراقبة ثنائية إنجليزية فرنسية على الموارد والمصروفات المصرية .
 - تسريح الكثير من الجنود والضباط المصريين .
 - سوء الأحوال الاقتصادية للمصريين (خاصة فى عهد وزارة رياض باشا) بسبب فداحة (كثرة) الضرائب المفروضة عليهم وعدم توزيعها توزيعاً عادلاً .

أحداث الثورة العربية



قاد أحمد عرابي مظاهرة عابدين السلمية والتى اشترك فيها الجيش والشعب فى ٩ سبتمبر ١٨٨١م وعرضوا مطالب الأمة على الخديو توفيق .



الزعيم أحمد عرابي وهو يقود مظاهرة عابدين فى ٩ سبتمبر ١٨٨١

مطالب الثورة العرابية نادت بـ:-



(١) إسقاط وزارة رياض باشا المستبدة .

(٢) تشكيل مجلس نواب .

(٣) زيادة عدد الجيش إلى ١٨٠٠٠ جندي .

اضطر الخديو توفيق للموافقة على مطالب الجيش والأمة وتم تأليف الوزارة الجديدة في سبتمبر ١٨٨١ م ، وتوالت الأحداث حتى الاحتلال البريطاني على مصر .

معلومة إثرائية

من أقوال الزعيم أحمد عرابي :

(لقد خلقنا الله أحرارًا ، ولم يخلقنا تراثًا أو عقارًا ، فو الله الذي لا إله إلا هو إننا لن نورث ولن نستعيد بعد اليوم) .

اختبر معلوماتك

س ١ : اكتب كلمة (صح) أمام العبارة الصحيحة وكلمة (خطأ) أمام العبارة الخطأ :

- (١) أدت الامتيازات الأجنبية إلى زيادة التدخل الأجنبي في شئون مصر. ()
- (٢) رفض الخديو توفيق الاستجابة لمطالب عرابي في مظاهرة عابدين. ()
- (٣) طالب أحمد عرابي بالمساواة بين أبناء مصر وغيرهم من باقي الأجناس. ()
- (٤) كان الإمام محمد عبده من مؤيدي الثورة العرابية. ()
- (٥) التحق أحمد عرابي بالجيش في عهد الخديو إسماعيل. ()

س ٢ : أكمل ما يأتي :

- (١) بدأ عرابي كفاحه منذ عصر الخديو
- (٢) اشترك أحمد عرابي في تأسيس الجمعية السرية
- (٣) وصل أحمد عرابي إلى رتبة في عهد الخديو توفيق.
- (٤) زاد التدخل الأجنبي في شئون مصر بعد إنشاء مراقبة ثنائية وفرنسية.
- (٥) من زعماء الثورة العرابية أحمد عرابي و و



س ٣ : اكتب تاريخ كل حدث من الأحداث الآتية :

(١) مولد أحمد عرابي. (٢) مظاهرة عابدين السلمية.

س ٤ : بم تفسر ؟

- (١) قيام الثورة العرابية عام ١٨٨١ م.
 (٢) سوء أحوال مصر الاقتصادية في عهد وزارة رياض باشا.
 (٣) للإمام محمد عبده دور كبير أثناء الثورة العرابية.

تذكر الوحدة الأولى والثانية

س ١ : اكتب كلمة (صح) أمام العبارة الصحيحة وكلمة (خطأ) أمام العبارة الخطأ :

- ١- يتميز ساحل البحر الأحمر بالاتساع والانبساط. ()
 ٢- يمتد ساحل البحر الأحمر من مدينة طابا شمالاً إلى مدينة حلايب جنوباً. ()
 ٣- يؤدي تملح التربة إلى زيادة خصوبة التربة. ()
 ٤- الصحراء الشرقية أكبر الصحارى المصرية مساحة. ()

س ٢ : أكمل ما يأتي :

- ١- يؤدي استزراع الكثبان الرملية إلى
 ٢- من المحميات الطبيعية في مصر و
 ٣- تبلغ مساحة البيئة الصحراوية % من مساحة مصر.
 ٤- توجد البيئة الساحلية في مصر في و

س ٣ : اكتب ما تشير إليه كل عبارة من العبارات الآتية :

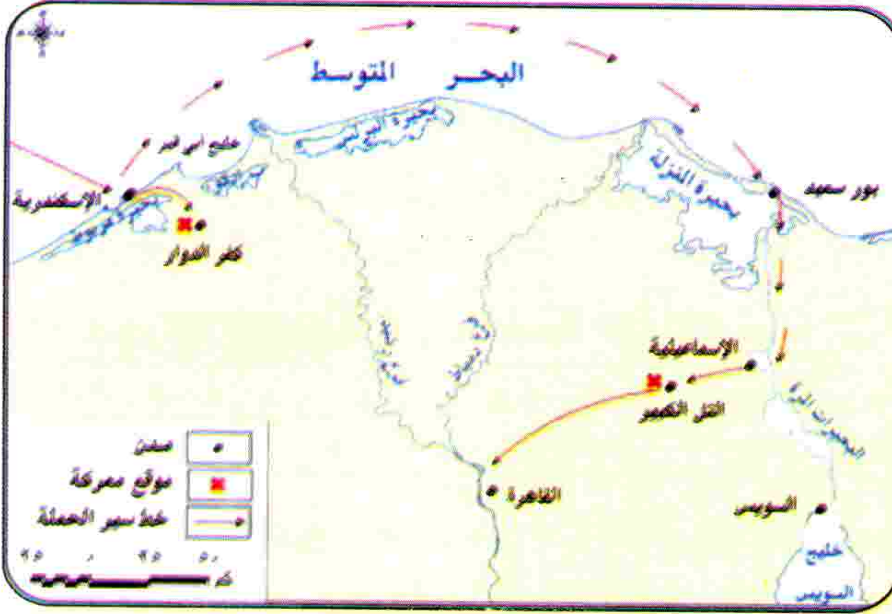
- ١- رياح شديدة وأمطار غزيرة تسبب ارتفاع أمواج البحر بشدة.
 ٢- امتداد أرضى من اليابس داخل البحر.
 ٣- قيام الأمواج بنحت الصخور التي تشكل ساحل البحر.
 ٤- أرض شبه مستوية السطح تمتد من خط الساحل إلى داخل اليابس.

س ٤ : بم تفسر ؟

- ١- السياحة من الأنشطة الاقتصادية الهامة في البيئة الصحراوية.
 ٢- تسمية محافظات الحدود بهذا الاسم.
 ٣- اتساع السهل الساحلى المطل على البحر المتوسط.
 ٤- نمو الشعاب المرجانية على ساحل البحر الأحمر.

الاحتلال البريطاني لمصر

خط سير الاحتلال البريطاني لمصر



وقفت إنجلترا ضد الحركة الوطنية في مصر، فديرت بعض الحوادث في مدينة الإسكندرية لتكون دليلاً على عدم قدرة أحمد عرابي (ناظر الجهادية) على حفظ الأمن والنظام في جميع أنحاء البلاد.

قام الإنجليز (البريطانيون) بضرب مدينة الإسكندرية في يوليو ١٨٨٢ م. أقال الخديو توفيق أحمد عرابي من الوزارة.

موقف عرابي من الاحتلال الإنجليزي



بم تفسر

قرر الشعب المصري بزعامة أحمد عرابي مواصلة الدفاع عن البلاد. فشلت القوات البريطانية في دخول البلاد عن طريق كفر الدوار. بسبب شجاعة واستبسال القوات المصرية في الدفاع عنها. قامت القوات الإنجليزية باحتلال قناة السويس بعد خيانة ديليسبس لأحمد عرابي وتغلبوا على الجيش المصري **بالتل الكبير** في سبتمبر ١٨٨٢ م، ثم احتلوا القاهرة في ١٤ سبتمبر ١٨٨٢ م.

السياسة البريطانية في مصر

اتبعت بريطانيا سياسة السيطرة على كل مرافق البلاد، وصار المعتمد البريطاني في مصر هو الحاكم الفعلي للبلاد، وقامت بريطانيا بما يلي:

- إلغاء المراقبة الثنائية (البريطانية والفرنسية)، والسيطرة على مالية البلاد لمصلحة أصحاب البنوك الأوروبية.
- إلغاء مجلس النواب الذي عاصر الثورة العرابية.



- ٣- تحويل البلاد إلى قاعدة لتزويد الصناعة البريطانية بالقطن المصرى وأهملت الصناعة المصرية.
- ٤- فرض ضرائب باهظة على المصريين.
- ٥- خفض (**تقليل**) الإنفاق الحكومى خاصة فى ميزانية التعليم والصحة.
- ٦- إلزام مصر بدفع تعويض لإنجلترا مقابل الخسائر التى نتجت عن العمليات الحربية أثناء الاحتلال.

الحركة الوطنية فى مواجهة الاحتلال :

بالرغم من تأمر الخديو توفيق وأتباعه على الحركة الوطنية والذى أدى إلى تمكين بريطانيا من احتلال مصر ، إلا أن الشعور الوطنى ظل موجوداً لدى المصريين ، وأدرك الشعب المصرى أن فى مقدرته الاستمرار فى التمسك بالمطالب الوطنية التى نادى بها أحمد عرابى .

اختبر معلوماتك

س ١ : اكتب كلمة (صح) أمام العبارة الصحيحة وكلمة (خطأ) أمام العبارة الخطأ:

- () (١) نجحت القوات الإنجليزية فى دخول مصر عن طريق كفر الدوار.
- () (٢) كانت خيانة الخديو توفيق أحد أسباب الاحتلال الإنجليزي لمصر.
- () (٣) أبقت إنجلترا على المراقبة الثنائية بعد احتلالها لمصر.
- () (٤) ازداد التدخل الأجنبى فى شئون مصر بسبب القروض فقط.

س ٢ : أكمل ما يأتى :

- (١) تولى الإمام محمد عبده رئاسة صحيفة واتخذها منبراً لتأييد
- (٢) ساءت أحوال المصريين الاقتصادية بسبب فداحة المفروضة عليهم.
- (٣) صار هو الحاكم الفعلى للبلاد بعد الاحتلال البريطانى لمصر.

س ٣ : بم تفسر؟

- (١) قيام الثورة العرابية.
- (٢) نجاح إنجلترا فى احتلال مصر.
- (٣) التف الشعب والجيش حول أحمد عرابى.

ثانياً : مصطفى كامل (باعث الحركة الوطنية)



الزعيم مصطفى كامل

- تولى زعامة الحركة الوطنية فى أواخر القرن التاسع عشر.
- وجه العديد من الخطب والمقالات التى تهدف إلى كراهية الاحتلال ورفض وجوده وتقنع المصريين بأن جلاء الاحتلال عن مصر ليس مستحيلاً .
- قام بالاتصال بالقوى الوطنية داخل مصر والقوى الدولية لمساعدة المطالب المصرية.
- حاول اجتذاب الخديو **عباس حلمى الثانى** إلى صفوف الحركة الوطنية .
- أسس جريدة **اللواء** عام ١٩٠٠م وظهر دورها الوطنى حيث استطاع أن يكشف المزاعم الإنجليزية وسياسة الاحتلال فى مصر .

ملحوظات هامة

- ١- كانت حكومة فرنسا من أكبر المؤيدين للحركة الوطنية المصرية حتى عقدت مع إنجلترا ما عرف **بالاتفاق الودى** عام ١٩٠٤ م ، فتخلت عن تأييدها لمصطفى كامل وقضية استقلال مصر .
- ٢- أدى كفاح مصطفى كامل إلى :
 - (أ) عزل (**اللورد كرومر**) من منصبه كمعتمد بريطانى فى مصر عقب حادثة دنشواى عام ١٩٠٦م .
 - (ب) إنشاء الحزب الوطنى عام ١٩٠٧م .
- ٣- توفى مصطفى كامل فى فبراير ١٩٠٨م وخلفه فى زعامة الحزب الوطنى رفيق الكفاح **محمد فريد** .

معلومة إثرائية

الاتفاق الودى : نص على موافقة فرنسا على إطلاق يد إنجلترا فى حكم مصر مقابل موافقة إنجلترا على إطلاق يد فرنسا فى حكم المغرب .



ثالثاً : محمد فريد (رمز الإخلاص والتضحية)



وضع محمد فريد برنامجاً لسياسة قومية ، تحرك جميع القوى السياسية فى البلاد ، على أساس بحث المشاكل الداخلية والخارجية ، **ودعا إلى :**



الزعيم محمد فريد

- (١) جلاء الاحتلال البريطانى عن مصر .
- (٢) إنشاء مجلس نيابى .
- (٣) تأسيس حكومة وطنية مستقلة .
- (٤) إنشاء مدارس ليلية لتعليم العمال والفقراء مجاناً .
- (٥) رفض مد امتياز شركة قناة السويس عام ١٩١٠م .
- (٦) مد نشاط الحركة الوطنية إلى أوروبا عندما وجد أن السلطات الحاكمة وسلطات الاحتلال البريطانى تضيق عليه وتراقبه .
- (٧) شارك فى العديد من المؤتمرات لبحث المشكلات المصرية السياسية والاجتماعية والاقتصادية والمناداة باستقلال مصر ، حتى توفى فى ١٩١٩ م .



اختبر معلوماتك



س ١ : اكتب كلمة (صح) أمام العبارة الصحيحة وكلمة (خطأ) أمام العبارة الخطأ :

- (١) خلف الزعيم (محمد فريد) (مصطفى كامل) فى كفاحه ونضاله. ()
- (٢) دعا مصطفى كامل إلى إنشاء مدارس ليلية لتعليم العمال. ()
- (٣) حاول مصطفى كامل اجتذاب الخديو عباس حلمى للحركة الوطنية. ()
- (٤) شارك محمد فريد فى العديد من المؤتمرات لبحث المشكلات المصرية. ()

س ٢ : أكمل ما يأتى :

- (١) دعا الزعيم محمد فريد إلى
- (٢) أدى كفاح مصطفى كامل إلى عزل عقب
- (٣) تولى مصطفى كامل الزعامة الوطنية فى أواخر القرن
- (٤) قام مصطفى كامل بتأسيس جريدة عام ١٩٠٠م.

س ٣ : بم تفسر ؟

- (١) تراجع فرنسا عن تأييد الحركة الوطنية بعد عام ١٩٠٤ م.
- (٢) عزل اللورد كرومر عام ١٩٠٦ م.
- (٣) مد محمد فريد نشاطه إلى أوروبا.

الدرس الثانى

ثورة ١٩١٩ م

- عمل سعد زغول محرراً فى جريدة الوقائع المصرية وانضم إلى الثورة العربية .
- اشتغل بالمحاماة ثم عمل بالقضاء وشارك فى الدعوة لإنشاء الجامعة المصرية .
- تولى نظارة المعارف (وزارة التربية والتعليم حالياً) فى عام ١٩٠٦ م .
- تم اختياره وزيراً للحقانية (العدل حالياً) عام ١٩١٠ م .
- انتخب عضواً بالجمعية التشريعية عام ١٩١٣ م .

معلومة إثرائية

- ولد سعد زغول من أسرة مصرية فى إحدى قرى مديرية الغربية فى يولييه ١٨٥٨ م .
- التحق بالأزهر الشريف عام ١٨٧٢ م ليتلقى تعليمه الدينى .
- تتلمذ سعد زغول على يد السيد جمال الدين الأفغانى و الشيخ محمد عبده .

مصر والحرب العالمية الأولى (أغسطس ١٩١٤م - نوفمبر ١٩١٨م)



منذ بداية الحرب العالمية الأولى ساءت الظروف الاقتصادية والاجتماعية لمصر أثناء الحرب ، مما أدى إلى ازدياد شعور المصريين بضياع حقوقهم .

حيث :

- (١) أعلنت إنجلترا حمايتها على مصر وإنهاء تبعية مصر للدولة العثمانية فى ديسمبر ١٩١٤ م .
- (٢) جندت بريطانيا عدداً كبيراً من المصريين .
- (٣) وضعت بريطانيا الخطوط الحديدية والموانئ فى خدمة القوات البريطانية .



عوامل قيام ثورة ١٩١٩م



- (١) الإجراءات العنيفة التي فرضها الاحتلال البريطاني على مصر أثناء الحرب العالمية الأولى .
 - (٢) ازدياد الوعي القومي والدعوة إلى التحرر من الاستعمار .
 - (٣) إعلان الرئيس الأمريكي **ولسن** لمبادئه ،
- ومنها : (**حق الشعوب في تقرير مصيرها**) .

مقدمات ثورة ١٩١٩م



- تعد ثورة ١٩١٩م ثورة شعبية عامة اشتركت فيها كافة طوائف المجتمع المصري .
- (١) **تأليف الوفد المصري :**

بعد انتهاء الحرب العالمية الأولى في نوفمبر ١٩١٨م تم تأليف وفد مصري من **سعد زغلول وعبد العزيز فهمي وعلى شعراوي** لمطالبة سلطات الاحتلال البريطاني بالسفر إلى باريس لعرض المطالب الوطنية على مؤتمر الصلح والتي تحددت في :- (أ) إلغاء الحماية البريطانية على مصر .

(ب) إلغاء الأحكام العرفية .

(ج) إلغاء الرقابة على الصحف والمطبوعات .

ولكن سلطات الاحتلال **رفضت** .

(٢) **الصدام بين الوفد المصري وسلطات الاحتلال البريطاني:**

نتيجة لرفض سلطات الاحتلال التصريح لأعضاء الوفد المصري بالسفر إلى باريس أتجه زعماء الوفد إلى تعبئة الرأي العام الداخلي في مصر ضد الاحتلال البريطاني .

(٣) **نفي سعد زغلول وزملائه :**

تم القبض على سعد زغلول باشا وثلاثة من أعضاء الوفد المصري وتم نفيهم في مارس ١٩١٩م إلى جزيرة مالطة (كان ذلك بمثابة الشرارة التي فجرت الثورة) .

مؤتمر الصلح : هو مؤتمر عقدته بعض الدول الأوروبية بعد الحرب العالمية الأولى للنظر في الأوضاع السياسية بعد انتهاء الحرب .

اختبر معلوماتك

س ١ : اكتب كلمة (صح) أمام العبارة الصحيحة وكلمة (خطأ) أمام العبارة الخطأ :

- (١) أعلنت إنجلترا حمايتها على مصر بعد انتهاء الحرب العالمية الأولى. ()
- (٢) تتلمذ سعد زغلول على يد السيد جمال الدين الأفغانى والشيخ محمد عبده. ()
- (٣) دعا سعد زغلول إلى إنشاء الجامعة المصرية. ()
- (٤) عمل سعد زغلول محرراً بجريدة العروة الوثقى المصرية. ()
- (٥) انتخب سعد زغلول عضواً بالجمعية التشريعية عام ١٩١٥ م. ()

س ٢ : أكمل ما يأتى :

- (١) بدأت الحرب العالمية الأولى فى أغسطس عام م ، وانتهت عام م .
- (٢) اشترك سعد زغلول فى الثورة واشتغل ب
- (٣) نادى الرئيس الأمريكى بحق الشعوب فى تقرير مصيرها .
- (٤) تألف الوفد المصرى من سعد زغلول و و
- (٥) نفى سعد زغلول فى المرة الأولى إلى

س ٣ : اختر الإجابة الصحيحة مما بين القوسين فيما يلى :

- (١) طالب الوفد المصرى ب
(إلغاء الحماية البريطانية - إلغاء الأحكام العرفية - إلغاء الرقابة على الصحف - كل ما سبق)
- (٢) مؤتمر الصلح هو مؤتمر عقدته الدول (الإفريقية - الأوربية - الآسيوية)
- (٣) تولى سعد زغلول نظارة المعارف عام م. (١٩١٠ - ١٩٠٦ - ١٩١٣)
- (٤) تم اختيار سعد زغلول وزيراً للحقانية عام م. (١٩١٠ - ١٩٠٦ - ١٩١٣)
- (٥) طلب الوفد المصرى من سلطات الاحتلال البريطانى السفر إلى
(باريس - ألمانيا - أمريكا)

س ٤ : أيد صحة العبارات الآتية :

- (١) اهتم سعد زغلول بالتعليم .
- (٢) كانت الحرب العالمية الأولى شر . على المصريين .
- (٣) حاول الوفد المصرى عرض القضية المصرية داخلياً وخارجياً .

س ٥ : بم تفسر ؟

- (١) تأليف الوفد المصرى .
- (٢) اندلاع ثورة ١٩١٩ م .



تذكر الوحدة الأولى والثانية

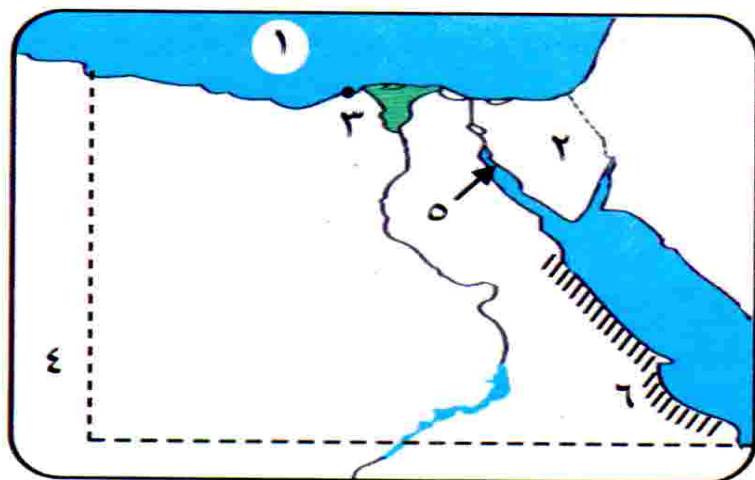
س ١ : صوب ما تحته خط في العبارات الآتية :

- (١) أكبر منخفضات الصحراء الغربية هو منخفض الفيوم .
- (٢) تقوم صناعة حفظ التمور على أشجار الزيتون .
- (٣) قبائل أولاد علي من أشهر قبائل الصحراء الشرقية .
- (٤) تنتشر الشعاب المرجانية في البحر المتوسط .
- (٥) يمتد ساحل سيناء من الإسكندرية حتى السلوم .
- (٦) تقع هضبة مارماريكا في الصحراء الشرقية .
- (٧) تضييق السهول الساحلية على ساحل البحر المتوسط .

س ٢ : ما المقصود بالمفاهيم الآتية ؟

- (١) البيئة الصحراوية .
- (٢) الواحة .
- (٣) الشعاب المرجانية .
- (٤) المدينة المليونية .

س ٣ : أمامك خريطة صماء لمصر ، اكتب مدلول الأرقام التالية :



- (١) البحر
- (٢) شبه جزيرة
- (٣) مدينة
- (٤) دولة
- (٥) خليج
- (٦) جبال

(٤) أحداث ثورة ١٩١٩ م :



مشاركة المرأة في ثورة ١٩١٩ م




بم تفسر

والتلغرافية.

ج/ لمنع اتصال القوات البريطانية المنتشرة في أنحاء البلاد.

- (٣) امتدت الثورة من **القاهرة** لتشمل الدلتا والأقاليم.
- (٤) شاركت المرأة المصرية في الثورة مسجلة تطوراً اجتماعياً ملحوظاً في تاريخ البلاد.



مشاركة المسلمين والأقباط في ثورة ١٩١٩ م

- (٥) من أروع انتصارات الثورة انضمام عنصرى الأمة من المسلمين والأقباط.
- (٦) أفرجت السلطات البريطانية عن سعد زغلول ورفاقه في أبريل ١٩١٩ م.
- (٧) سمحت إنجلترا للوفد المصري بالسفر إلى باريس لعرض مطالب الأمة على

مؤتمر الصلح المنعقد هناك ولكن مؤتمر الصلح خيب آمال المصريين في الاستقلال واعترف بالحماية البريطانية على مصر.

(٥) تجدد الثورة :

- بعد رفض مؤتمر الصلح مطالب الوفد المصري تجددت الثورة مرة أخرى ؛
- لأن** المصريين أدركوا أنه لا خلاص لهم من الاحتلال إلا بالاعتماد على أنفسهم.
- ألقت بريطانيا القبض على سعد زغلول وبعض زعماء الوفد المصري مرة أخرى ونفتهم إلى جزيرة سيشل بالمحيط الهندي.
- اشتدت الثورة ولجأ المصريون إلى مقاطعة البضائع والبنوك والسفن البريطانية مقاطعة تامة مما أربك سلطات الاحتلال.



نتائج ثورة ١٩١٩م



- (أ) الإفراج عن سعد زغلول وزملاءه .
- (ب) أصدرت بريطانيا (تصريح ٢٨ فبراير ١٩٢٢ م) ، **والذى جاء فيه :**
- الاعتراف بمصر دولة مستقلة ذات سيادة شكلياً وإنهاء الحماية البريطانية عليها ، مع احتفاظ بريطانيا بـ :
- (١) تأمين المواصلات البريطانية فى مصر .
 - (٢) الدفاع عن مصر ضد أى اعتداء أو تدخل أجنبى .
 - (٣) حماية المصالح الأجنبية وحماية الأقليات فى مصر .
 - (٤) أن يبقى الوضع فى السودان وفقاً لاتفاقية الحكم الثنائى عام ١٨٩٩م .
- وقد ترتب على قبول الحكومة المصرية لتصريح ٢٨ فبراير عام ١٩٢٢ م مايلى :

النتائج المترتبة على تصريح ٢٨ فبراير ١٩٢٢ م



- (١) وضع دستور ١٩٢٣م وإجراء انتخابات عامة نال فيها الوفد أغلبية مطلقة بزعامة سعد زغلول .
- (٢) تشكيل سعد زغلول أول حكومة دستورية فى مصر عام ١٩٢٤م .

الدستور : هو مجموع المبادئ والقواعد التى تحدد نظام الحكم فى الدولة .

معلومة إثرائية



قاد سعد زغلول الحركة الوطنية من أجل الاستقلال والدستور ، وخاض سعد زغلول المعارك الضارية ضد سلطات الاحتلال البريطانى وضد الملك فؤاد ، حتى توفى فى أغسطس ١٩٢٧م ، ليدخل التاريخ زعيماً وقائداً لثورة ١٩١٩م .

اختبر معلوماتك

س ١ : اكتب كلمة (صح) أمام العبارة الصحيحة وكلمة (خطأ) أمام العبارة الخطأ:

- (١) اعترفت باريس بمصر دولة مستقلة بتصريح ٢٨ فبراير. ()
- (٢) شكل سعد زغلول أول حكومة دستورية في مصر عام ١٩٣٥ م. ()
- (٣) نفى سعد زغلول إلى جزيرة سيشل بالمحيط الهادى. ()
- (٤) شاركت جميع طوائف الشعب المصرى فى ثورة ١٩١٩ م. ()
- (٥) أدى ازدياد الوعي القومى لدى المصريين لقيام ثورة ١٩١٩ م. ()

س ٢ : أكمل العبارات التالية :

- (١) بدأت ثورة ١٩١٩ م فى ثم انتشرت إلى الدلتا والأقاليم.
- (٢) أعظم انتصارات الثورة انضمام عنصرى الأمة من و
- (٣) أفرجت السلطات البريطانية عن سعد زغلول فى أبريل عام م.
- (٤) من التحفظات البريطانية على تصريح ٢٨ فبراير و
- (٥) شكل أول حكومة دستورية فى مصر عام ١٩٢٤ م.

س ٣ : رتب الأحداث التالية من القديم إلى الحديث :

- (تصريح ٢٨ فبراير - الثورة العرابية - ثورة ١٩١٩ م - وفاة سعد زغلول - وضع أول دستور فى مصر - الاحتلال البريطانى لمصر)

س ٤ : بم تفسر ؟

- (١) قيام ثورة ١٩١٩ م.
- (٢) الصدام بين أعضاء الوفد المصرى وسلطات الاحتلال البريطانى.
- (٣) مشاركة المرأة المصرية فى أحداث ثورة ١٩١٩ م.
- (٤) قيام ثورة مصرية أخرى بعد عودة الوفد المصرى من باريس.

س ٥ : اكتب أمام كل سنة حدثاً مهماً :

(نوفمبر ١٩١٨ م - مارس ١٩١٩ م - أبريل ١٩١٩ م - ١٩٢٣ م)



نظراً لما تعرضت له مصر إبان الاحتلال البريطاني من تدهور الأحوال الاقتصادية .
أدرك طلعت حرب أن استقلال مصر الذى يحارب من أجله المصريون لن يتم إلا إذا
استقلت مصر اقتصادياً وسيطر المصريون على اقتصادهم .

طلعت حرب وإنشاء بنك مصر



تم تأسيس بنك مصر فى أبريل عام ١٩٢٠م على يد طلعت حرب ومجموعة من
العاملين فى مجال المال والتجارة ، ويعتبر أول بنك وطنى فى مصر يديره
المصريون تحت إشراف وطنى لتمويل المشروعات الوطنية .

معلومة إثرائية



- وُلِدَ طلعت حرب بالقاهرة وتلقى تعليمه فى مدرسة الحقوق .
- عمل مدرساً بالجامعة المصرية .
- عين عضواً بمجلس الشيوخ فى أول برلمان مصرى .

استقلال مصر الاقتصادى :

هو عدم تبعية اقتصاد مصر لأى دولة أجنبية واعتماد مصر على رؤوس
أموالها الوطنية .

اختبر معلوماتك

س ١ : أكمل العبارات التالية بما يناسبها :

- (١) البنك الذى قام طلعت حرب بتأسيسه هو بنك عام م .
- (٢) تلقى طلعت حرب تعليمه فى مدرسة وعمل
- (٣) عين طلعت حرب عضو فى فى أول برلمان مصرى .
- (٤) يقصد باستقلال مصر الاقتصادى هو
- (٥) ساهم بنك مصر فى تمويل العديد من

س ٢ : بم تفسر؟

- (١) يعتبر طلعت حرب أحد رجال الاقتصاد الوطنيين .
- (٢) تأسيس بنك مصر .
- (٣) يرتبط استقلال مصر السياسى بالاستقلال الاقتصادى .

أهم مفاهيم الوحدة الثالثة

هو اتفاق تم بين إنجلترا وفرنسا ونص على موافقة فرنسا على إطلاق يد إنجلترا في حكم مصر مقابل موافقة إنجلترا على إطلاق يد فرنسا في حكم المغرب.	الاتفاق الودى ١٩٠٤ م
هو خروج القوات المحتلة من أراضي الدول التي احتلتها نهائيًا.	الجملاء
هو مؤتمر عقدته بعض الدول الأوروبية للنظر في الأوضاع السياسية بعد انتهاء الحرب العالمية الأولى.	مؤتمر الصلح
هو مجموعة من المبادئ والقواعد التي تحدد نظام الحكم في الدولة.	الدستور
هو عدم تبعية اقتصاد مصر لأي دولة أجنبية واعتماد مصر على رؤوس أموالها الوطنية.	استقلال مصر الاقتصادي



الخريطة الزمنية لأهم أحداث الوحدة الثالثة



ولد أحمد عرابي في إحدى القرى التابعة لمحافظة الشرقية.	مارس ١٨٤١ م
ولد سعد زغلول في إحدى قرى مديرية الغربية.	يوليه ١٨٥٨ م
التحق سعد زغلول بالأزهر الشريف.	١٨٧٢ م
مظاهرة عابدين السلمية التي اشترك فيها الشعب والجيش و عرضوا مطالب الأمة على الخديو توفيق .	٩ سبتمبر ١٨٨١ م
اضطر الخديو توفيق الموافقة على مطالب الأمة وتشكيل الوزارة الجديدة وعزل وزارة رياض باشا.	سبتمبر ١٨٨١ م
إقالة أحمد عرابي من الوزارة (نظارة الجهادية) ، قام البريطانيون بضرب مدينة الإسكندرية	يوليه ١٨٨٢ م
هزيمة جيش عرابي في معركة التل الكبير وتم احتلال القاهرة في ١٤ سبتمبر.	سبتمبر ١٨٨٢ م
تأسيس جريدة اللواء على يد مصطفى كامل.	١٩٠٠ م
عقدت إنجلترا وفرنسا ما عرف بالاتفاق الودى .	١٩٠٤ م



توفى الإمام محمد عبده.	١٩٠٥م
- حادثة دنشواى التى أدت إلى عزل اللورد كرومر. - تولى سعد زغول نظارة المعارف.	١٩٠٦م
تأسيس مصطفى كامل للحزب الوطنى.	١٩٠٧م
وفاة مصطفى كامل ليخلفه محمد فريد.	فبراير ١٩٠٨م
تم اختيار سعد زغول وزيراً للحقانية ، ورفض محمد فريد مد امتياز شركة قناة السويس.	١٩١٠م
انتخاب سعد زغول عضواً بالجمعية التشريعية.	١٩١٣م
الحرب العالمية الأولى. (أغسطس ١٩١٤م – نوفمبر ١٩١٨م)	
أعلنت إنجلترا حمايتها على مصر.	ديسمبر ١٩١٤م
- بدأت ثورة ١٩١٩م بمظاهرات الطلاب ثم اشترك فيها العمال والفلاحين والنساء وعصرى الأمة من (مسلمين وأقباط). - ألقى القبض على سعد زغول وثلاثة من أعضاء الوفد المصرى وتم نفيهم إلى جزيرة مالطة.	مارس ١٩١٩م
أفرجت السلطات البريطانية عن سعد زغول ورفاقه وسمحت لهم بالسفر إلى باريس لحضور مؤتمر الصلح.	أبريل ١٩١٩م
وفاة الزعيم محمد فريد.	نوفمبر ١٩١٩م
تأسيس بنك مصر على يد طلعت حرب ومجموعة من العاملين فى مجال المال والتجارة.	١٩٢٠م
تصريح اعترفت فيه بريطانيا بمصر دولة مستقلة وانتهاء حمايتها على مصر.	٢٨ فبراير ١٩٢٢م
اتفاقية الحكم الثنائى لإدارة السودان.	١٨٩٩م
وضع أول دستور فى مصر.	١٩٢٣م
تشكيل أول حكومة دستورية على يد سعد زغول.	١٩٢٤م
وفاة الزعيم سعد زغول قائد ثورة ١٩١٩م.	أغسطس ١٩٢٧م



أهم تفسيرات الوحدة الثالثة وإجاباتها النموذجية



(١) قيام الثورة العربية.

- ج / بسبب : ١- زيادة التدخل الأجنبى فى شئون مصر نتيجة القروض والامتيازات التى تمتع بها الرعايا الأجانب فى مصر.
٢- تسريح الكثير من الجنود والضباط فى عهد الخديو توفيق.
٣- سوء الأوضاع الاقتصادية للمصريين خاصة فى عهد وزارة رياض باشا.

(٢) زيادة التدخل الأجنبى فى شئون مصر .

- ج / بسبب : ١- الامتيازات الأجنبية التى منحتها الدولة العثمانية للرعايا الأجانب.
٢- القروض ، وإنشاء مراقبة ثنائية إنجليزية وفرنسية على الموارد والمصروفات المصرية.

(٣) للإمام محمد عبده دور كبير أثناء الثورة العربية.

- ج / لأنه اتخذ من صحيفة الوقائع المصرية منبراً لمناصرة وتأييد العرابيين.

(٤) التف الشعب والجيش حول عرابى أثناء الثورة.

- ج / أملاً فى التخلص من النفوذ الأجنبى ولتحسين الأوضاع فى مصر.

(٥) تدبير إنجلترا لبعض الحوادث بالإسكندرية قبل احتلالها مصر.

- ج / لتكون دليلاً على عدم مقدرة أحمد عرابى على حفظ الأمن والنظام.

(٦) سوء الأحوال الاقتصادية للمصريين فى عهد وزارة رياض باشا.

- ج / بسبب (فداحة) الضرائب المفروضة عليهم ، وعدم توزيعها توزيعاً عادلاً.

(٧) فشلت القوات البريطانية فى دخول مصر عن طريق كفر الدوار.

- ج / بسبب شجاعة واستبسال القوات المصرية فى الدفاع عنها.

(٨) تخاذل فرنسا عن تأييد القضية المصرية بعد عام ١٩٠٤ م.

- ج / بسبب عقد الاتفاق الودى بين فرنسا وإنجلترا الذى نص على إطلاق يد إنجلترا فى مصر وإطلاق يد فرنسا فى المغرب.

(٩) عزل اللورد كرومر من منصبه عام ١٩٠٦ م.

- ج / نتيجة كفاح مصطفى كامل بعد حادثة دنشواى.

(١٠) دعوة محمد فريد لتأسيس مدارس ليلية.

- ج / لتعليم العمال والفقراء مجاناً.



(١١) اتصال مصطفى كامل بالدول الأوربية.

ج / لكشف سياسة الاحتلال ومساوئه وخاصة بعد حادثة دنشواى عام ١٩٠٦ م.

(١٢) مد محمد فريد نشاط الحركة الوطنية إلى أوروبا.

ج / لأنه وجد سلطات الاحتلال فى مصر تضيق عليه وتراقبه.

(١٣) عانت مصر أثناء الحرب العالمية الأولى.

ج / لأن إنجلترا جندت عدد كبير من المصريين ، ووضعت الخطوط الحديدية والموانئ فى خدمة القوات البريطانية.

(١٤) قيام ثورة ١٩١٩ م.

ج / - الإجراءات العنيفة التى فرضها الإنجليز على مصر أثناء الحرب العالمية الأولى.

- ازدياد الوعى القومى لدى المصريين والدعوة إلى التحرر من الاستعمار.

- إعلان الرئيس الأمريكى (ولسن) لمبادئه التى تنادى بحق الشعوب فى تقرير مصيرها.

(١٥) شهدت ثورة ١٩١٩ م تطوراً اجتماعياً خطيراً.

ج / لأن المرأة المصرية شاركت لأول مرة فى الثورة.

(١٦) سمحت إنجلترا للوفد المصرى بالسفر إلى باريس لحضور مؤتمر الصلح .

ج / لتخفيف غضب المصريين ولإخماد الثورة.

(١٧) سفر الوفد المصرى إلى باريس.

ج / لعرض القضية المصرية على مؤتمر الصلح المنعقد هناك.

(١٨) قيام ثورة ١٩١٩ مرة أخرى بعد عودة الوفد المصرى من مؤتمر الصلح.

ج / لأن مؤتمر الصلح رفض الاستجابة لمطالب الوفد المصرى.

(١٩) الصدام بين الوفد المصرى و سلطات الاحتلال البريطانى فى مصر .

ج / لرفض سلطات الاحتلال البريطانى السماح للوفد المصرى بالسفر إلى فرنسا.

(٢٠) أهمية تصريح ٢٨ فبراير ١٩٢٢ م.

ج / لأنه اعترف بمصر دولة مستقلة ذات سيادة شكلياً ، وإنهاء حمايتها على

مصر ، ولكنه احتوى على أربع تحفظات تقيد استقلال مصر.

(٢١) أهمية إنشاء بنك مصر.

ج / لأنه ساهم فى تمويل المشروعات الوطنية.

أهم أسئلة النتائج المترتبة في الوحدة الثالثة

(١) تصريح ٢٨ فبراير ١٩٢٢ م.

ج / أدى إلى : ١- اعتراف بريطانيا بمصر دولة مستقلة ذات سيادة.

٢- وضع دستور ١٩٢٣ م ، وإجراء انتخابات عامة.

٣- تشكيل أول حكومة دستورية في مصر عام ١٩٢٤ م.

(٢) رفض سلطات الاحتلال البريطاني سفر الوفد المصري إلى مؤتمر الصلح بباريس.

ج / أدى إلى : ١- نفي سعد زغلول وزملاؤه إلى جزيرة مالطة.

٢- قيام ثورة ١٩١٩ م.

(٣) رفض محمد فريد مد امتياز مشروع قناة السويس.

ج / أدى إلى : تضيق سلطات الاحتلال البريطاني على (محمد فريد) داخل

مصر ، وفشل المشروع.

(٤) مقاطعة المصريين للبضائع الإنجليزية أثناء ثورة ١٩١٩ م.

ج / أدى إلى : إسراع إنجلترا بالإفراج عن سعد زغلول وزملائه.

(٥) مظاهرة عابدين في ٩ سبتمبر ١٨٨١ م.

ج / أدى إلى : ١- إسقاط وزارة رياض باشا المستبد.

٢- تشكيل الوزارة الجديدة.

(٦) معركة التل الكبير.

ج / أدى إلى : ١- هزيمة أحمد عرابي.

٢- احتلال إنجلترا لمصر في ١٤ سبتمبر ١٨٨٢ م ، ودخولهم القاهرة.

(٧) السياسة البريطانية في مصر بعد الاحتلال البريطاني.

ج / أدت إلى : ١- السيطرة على مالية البلاد لمصلحة أصحاب البنوك

الأوربية.

٢- إلغاء المراقبة الثنائية. ٣- إلغاء مجلس النواب.

٤- أصبحت مصر قاعدة لتزويد الصناعة البريطانية

بالقطن المصري.



مجاب
عنه

تدريبات الكتاب المدرسى على الوحدة الثالثة

السؤال الأول: اكتب كلمة (صح) أمام العبارة الصحيحة وكلمة (خطأ) أمام العبارة الخطأ:

- () (١) دعم محمد فريد مشروع مد امتياز شركة قناة السويس.
- () (٢) وجه مصطفى كامل كفاحه ضد الاحتلال داخل وخارج مصر.
- () (٣) وافق مؤتمر الصلح فى باريس على استقلال مصر.
- () (٤) أعلن الرئيس الأمريكى ولسن أثناء الحرب العالمية الأولى حق كل دولة فى تقرير مصيرها.

السؤال الثانى : أكمل الفراغات التالية :

- (١) أعلنت دولة الحماية على مصر فى ديسمبر ١٩١٤ م.
- (٢) خرج الجيش والشعب فى مظاهرة ١٨٨١ م لتقديم مطالب الأمة إلى الخديو
- (٣) فى مارس ١٩١٩م ألقى القبض على
- (٤) أصدرت بريطانيا تصريح ٢٨ فبراير عام ١٩٢٢م واعترفت فيه

السؤال الثالث : بم تفسر ؟

- (١) إنشاء طلعت حرب لبنك مصر.
- (٢) قيام ثورة ١٩١٩ م.
- (٣) مد محمد فريد نشاط الحركة الوطنية إلى أوروبا.
- (٤) قيام الثورة العراقية.

السؤال الرابع :

قارن بين الثورة العراقية وثورة ١٩١٩ م من حيث الأسباب والنتائج .

وجه المقارنة	الثورة العراقية ١٨٨١م	ثورة ١٩١٩ م
الأسباب		
النتائج		

السؤال الخامس : ما المقصود بالمفاهيم التالية ؟

- (١) مؤتمر الصلح.
- (٢) دستور.
- (٣) استقلال مصر الاقتصادى.



أسئلة وردت بامتحانات المحافظات على الوحدة الثالثة

السؤال الأول : اكتب كلمة (صح) أو كلمة (خطأ) أمام العبارات الآتية :

- (١) أدى ازدياد الوعي القومى لدى المصريين لقيام ثورة ١٩١٩ م . ()
[الغريبة ٢٠١٥]
- (٢) وقفت فرنسا إلى جانب الحركة الوطنية المصرية بعد الاتفاق الودى عام ١٩٠٤ م . ()
[سوهاج ٢٠١٦]
- (٣) ساهمت المرأة المصرية لأول مرة فى الحياة السياسية بمشاركتها فى ثورة ١٩١٩ م . ()
[كفر الشيخ ٢٠١٦]
- (٤) طالب عرابى فى مظاهرة عابدين السلمية بإقالة وزارة رياض باشا . ()
[البحيرة ٢٠١٦]
- (٥) نفت إنجلترا سعد زغول وبعض زملائه للمرة الثانية إلى جزيرة سيشل . ()
[سوهاج ٢٠١٦]
- (٦) دعا مصطفى كامل إلى إنشاء مدارس ليلية لتعليم الفقراء مجانًا . ()
[الفيوم ٢٠١٥]
- (٧) قام مصطفى كامل بتأسيس جريدة الأهرام . ()
[المنوفية ٢٠١٦]
- (٨) أصدرت بريطانيا تصريح ٢٨ فبراير ١٩٢٢م وفيه اعترفت باستقلال مصر . ()
[القليوبية ٢٠١٥]
- (٩) حرص الاحتلال البريطانى على زيادة ميزانية التعليم بمصر . ()
[قنا ٢٠١٦]
- (١٠) ساهم بنك مصر فى تمويل الصناعات الوطنية . ()
[المنيا ٢٠١٥]
- (١١) أسس طلعت حرب بنك مصر برؤوس أموال مصرية . ()
[الجيزة ٢٠١٦]
- (١٢) أعلنت الحماية البريطانية فى مصر عام ١٩١٤ م . ()
[أسوان ٢٠١٥]
- (١٣) وافق محمد فريد على مسألة مد امتياز قناة السويس . ()
[الدقهلية ٢٠١٥]
- (١٤) رفضت سلطات الاحتلال سفر أعضاء الوفد المصرى إلى إنجلترا . ()
[السويس ٢٠١٦]
- (١٥) ارتبط اسم طلعت حرب باستقلال مصر الاقصادى من السيطرة الأجنبية ()
[بنى سويف ٢٠١٦]



السؤال الثانى : أكمل العبارات التالية :

- (١) رفض.....مد امتياز شركة قناة السويس فى عام ١٩١٠م. [الجيزة ٢٠١٥]
- (٢) من زعماء الثورة العرابية بجانب أحمد عرابى و [بورسعيد ٢٠١٥]
- (٣) عقب تصريح ٢٨ فبراير ١٩٢٢ م تم وضع ١٩٢٣ م. [الغربية ٢٠١٥]
- (٤) احتلت القوات البريطانية القاهرة بعد معركة [الشرقية ٢٠١٥]
- (٥) نفى سعد زغلول وزملاؤه فى مارس ١٩١٩ م إلى جزيرة [الأقصر ٢٠١٦]
- (٦) من أسباب الثورة العرابية الامتيازات الأجنبية وزيادة [القاهرة ٢٠١٥]
- (٧) عزل اللورد كرومر من منصبه عقب حادثة [المنوفية ٢٠١٦]
- (٨) تولى سعد زغلول نظارة عام ١٩٠٦ م. [بورسعيد ٢٠١٥]
- (٩) فشلت القوات البريطانية فى دخول مصر عن طريق [الغربية ٢٠١٦]
- (١٠) عقد مؤتمر الصلح بعد انتهاء الحرب العالمية الأولى فى مدينة [الفيوم ٢٠١٥]

السؤال الثالث : اختر الإجابة الصحيحة مما بين القوسين :

- (١) ارتبط اسم بالاستقلال الاقتصادى لمصر . [الأقصر ٢٠١٦]
(أحمد عرابى - طلعت حرب - مصطفى كامل - سعد زغلول)
- (٢) يُنسب مبدأ تقرير المصير إلى الرئيس الأمريكى [بورسعيد ٢٠١٥]
(ولسن - كارتر - أوباما - بوش)
- (٣) كان الحاكم الفعلى للبلاد بعد الاحتلال البريطانى لمصر [مطروح ٢٠١٥]
(الخديو توفيق - أحمد عرابى - المعتمد البريطانى - السلطان العثمانى)
- (٤) وصل أحمد عرابى إلى رتبة أميرالاي فى عهد الخديو [المنيا ٢٠١٦]
(إسماعيل - عباس - سعيد - توفيق)
- (٥) قاد أحمد عرابى مظاهرة عابدين السلمية فى سبتمبر عام م. [السويس ٢٠١٦]
(١٨٧٠ - ١٨٧٤ - ١٨٧٨ - ١٨٨١)
- (٦) أسس طلعت حرب عام ١٩٢٠ م. [أسيوط ٢٠١٦]
(حركة عدم الانحياز - جمعية مصر الفتاة - بنك مصر - حركات التحرر)
- (٧) كانت سياسة بريطانيا فى السيطرة على مصر هى [الدقهلية ٢٠١٦]
(تطوير التعليم - النهوض بالصناعة - إلغاء مجلس النواب - بقاء المراقبة الثنائية)
- (٨) كان أحمد عرابى عضواً بارزاً فى جمعية سرية عُرفت باسم جمعية [الجيزة ٢٠١٥]
(الجامعة المصرية - الوفد المصرى - مصر الفتاة - عابدين)
- (٩) دعا الزعيم لإنشاء مدارس ليلية لتعليم الفقراء . [الفيوم ٢٠١٥]
(محمد عبده - محمد فريد - على فهمى - أحمد عرابى)
- (١٠) قام مصطفى كامل بتأسيس جريدة عام ١٩٠٠ م. [المنيا - بنى سويف ٢٠١٦]
(الوقائع المصرية - المؤيد - اللواء - الأهرام)

السؤال الرابع : لمن تنسب الأعمال الآتية ؟

- (١) قاد مظاهرة عابدين السلمية فى ٩ سبتمبر ١٨٨١ م . [البحيرة ٢٠١٦]
- (٢) رفض مد امتياز شركة قناة السويس عام ١٩١٠ م . [القليوبية ٢٠١٦]
- (٣) زعيم وطنى نفاه الإنجليز إلى جزيرة مالطة . [الإسكندرية ٢٠١٦]
- (٤) أنشأ الحزب الوطنى ١٩٠٧ م وأدى كفاحه إلى عزل اللورد كرومر . [بورسعيد ٢٠١٥]
- (٥) دعا إلى تأسيس حكومة وطنية مستقلة . [دمياط ٢٠١٥]

السؤال الخامس : بم تفسر ؟

- (١) اندلاع ثورة ١٩١٩ م . [البحر الأحمر - السويس ٢٠١٥]
- (٢) قيام الثورة العرابية . [جنوب سيناء ٢٠١٦]
- (٣) مؤتمر الصلح فى باريس ١٩١٩ م خيب آمال المصريين . [الإسكندرية ٢٠١٦]
- (٤) تفضيل محمد فريد مد الحركة الوطنية إلى أوروبا . [القليوبية ٢٠١٥]
- (٥) اعتبار ثورة ١٩١٩ ثورة شعبية . [كفر الشيخ ٢٠١٦]

السؤال السادس : ما النتائج المترتبة على ؟

- (١) إنشاء بنك مصر . [كفر الشيخ ٢٠١٦]
- (٢) معركة التل الكبير فى سبتمبر ١٨٨٢ م . [الشرقية - أسوان ٢٠١٦]
- (٣) تصريح ٢٨ فبراير ١٩٢٢ م . [البحيرة ٢٠١٥]
- (٤) حادثة دنشواى . [القاهرة ٢٠١٥]
- (٥) نفى سعد زغول إلى جزيرة سيشل بالمحيط الهندى . [القليوبية ٢٠١٦]

السؤال السابع : ضع أمام كل سنة من السنوات الآتية حدثًا تاريخيًا :

- (١) ١٩٢٤ م : [أسيوط ٢٠١٦]
- (٢) ١٨٨١ م : [أسوان ٢٠١٥]
- (٣) ١٩٢٢ م : [سوهاج ٢٠١٦]
- (٤) ١٩٠٤ م : [المنيا ٢٠١٥]
- (٥) ١٩٢٠ م : [الجيزة ٢٠١٥]

السؤال الثامن : (أ) قارن بين كلاً من :

- (١) موقف فرنسا من القضية المصرية قبل وبعد عام ١٩٠٤ م . [الفيوم ٢٠١٥]
- (٢) معركة كفر الدوار ومعركة التل الكبير من حيث النتائج . [المنيا ٢٠١٥]

(ب) رتب الأحداث التاريخية :

- (إنشاء بنك مصر - صدور تصريح ٢٨ فبراير - الاحتلال البريطانى لمصر - مظاهرة عابدين السلمية - نفى سعد زغول إلى جزيرة مالطة) [مطروح ٢٠١٥]



اختبار عام (١) على الوحدة الثالثة



س ١ : اكتب كلمة (صح) أمام العبارة الصحيحة وكلمة (خطأ) أمام العبارة الخطأ :

- (١) أدت الامتيازات الأجنبية إلى التدخل في شئون مصر. ()
 (٢) نفى أحمد عرابي في مارس ١٩١٩ م إلى جزيرة مالطة. ()
 (٣) مد محمد فريد نشاط الحركة الوطنية إلى أوروبا. ()
 (٤) اشترك العمال والفلاحين والطلبة في ثورة ١٩١٩ م. ()

س ٢ : أكمل ما يأتي :

- (١) أصدرت بريطانيا تصريح واعترفت فيه ب
 (٢) استطاع طلعت حرب تأسيس
 (٣) ازداد التدخل الأجنبي في مصر نتيجة و
 (٤) تولى الإمام محمد عبده رئاسة تحرير اتخذها منبراً لتأييد

س ٣ : صل من العمود (أ) ما يناسب العمود (ب) :

العمود (أ)	العمود (ب)
(١) طلعت حرب	() - قاد مظاهرة عابدين السلمية.
(٢) سعد زغلول	() - شكل الوفد المصري للمطالبة للسفر إلى باريس.
(٣) محمد فريد	() - عمل على استقلال مصر اقتصادياً.
(٤) أحمد عرابي	() - خلف مصطفى كامل في رئاسة الحزب الوطنى.

س ٤ : اكتب ما تشير إليه كل عبارة مما يأتي :

- (١) أحد مدن محافظة البحيرة ولم يتمكن الإنجليز من دخول مصر عن طريقها .
 (٢) خديو قامت ضده مظاهرة عابدين السلمية فى ٩ سبتمبر ١٨٨١ م .
 (٣) اتفاق نص على إطلاق يد إنجلترا فى حكم مصر و إطلاق يد فرنسا فى حكم المغرب
 (٤) تشكيل أول حكومة دستورية فى مصر عام ١٩٢٤ م .

س ٥ : بم تفسر ؟

- (١) قيام ثورة ١٩١٩ م .
 (٢) دور الإمام محمد عبده أثناء الثورة العرابية .
 (٣) ازدياد التدخل الأجنبي فى شئون مصر .
 (٤) النفاق الشعب والجيش حول أحمد عرابي .
 (٥) عزل اللورد كرومر من منصبه عام ١٩٠٦ م .



س ١ : اكتب كلمة (صح) أمام العبارة الصحيحة وكلمة (خطأ) أمام العبارة الخطأ :

- (١) قام مصطفى كامل بتأسيس جريدة الأهرام . ()
- (٢) أسس طلعت حرب بنك مصر برؤوس أموال مصرية. ()
- (٣) قاد محمد عبيد مظاهرة عابدين السلمية عام ١٨٨١ م . ()
- (٤) التحق أحمد عرابي بالجيش المصري فى عهد الخديو توفيق . ()

س ٢ : أكمل ما يأتى :

- (١) أعلنت إنجلترا فى ديسمبر ١٩١٤ م .
- (٢) فى مارس ١٩١٩ م ألقى القبض على
- (٣) أصدرت بريطانيا تصريح واعترفت فيه
- (٤) احتلت القوات البريطانية القاهرة بعد معركة

س ٣ : اختر الإجابة الصحيحة مما بين القوسين فيما يلى :

- (١) من زعماء الإصلاح واتخذ من صحيفة الوقائع المصرية منبرًا لتأييد العربيين..... (الإمام محمد عبده - محمود سامى البارودى - على الروبى)
- (٢) تأسيس أول بنك وطنى فى مصر عام (١٩١٤ - ١٩١٨ - ١٩٢٠ - ١٩٢٣)
- (٣) عقد الاتفاق الودى بين إنجلترا وفرنسا عام...م . (١٩٠٤ - ١٩٠٦ - ١٩٠٨)
- (٤) عمل الزعيم سعد زغول محررًا فى جريدة (الأهرام - المؤيد - الوفد - الوقائع المصرية)

س ٤ : اكتب ما تشير إليه كل عبارة من العبارات الآتية :

- (١) مجموعة من المبادئ والقواعد التى تحدد نظام الحكم .
- (٢) رفض مد امتياز قناة السويس عام ١٩١٠ م .
- (٣) معتمد بريطانى عزل من منصبه بعد حادثة دنشواى .
- (٤) معركة هُزم فيها عرابي وأدت إلى احتلال إنجلترا لمصر .

س ٥ : بم تفسر ؟

- (١) الصدام بين أعضاء الوفد المصرى وسلطات الاحتلال البريطانى .
- (٢) قيام الثورة العرابية عام ١٨٨١ م .
- (٣) مد محمد فريد نشاط الحركة الوطنية إلى أوروبا .
- (٤) أهمية إنشاء بنك مصر .

الوحدة الرابعة < الأهداف

التحولات السياسية

والاقتصادية والاجتماعية

في مصر خلال الفترة من ١٩٥٢م إلى ٣٠ يونيو ٢٠١٣م

ثورة ٢٣ يوليو ١٩٥٢ م

الدرس الأول

في نهاية هذا الدرس يتوقع أن يكون التلميذ قادراً على أن :

- ١- يصف أحوال مصر قبل ثورة يوليو ١٩٥٢ م .
- ٢- يفسر أسباب ثورة يوليو ١٩٥٢ م .
- ٣- يبدي رأيه في مبادئ ثورة يوليو ١٩٥٢ م .
- ٤- يستنتج ما ترتب على الثورة في المجال السياسي والاجتماعي والاقتصادي .
- ٥- يحدد أسباب العدوان الثلاثي على مصر ١٩٥٦ م .
- ٦- يستنتج أسباب فشل العدوان الثلاثي على مصر .
- ٧- يقدر دور الشعب المصري في نجاح ثورة يوليو ١٩٥٢ م .

حرب أكتوبر (ملحمة العبور) ١٩٧٣ م

الدرس الثاني

في نهاية هذا الدرس يتوقع أن يكون التلميذ قادراً على أن :

- ١- يتعرف أحوال مصر قبل حرب أكتوبر ١٩٧٣ م .
- ٢- يحدد الأسباب التي أدت إلى حرب أكتوبر ١٩٧٣ م .
- ٣- يصف أحداث حرب أكتوبر على الجبهة المصرية .
- ٤- يستنتج عوامل نجاح حرب أكتوبر ١٩٧٣ م .
- ٥- يستخلص أهم نتائج حرب أكتوبر ١٩٧٣ م وانعكاسها على المجتمع المصري .
- ٦- يقدر كفاح الشعب المصري لتحرير أراضيه .

ثورتا ٢٥ يناير ٢٠١١ م و ٣٠ يونيو ٢٠١٣ م

الدرس الثالث

في نهاية هذا الدرس يتوقع أن يكون التلميذ قادراً على أن :

- ١- يتعرف أسباب ثورة ٢٥ يناير ٢٠١١ م .
- ٢- يتعرف أهداف ثورة ٢٥ يناير ٢٠١١ م .
- ٣- يعتز بمصريته ويتعايش مع الآخرين .
- ٤- يربط بين حقوق الإنسان وقيام ثورة ٢٥ يناير ٢٠١١ م .
- ٥- يهتم بتعلم الوسائل التكنولوجية الحديثة .
- ٦- يبدي رأيه في دور اللجان الشعبية أثناء ثورة ٢٥ يناير ٢٠١١ م .
- ٧- يقدر أهمية الوحدة الوطنية والتلاحم بين فئات الشعب المصري من أجل القضاء على الظلم والفساد .

مقدمة الوحدة

إن سوء الأحوال الاقتصادية والاجتماعية والسياسية في أي دولة يدفع شعبها إلى الثورة لتصحيح الأوضاع السيئة ؛ فقد قام الشعب المصري بعدة ثورات على مر التاريخ للتخلص من الفساد والظلم فكانت ثورة ١٩٥٢ م ، وخاضت مصر بعدها عدة حروب انتهت بانتصار الجيش المصري في حرب أكتوبر المجيدة ١٩٧٣ م ، ثم عمت البلاد فترة من الهدوء والاستقرار السياسي حتى ساءت أحوال البلاد في كافة نواحي الحياة ؛ فهب الشعب بثورتي ٢٥ يناير ٢٠١١ م ، و ٣٠ يونيو ٢٠١٣ م ، وهذا ما سنتعرف عليه خلال هذه الوحدة .

الدرس الأول

ثورة ٢٣ يوليو ١٩٥٢ م

كسأت أحوال مصر الاقتصادية والسياسية والاجتماعية فى ظل الاحتلال البريطانى

وفساد الحكام مما أدى إلى تدمير الضباط وتأسيس تنظيم الضباط الأحرار الذى

قاد ثورة ٢٣ يوليو ١٩٥٢ م.



صورة لمجلس قيادة الثورة

- تنظيم الضباط الأحرار :

هم مجموعة من الضباط المعروفين بوطنيتهم تجمعهم أهداف مشتركة ، وأسسه جمال عبد الناصر .

أسباب ثورة ٢٣ يوليو ١٩٥٢ م

سياسية ، وتتمثل فى : الاحتلال البريطانى لمصر وفساد الحكام.

اقتصادية ، وتتمثل فى : ارتفاع الأسعار وانخفاض الدخل وانتشار الفقر.

اجتماعية ، وتتمثل فى : ١- سوء توزيع الثروات وغياب العدالة الاجتماعية.

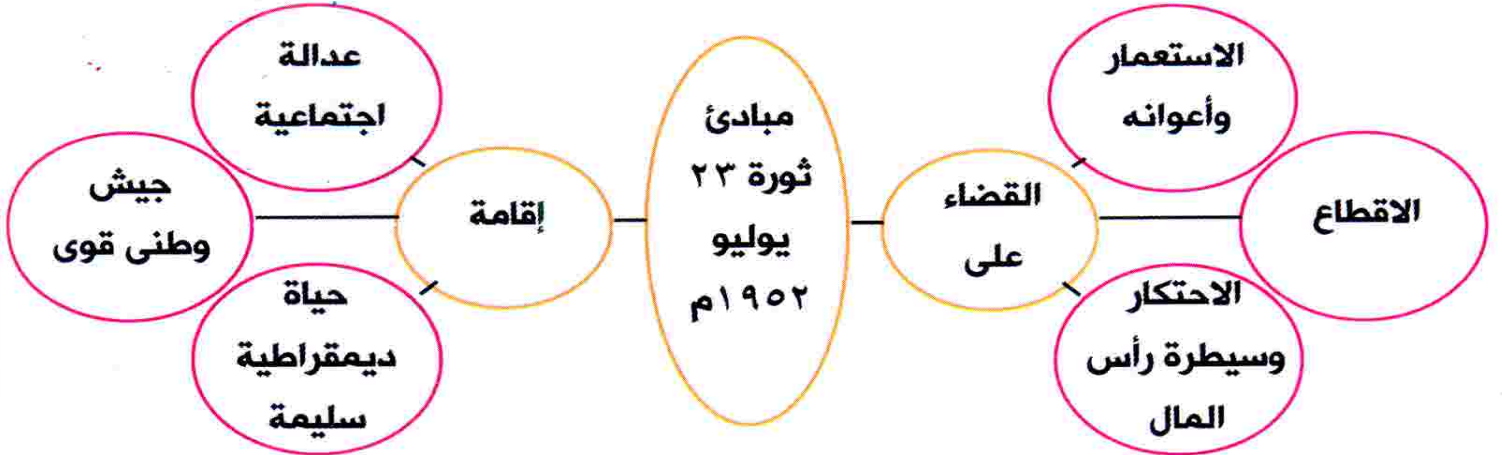
٢- انتشار الجهل والمرض .



مبادئ (أهداف) ثورة ٢٣ يوليو ١٩٥٢ م .



١- القضاء على الاستعمار وأعوانه .	٤- إقامة عدالة اجتماعية .
٢- القضاء على الاقطاع .	٥- إقامة جيش وطنى قوى .
٣- القضاء على الاحتكار وسيطرة رأس المال .	٦- إقامة حياة ديمقراطية سليمة .



عدالة اجتماعية : هى توزيع الثروات القومية بين المواطنين توزيعاً عادلاً .

نتائج ثورة ٢٣ يوليو ١٩٥٢ م (أهم إنجازات الثورة) :

نجحت ثورة ٢٣ يوليو فى تحقيق العديد من الإنجازات ، أهمها :



طرفى اتفاقية الوحدة بين مصر وسوريا ١٩٥٨ م

- ١- عقد اتفاقية الجلاء بين مصر وبريطانيا فى أكتوبر ١٩٥٤ م .
- ٢- إلغاء النظام الملكى وإعلان الجمهورية فى يونيو ١٩٥٣ م .
- ٣- تأميم شركة قناة السويس فى يوليو ١٩٥٦ م ، وتمصير الشركات والبنوك .

التأميم يعنى تحويل الملكية من ملكية خاصة إلى ملكية عامة للشعب

٤- إقامة وحدة بين مصر وسوريا فى عام ١٩٥٨ م ولكنها لم تدم طويلاً .



السد العالى

- ٥- الاهتمام بالكليات العسكرية وتنوع مصادر الإعداد والتسليح .
- ٦- إصدار قانون الإصلاح الزراعى فى سبتمبر ١٩٥٢م
والذى نص على تحديد ملكية الأراضى الزراعية .
- ٧- مساندة معظم حركات التحرر الوطنى فى آسيا وإفريقيا
ومن أبرزها ثورة الجزائر .
- ٨- بناء الصناعة الثقيلة مثل مصنع الحديد والصلب بحلوان .
- ٩- بدأ العمل فى بناء السد العالى على نهر النيل وتم افتتاحه عام ١٩٧١م .

معلومات إثرائية



١- تم إصدار قانون الإصلاح الزراعى الأول (سبتمبر ١٩٥٢م) الذى حدد الملكية الزراعية بـ ٢٠٠ فدان وتم توزيع باقى الأراضى الزراعية على الفلاحين المعدومين ، وقد تبعه إصدار قوانين أخرى خفضت الملكية الزراعية حتى وصلت إلى ٥٠ فدان .



اتفاقية الجلاء ١٩ أكتوبر ١٩٥٤م

٢- وقعت اتفاقية الجلاء فى ١٩ أكتوبر ١٩٥٤م ، على أن يكون الجلاء عن مصر خلال ٢٠ شهراً من توقيع الاتفاقية ، ورحلت القوات البريطانية فى ١٨ يونيو ١٩٥٦م بعد احتلال دام ٧٤ عاماً ، وأصبح هذا اليوم عيداً للجلاء .



العدوان الثلاثى على مصر



- تأمرت كل من (إنجلترا وفرنسا وإسرائيل)
وقيامهم بالاعتداء على مصر



فى أكتوبر ١٩٥٦م. **بم تفسر**

ج/ بسبب إعلان مصر تأميم شركة قناة السويس (يوليو ١٩٥٦م).

أسباب فشل العدوان الثلاثى على مصر




١- تلاحم الجيش والشعب بجانب قيادته
السياسية لصد العدوان .

٢- تضامن الشعوب العربية بجانب مصر .

٣- معارضة الاتحاد السوفيتى (روسيا حالياً)

للعدوان وتهديده بالتدخل العسكرى .




أثار العدوان الثلاثى على مدينة بورسعيد

معلومة إثرائية

- شاركت فرنسا فى العدوان الثلاثى نتيجة مساندة مصر للثورة الجزائرية ،
بينما شاركت إسرائيل لأطماعها الاستعمارية فى المنطقة العربية .

العدوان الإسرائيلى على مصر فى يونيو ١٩٦٧م



قامت إسرائيل بالعدوان على مصر بدعم من الولايات المتحدة الأمريكية



فى ٥ يونيو ١٩٦٧م. **بم تفسر**

ج/ وذلك بسبب :

١- نجاح مصر فى مناصرة حركات التحرر الوطنى فى آسيا وإفريقيا.

٢- رغبة إسرائيل فى القضاء على زعامة مصر للعالم العربى .

انتهى العدوان الإسرائيلى بهزيمة مصر واحتلال شبه جزيرة سيناء .



اختبر معلوماتك

س ١ : اكتب كلمة (صح) أمام العبارة الصحيحة وكلمة (خطأ) أمام العبارة الخطأ :

- (١) تم تأميم شركة قناة السويس في ٢٣ يوليو ١٩٥٢ م. ()
- (٢) نجحت ثورة يوليو في إصدار قانون الإصلاح الزراعي. ()
- (٣) تم جلاء القوات البريطانية عن مصر عام ١٩٥٢ م. ()
- (٤) من أسباب العدوان الإسرائيلي على مصر نجاح مصر في مناصرة حركات التحرر في آسيا وإفريقيا. ()

س ٢ : أكمل ما يأتي :

- (١) بتأميم قناة السويس تم القضاء على
- (٢) من نتائج ثورة ٢٣ يوليو ١٩٥٢ م و
- (٣) من أسباب فشل العدوان الثلاثي على مصر و
- (٤) تم افتتاح في عام ١٩٧١ م.

س ٣ : اكتب ما تشير إليه كل عبارة من العبارات الآتية :

- (١) قانون أصدرته ثورة ٢٣ يوليو ١٩٥٢ م للقضاء على الاقطاع.
- (٢) اتفاقية وقعت بين بريطانيا ومصر في أكتوبر ١٩٥٤ م.
- (٣) قاد تنظيم الضباط الأحرار الذين قاموا بثورة ٢٣ يوليو ١٩٥٢ م.
- (٤) اعتداء كل من إنجلترا وفرنسا وإسرائيل على مصر في أكتوبر ١٩٥٦ م.

س ٤ : بم تفسر...؟

- (١) توقيع مصر اتفاقية الجلاء مع بريطانيا.
- (٢) العدوان الإسرائيلي على مصر.
- (٣) لثورة يوليو ١٩٥٢ م أسباب اقتصادية.
- (٤) العدوان الثلاثي على مصر.

س ٥ : رتب الأحداث التاريخية الآتية طبقاً لزمان حدوثها :

- تأميم شركة قناة السويس.
- صدور قانون الإصلاح الزراعي.
- العدوان الإسرائيلي على مصر.
- العدوان الثلاثي على مصر.
- بناء السد العالي.
- الوحدة بين مصر وسوريا.

الدرس الثاني

حرب أكتوبر (ملحمة العبور) ١٩٧٣ م

أصر الشعب المصري وقيادته السياسية على محو آثار هزيمة ٥ يونيو ١٩٦٧ م ، فكان انتصار أكتوبر العظيم.

نتائج العدوان الإسرائيلي على مصر والدول العربية ١٩٦٧ م



- بعد هزيمة ٥ يونيو ١٩٦٧ م لم تستسلم مصر ، بل ازداد أبنائها عزيمة وإصراراً ، فقامت مصر بإعادة تنظيم وتسليح وتدريب قواتها المسلحة وفق أسس وتخطيط علمي دقيق ، من أجل استرداد أرضها والتي تتمثل في :
- شبه جزيرة سيناء والضفة الشرقية لقناة السويس من مصر.
 - هضبة الجولان السورية من سوريا.
 - الضفة الغربية لنهر الأردن من الأردن.
 - القدس الشرقية من فلسطين.

مصر قبل حرب أكتوبر ١٩٧٣ م (حرب الاستنزاف)



شهدت مصر بعد حرب ١٩٦٧ م حرباً تسمى حرب الاستنزاف استطاع فيها الجيش المصري أن يلحق إسرائيل درساً قوياً.

حرب الاستنزاف : هي غارات متقطعة قامت بها مصر بعد حرب ١٩٦٧ م وحتى عام ١٩٧٣ م لاستنزاف قوة العدو العسكرية.



لجأت إسرائيل إلى إقامة سلسلة تحصينات عسكرية منيعة أمام الجبهة المصرية أهمها **خط بارليف والساتر الترابي** .

خط بارليف : هو مجموعة من التحصينات العسكرية المتجاورة والمنتظمة

التي أقامتها إسرائيل على طول خط قناة السويس أمام الجبهة المصرية.

معلومة إثرائية

الفريق أول عبد المنعم رياض :



الفريق أول / عبد المنعم رياض

كان من أبرز شهداء حرب الاستنزاف الذي استشهد وسط قواته على خط الجبهة ضارباً أروع الأمثلة في الدفاع عن الوطن .

أسباب حرب أكتوبر ١٩٧٣ م



- ١- رفض إسرائيل مفاوضات التسوية السلمية واستمرار احتلالها للأراضي العربية.
- ٢- تحرير الأراضي العربية التي احتلتها إسرائيل في حرب يونيو ١٩٦٧م وإزالة آثار العدوان .
- ٣- إنهاء حالة اللاحرب واللاسلم التي فرضت على المنطقة .
- ٤- رد كرامة الجندي المصري والعربي .
- ٥- إعادة الملاحة البحرية في قناة السويس .

حرب أكتوبر

أحداث حرب أكتوبر ١٩٧٣ م



إزاء تعنت إسرائيل قررت مصر الدخول في حرب لاسترداد أراضيها المحتلة ، وتم التنسيق بين الجيشين المصري والسوري بإعادة بناء قواتهما وإعداد خطط الحرب في سرية تامة .

قد اتخذ الرئيس محمد أنور السادات قرار العبور في حرب أكتوبر .

وفي تمام الساعة الثانية بعد ظهر السادس من أكتوبر ١٩٧٣م ، العاشر من رمضان ١٣٩٣هـ ، فوجئ العالم ببدء القتال على الجبهتين المصرية والسورية.



(١) تمكنت القوات المسلحة المصرية من :

(أ) تدمير مواقع العدو الإسرائيلي في سيناء وإحداث خسائر جسيمة بها.

(ب) إزالة الساتر الترابي وعبور وحدات الجيش المصري من خلاله إلى سيناء.

(ج) تحطيم تحصينات خط بارليف المنيع،

مما أربك العدو وأفقده السيطرة على قواته.

(٢) تدخلت الدول الكبرى: وتم إصدار قرار مجلس

الأمن الدولي رقم ٣٣٨ بوقف إطلاق النار،

ووافقت عليه كلا من مصر وإسرائيل.

👉 التزمت مصر بالقرار ولم تلتزم إسرائيل ، وحاولت اقتحام مدينة السويس ولكنها فشلت بفضل تعاون الشعب مع القوات المسلحة.

👉 عاد مجلس الأمن وأصدر القرار الثاني رقم ٣٤٠ الذى نص على :-

(وقف إطلاق النار وجميع الأعمال الحربية بين الطرفين وعودة القوات المتحاربة

إلى ما كانت عليه يوم ٢٢ أكتوبر ١٩٧٣م وإنشاء قوة دولية للمراقبة) .

👉 انتهت الحرب يوم ٢٨ أكتوبر ١٩٧٣م واجتمع الفريق المصرى والإسرائيلى

لبداء مباحثات تنفيذ قرار مجلس الأمن.

معلومات إثرائية

١- اجتمعت الدول العربية المنتجة للبترول فى مؤتمر القمة بالقاهرة ووافقت بالاجماع على استخدام البترول كسلاح فى المعركة ، الأمر الذى كان له أثر عظيم ومكمل للعمل العسكرى حيث جعل الدول الصناعية الكبرى تدرك أن العرب قوة لا يستهان بها .

٢- شاركت العديد من الدول العربية ببعض قواتها العسكرية فى المعركة.



عوامل نجاح حرب أكتوبر ١٩٧٣ م :



نتائج حرب أكتوبر ١٩٧٣ م



- ١- تغيير نظرة العالم للجيش المصري وانهاره بأدائه العسكري تخطيطاً وتنفيذاً .
- ٢- القضاء على أسطورة التفوق المطلق للجيش الإسرائيلي (الجيش الذي لا يقهر) .
- ٣- استعادة مصر دورها الرائد في المنطقة العربية ، واحترام العالم للمصريين .
- ٤- عودة الملاحة بقناة السويس تحت السيادة المصرية الكاملة في يونيو ١٩٧٥ م .
- ٥- ظهور أهمية التضامن ووحدة الصف العربي .
- ٦- كسر حاجز الخوف واستعادة الشعب المصري ثقته بنفسه .
- ٧- توقيع اتفاقية السلام في مارس ١٩٧٩م بين مصر وإسرائيل لاستعادة أراضيها المحتلة بسيناء عن طريق المفاوضات .



معلومات إثرائية

- ١- أشادت عديد من القيادات العسكرية بالدور الاستخباراتي لأهل بدو سيناء لصالح الأمن العسكري والقومي لمصر وذلك بحرب الاستنزاف وحرب أكتوبر ١٩٧٣م .
- ٢- يطلق على حرب أكتوبر ١٩٧٣ م اسم :
 (حرب العاشر من رمضان ١٣٩٣هـ) عند المصريين .
 (حرب تشرين) عند السوريين .
 (حرب يوم الغفران) (كيبور) عند الإسرائيليين .
- ٣- تعد حرب أكتوبر الجولة الرابعة من جولات الصراع العربي الإسرائيلي ، حيث كانت الجولة الأولى حرب ١٩٤٨م و الثانية حرب ١٩٥٦م والثالثة حرب ١٩٦٧م .



اختبر معلوماتك

السؤال الأول : أكمل العبارات الآتية بما يناسبها :

- ١- أقامت إسرائيل عدة تحصينات أمام الجيش المصرى منها و
- ٢- من أسباب قيام حرب أكتوبر ١٩٧٣ م و
- ٣- من نتائج حرب أكتوبر و
- ٤- يطلق على حرب أكتوبر اسم عند المصريين و عند السوريين .
- ٥- وقفت الدول بجانب مصر وسوريا ،
واستخدمت سلاح فى المعركة .

السؤال الثانى : اكتب كلمة (صح) أو كلمة (خطأ) أمام العبارات الآتية :

- ١- احتلت إسرائيل الضفة الغربية لقناة السويس بعد عدوان ١٩٦٧ م . ()
- ٢- ساعدت بعض الدول العربية مصر فى حرب ١٩٧٣ م . ()
- ٣- التزمت كل من مصر وإسرائيل بقرار مجلس الأمن رقم ٣٣٨ . ()
- ٤- غيرت حرب أكتوبر نظرة العالم للجيش المصرى . ()
- ٥- الفريق أول عبد المنعم رياض من أبرز شهداء حرب الاستنزاف . ()

السؤال الثالث : بم تفسر... ؟

- ١- فشل إسرائيل فى اقتحام مدينة السويس .
- ٢- نجح الجيش المصرى فى عبور قناة السويس فى حرب أكتوبر ١٩٧٣ م .
- ٣- تغير نظرة العالم تجاه الجيش المصرى بعد حرب أكتوبر ١٩٧٣ م .
- ٤- صدور قرار مجلس الأمن رقم ٣٤٠ .

السؤال الرابع : (أ) وضع ما المقصود بالمصطلحات الآتية ؟

- ١- خط بارليف .
- ٢- حرب الاستنزاف .

(ب) دلل على صحة العبارات الآتية:

- ١- عدم التزام إسرائيل بقرارات مجلس الأمن .
- ٢- نجح الجندى المصرى فى كسر حاجز الخوف .
- ٣- العرب قوة إذا اتحدوا .

السؤال الخامس : ما النتائج المترتبة على ؟

- ١- انتصار السادس من أكتوبر ١٩٧٣ م .
- ٢- وقوف الدول العربية بجانب مصر فى حرب أكتوبر ١٩٧٣ م .

الدرس الثالث

ثورتا ٢٥ يناير ٢٠١١م، و ٣٠ يونيو ٢٠١٣م

من حقا أن تفخر بمصريتك ، وبانتمائك لهذا الوطن ، فقد قام الشعب المصرى بثورة من أهم الثورات الشعبية فى التاريخ ، وهى ثورة ٢٥ يناير ٢٠١١م والتي بدأها الشباب وقام بها الشعب وحمتها القوات المسلحة .

أحوال مصر قبل ثورة ٢٥ يناير ٢٠١١م



- ➔ بعد اغتيال الرئيس السادات تولى نائبه محمد حسنى مبارك الحكم فى مصر واستمر حكمه للبلاد من ١٩٨١م حتى ١١ فبراير ٢٠١١م.
- ➔ شهدت هذه الفترة أحداثاً مهمة ، منها : مشروعات البنية التحتية وإنشاء مترو الأنفاق إلى جانب التوسع فى إنشاء المدارس والمدن الجديدة .
- ➔ ساءت أحوال مصر بسبب العديد من التجاوزات والأخطاء فى مختلف المجالات.

أسباب الثورة

كان للثورة أسباب عديدة منها :

أولاً : سوء الأوضاع الاقتصادية والاجتماعية والسياسية والتعليمية والصحية.

ثانياً : انتشار الفساد فى جميع مؤسسات الدولة.

ثالثاً : تزوير انتخابات مجلسى الشعب والشورى عام ٢٠١٠م ، وسيطرة الحزب

الوطنى الحاكم على أغلبية مقاعدهما وخلوهما من الأحزاب المعارضة الحقيقية.



أهداف الثورة

كان لثورة ٢٥ يناير مجموعة من الأهداف العامة ، تمثلت في :

(الكرامة - الحرية - العدالة الاجتماعية للمواطن)

وكان شعار الثورة : (عيش ، حرية ، عدالة اجتماعية) .

حزب سياسي :

هو مجموعة منظمة من الأعضاء تشترك في وضع برامج محددة لتحسين شئون الدولة سياسياً واقتصادياً واجتماعياً وذلك من خلال المشاركة في مسئوليات الحكم .

أحداث الثورة



- ♦ انتشار دعوات الشباب على شبكات التواصل الاجتماعي (**الفييس بوك**) و (**تويتر**) للخروج للتظاهر السلمى فى جميع ميادين مصر يوم ٢٥ يناير ٢٠١١ م .
- ♦ تلاحم قوى الشعب المختلفة ومشاركة الملايين فى محافظات مصر .
- ♦ اشتعال المظاهرات فى ميدان التحرير والميادين العامة للمحافظات .
- ♦ قطع النظام الحاكم جميع وسائل التواصل الاجتماعي (**التليفون - الإنترنت**) .
- ♦ استخدام العنف ضد المتظاهرين .
- ♦ سوء الحالة الأمنية بالمجتمع مما شجع على اقتحام السجون و فرار المسجونين .



- ◆ نزول القوات المسلحة إلى الشوارع والبياديين العامة لحماية ممتلكات الدولة والمنشآت العامة.
- ◆ تشكيل المواطنين لجان شعبية للمساهمة في حماية المواطنين والمنازل والمؤسسات العامة.
- ◆ إسقاط الرئيس والنظام الحاكم.

وقد ساعد على نجاح ثورة ٢٥ يناير ٢٠١١ م :

اطمئنان الجماهير إلى موقف القوات المسلحة المؤيد لمطالبهم .

ما تم تحقيقه من إنجازات لثورة ٢٥ يناير ٢٠١١ م :

- ١- إسقاط النظام السياسى ، ووضع الخطة الزمنية لإجراء انتخابات رئاسة الجمهورية ووضع دستور جديد .
- ٢- حل مجلسى الشعب والشورى .
- ٣- الإفراج عن المعتقلين والمسجونين السياسيين.
- ٤- تأكيد وترسيخ الإحساس بالمواطنة والتأكيد على الوحدة الوطنية بين المسلمين والمسيحيين .
- ٥- ارتفاع الوعي السياسى لدى الشعب المصرى والمطالبة بحقوقه واحترام حقوق الإنسان.





ثورة ٣٠ يونيو ٢٠١٣ م



نتيجة عدم تحسن الأحوال السياسية والاقتصادية والاجتماعية بعد تولى محمد مرسى الحكم تجمع الشعب مرة أخرى وقام بثورة جديدة فى ٣٠ يونيو ٢٠١٣ م.

أسباب ثورة ٣٠ يونيو

- ١- استمرار سوء الأحوال الاقتصادية والاجتماعية والسياسية .
- ٢- لم تقدم السياسات الجديدة حلولاً للمشكلات التى يعانى منها غالبية الشعب المصرى .
- ٣- ازدياد الأصوات المعارضة للحكم والمطالبة بإجراء انتخابات رئاسية مبكرة .



أحداث ثورة ٣٠ يونيو ٢٠١٣ م



تزايدت أعداد المعارضين ، وقامت المظاهرات وحدثت اشتباكات بين المؤيدين والمعارضين لحكم محمد مرسى .

تدخلت القوات المسلحة حفاظاً على الأمن العام ودعت إلى قيام مصالحة حقيقية بين الرئيس محمد مرسى والمعارضة خلال أسبوع .



ج / لحماية مصر وشعبها .

رفض محمد مرسى الموافقة على إجراء انتخابات رئاسية مبكرة وكذلك رفضت المعارضة دعوته إلى الحوار .

تجمعت أعداد هائلة من الشعب فى الشوارع والميادين فى ثورة جديدة يوم ٣٠ يونيو مطالبة بالتغيير .

عدلى منصور



نتائج ثورة ٣٠ يونيو ٢٠١٣ م



عزل الرئيس محمد مرسى وتسليم السلطة إلى المستشار (عدلى منصور) رئيس المحكمة الدستورية العليا لحين إجراء انتخابات رئاسية مبكرة.

تعديل دستور ٢٠١٢ م و صدور الدستور الجديد يناير ٢٠١٤م.

عقدت انتخابات الرئاسة وإعلان فوز المرشح عبد الفتاح السيسى.

بدأت فترة جديدة من تاريخ مصر لتحقيق آمال وطموحات الشعب المصرى فى حياة جديدة ينعم فيها بالديمقراطية والتقدم والرخاء.

اختبر معلوماتك

س ١ : أكمل ما يأتى :

- ١- من نتائج ثورة ٢٥ يناير الإفراج
- ٢- بدأت الثورة من ميدان بوسط القاهرة.
- ٣- طالب متظاهرو ثورة يناير بإسقاط وحل مجلسى و
- ٤- استخدم الشباب التكنولوجيا المتطورة وهى فى تنظيم الثورة.
- ٥- من أهم أحداث ثورة ٣٠ يونيو حدوث اشتباكات بين و

س ٢: اكتب كلمة (صح) أو كلمة (خطأ) أمام العبارات الآتية:

- ١- قام الشباب المصرى بالتظاهر يوم ٢٥ يناير ٢٠١١م. ()
- ٢- ساهم تدنى الأحوال السياسية والاقتصادية والاجتماعية فى قيام الثورة. ()
- ٣- استجاب النظام السياسى لمطالب الشباب يوم ٢٥ يناير ٢٠١١م. ()
- ٤- تلاحم الجيش مع الشعب المصرى من مميزات ثورة ٢٥ يناير ٢٠١١م. ()
- ٥- انتشار الفساد فى جميع مؤسسات الدولة من أسباب ثورة ٢٥ يناير. ()
- ٦- عقدت انتخابات الرئاسة بعد عزل محمد مرسى وأعلنت فوز عدلى منصور. ()



س ٣ : اكتب ما تشير إليه كل عبارة من العبارات الآتية :

- ١- مجموعة منظمة من الأعضاء تشترك في وضع برامج محددة لتحسين شئون الدولة سياسياً واقتصادياً .
- ٢- أحد الأحزاب السياسية الذي سيطر على أغلبية مقاعد مجلس الشعب قبل ثورة ٢٥ يناير .
- ٣- قام الشعب بتشكيلها للدفاع عن المنازل والمؤسسات العامة .
- ٤- أحد الوسائل التكنولوجية المتطورة الذي استخدمه الشباب في تنظيم ثورة ٢٥ يناير .
- ٥- أول رئيس منتخب بعد ثورة ٣٠ يونيو ٢٠١٣ م .

س ٤ : ما النتائج المترتبة على ؟

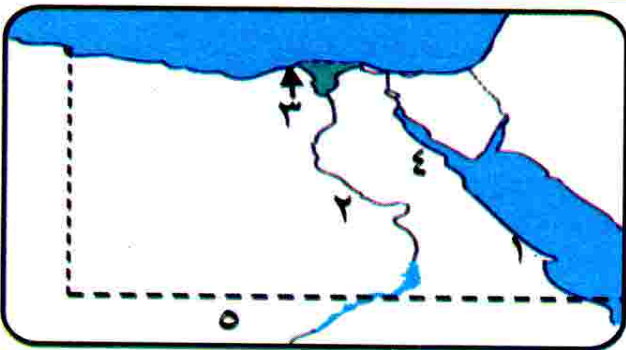
- ١- قيام ثورة يناير ٢٠١١ م .
- ٢- تلاحم الشباب والشعب في كل محافظات مصر .
- ٣- استمرار سوء الأحوال الاقتصادية والاجتماعية والسياسية بعد ثورة ٢٥ يناير .
- ٤- تدخل الجيش أثناء ثورة ٣٠ يونيو ٢٠١٣ م .

س ٥ : بم تفسر ؟

- ١- تكوين اللجان الشعبية في جميع أنحاء الجمهورية أثناء ثورة ٢٥ يناير .
- ٢- قيام ثورة ٢٥ يناير ٢٠١١ م المجيدة .
- ٣- نزول القوات المسلحة وانتشارها أثناء ثورة ٢٥ يناير ٢٠١١ م .
- ٤- أسباب ثورة ٣٠ يونيو ٢٠١٣ م .

تذكر الوحدة الأولى والثانية والثالثة

س ١ : أمامك خريطة صماء لمصر ، اكتب مدلول الأرقام التالية :



- ١- جبال
- ٢- نهر
- ٣- مدينة مليونية
- ٤- خليج
- ٥- دولة



س ٢ : أكمل ما يأتى :

- ١- توجد البيئة الصحراوية فى مصر فى و و
- ٢- تهب على مصر فى شهرى مارس وأبريل رياح
- ٣- تعد بحيرة أولى البحيرات إنتاجًا للأسماك فى مصر .
- ٤- من أهم حقول الغاز الطبيعى فى البيئة الساحلية حقل
- ٥- قاد أحمد عرابى مظاهرة يوم ٩ سبتمبر ١٨٨١ م .
- ٦- عقد بين إنجلترا وفرنسا فى عام ١٩٠٤ م ما يعرف بـ

س ٣ : اكتب كلمة (صح) أمام العبارة الصحيحة وكلمة (خطأ) أمام العبارة الخطأ :

- ١- تؤدى حركة الرمال إلى ردم الآبار وزيادة التصحر . ()
- ٢- يتركز السكان حول الواحات الموجودة فى الصحراء الشرقية . ()
- ٣- تتميز السهول الساحلية المطلة على البحر المتوسط بالاتساع . ()
- ٤- رفضت سلطات الاحتلال سفر أعضاء الوفد المصرى إلى إنجلترا . ()
- ٥- ساهم بنك مصر فى تمويل المشروعات الأجنبية . ()

س ٤ : بم تفسر ...؟

- ١- قيام الثورة العرابية عام ١٨٨١ م .
- ٢- عزل اللورد كرومر من منصبه كمعتمد بريطانى فى مصر .
- ٣- تلوث المياه الشاطئية فى مصر .
- ٤- السياحة من الأنشطة الهامة فى البيئة الصحراوية .
- ٥- قيام الزراعة فى الواحات المصرية .

س ٥ : ما النتائج المترتبة على ؟

- ١- كثرة المعادن فى البيئة الصحراوية .
- ٢- إنشاء بنك مصر عام ١٩٢٠ م .
- ٣- قلة أمطار البيئة الصحراوية .
- ٤- حدوث السيول فى بعض المناطق الصحراوية .



أهم مفاهيم الوحدة الرابعة



هم مجموعة من الضباط المعروفين بوطنيتهم تجمعهم أهداف مشتركة أسسه جمال عبد الناصر .	تنظيم الضباط الأحرار
هو أحد الوسائل التي أقامتها إسرائيل لتتحصن بها أمام الجبهة على الضفة الشرقية لقناة السويس وسمى باسم المهندس الإسرائيلي الذي صممه (بارليف) .	خط بارليف
هي الحرب التي استطاع فيها الجيش المصري أن يلحق إسرائيل درسًا قويًا وهي عبارة عن غارات متقطعة قامت بها مصر بعد حرب ١٩٦٧م وحتى قبل حرب أكتوبر عام ١٩٧٣ م .	حرب الاستنزاف
هي توزيع الثروات القومية بين المواطنين توزيعًا عادلًا .	عدالة اجتماعية
هو العدوان الذي اشتركت فيه كل من بريطانيا وفرنسا وإسرائيل على مصر في ٢٩ أكتوبر ١٩٥٦ وانتهى بالفشل .	العدوان الثلاثي
هو مجموعة منظمة من الأعضاء تشترك في وضع برامج محددة لتحسين شئون الدولة سياسيًا واقتصاديًا واجتماعيًا وذلك من خلال المشاركة في مسئوليات الحكم .	الحزب السياسي
هو تجمع أفراد من الشعب في مكان ما للمحافظة على الأمن والمنشآت .	لجان شعبية
هو أن يحكم البلد أحد الملوك ويكون نظام الحكم وراثيًا .	النظام الملكي
هي أن يحكم الشعب نفسه بنفسه عن طريق نواب ينتخبونهم .	حياة ديمقراطية
هو تحويل الملكية من ملكية خاصة إلى ملكية عامة للشعب .	التأميم



الخريطة الزمنية لأهم أحداث الوحدة الرابعة



ثورة الجيش والشعب المصري على الاحتلال البريطاني والنظام الملكي.	٢٣ يوليو ١٩٥٢م
صدور قانون الإصلاح الزراعى الأول لتحديد الملكية الزراعية.	٩ سبتمبر ١٩٥٢م
القضاء على النظام الملكي وإعلان الجمهورية .	يونيو ١٩٥٣م
توقيع اتفاقية الجلاء بين مصر وبريطانيا .	١٩ أكتوبر ١٩٥٤م
جلاء القوات البريطانية عن مصر.	١٨ يونيو ١٩٥٦م
تأميم شركة قناة السويس وتمصير الشركات والبنوك .	يوليو ١٩٥٦م
العدوان الثلاثى على مصر .	أكتوبر ١٩٥٦م
دخول مصر فى وحدة مع سوريا ولكنها لم تدم طويلا.	١٩٥٨م
العدوان الإسرائيلى على مصر وهزيمة مصر .	٥ يونيو ١٩٦٧م
افتتاح السد العالى بأسوان .	١٩٧١م
ملحمة العبور حرب أكتوبر (العاشر من رمضان) .	٦ أكتوبر ١٩٧٣م
نهاية الحرب واجتماع الفريق المصرى والإسرائيلى لبدء مباحثات تنفيذ قرار مجلس الأمن .	٢٨ أكتوبر ١٩٧٣م
عودة الملاحة لقناة السويس تحت السيادة المصرية الكاملة.	يونيو ١٩٧٥م
توقيع اتفاقية السلام بين مصر وإسرائيل .	مارس ١٩٧٩م
اغتيال الرئيس المصرى محمد أنور السادات .	أكتوبر ١٩٨١م
قيام ثورة ٢٥ يناير للقضاء على الفساد .	٢٥ يناير ٢٠١١م
ثورة الشعب المصرى مرة أخرى للمطالبة بالتغيير .	٣٠ يونيو ٢٠١٣م



أهم تفسيرات الوحدة الرابعة وإجاباتها النموذجية



١- عانى المجتمع المصرى ظلماً اجتماعياً أثناء الاحتلال البريطانى.

ج / بسبب فساد الحكام وسيطرة أصحاب رؤوس الأموال.

٢- لثورة ٢٣ يوليو أسباب سياسية.

ج / بسبب الاحتلال البريطانى لمصر وفساد الحكام.

٣- لثورة يوليو أسباب اقتصادية.

ج / بسبب ارتفاع الأسعار وانخفاض الدخل ، وانتشار الفقر.

٤- لثورة ٢٣ يوليو أسباب اجتماعية.

ج / بسبب غياب العدالة الاجتماعية وسوء توزيع الثروات وانتشار الفقر الجهل والمرض.

٥- نجاح ثورة يوليو فى القضاء على الاستعمار .

ج / بسبب توقيع اتفاقية الجلاء فى أكتوبر عام ١٩٥٤ م.

٦- نجاح ثورة يوليو فى القضاء على الإقطاع.

ج / بسبب إصدار قانون الإصلاح الزراعى الأول لتحديد الملكية الزراعية.

٧- نجاح ثورة يوليو فى القضاء على نظام الاحتكار .

ج / بسبب تأميم شركة قناة السويس وتمصير البنوك والشركات.

٨- نجاح ثورة يوليو فى إقامة جيش قوى.

ج / بسبب الاهتمام بالكليات العسكرية وتنوع مصادر الإعداد والتسليح.

٩- العدوان الثلاثى على مصر.

ج / بسبب إعلان مصر تأميم شركة قناة السويس يوليو ١٩٥٦ م.

١٠- أسباب فشل العدوان الثلاثى على مصر.

ج / بسبب : (١) تلاحم الجيش والشعب بجانب قيادته السياسية لصد العدوان.

(٢) تضامن الشعوب العربية بجانب مصر.

(٣) معارضة الاتحاد السوفيتى للعدوان وتهديده بالتدخل العسكرى.



١١- العدوان الإسرائيلي على مصر يونيو ١٩٦٧ م.

ج / بسبب : (١) نجاح مصر في مناصرة حركات التحرر الوطني في آسيا وإفريقيا.

(٢) القضاء على زعامة مصر للعالم العربي.

١٢- ثورة ٢٣ يوليو ١٩٥٢ م لها نتائج عظيمة.

ج / لأنها أدت إلى : (١) عقد اتفاقية مع بريطانيا لجلاء قواتها عن مصر.

(٢) الدخول في وحدة مع سوريا.

(٣) تأميم شركة قناة السويس.

(٤) بناء السد العالي.

(٥) إصدار قوانين الإصلاح الزراعي للقضاء على الاقطاع.

(٦) مساندة معظم حركات التحرر الوطني في آسيا وأفريقيا وأبرزها الجزائر.

(٧) بناء الصناعات الثقيلة.

(٨) القضاء على النظام الملكي وإعلان الجمهورية في يونيو ١٩٥٣م.

(٩) الاهتمام بالكليات العسكرية وتنويع مصادر الإمداد والتسليح.

١٣- لجوء مصر إلى الحرب في (٦ أكتوبر ١٩٧٣ م).

ج / بسبب : (١) رفض إسرائيل المفاوضات السلمية.

(٢) الرغبة في تحرير الأراضي التي احتلتها إسرائيل ١٩٦٧م.

(٣) إنهاء حالة اللا حرب واللا سلم التي فرضت على المنطقة.

(٤) الإصرار على رد كرامة الجندي المصري.

(٥) العمل على إعادة الملاحة البحرية في قناة السويس.

١٤- إقامة إسرائيل سلسلة من التحصينات العسكرية المنيعة أمام الجبهة

المصرية أثناء حرب الاستنزاف.

ج / لمنع القوات المصرية من استعادة سيناء.

١٥- لحرب أكتوبر نتائج مهمة.

ج / (١) احترام العالم للجندي المصري وتغيير نظرة العالم له.

(٢) القضاء على أسطورة التفوق المطلق للجيش الإسرائيلي الذي لا يقهر.

(٣) استعادة مصر دورها الرائد في المنطقة العربية. الرائد في

(٤) عودة الملاحة لقناة السويس في يونيو ١٩٧٥م.

(٥) توقيع اتفاقية السلام مارس عام ١٩٧٩م واستعادة مصر أراضيها

المحتلة في سيناء.

(٦) ظهور أهمية التضامن ووحدة الصف العربي.



١٦- فشل إسرائيل في اقتحام مدينة السويس.

ج / بفضل تعاون الشعب مع القوات المسلحة.

١٧- نجاح الجيش المصرى فى حرب أكتوبر ١٩٧٣ م.

ج / بسبب الخداع الاستراتيجى وقوة الإيمان والسرية التامة والتدريب المستمر والعقيدة القتالية والتعاون العربى.

١٨- قيام المصريين بثورة ٢٥ يناير ٢٠١١ م.

ج/ (١) سوء الأوضاع الاقتصادية والاجتماعية والسياسية والتعليمية والصحية.

(٢) انتشار الفساد فى مرافق الدولة وجميع مؤسساتها.

(٣) تزوير الانتخابات وسيطرة الحزب الوطنى على أغلبية مقاعد مجلس

الشعب والشورى.

١٩- نجاح ثورة ٢٥ يناير ٢٠١١ م.

ج / لاطمئنان الجماهير إلى موقف القوات المسلحة المؤيد لمطالبهم.

٢٠- تكوين اللجان الشعبية فى جميع أنحاء مصر أثناء ثورة ٢٥ يناير ٢٠١١ م.

ج / للدفاع عن المنازل والمؤسسات العامة وتأمين المواطنين.

٢١- الاهتمام بالكمبيوتر والإنترنت بعد ثورة ٢٥ يناير ٢٠١١ م.

ج / لأنها أحد الوسائل التكنولوجية المتطورة التى استخدمها الشباب

فى تنظيم الثورة.

٢٢- قيام الشعب المصرى بثورة ٣٠ يونيو ٢٠١٣ م.

ج / بسبب : ١- استمرار سوء الأحوال الاقتصادية والاجتماعية والسياسية.

٢- ازدياد الأصوات المعارضة للحكم والمطالبة بإجراء انتخابات

مبكرة.

٣- لم تقدم السياسات الجديدة حلاً لمشكلات غالبية الشعب

المصرى.

٢٣- تدخل القوات المسلحة المصرية أثناء ثورة ٣٠ يونيو ٢٠١٣ م.

ج / حفاظاً على الأمن العام والدعوة إلى مصالحة حقيقية بين الرئيس

محمد مرسى و الاطراف المعارضة.



أهم أسئلة النتائج المترتبة في الوحدة الرابعة



- (١) تأميم مصر شركة قناة السويس في يوليو ١٩٥٦ م.
ج / أدى إلى حدوث العدوان الثلاثي على مصر.
- (٢) انتصار المصريين في حرب أكتوبر ١٩٧٣ م.
ج / أدى إلى : ١- عودة الملاحة البحرية لقناة السويس يونيو ١٩٧٥ م.
٢- تغيير نظرة العالم للجيش المصري.
٣- القضاء على أسطورة الجيش الإسرائيلي.
٤- كسر حاجز الخوف ، استعادة الشعب المصري ثقته بنفسه.
- (٣) قانون الإصلاح الزراعي في سبتمبر ١٩٥٢ م.
ج / أدى إلى القضاء على الإقطاع ، خفض الملكية الزراعية.
- (٤) قيام ثورة ٢٥ يناير ٢٠١١ م.
ج / أدى إلى : ١- إسقاط النظام السياسي.
٢- الإفراج عن المعتقلين السياسيين.
٣- حل مجلسي الشعب والشورى.
٤- التلاحم بين المسلمين والأقباط في الثورة.
- (٥) سوء الحالة الأمنية في الشارع المصري أثناء ثورة ٢٥ يناير ٢٠١١ م.
ج / أدى إلى نزول القوات المسلحة وتكوين اللجان الشعبية.
- (٦) قيام ثورة ٣٠ يونيو ٢٠١٣ م.
ج / أدى إلى : ١- عزل الرئيس محمد مرسي وتسليم السلطة للمستشار عدلي منصور.
٢- تعديل دستور ٢٠١٢ م.
٣- عقد انتخابات رئاسية جديدة.
- (٧) مناصرة مصر لثورة الجزائر.
ج / أدى إلى مشاركة فرنسا في العدوان الثلاثي على مصر.
- (٨) العدوان الإسرائيلي على مصر عام ١٩٦٧ م.
ج / أدى إلى احتلال إسرائيل لشبه جزيرة سيناء ، والضفة الشرقية لقناة السويس.
- (٩) مناصرة مصر حركات التحرر الوطني في آسيا وإفريقيا.
ج / أدى إلى قيام إسرائيل بالعدوان على مصر في ٥ يونيو ١٩٦٧ م.
- (١٠) خوض مصر حرب الاستنزاف ضد إسرائيل.
ج / أدى إلى تلقين العدو الإسرائيلي درساً قوياً ، واستنزاف قوته العسكرية.



مجاب
عنه

تدريبات الكتاب المدرسى على الوحدة الرابعة

السؤال الأول : اختر الإجابة الصحيحة مما بين الأقواس :

- (١) من أسباب سوء أحوال مصر قبل ثورة ١٩٥٢ م
(فساد الحكام - تعدد الأحزاب - تأمين البنوك - إلغاء الرتب المدنية)
- (٢) من نتائج ثورة ٢٣ يوليو ١٩٥٢ م تأمين
(بنك مصر - جمعية مصر الفتاة - شركة قناة السويس - شركة مصر للتأمين)
- (٣) عادت الملاحة فى تحت السيادة المصرية الكاملة فى يونيو ١٩٧٥ م.
(قناة السويس - البحر الأحمر - البحر المتوسط - خليج العقبة)
- (٤) سيطر الحزب قبل ثورة ٢٥ يناير ٢٠١١ م على أغلبية مقاعد مجلسى الشعب والشورى.
(الوفدى - الديمقراطي - الوطنى - الثورى)

السؤال الثانى : أكمل العبارات التالية بكلمات مناسبة :

- (١) أثناء ثورة ٢٥ يناير ٢٠١١ م تم قطع جميع وسائل
- (٢) نجحت ثورة ٢٥ يناير فى إسقاط
- (٣) اتخذ قرار حرب أكتوبر بالتنسيق بين الجيش و الجيش
- (٤) تمثلت المشكلات الاقتصادية قبل ثورة ٢٣ يوليو فى و
- (٥) ساهمت عوامل عدة فى نجاح حرب أكتوبر منها و
- (٦) سعت حرب أكتوبر ١٩٧٣ م لإنهاء حالة و التى فرضت فى المنطقة العربية .
- (٧) من أبرز التحولات فى ثورة ٢٣ يوليو ١٩٥٢ م القضاء على النظام وإعلان

السؤال الثالث : اكتب كلمة (صح) أو كلمة (خطأ) أمام العبارات الآتية :

- (١) تم تعديل الدستور المصرى عام ٢٠١٢ م وصدر الدستور الجديد فى يناير ٢٠١٤ م. ()
- (٢) انتشرت التجاوزات والأخطاء والفساد الإدارى فى مؤسسات الحكم قبل ثورة ٢٥ يناير. ()
- (٣) من عوامل تحقيق النصر فى حرب أكتوبر تعاون الدول العربية. ()
- (٤) التزمت مصر وإسرائيل بقرار مجلس الأمن رقم ٣٣٨. ()
- (٥) انعكس فساد الحكام على أحوال مصر قبل ثورة يوليو ١٩٥٢ م. ()



السؤال الرابع : بم تفسر ؟

- (١) فشل العدوان الثلاثى على مصر فى ١٩٥٦ م.
- (٢) العدوان الإسرائيلى على مصر فى يونيو ١٩٦٧ م.
- (٣) اندلاع ثورة ٢٥ يناير ٢٠١١ م.
- (٤) تشكيل لجان شعبية أثناء ثورة ٢٥ يناير ٢٠١١ م.

السؤال الخامس : ما النتائج المترتبة على ؟

- (١) تأميم شركة قناة السويس فى يوليو ١٩٥٦ م.
- (٢) انتصار السادس من أكتوبر ١٩٧٣ م.
- (٣) مناصرة مصر لحركات التحرر الوطنى فى آسيا وإفريقيا.
- (٤) سوء الحالة الأمنية بالمجتمع المصرى بعد ٢٥ يناير ٢٠١١ م.
- (٥) ثورة ٣٠ يونيو ٢٠١٣ م.

السؤال السادس : رتب الأحداث التاريخية التالية من القديم للحديث :

- حرب الاستنزاف - العدوان الإسرائيلى على مصر - العدوان الثلاثى على مصر
- تأميم شركة قناة السويس - افتتاح السد العالى.

السؤال السابع :

ثورتى ٢٣ يوليو ١٩٥٢ م ، ٢٥ يناير ٢٠١١ م فى الجدول التالى :

٢٥ يناير ٢٠١١ م	٢٣ يوليو ١٩٥٢ م	وجه المقارنة
		أحوال مصر قبيل الثورة
		أسباب الثورة
		أهداف / مبادئ الثورة
		ما تم تحقيقه من إنجازات

السؤال الثامن : ماذا كان يحدث إذا ؟

- (١) لم يتم تأميم شركة قناة السويس فى يوليو ١٩٥٦ م.
- (٢) لم يتم صدور قانون الإصلاح الزراعى.
- (٣) هزمت مصر فى حرب أكتوبر ١٩٧٣ م.



أسئلة وردت بامتحانات المحافظات على الوحدة الرابعة

السؤال الأول : اكتب كلمة (صح) أو كلمة (خطأ) أمام العبارات الآتية :

- (١) الشهيد عبد المنعم رياض من أبرز شهداء حرب الاستنزاف . [القليوبية ٢٠١٥] ()
- (٢) احتلت إسرائيل الضفة الغربية لقناة السويس بعد عدوان ١٩٦٧ م . () [الفيوم ٢٠١٥]
- (٣) شاركت ألمانيا في العدوان الثلاثي على مصر عام ١٩٥٦ م . () [البحيرة ٢٠١٦]
- (٤) غيرت حرب أكتوبر ١٩٧٣ م نظرة العالم للجيش المصري . () [الشرقية ٢٠١٥]
- (٥) عادت الملاحة بقناة السويس تحت السيادة المصرية الكاملة [الإسكندرية ٢٠١٦] في يونيو ١٩٧٥ م . ()
- (٦) ساندت ثورة ٢٣ يوليو ١٩٥٢ م معظم حركات التحرر الوطني في آسيا وأفريقيا . [الأقصر ٢٠١٥] ()
- (٧) سميت الفترة بعد حرب ١٩٦٧ م وقبل حرب ١٩٧٣ م بحرب الاستنزاف . [الجيزة ٢٠١٦] ()
- (٨) عقدت مصر اتفاقية الجلاء مع فرنسا عام ١٩٥٤ م . () [جنوب سيناء ٢٠١٦]
- (٩) تم القضاء على الإقطاع بتحديد الملكية الزراعية في مصر بعد ثورة ١٩٥٢ م . [سوهاج ٢٠١٦] ()
- (١٠) استخدم الشباب خطابات البريد للدعوة للتظاهر السلمى في ٢٥ يناير ٢٠١١ م . [الشرقية ٢٠١٦] ()
- (١١) السرية التامة من أسباب نجاح حرب أكتوبر ١٩٧٣ م . () [أسيوط ٢٠١٦]
- (١٢) تشكيل اللجان الشعبية من النقاط الفاصلة في أحداث ثورة ٢٥ يناير . () [الجيزة ٢٠١٦]
- (١٣) حقق الشعب المصري تلاحماً وطنياً مع الجيش أثناء ثورة ٢٥ يناير ٢٠١١ م . [بورسعيد ٢٠١٥] ()
- (١٤) ساهم تدنى الأحوال السياسية والاقتصادية في قيام ثورة ٢٥ يناير . () [مطروح ٢٠١٥]
- (١٥) قام الشباب المصري بالتظاهر يوم ٢٥ يناير ٢٠١١ م . () [السويس ٢٠١٦]



السؤال الثاني : اختر الإجابة الصحيحة مما بين القوسين :

- (١) تركزت أهداف ثورة ٢٥ يناير ٢٠١١ في تحقيق والحرية والعدالة الاجتماعية.
[الأقرص ٢٠١٦] (الكرامة - الفساد - التوريث - الاتفاق)
- (٢) تم تأميم في يوليو عام ١٩٥٦ م.
[دمياط ٢٠١٦] (قناة السويس - البحر الأحمر - البحر المتوسط - خليج العقبة)
- (٣) أثناء ثورة ٢٥ يناير عام ٢٠١١ م تم قطع وسائل
[الغربية ٢٠١٦] (النقل - المواصلات - التواصل الاجتماعي - الإعلام)
- (٤) من تحصينات إسرائيل أمام الجيش المصري
[الغربية ٢٠١٦] (خط بارليف - خط القناة - خط الاستواء - خط ألوان)
- (٥) كان من مبادئ ثورة يوليو ١٩٥٢ م إقامة عدالة
[المنيا ٢٠١٥] (سياسية - اقتصادية - اجتماعية - بيئية)
- (٦) من أبرز شهداء حرب الاستنزاف الفريق أول
[الدقهلية ٢٠١٥] (عبد المنعم رياض - عبد الحكيم عامر - جمال عبد الناصر - محمد أنور السادات)
- (٧) أقامت مصر في عام ١٩٥٨ م وحدة مع
[الجيزة - أسوان ٢٠١٦] (بريطانيا - الجزائر - سوريا - الأردن)
- (٨) اشتركت إسرائيل وإنجلترا و في العدوان الثلاثي على مصر .
[سوهاج ٢٠١٦] (الاتحاد السوفيتي - ألمانيا - فرنسا - إيطاليا)
- (٩) تم توقيع اتفاقية بين بريطانيا ومصر في أكتوبر عام ١٩٥٤ م.
[الشرقية ٢٠١٥] (الجلاء - السلام - الوحدة - الحدود)
- (١٠) اشتعلت المظاهرات في ٢٥ يناير عام ٢٠١١ م من ميدان والميادين العامة بالمحافظات . (التحرير - العباسية - العتبة - رمسيس) [المنوفية ٢٠١٥]

السؤال الثالث : أكمل العبارات التالية :

- (١) قامت حرب أكتوبر عام ١٩٧٣ م لمحاولة إنهاء حالة اللا حرب و
[الشرقية ٢٠١٥]
- (٢) نجحت ثورة يوليو في القضاء على الإقطاع بإصدار قانون الإصلاح
[دمياط ٢٠١٦]
- (٣) نجحت ثورة ٢٥ يناير ٢٠١١ م في إسقاط
[المنوفية ٢٠١٥]
- (٤) قامت إسرائيل ومعها إنجلترا وفرنسا بالعدوان الثلاثي على مصر عام
[الأقصر ٢٠١٦]
- (٥) من مبادئ ثورة ٢٣ يوليو ١٩٥٢ م القضاء على وأعوانه . [الفيوم ٢٠١٥]



السؤال الرابع : لمن تنسب الأعمال الآتية ؟

- (١) حطم أسطورة الجيش الإسرائيلي الذي لا يقهر. [الجيزة ٢٠١٥]
- (٢) إصدار قرار رقم (٣٣٨) فى أكتوبر ١٩٧٣ م القاضى بوقف إطلاق النار بين مصر وإسرائيل. [القليوبية ٢٠١٥]
- (٣) حرب شهدتها مصر قبل حرب أكتوبر ١٩٧٣ م. [الجيزة ٢٠١٥]
- (٤) تنظيم الضباط الذين قاموا بثورة ٢٣ يوليو ١٩٥٢ م. [الإسكندرية ٢٠١٦]
- (٥) الفريق أول الذى استشهد فى حرب الاستنزاف. [البحيرة - الأقصر ٢٠١٦]

السؤال الخامس : بم تفسر ؟

- (١) قيام ثورة ٢٣ يوليو ١٩٥٢ م. [الفيوم ٢٠١٥]
- (٢) فشل العدوان الثلاثى على مصر. [البحيرة - أسيوط ٢٠١٦]
- (٣) تشكيل اللجان الشعبية أثناء ثورة ٢٥ يناير. [الشرقية ٢٠١٥]
- (٤) نجاح حرب أكتوبر عام ١٩٧٣ م. [السويس ٢٠١٦]
- (٥) قيام ثورة ٢٥ يناير ٢٠١١ م. [الغربية ٢٠١٥]

السؤال السادس : ما النتائج المترتبة على ؟

- (١) سوء الحالة الأمنية بالشارع المصرى أثناء ثورة ٢٥ يناير ٢٠١١ م. [القليوبية ٢٠١٦]
- (٢) إعلان مصر تأميم قناة السويس . [المنيا - قنا ٢٠١٦]
- (٣) قانون الإصلاح الزراعى عام ١٩٥٢ م. [أسوان ٢٠١٥]
- (٤) عقد اتفاقية الجلاء عام ١٩٥٤ م مع بريطانيا . [الوادى الجديد ٢٠١٥]
- (٥) انتصار السادس من أكتوبر ١٩٧٣ م [الجيزة ٢٠١٦]

السؤال السابع : ماذا يحدث إذا ؟

- (١) نجحت مفاوضات التسوية السلمية بين مصر وإسرائيل قبل حرب أكتوبر ١٩٧٣ م. [الأقصر ٢٠١٥]
- (٢) لم ينضم الجيش المصرى إلى الشعب فى ثورة ٢٥ يناير ٢٠١١ م. [الأقصر ٢٠١٦]
- (٣) هُزمت مصر فى حرب أكتوبر ١٩٧٣ م. [البحر الأحمر ٢٠١٦]
- (٤) لم تُشكل اللجان الشعبية فى يناير ٢٠١١ م. [بنى سويف ٢٠١٦]
- (٥) لم يصدر قانون الإصلاح الزراعى سبتمبر ١٩٥٢ م. [أسوان ٢٠١٥]



اختبار عام (١) على الوحدة الرابعة



س ١ : اكتب كلمة (صح) أو كلمة (خطأ) أمام العبارات الآتية :

- ١- تدخلت القوات المسلحة فى ثورة ٣٠ يونيو حفاظاً على الأمن العام. ()
- ٢- شارك جمال عبد الناصر فى تأسيس جمعية مصر الفتاة. ()
- ٣- الفريق سعد الدين الشاذلى من أبرز شهداء حرب الاستنزاف فى مصر. ()
- ٤- استطاعت القوات المصرية هزيمة إسرائيل فى ٥ يونيو ١٩٦٧م. ()

س ٢ : أكمل ما يأتى :

- ١- عقدت اتفاقية بين مصر وبريطانيا عام ١٩٥٤م .
- ٢- من نتائج ثورة ٣٠ يونيو عزل الرئيس وتسليم السلطة إلى
- ٣- صدر قانون الإصلاح الزراعى الأول عام م .
- ٤- من أبرز التحولات فى ثورة يوليو ١٩٥٢م القضاء على النظام وإعلان

س ٣ : اكتب ما تشير إليه كل عبارة من العبارات الآتية :

- ١- رئيس المحكمة الدستورية العليا الذى تولى رئاسة الجمهورية بعد عزل مرسى .
- ٢- هضبة سورية احتلتها إسرائيل بعد حرب ١٩٦٧م .
- ٣- أحد أبرز شهداء حرب الاستنزاف .
- ٤- توزيع الثروات القومية بين المواطنين توزيعاً عادلاً .

س ٤ : ماذا كان يحدث إذا ؟

- ١- لم يتم تأميم شركة قناة السويس .
- ٢- لم توقع ثورة ٢٣ يوليو ١٩٥٢م اتفاقية الجلاء .
- ٣- لم تقم القوات المسلحة بدعوتها إلى قيام مصالحه حقيقية بين الرئيس مرسى والمعارضة أثناء ثورة ٣٠ يونيو ٢٠١٣م .
- ٤- تحسنت الأوضاع السياسية والاقتصادية والاجتماعية قبل ثورة ٢٥ يناير .

س ٥ : بم تفسر ...؟

- ١- قيام ثورة ٢٥ يناير ٢٠١١م .
- ٢- قيام ثورة ٣٠ يونيو ٢٠١٣م .
- ٣- إصدار ثورة ٢٣ يوليو قانون الإصلاح الزراعى الأول .
- ٤- توقف الملاحة فى قناة السويس بعد عام ١٩٦٧م .



س ١ : اكتب كلمة (صح) أو كلمة (خطأ) أمام العبارات الآتية :

- ١- تعتبر ثورة ٣٠ يونيو بداية فترة جديدة لتحقيق آمال الشعب. ()
- ٢- التزمت مصر وإسرائيل بقرار مجلس الأمن رقم ٣٣٨. ()
- ٣- من عوامل تحقيق النصر في حرب أكتوبر مشاركة الدول العربية. ()
- ٤- تم العمل بدستور ٢٠١٢م بعد عزل الرئيس مرسى. ()

س ٢ : أكمل ما يأتي :

- ١- يعد تزوير الانتخابات في مصر من أبرز أسباب ثورة
- ٢- نجحت ثورة ٢٥ يناير في إسقاط
- ٣- تمثلت المشكلات الاقتصادية قبل ثورة ٢٣ يوليو في و
- ٤- سعت حرب أكتوبر لإنهاء حالة و التي فرضت على المنطقة.

س ٣ : اختر الإجابة الصحيحة مما بين القوسين :-

- ١- سيطر الحزب قبل ثورة ٢٥ يناير ٢٠١١م على أغلبية مقاعد مجلس الشعب. (الوطني - الوفدي - الثوري - الديمقراطي)
- ٢- من أسباب سوء حالة مصر قبل ثورة يوليو ١٩٥٢م (فساد الحكام - تعدد الأحزاب - تأميم البنوك - إلغاء الرتب المدنية)
- ٣- من أبرز الثورات التي ساندتها مصر ثورة (المغرب - الجزائر - اليمن - تونس)
- ٤- تمثل العدوان الثلاثي في كلاً من إنجلترا وفرنسا و (إسرائيل - ألمانيا - إيطاليا - النمسا)

س ٤ : اكتب ما تشير إليه كل عبارة من العبارات الآتية :

- ١- توزيع الثروات القومية بين المواطنين توزيعاً عادلاً.
- ٢- أحد الوسائل التي أقامتها إسرائيل لنتحصر بها أمام الجبهة المصرية.
- ٣- مجموعة من الضباط المعروفين بوطنييتهم تجمعهم أهداف مشتركة.
- ٤- غارات متقطعة قامت بها مصر لإرهاق العدو الإسرائيلي قبل حرب أكتوبر.

س ٥ : بم تفسر...؟

- ١- العدوان الإسرائيلي على مصر. ٢- فشل العدوان الثلاثي على مصر.
- ٣- تكوين اللجان الشعبية أثناء ثورة ٢٥ يناير ٢٠١١م.
- ٤- نجاح الجيش المصري في عبور قناة السويس في حرب أكتوبر ١٩٧٣م.

قطر الندى

والآن مع



- المراجعة العامة
- التدريبات العامة
- الاختبارات العامة
- الإجابات النموذجية

مراجعة عامة على الفصل الدراسى الثانى

أسئلة عامة على الوحدة الأولى

س ١ : اكتب كلمة (صح) أمام العبارة الصحيحة وكلمة (خطأ) أمام العبارة الخطأ :

- () (١) تبلغ مساحة الصحراء الشرقية ٢٢ ٪ من جملة مساحة مصر.
- () (٢) السيول وحركة الرمال وتملح التربة من مشكلات البيئة الصحراوية.
- () (٣) يعد حفر الآبار العميقة من مشاريع الاستصلاح فى الصحراء الشرقية.
- () (٤) تنتشر صناعة التمور والسجاد اليدوى فى البيئة الصحراوية.
- () (٥) تختفى ظاهرة المنخفضات من الصحراء الغربية.
- () (٦) تبلغ مساحة شبه جزيرة سيناء ٣٢ ٪ من مساحة مصر.
- () (٧) الصحراء الشرقية أكبر الصحارى المصرية مساحة.
- () (٨) مناخ البيئة الصحراوية حار صيفاً ، بارد شتاءً.
- () (٩) العين هى مصدر صناعى للمياه الجوفية يقوم الإنسان بحفرها.
- () (١٠) تربة البيئة الصحراوية فى مصر طينية خصبة.
- () (١١) نباتات البيئة الصحراوية من النوع الذى يتحمل الظروف القاسية.
- () (١٢) أغلب نباتات البيئة الصحراوية أوراقها إبرية أو أسفنجية.
- () (١٣) الغزلان والأرانب البرية من الحيوانات البرية بالصحارى المصرية.
- () (١٤) تكثر الكثبان الرملية فى الصحراء الغربية.
- () (١٥) ينتقل أغلب سكان الصحارى بحثاً عن العشب والماء.
- () (١٦) الواحات من مناطق التركيز السكانى فى البيئة الصحراوية.
- () (١٧) واحة سيوة هى أكثر أجزاء الصحراء الغربية انخفاضاً.
- () (١٨) زيادة حجم الأسرة من الخصائص التى تميز سكان البيئة الصحراوية.
- () (١٩) يرتفع مستوى المعيشة عند سكان البيئة الصحراوية.
- () (٢٠) يتم استخراج الحديد من منطقة الواحات البحرية بالصحراء الشرقية.

س ٢ : أكمل ما يأتى :

- (١) يوجد جبل العوينات فى الصحراء ومن أشهر هضابها و
- (٢) من الأشكال الرملية فى الصحراء الغربية بحر
- (٣) تقوم الزراعة فى الواحات المصرية على مياه
- (٤) تبلغ مساحة حوالى ٦ ٪ من مساحة مصر.
- (٥) تقع هضبة شمال الصحراء الشرقية وهضبة فى الجنوب.

- (٦) من الواحات المصرية و و وتوجد فى الصحراء
- (٧) من الطرق التى تستخدمها نباتات البيئة الصحراوية لتحمل الجفاف و
- (٨) من أمثلة نباتات البيئة الصحراوية و
- (٩) من الحيوانات البرية فى البيئة الصحراوية و
- (١٠) المنخفض هو
- (١١) يستخرج الحديد فى البيئة الصحراوية من
- (١٢) يتجمع سكان الصحارى فى و
- (١٣) ينتقل سكان الصحارى بحثًا عن و
- (١٤) أكبر محافظات الحدود سكانًا وأقلها سكانًا هى
- (١٥) من العادات الإيجابية لسكان البيئة الصحراوية إكرام
- (١٦) من أمثلة الحيوانات النادرة فى البيئة الصحراوية
- (١٧) من المزارات السياحية فى البيئة الصحراوية و
- (١٨) من الصناعات الحرفية فى البيئة الصحراوية و
- (١٩) تقوم صناعة لتوفر أشجار النخيل وتقوم صناعة السجاد لتوفر
- (٢٠) من الخصائص الاقتصادية لسكان البيئة الصحراوية

س ٣ : اختر الإجابة الصحيحة مما بين القوسين فيما يلى :

- (١) تبلغ مساحة نحو ٦٨ ٪ من جملة مساحة مصر.
(الصحراء الشرقية - الصحراء الغربية - شبه جزيرة سيناء)
- (٢) من جبال شبه جزيرة سيناء (جبل الشايب - جبل العوينات - جبل موسى)
- (٣) من هضاب الصحراء الشرقية
(هضبة الجلف الكبير - هضبة الجلالة البحرية - هضبة التيه)
- (٤) من أشهر القبائل التى تعمل بحرفة الرعى فى الصحراء الشرقية قبيلة
(أولاد على - أولاد عامر - العباددة)
- (٥) أكبر منخفضات الصحراء الغربية مساحة هو منخفض
(القطارة - الفيوم - سيوة)
- (٦) توجد هضبة مارماريكا فى (الصحراء الشرقية - الصحراء الغربية - سيناء)
- (٧) يتركز سكان البيئة الصحراوية حيث تتوفر
(المياه - المعادن - العشب - كل ما سبق)
- (٨) تمتد من ساحل البحر الأحمر شرقًا حتى وادى النيل غربًا
(الصحراء الغربية - الصحراء الشرقية - صحراء سيناء)

- (٩) مصدر للمياه الجوفية تخرج منه المياه تلقائيًا
 (الأبار - العيون - الآبار والعيون)
 (١٠) من العادات الإيجابية لسكان البيئة الصحراوية
 (إكرام الضيف - الزواج المبكر - عمل الأطفال بالرعى)
 (١١) يعاني سكان البيئة الصحراوية من
 (قلة الموارد - انتشار الأمية - انخفاض مستوى المعيشة - كل ما سبق)
 (١٢) يوجد الذهب فى منطقة (أم بجمة - أبو طرطور - السكرى)
 (١٣) من مشكلات البيئة الصحراوية
 (تملح التربة - حركة الرمال - قلة المياه - كل ما سبق)
 (١٤) أقيم سد الروافعة على وادى (قنا - العريش - الريان)
 (١٥) أكثر جبال البحر الأحمر ارتفاعًا جبل ... (علبه - حماطة - الشايب - المغارة)

س ٤ : اكتب ما تشير إليه كل عبارة من العبارات الآتية :

- (١) مشروع يقوم على زراعة النباتات وريها بالتنقيط وتؤدي إلى تثبيت الرمال.
 (٢) تحريك الرياح لكميات كبيرة من الرمال المفككة من مكان لآخر.
 (٣) سد أقامته الدولة على وادى العريش لحجز المياه والاستفادة منها.
 (٤) أحد الصناعات الغذائية وتعتمد على أشجار النخيل.
 (٥) أحد مناطق استخراج الحديد وتوجد فى الصحراء الغربية.
 (٦) أحد القبائل التى تقوم بحرفة الرعى فى الصحراء الشرقية.
 (٧) أحد القبائل التى تقوم بحرفة الرعى فى الصحراء الغربية.
 (٨) نشاط يقوم به بعض سكان البيئة الصحراوية وينتقلون من مكان لآخر.
 (٩) تدهور التربة الزراعية وانخفاض قدرتها الإنتاجية.
 (١٠) مصدر للمياه الجوفية تتدفق منه المياه لقربها من سطح الأرض.
 (١١) رياح ضارة بالمحاصيل تهب على مصر فى شهرى مارس وأبريل.
 (١٢) ظاهرة تحدث بسبب تجمع مياه الأمطار الغزيرة فى الأودية الجافة.
 (١٣) جبل يقع فى جنوب غرب مصر ويمتد بين مصر وليبيا والسودان.
 (١٤) مجار مائية كانت تجرى بها المياه قديمًا ثم جفت.
 (١٥) البيئة التى يقل فيها المطر ويسود الجفاف والفقر الشديد فى النباتات مع ندرة الحيوان.

س ٥ : بم تفسر..؟

- (١) قيام الزراعة فى الواحات المصرية.
- (٢) تمد النباتات الصحراوية جذورها لمسافات بعيدة فى التربة.
- (٣) نمو النباتات الطبيعية فى البيئة الصحراوية.
- (٤) يهتم سكان البيئة الصحراوية بتربية حيوانات الرعى.
- (٥) تركز سكان الصحارى فى الواحات.
- (٦) أوراق بعض النباتات الصحراوية أسفنجية.
- (٧) زيادة نسبة وفيات الأطفال فى البيئة الصحراوية.
- (٨) هجرة بعض سكان البيئة الصحراوية إلى بيئات أخرى.
- (٩) قلة أعداد سكان البيئة الصحراوية رغم اتساعها.
- (١٠) قلت نسبة الأمية فى البيئة الصحراوية فى السنوات الأخيرة.
- (١١) أقامت الدولة العديد من المدارس والكليات والمعاهد فى البيئة الصحراوية.
- (١٢) تعد السياحة من الأنشطة الاقتصادية الهامة فى البيئة الصحراوية.
- (١٣) إقامة مشروع استزراع الكثبان الرملية.
- (١٤) إقامة سد الروافعة على وادى العريش.
- (١٥) الاهتمام بالمشروعات السياحية فى البيئة الصحراوية.
- (١٦) تعمل الدولة على تشجيع سياحة السفارى.
- (١٧) تملح التربة فى البيئة الصحراوية.
- (١٨) إنشاء شبكة من الطرق فى البيئة الصحراوية.
- (١٩) رياح الخماسين رياح ضارة.
- (٢٠) انتشار صناعة حفظ التمور فى البيئة الصحراوية.

س ٦ : ما النتائج المترتبة على ؟

- (١) قلة الأمطار شتاءً فى البيئة الصحراوية.
- (٢) وجود الآبار والعيون المائية داخل الواحات بالمنخفضات.
- (٣) تربة البيئة الصحراوية تربة رملية.
- (٤) سقوط أمطار غزيرة وامتلاء الأودية الجافة.
- (٥) توفر الموارد المعدنية فى البيئة الصحراوية.
- (٦) سقوط الأمطار على الساحل الشمالى لمصر.
- (٧) إنشاء المدارس والكليات والمعاهد فى البيئة الصحراوية.
- (٨) العلاج بوسائل بدائية فى البيئة الصحراوية.
- (٩) قلة الموارد وانخفاض مستوى المعيشة فى البيئة الصحراوية.
- (١٠) تربية الحيوانات فى البيئة الصحراوية.

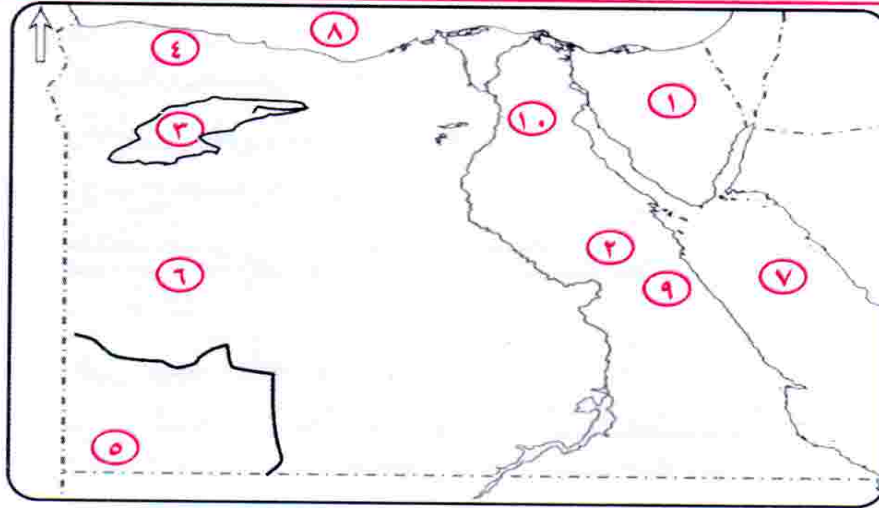
س ٧ : اذكر :

- (١) أماكن تركيز سكان البيئة الصحراوية.
- (٢) أهم الخصائص الاقتصادية لسكان البيئة الصحراوية.
- (٣) أهم الخصائص الاجتماعية لسكان البيئة الصحراوية.
- (٤) أهم مشكلات البيئة الصحراوية.
- (٥) جهود الدولة لتنمية البيئة الصحراوية.

س ٨ : ماذا يحدث إذا ؟

- (١) أهملت الدولة إقامة الفنادق والمخيمات والطرق الجديدة.
- (٢) تنوع الموارد الطبيعية في البيئة الصحراوية.
- (٣) لم تهتم الدولة بإنشاء المدارس والكليات في البيئة الصحراوية.
- (٤) لم تتعرض مصر لرياح الخماسين في شهرى مارس وأبريل.
- (٥) أقامت الدولة السدود على الأودية الجافة.

س ٩ : أمامك خريطة صماء لمصر اكتب مدلول الأرقام الموقعة عليها:



- | | |
|-------------------|-------------------------|
| (٢) الصحراء | (١) منطقة صحراوية |
| (٤) هضبة | (٣) منخفض |
| (٦) الصحراء | (٥) جبل |
| (٨) البحر | (٧) البحر |
| (١٠) هضبة | (٩) سلاسل جبال |

أسئلة عامة على الوحدة الثانية

س ١ : اكتب كلمة (صح) أمام العبارة الصحيحة وكلمة (خطأ) أمام العبارة الخطأ :

- () (١) يمتد البحر المتوسط من مدينة السلوم شرقاً حتى مدينة رفح غرباً.
- () (٢) الإسكندرية والسويس من أهم المدن الساحلية على البحر الأحمر.
- () (٣) البيئة الساحلية عبارة عن شريط سهلى قد يتسع أو يضيق تبعاً لاقتراب الجبال أو الهضاب.
- () (٤) الهجرة من محافظة إلى أخرى تعد هجرة خارجية.
- () (٥) تنتشر الشعاب المرجانية فى البحر الأحمر.
- () (٦) تسبب السيول دماراً كبيراً للطرق والمنشآت.
- () (٧) أشجار التين والزيتون من أهم نباتات ساحل البحر المتوسط.
- () (٨) تنمو شجيرات المانجروف على طول سواحل البحر الأحمر.
- () (٩) الزراعة هى الحرفة الرئيسية لسكان البيئة الساحلية.
- () (١٠) تعاني البيئة الساحلية من مشكلات التلوث البيئى.
- () (١١) يعيش سكان البيئة الساحلية فى إحدى عشر محافظة.
- () (١٢) بحيرة المنزلة أولى البحيرات إنتاجاً للأسماك فى مصر.
- () (١٣) البترول والغاز الطبيعى من موارد البيئة الساحلية.
- () (١٤) حقول خليج السويس من أهم حقول إنتاج البترول فى مصر.
- () (١٥) تنتشر مراعى الأغنام والإبل فى الساحل الشمالى لمصر.
- () (١٦) يمتد ساحل مريوط من رفح حتى السلوم.
- () (١٧) يزدهر النشاط التجارى فى البيئة الساحلية.
- () (١٨) تاكل الشواطئ الرملية أحد أهم مشكلات البيئة الساحلية.
- () (١٩) الهجرة غير الشرعية من الخصائص الإيجابية لسكان البيئة الساحلية.
- () (٢٠) أمطار البيئة الساحلية المطلة على البحر الأحمر قليلة.

س ٢ : أكمل ما يأتى :

- (١) تعد من المشكلات التى تهدد البيئة الساحلية فى مصر.
- (٢) المدن المليونية هى
- (٣) تنتشر المراعى الطبيعية على طول ساحل فى مصر.
- (٤) من مشكلات السكان فى البيئة الساحلية و
- (٥) من أهم الموارد الطبيعية فى البيئة الساحلية و و
- (٦) سكان واحة سيوة يتجهون للاستقرار فى مدينة

- (٧) من الخصائص الإيجابية لسكان البيئة الساحلية و
- (٨) يبلغ عدد محافظات مصر الساحلية ومنها
- (٩) من أهم حقول الغاز الطبيعي فى البيئة الساحلية حقل
- (١٠) البيئة الساحلية هى قد يتسع أو يضيق تبعاً لاقتراب الجبال أو الهضاب من البحر.
- (١١) تضيق السهول الساحلية على البحر وتتسع على البحر
- (١٢) يحدث تآكل السواحل بفعل
- (١٣) يقع البحر شمال مصر والبحر فى شرقها.
- (١٤) من المدن الساحلية **على** البحر الأحمر و
- (١٥) من المدن **الساحلية** على البحر المتوسط و
- (١٦) من الخلجان الموجودة على ساحل البحر المتوسط و
- (١٧) من الحيوانات البرية فى البيئة الساحلية
- (١٨) يتركز السكان فى المدن الساحلية بسبب
- (١٩) من العادات السلبية لسكان البيئة الساحلية و
- (٢٠) يعمل بعض سكان البيئة الساحلية بالأنشطة المرتبطة بالسياحة مثل

س ٣ : اختر الإجابة الصحيحة مما بين القوسين فيما يلى :

- (١) من أهم المدن الساحلية التى تطل على البحر الأحمر مدينة
(الإسكندرية - مطروح - الغردقة - بورسعيد)
- (٢) أولى البحيرات فى مصر إنتاجاً للأسماك (البردويل - المنزلة - إدكو - البرلس)
- (٣) تعد حرفة من الحرف الرئيسية فى البيئة الساحلية.
(الصيد - الرعى - الزراعة - النشاط السياحى)
- (٤) يمتد البحر المتوسط بين مدينتى رفح و (السلوم - العريش - الإسكندرية)
- (٥) يمتد ساحل البحر الأحمر بين
(طابا وحلايب - السلوم والعريش - بورسعيد و رفح)
- (٦) يتسع السهل الساحلى على ساحل
- (٧) من أهم المدن الساحلية على البحر المتوسط
(سفاجا - الإسكندرية - شرم الشيخ - الغردقة)
- (٨) توغل لجزء من البحر فى اليابس ويتصل بالبحر بفتحة واحدة يسمى بـ
(البحيرة - الجزيرة - الخليج)
- (٩) تنتشر الشعاب المرجانية فى ... (نهر النيل - البحر الأحمر - البحر المتوسط)
- (١٠) يتعرض للنوات شتاء (خليج السويس - البحر الأحمر - البحر المتوسط)

س ٤ : اكتب ما تشير إليه كل عبارة من العبارات الآتية :

- (١) خليج ذو مدخل ضيق متعمق فى اليابس.
- (٢) تكوينات أفرزتها حيوانات بحرية دقيقة.
- (٣) ساحل يمتد من مدينة رفح شرقاً حتى مدينة السلوم غرباً.
- (٤) ساحل يمتد من بورسعيد حتى شرق الإسكندرية.
- (٥) يمتد من مدينة طابا شمالاً حتى مدينة حلايب جنوباً.
- (٦) أرض شبه مستوية السطح تمتد من خط الساحل إلى داخل اليابس.
- (٧) رياح شديدة وأمطار غزيرة تتسبب فى تقلب الجو.
- (٨) سهل ساحلى يتميز بالاتساع والانبساط بشكل عام.
- (٩) سهول تتميز بالضيق بسبب اقتراب الجبال من البحر.
- (١٠) امتداد أرضى من اليابس داخل البحر.
- (١١) توغل لجزء من البحر فى اليابس يتصل بالبحر بفتحة واحدة.
- (١٢) مدينة يزيد عدد سكانها على مليون نسمة.
- (١٣) هجرة الأفراد أو الجماعات إلى خارج الدولة بطرق غير قانونية.
- (١٤) تلال مكونة من الصخور الجيرية الناعمة ناصعة البياض.
- (١٥) شريط سهلى قد يتسع أو يضيق تبعاً لاقتراب الجبال أو الهضاب من البحر.

س ٥ : بم تفسر...؟

- (١) ضيق السهول الساحلية على خليج العقبة.
- (٢) تنوع الأنشطة الاقتصادية فى البيئة الساحلية.
- (٣) قيام النشاط الزراعى فى الساحل الشمالى الغربى لمصر.
- (٤) يتميز سكان البيئة الساحلية بحبهم للعمل الجماعى.
- (٥) اعتبار المناطق الساحلية مناطق جذب للمهاجرين.
- (٦) يعيش معظم سكان البيئة الساحلية فى المدن.
- (٧) تفاوت اتساع السهل الساحلى على طول سواحل البحر الأحمر فى مصر.

- (٨) الأهمية الاقتصادية للتلال الجيرية على طول الساحل الشمالى للبحر المتوسط.
- (٩) مناخ البيئة الساحلية أحد عوامل الجذب السياحى.
- (١٠) تتوقف حركة السفن وتغلق الموانئ عند حدوث النوات.
- (١١) تعتبر الإسكندرية من المدن المليونية.
- (١٢) البيئة الساحلية من مناطق التركيز السكانى.
- (١٣) نمو الشعاب المرجانية على طول ساحل البحر الأحمر.
- (١٤) تلوث المياه الشاطئية فى البيئة الساحلية المصرية.
- (١٥) تعمل الدولة على وضع مصدات خرسانية على الشواطئ.

س ٦ : ما النتائج التى ترتبت على ؟

- (١) وفرة الموارد الغذائية والمواد الخام فى البيئة الساحلية.
- (٢) اعتدال مناخ البيئة الساحلية.
- (٣) سقوط الأمطار الغزيرة على شكل سيول.
- (٤) خلو الساحل الشمالى لمصر من المرتفعات.
- (٥) اقتراب جبال البحر الأحمر من البحر.
- (٦) سقوط الأمطار على الساحل الشمالى الغربى للبحر المتوسط.
- (٧) وجود الخلجان والشروم على ساحل البحر الأحمر.
- (٨) هدوء وصفاء مياه البحر الأحمر.
- (٩) تعرض سواحل البحر المتوسط للنوات.
- (١٠) تمتع البيئة الساحلية بالنشاط السياحى والترويجى.
- (١١) اشتغال معظم سكان البيئة الساحلية بأعمال البحر.
- (١٢) انتشار الكتبان الرملية والتلال الجيرية على طول الساحل الشمالى.
- (١٣) نحت الأمواج فى السواحل المصرية.

س ٧ : ماذا يحدث إذا ؟

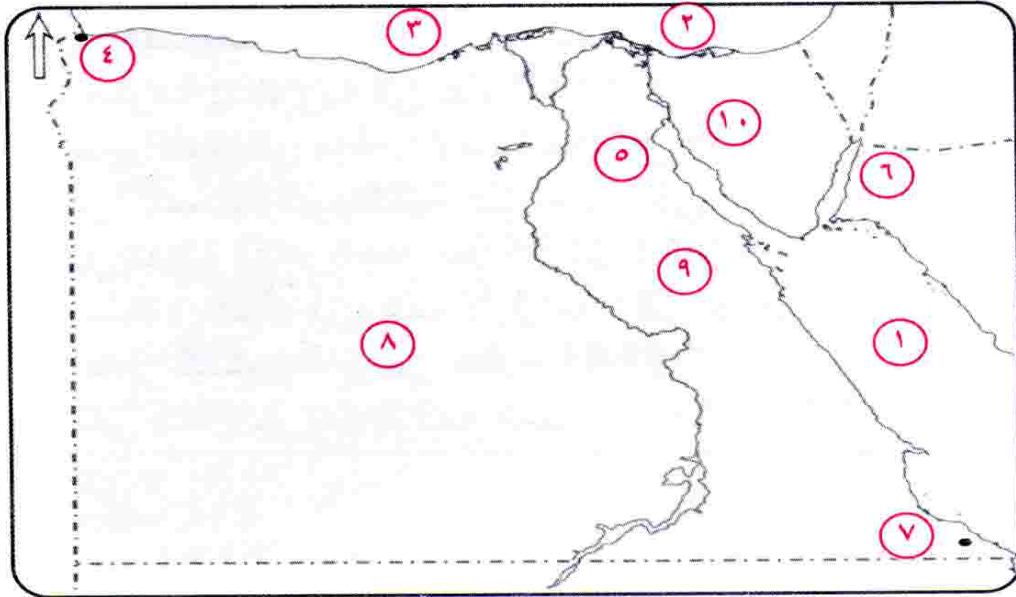
- (١) لم تسقط الأمطار على الساحل الشمالى لمصر.
- (٢) لم يتوفر البترول فى البيئة الساحلية.
- (٣) تسرب البترول من ناقلات البترول فى مياه البحر.

- (٤) هاجر السكان بأعداد كبيرة إلى البيئة الساحلية.
- (٥) حدثت نوة في مدينة ساحلية.
- (٦) كانت مياه البحر الأحمر غير صافية وباردة.
- (٧) كان هناك حواف مرتفعة على ساحل البحر المتوسط.
- (٨) لم تتنوع الموارد الطبيعية في البيئة الساحلية.
- (٩) لم تقم الدولة بوضع مصدات على الشواطئ.

س ٨ : ما المقصود بكل من ؟

- | | |
|------------------------|-------------------------|
| (١) تآكل السواحل. | (٢) الهجرة غير الشرعية. |
| (٣) المدينة المليونية. | (٤) البيئة الساحلية. |
| (٥) الخليج. | (٦) الشعاب المرجانية. |
| (٧) الرأس الأرضي. | (٨) الشرم. |
| (٩) السهول الساحلية. | |

س ٩ : أمامك خريطة صماء لمصر اكتب مدلول الأرقام الموقعة عليها:



- | | |
|---------------------|------------------------|
| (١) البحر : | (٢) بحيرة : |
| (٣) البحر : | (٤) مدينة : |
| (٥) خليج : | (٦) خليج : |
| (٧) مدينة : | (٨) الصحراء : |
| (٩) الصحراء : | (١٠) شبه جزيرة : |

أسئلة عامة على الوحدة الثالثة

س ١ : اكتب كلمة (صح) أمام العبارة الصحيحة وكلمة (خطأ) أمام العبارة الخطأ :

- () (١) التحق أحمد عرابى بالجيش المصرى فى عهد سعيد باشا.
- () (٢) اشترك أحمد عرابى فى تأسيس جمعية (مصر الفتاة).
- () (٣) بدأ كفاح أحمد عرابى منذ عصر الخديو إسماعيل.
- () (٤) عانى المصريون من استبداد النظام التركى والچركسى.
- () (٥) عُزل اللورد كرومر من منصبه عام ١٩٠٤م.
- () (٦) كان للطلبة والعمال دور كبير فى ثورة ١٩١٩م.
- () (٧) تمكن طلعت حرب وبنك مصر من تدعيم الاقتصاد المصرى.
- () (٨) دعم محمد فريد مشروع مد امتياز شركة قناة السويس.
- () (٩) أدت الامتيازات الأجنبية إلى التدخل الأجنبى فى شئون مصر.
- () (١٠) دعا الزعيم مصطفى كامل إلى إنشاء مدارس ليلية.
- () (١١) فشل الإنجليز فى دخول القاهرة عن طريق كفر الدوار.
- () (١٢) رفضت سلطات الاحتلال سفر أعضاء الوفد المصرى إلى إنجلترا.
- () (١٣) تحققت آمال الوفد المصرى فى مؤتمر الصلح بباريس.
- () (١٤) شكلت أول حكومة دستورية فى عام ١٩٢٣ م.
- () (١٥) أصدر الرئيس الأمريكى (ولسن) مبدأ حق تقرير المصير.
- () (١٦) أعلنت إنجلترا الحماية البريطانية على مصر فى عام ١٩١٤ م.
- () (١٧) دخل الإنجليز مدينة القاهرة بعد معركة التل الكبير.
- () (١٨) نفى الزعيم سعد زغلول وزملائه لأول مرة إلى جزيرة سيشل.
- () (١٩) أنشئ بنك مصر كبنك وطنى فى عام ١٩٢٠ م.
- () (٢٠) أسس مصطفى كامل جريدة الوقائع المصرية عام ١٩٠٠م.

س ٢ : أكمل ما يأتى :

- (١) أعلنت إنجلترا فى ديسمبر ١٩١٤م.
- (٢) طالب أحمد عرابى فى مظاهرة عابدين بعزل وزارة
- (٣) فى مارس ١٩١٩ م ألقى القبض على
- (٤) اشترك و فى ثورة ١٩١٩ م.
- (٥) يرتبط اسم طلعت حرب فى تاريخ مصر باستقلال
- (٦) البنك الوطنى الذى أسسه طلعت حرب هو بنك
- (٧) تولى سعد زغلول نظارة عام ١٩٠٦ م ووزارة ١٩١٠م.
- (٨) أسس الحزب الوطنى عام ١٩٠٧م.

- (٩) ولد أحمد عرابي بمحافظة
- (١٠) تولى الإمام محمد عبده رئاسة صحيفة واتخذها منبراً لتأييد
- (١١) من مطالب الثورة العرابية و
- (١٢) ازداد التدخل الأجنبي في شئون مصر نتيجة
- (١٣) بعد عام ١٨٨٢ م أصبحت السلطة الفعلية في البلاد في يد
- (١٤) اهتم الزعيم بإنشاء مدارس ليلية لتعليم العمال والفقراء.
- (١٥) ثانی مرة نفى سعد زغلول وزملاؤه إلى جزيرة
- (١٦) تشكلت في عام ١٩٢٤ م أول حكومة دستورية برئاسة
- (١٧) بعد حادثة دنشواي عام ١٩٠٦ م تم عزل اللورد من منصبه.
- (١٨) (لقد خلقنا الله أحراراً) من أقوال الزعيم
- (١٩) هُزم أحمد عرابي في معركة
- (٢٠) من أسباب الثورة العرابية و

س ٣ : اختر الإجابة الصحيحة مما بين القوسين فيما يلي :

- (١) بدأ تجنيد أولاد عمّ البلاد ومشايخها في عهد
- (٢) زعيم اتخذ من صحيفة (الوقائع المصرية) منبراً لمناصرة وتأييد العرابيين هو (الإمام الغزالي - الإمام محمد عبده - الشيخ السادات)
- (٣) قاد أحمد عرابي مظاهرة عابدين في (أكتوبر ١٨٨١ م - سبتمبر ١٨٨١ م - يونيه ١٨٨١ م)
- (٤) عقد الاتفاق الودى بين إنجلترا وفرنسا عام م (١٩٠٤ - ١٩٠٦ - ١٩٠٨)
- (٥) وصل أحمد عرابي إلى رتبة أميرالاي في الجيش في عهد (إبراهيم باشا - سعيد باشا - توفيق باشا)
- (٦) عقد مؤتمر الصلح عقب انتهاء الحرب العالمية الأولى في (باريس - لندن - برلين)
- (٧) اعترفت بمصر دولة مستقلة ذات سيادة منذ ١٩٢٢ م. (فرنسا - بريطانيا - إيطاليا - ألمانيا)
- (٨) عمل سعد زغلول محرراً في جريدة
- (٩) بعد الاتفاق الودى تخلت عن تأييد مصطفى كامل. (الأهرام - المؤيد - الوقائع المصرية)
- (١٠) قام مصطفى كامل بتأسيس جريدة عام ١٩٠٠ م. (إيطاليا - فرنسا - روسيا)
- (الوقائع المصرية - اللواء - المؤيد)

س ٤ : اكتب ما تشير إليه كل عبارة من العبارات الآتية :

- (١) عدم تبعية اقتصاد مصر لأى دولة أجنبية واعتماد مصر على رؤوس أموالها.
- (٢) مجموعة من المبادئ والقواعد التى تحدد نظام الحكم.
- (٣) جزيرة فى المحيط الهندى نفى إليها سعد زغلول وبعض زعماء الوفد المصرى.
- (٤) جزيرة نفى إليها سعد زغلول وثلاثة من زعماء الوفد فى مارس ١٩١٩ م.
- (٥) أحد الدول الأوربية التى كانت تؤيد الحركة الوطنية فى مصر قبل عام ١٩٠٤ م.
- (٦) معركة هُزم فيها عرابى وأدت إلى احتلال إنجلترا لمصر.
- (٧) مدينة مصرية فشلت القوات البريطانية فى دخول مصر عن طريقها ١٨٨٢ م.
- (٨) جمعية سرية شارك أحمد عرابى فى تأسيسها.
- (٩) خديو فى عهده بدأ تجنيد أولاد عمد البلاد ومشايخها ومنهم أحمد عرابى.

س ٥ : بم تفسر...؟

- (١) مد محمد فريد نشاطه إلى أوروبا.
- (٢) تأسيس بنك مصر على يد طلعت حرب.
- (٣) كان للإمام (محمد عبده) دور كبير أثناء الثورة العرابية.
- (٤) عزل اللورد كرومر من منصبه بعد عام ١٩٠٦ م.
- (٥) اتصال مصطفى كامل بالدول الأوربية.
- (٦) قيام ثورة ١٩١٩ م.
- (٧) قيام الثورة العرابية عام ١٨٨١ م.
- (٨) أهمية تصريح ٢٨ فبراير عام ١٩٢٢ م.
- (٩) فشلت القوات البريطانية فى دخول مصر عن طريق كفر الدوار.
- (١٠) دعوة محمد فريد لتأسيس مدارس ليلية.

س ٦ : ما النتائج المترتبة على ؟

- (١) تصريح ٢٨ فبراير ١٩٢٢ م.
- (٢) إنشاء بنك مصر.
- (٣) مظاهرة عابدين فى ٩ سبتمبر ١٨٨١ م.
- (٤) نفى سعد زغلول فى مارس ١٩١٩ م إلى جزيرة مالطة.
- (٥) الحرب العالمية الأولى بالنسبة لمصر.
- (٦) تنديد مصطفى كامل بحادثة دنشواى.
- (٧) رفض السلطات البريطانية التصريح لأعضاء الوفد المصرى بالسفر إلى فرنسا.
- (٨) مقاطعة المصريين للبضائع الإنجليزية.
- (٩) خيانة ديليسبس لأحمد عرابى.
- (١٠) الامتيازات التى منحها الدولة العثمانية للرعايا الأجانب فى مصر.

س ٧ : هات دليلاً تاريخياً تؤكد به صحة العبارات الآتية :

- (١) إيمان أحمد عرابى بأهمية المساواة بين أبناء مصر وباقي الأجناس.
- (٢) زيادة التدخل الأجنبى فى شئون مصر فى عهد الخديو توفيق.
- (٣) سجلت ثورة ١٩١٩ تطوراً اجتماعياً خطيراً فى تاريخ مصر الحديث.
- (٤) كان الاحتلال البريطانى فى عام ١٨٨٢ م نكبة على مصر.
- (٥) لم تكن الثورة العرابية تخلو من زعامات وطنية مع أحمد عرابى.

س ٨ : اذكر :

- (١) السياسة البريطانية لمصر بعد الاحتلال عام ١٨٨٢ م.
- (٢) أهمية تصريح ٢٨ فبراير ١٩٢٢ م.
- (٣) أهم ما احتفظت به بريطانيا بعد تصريح ٢٨ فبراير ١٩٢٢ م.
- (٤) عوامل قيام ثورة ١٩١٩ م.
- (٥) ما دعا إليه محمد فريد فى مصر.

س ٩ : ماذا يحدث إذا ؟

- (١) استجاب مؤتمر الصلح فى باريس لمطالب الوفد المصرى.
- (٢) لم تصدر إنجلترا تصريح ٢٨ فبراير ١٩٢٢ م.
- (٣) يئس سعد زغول ورفاقه بعد رفض سلطات الاحتلال البريطانى سفرهم إلى فرنسا.
- (٤) لم ينجح طلعت حرب فى تأسيس بنك مصر.
- (٥) لم يعقد الاتفاق الودى بين إنجلترا وفرنسا عام ١٩٠٤ م.

س ١٠ : ما موقف كل من ؟

- (١) مؤتمر الصلح من القضية المصرية.
- (٢) الإمام محمد عبده من الثورة العرابية.

س ١١ : اذكر عملاً واحداً لكل من :

- (سعد زغول - أحمد عرابى - الإمام محمد عبده - طلعت حرب - الخديو توفيق - محمد فريد - مصطفى كامل) .

س ١٢ : اكتب أمام كل تاريخ حدثاً مهماً :

- (١٩٠٥ م) ، (سبتمبر ١٨٨١ م) ، (١٩٢٣ م) ، (١٩٢٤ م) ،
 (١٩١٠ م) ، (١٩٢٠ م) ، (١٩٠٤ م) ، (١٨٨٢ م) ، (١٩٢٢ م) .

أسئلة عامة على الوحدة الرابعة

س ١ : اكتب كلمة (صح) أمام العبارة الصحيحة وكلمة (خطأ) أمام العبارة الخطأ :

- (١) نجحت مصر فى مساندة معظم حركات التحرر فى آسيا وإفريقيا . ()
- (٢) أيد الاتحاد السوفيتى العدوان الثلاثى على مصر . ()
- (٣) تم تأميم شركة قناة السويس فى ٢٣ يوليو ١٩٥٢ م . ()
- (٤) نجحت ثورة يوليو فى إقامة حياة ديمقراطية سليمة . ()
- (٥) شارك جمال عبد الناصر فى تأسيس جمعية مصر الفتاة . ()
- (٦) نجحت الثورة فى القضاء على النظام الملكى وإعلان الجمهورية . ()
- (٧) استسلمت مصر لهزيمة ١٩٦٧م ولم تحاول استرداد أراضيها . ()
- (٨) الفريق أول عبد المنعم رياض من أهم شهداء حرب الاستنزاف . ()
- (٩) شاركت كل من مصر وسوريا فى حرب أكتوبر . ()
- (١٠) أسهم انتصار أكتوبر فى رد كرامة الجندى المصرى والعربى . ()
- (١١) إنهاء حالة اللاسلم و اللاحرب من أسباب حرب أكتوبر . ()
- (١٢) كان إعادة الملاحة فى قناة السويس سبباً من أسباب حرب أكتوبر . ()
- (١٣) من نتائج حرب أكتوبر ظهور أهمية التضامن ووحدة الصف العربى . ()
- (١٤) تم توقيع اتفاقية السلام فى مارس ١٩٧٩ م . ()
- (١٥) استعادت مصر دورها الرائد فى المنطقة العربية بعد حرب أكتوبر . ()
- (١٦) تعتبر ثورة ٢٥ يناير من أول الثورات التى قام بها المصريون . ()
- (١٧) الكرامة والحرية والعدالة الاجتماعية من أهداف ثورة ٢٥ يناير . ()
- (١٨) من أهم مميزات ثورة ٢٥ يناير تلاحم الشعب مع الجيش . ()
- (١٩) اقتصرت ثورة ٢٥ يناير على محافظات القاهرة والإسكندرية فقط . ()
- (٢٠) لم تنجح ثورة يناير فى الإفراج عن المعتقلين السياسيين . ()
- (٢١) إسقاط رأس النظام السياسى من أهم مطالب ٢٥ يناير . ()
- (٢٢) استجاب النظام السياسى لمطالب الشباب يوم ٢٥ يناير . ()
- (٢٣) حقق الجيش المصرى تلاحماً وطنياً عظيماً أثناء ثورة ٢٥ يناير . ()
- (٢٤) زاد الاهتمام بالكمبيوتر والإنترنت بعد ثورة ٢٥ يناير . ()
- (٢٥) بدأت ثورة ٢٥ يناير ٢٠١١م من ميدان العباسية بوسط القاهرة . ()
- (٢٦) انتهت ثورة ٢٥ يناير بتخلى رئيس الجمهورية عن مهامه . ()
- (٢٧) تدخلت القوات المسلحة قبل ثورة ٣٠ يونيو حفاظاً على الأمن العام . ()
- (٢٨) تم العمل بدستور ٢٠١٢م بعد عزل الرئيس مرسى . ()

س ٢ : أكمل ما يأتي :

- (١) وقعت اتفاقية الجلاء عام ١٩٥٤م بين مصر و
- (٢) من نتائج ثورة ٢٣ يوليو ١٩٥٢ م و
- (٣) تم القضاء على الإقطاع بإصدار
- (٤) توزيع الثروات القومية بين المواطنين توزيعاً عادلاً يسمى
- (٥) دخلت مصر في وحدة مع عام ١٩٥٨م ولكنها لم تدم طويلاً .
- (٦) كان نتيجة إعلان تأميم قناة السويس .
- (٧) نظم ضباط الجيش المصري تنظيمًا عرف باسم
- (٨) استشهد الفريق أول على خط الجبهة وسط قواته أثناء حرب الاستنزاف .
- (٩) احتلت إسرائيل بعد حرب يونيو ١٩٦٧م هضبة ... في سوريا و ... في مصر .
- (١٠) تحولت مصر بعد ثورة يوليو ١٩٥٢م من النظام الملكي إلى النظام
- (١١) شهدت مصر إعادة تنظيم القوات المسلحة بعد هزيمة
- (١٢) شهدت الفترة من بعد حرب ١٩٦٧ م وقبل حرب أكتوبر ١٩٧٣ م حرب
- (١٣) رفضت جميع المفاوضات مع مصر حتى حرب أكتوبر ١٩٧٣ م .
- (١٤) بدأت حرب أكتوبر ١٩٧٣ م الساعة يوم من شهر أكتوبر .
- (١٥) أقوى الحصون الإسرائيلية التي دمرت في حرب أكتوبر خط
- (١٦) من عوامل نجاح حرب أكتوبر و و
- (١٧) من نتائج حرب أكتوبر و
- (١٨) عادت الملاحة بقناة السويس عام م .
- (١٩) تم توقيع اتفاقية في مارس ١٩٧٩ م واستعادة
- (٢٠) يطلق على حرب أكتوبر اسم عند المصريين و عند السوريين .
- (٢١) من أسباب حرب أكتوبر إنهاء حالة و التي سيطرت على المنطقة .
- (٢٢) من إنجازات ثورة ٢٥ يناير و
- (٢٣) تجمع الشعب المصري في ٣٠ يونيو عام ٢٠١٣م للمطالبة ب
- (٢٤) طالب متظاهرو ثورة يناير باسقاط
- (٢٥) اشتعلت المظاهرات في ثورة يناير ٢٠١١ م وكانت البداية من ميدان
- (٢٦) من الثورات التي قام بها المصريون في العصر الحديث والمعاصر و
- (٢٧) من أسباب ثورة ٢٥ يناير و
- (٢٨) من نتائج ثورة ٣٠ يونيو عزل الرئيس وتسليم السلطة إلى
- (٢٩) من أسباب ثورة ٣٠ يونيو سوء الأحوال و
- (٣٠) رفض مرسى الموافقة على إجراء ورفضت المعارضة دعوته للحوار .
- (٣١) تم تسليم السلطة إلى المستشار عدلى منصور رئيس العليا .

س ٣ : اكتب ما تشير إليه كل عبارة من العبارات الآتية :

- (١) توزيع الثروات القومية بين المواطنين توزيعاً عادلاً .
- (٢) نظام تم القضاء عليه وإعلان الجمهورية بدلاً منه فى يونيو ١٩٥٣ م .
- (٣) قانون أصدرته ثورة ٢٣ يوليو للقضاء على الإقطاع .
- (٤) بناء على مجرى نهر النيل تم افتتاحه عام ١٩٧١ م .
- (٥) اعتداء كل من إنجلترا وفرنسا وإسرائيل على مصر فى أكتوبر ١٩٥٦ م .
- (٦) تنظيم أسسه جمال عبد الناصر وضم إليه مجموعة من الضباط المعروفين بوطنيتهم .
- (٧) جزء من سوريا وقع تحت الاحتلال الإسرائيلى منذ ١٩٦٧ م .
- (٨) مجموعة منظمة من الأعضاء تشترك فى وضع برامج محددة لتحسين شئون الدولة .
- (٩) غارات متقطعة قامت بها مصر بعد حرب ١٩٦٧م وحتى ١٩٧٣ م .
- (١٠) حرب كانت سبباً فى تغيير نظرة العالم للجيش المصرى .
- (١١) رئيس المحكمة الدستورية العليا الذى تولى رئاسة الجمهورية بعد ثورة ٣٠ يونيو .
- (١٢) خط أقامته إسرائيل على الضفة الغربية لقناة السويس لمنع تقدم الجيش المصرى إلى سيناء .
- (١٣) تلاحم مع الشعب وقام بحماية ثورة ٢٥ يناير ٢٠١١ م .
- (١٤) ثورة قام بها المصريون تحت حماية الجيش .
- (١٥) قام الشعب بتشكيلها للدفاع عن المنازل والمؤسسات العامة أثناء ثورة يناير .

س ٤ : اختر الإجابة الصحيحة مما بين القوسين :

- ١- عقدت مصر اتفاقية الجلاء عام ١٩٥٤م مع.....
(إنجلترا - فرنسا - إسرائيل - أمريكا)
- ٢- اشترك فى العدوان الثلاثى على مصر كل من بريطانيا وفرنسا و.....
(إسرائيل - أمريكا - سوريا - فلسطين)
- ٣- من أبرز الثورات التى ساندتها مصر ثورة.....
(العراق - الجزائر - تونس - المغرب)
- ٤- تم افتتاح السد العالى فى عام..... م . (١٩٥١ - ١٩٦١ - ١٩٧١ - ١٩٨١)
- ٥- حدث العدوان الثلاثى نتيجة.....
(تأميم قناة السويس - انتشار الفساد - تشكيل الضباط الأحرار)
- ٦- أصدر قانون الإصلاح الزراعى عام.....م . (١٩٥٢ - ١٩٥٣ - ١٩٥٤ - ١٩٥٦)
- ٧- نجحت ثورة ٢٣ يوليو فى القضاء على.....
(الإقطاع - الاحتكار - الاستعمار - كل ما سبق)

- ٨- عرفت الفترة ما بعد حرب ١٩٦٧ م وحتى حرب أكتوبر ١٩٧٣ م باسم حرب (الاستنزاف - تشرين - العبور)
- ٩- من شهداء حرب الاستنزاف الفريق أول (سعد الدين الشاذلي - عبد الحكيم عامر - عبد المنعم رياض)
- ١٠- اشتعلت حرب أكتوبر ١٩٧٣ م على الجبهتين المصرية و (السورية - العراقية - السودانية)
- ١١- تعتبر حرب أكتوبر الجولة من جولات الصراع العربى الإسرائيلى . (الأولى - الثانية - الثالثة - الرابعة)
- ١٢- عادت الملاحة فى فى يونيو ١٩٧٥ م. (قناة السويس - البحر الأحمر - البحر المتوسط - خليج العقبة)
- ١٣- تم توقيع اتفاقية فى مارس ١٩٧٩ م. (السلام - الأمم المتحدة - لندن)
- ١٤- سيطر الحزب قبل ثورة ٢٥ يناير. (الوفدى - الديمقراطى - الوطنى - الثورى)
- ١٥- بعد هزيمة ١٩٦٧ م استولت إسرائيل على (شبه جزيرة سيناء - هضبة الجولان - الضفة الغربية لنهر الأردن - جميع ما سبق)
- ١٦- استمرار سوء الأحوال الاقتصادية والاجتماعية بعد أدى إلى قيام ثورة ٣٠ يونيو . (٢٣ يوليو - ٢٥ يناير - ثورة ١٩١٩)
- ١٧- من نتائج ثورة ٣٠ يونيو عزل الرئيس وتسليم السلطة إلى المستشار عدلى منصور . (محمد مرسى - محمد حسنى مبارك - عبد الفتاح السيسى)
- ١٨- عقدت انتخابات الرئاسة بعد ثورة ٣٠ يونيو وإعلان فوز المرشح (محمد مرسى - عدلى منصور - عبد الفتاح السيسى)
- ١٩- تم تعديل دستور م و صدور الدستور الجديد فى يناير ٢٠١٤ م. (٢٠١٣ - ٢٠١١ - ٢٠١٢)

س ٥ : بم تفسر...؟

- ١- قيام ثورة ٢٣ يوليو ١٩٥٢ م .
- ٢- العدوان الثلاثى على مصر .
- ٣- فشل العدوان الثلاثى على مصر .
- ٤- إصدار قانون الإصلاح الزراعى الأول .
- ٥- قامت الثورة بتأميم قناة السويس .
- ٦- سوء أحوال مصر الاجتماعية قبل ثورة ٢٣ يوليو ١٩٥٢ م .

- ٧- تشكيل جمال عبد الناصر لتنظيم الضباط الأحرار .
- ٨- مشاركة فرنسا في العدوان الثلاثى على مصر .
- ٩- فشل المفاوضات بين مصر وإسرائيل قبل حرب أكتوبر ١٩٧٣ م .
- ١٠- الأسباب السياسية لقيام ثورة ٢٣ يوليو ١٩٥٢ م .
- ١١- صدور قرار مجلس الأمن رقم ٣٤٠ .
- ١٢- إصرار مصر على خوض حرب أكتوبر ١٩٧٣ م .
- ١٣- تسمية العديد من المدارس والشوارع والميادين باسم الشهيد عبد المنعم رياض .
- ١٤- ارتباك العدو الإسرائيلى فى بداية حرب أكتوبر ١٩٧٣ م .
- ١٥- وقف إطلاق النار بين مصر وإسرائيل أثناء حرب أكتوبر ١٩٧٣ م .
- ١٦- الاهتمام بالكمبيوتر والإنترنت عقب يوم ٢٥ يناير .
- ١٧- نجاح ثورة ٢٥ يناير ٢٠١١ م .
- ١٨- قيام ثورة ٣٠ يونيو ٢٠١٣ م .
- ١٩- تدخل القوات المسلحة ودعوتهأ إلى مصالحة وطنية قبل ثورة ٣٠ يونيو .
- ٢٠- تشكيل اللجان الشعبية أثناء ثورة ٢٥ يناير ٢٠١١ م .

س ٦ : ما النتائج المترتبة على ؟

- ١- سوء الأحوال الاجتماعية والاقتصادية والسياسية فى مصر قبل ثورة ٢٣ يوليو ١٩٥٢ م .
- ٢- مناصرة مصر لحركات التحرر فى آسيا وأفريقيا .
- ٣- معارضة الاتحاد السوفيتى للعدوان الثلاثى على مصر .
- ٤- توقيع اتفاقية الجلاء فى أكتوبر ١٩٥٤ م .
- ٥- قانون الإصلاح الزراعى الأول .
- ٦- عدم التزام إسرائيل بتنفيذ قرار مجلس الأمن رقم ٣٣٨ .
- ٧- السرية التامة والتخطيط الجيد لحرب أكتوبر .
- ٨- ثورة ٣٠ يونيو ٢٠١٣ م .
- ٩- ثورة ٢٥ يناير ٢٠١١ م من الناحية الاجتماعية .
- ١٠- سوء الحالة الأمنية فى الشارع المصرى أثناء ثورة ٢٥ يناير .

س ٧ : انكر :

- ١- أسباب ثورة ٢٣ يوليو ١٩٥٢ م .
- ٢- أسباب حرب أكتوبر ١٩٧٣ م .
- ٣- نتائج حرب أكتوبر ١٩٧٣ م .
- ٤- أهداف ثورة ٢٥ يناير ٢٠١١ م .

- ٥- أهم إنجازات ثورة ٢٥ يناير ٢٠١١ م .
- ٦- أسباب ثورة ٣٠ يونيو ٢٠١٣ م .
- ٧- نتائج ثورة ٣٠ يونيو .

س ٨ : ماذا كان يحدث إذا ؟

- ١- لم تقم ثورة ٢٣ يوليو ١٩٥٢ م بتأميم قناة السويس .
- ٢- لم يتكون تنظيم الضباط الأحرار .
- ٣- لم توقع الثورة اتفاقية الجلاء أكتوبر ١٩٥٤ م .
- ٤- لم تتوافر السرية التامة لحرب أكتوبر ١٩٧٣ م .
- ٥- لم تساعد الدول العربية مصر فى حرب أكتوبر ١٩٧٣ م .
- ٦- لم ينتصر المصريون فى حرب أكتوبر ١٩٧٣ م .
- ٧- تحسنت الأوضاع الاقتصادية والاجتماعية والصحية قبل ثورة ٢٥ يناير .
- ٨- لم تستخدم الشرطة العنف ضد المتظاهرين أثناء ثورة ٢٥ يناير ٢٠١١ م .
- ٩- وافق الرئيس محمد مرسى على إجراء انتخابات رئاسية مبكرة .
- ١٠- لم تقم القوات المسلحة بدعوتها إلى قيام مصالحة حقيقية بين الرئيس مرسى والمعارضة أثناء ثورة ٣٠ يونيو ٢٠١٣ م .

س ٩ : اكتب أمام كل تاريخ حدثاً مهماً :

- | | |
|---------------------|---------------------|
| (١) يوليو ١٩٥٦ م . | (٢) أكتوبر ١٩٥٤ م . |
| (٣) أكتوبر ١٩٥٦ م . | (٤) يونيو ١٩٦٧ م . |
| (٥) سبتمبر ١٩٥٢ م . | (٦) يونيو ١٩٥٣ م . |

س ١٠ : دلل على صحة العبارات الآتية:

- ١- عدم التزام إسرائيل بقرارات مجلس الأمن .
- ٢- العرب قوة إذا اتحدوا .
- ٣- تم القضاء على أسطورة الجيش الإسرائيلي بعد حرب ١٩٧٣ م .
- ٤- نجح الجندي المصري فى كسر حاجز الخوف .
- ٥- سوء الأحوال الاقتصادية والاجتماعية بعد ثورة ٢٥ يناير ٢٠١١ م .

والآن مع التدريبات العامة

التدريبات العامة على الفصل الدراسى الثانى

السؤال الأول : اكتب كلمة (صح) أمام العبارة الصحيحة ، وكلمة (خطأ) أمام العبارة غير

الصحيحة مع التصويب فيما يلى :

- ١- تعد الصحراء الغربية أكبر صحارى مصر مساحة. ()
- ٢- تمتد الصحراء الشرقية من وادى النيل والدلتا شرقاً حتى الحدود المصرية الليبية غرباً. ()
- ٣- تقع هضبة مارماريكا فى الشمال من الصحراء الشرقية. ()
- ٤- تعرف الهضبة الجنوبية فى الصحراء الغربية بهضبة الجلف الكبير. ()
- ٥- يعد جبل سانت كاترين من أعلى جبال شبه جزيرة سيناء. ()
- ٦- يتميز مناخ البيئة الصحراوية بالاعتدال صيفاً وشتاءً. ()
- ٧- تربة البيئة الصحراوية تربة طينية لزجة. ()
- ٨- من العادات الإيجابية فى البيئة الصحراوية الزواج المبكر. ()
- ٩- يؤدى تملح التربة إلى رفع كفاءة إنتاجية الأرض. ()
- ١٠- يحد الصحراء الغربية البحر الأحمر شرقاً ووادى النيل غرباً. ()
- ١١- تضم البيئة الساحلية فى مصر إحدى عشرة محافظة. ()
- ١٢- تُعد مدينة مرسى مطروح من المدن المليونية بالبيئة الساحلية. ()
- ١٣- تنتشر الشعاب المرجانية بمناطق متفرقة بسواحل البحر المتوسط. ()
- ١٤- تكثر الخلجان على ساحلى خليج السويس والعقبة وتقل على طول ساحل البحر الأحمر. ()
- ١٥- يعمل بعض سكان البيئة الساحلية بالزراعة. ()
- ١٦- تعد البيئة الساحلية مناطق طرد لسكانها. ()
- ١٧- أصدرت الدولة قوانين تجرم إلقاء مخلفات الصرف فى مياه البحر. ()
- ١٨- تنتشر التلال الجيرية على طول الساحل الشمالى الشرقى لمصر. ()
- ١٩- أظهرت حرب أكتوبر ١٩٧٣ م أهمية التضامن العربى. ()

- ٢٠- ساندت ثورة يوليو ١٩٥٢م معظم حركات التحرر الوطنى فى آسيا وأوروبا . ()
- ٢١- حصل الجنود والضباط المصريين على كافة حقوقهم فى عهد وزارة رياض باشا . ()
- ٢٢- أعلنت إنجلترا حمايتها على مصر فى عام ١٩٠٤م . ()
- ٢٣- عقدت فرنسا مع إنجلترا ما عرف بالاتفاق الودى عام ١٩٠٤م . ()
- ٢٤- أدت الامتيازات الأجنبية إلى تدخل إنجلترا وفرنسا فى شئون مصر . ()
- ٢٥- انضم الزعيم مصطفى كامل إلى صفوف الثورة العرابية . ()
- ٢٦- قام محمد فريد بدور كبير فى مقاومة الاحتلال البريطانى . ()
- ٢٧- بدأت الحرب العالمية الأولى فى أغسطس ١٩١٤م . ()
- ٢٨- وافقت السلطات البريطانية فى مصر على سفر الوفد المصرى إلى باريس . ()
- ٢٩- خيب مؤتمر الصلح آمال المصريين فى الحرية و الاستقلال . ()
- ٣٠- نفى الزعيم سعد زغلول ورفاقه فى المرة الأولى إلى جزيرة سيشل . ()
- ٣١- شكل سعد زغلول أول حكومة دستورية فى مصر عام ١٩١٩م . ()
- ٣٢- تُعد ثورة ١٩١٩م ثورة شعبية . ()
- ٣٣- رفض محمد فريد مد مشروع امتياز شركة قناة السويس عام ١٩١٠م . ()
- ٣٤- أسس طلعت حرب بنك مصر عام ١٩٢٢م . ()
- ٣٥- ساهم بنك مصر فى تمويل الصناعات المصرية الكبيرة . ()
- ٣٦- عُزل اللورد كرومر من منصبه بعد حادثة دنشواى عام ١٩٠٦م . ()
- ٣٧- أعلن تأميم شركة قناة السويس فى عام ١٩٥٦م . ()
- ٣٨- أعلن الرئيس الأمريكى نلسون أثناء الحرب العالمية الأولى حق كل دولة فى تقرير مصيرها . ()

السؤال الثانى : اكتب المفهوم أو المصطلح الذى تعبر عنه العبارات التالية :-

- ١- أرض منخفضة عن مستوى سطح البحر . (.....
- ٢- كومات رملية تأخذ أشكالاً مختلفة وتنتشر فى مناطق الصحارى . (.....
- ٣- أرض منخفضة بالصحراء تقوم بها الزراعة على المياه الجوفية . (.....
- ٤- سياحة تتم داخل الصحراء . (.....
- ٥- سياحة الغرض منها التمتع بالبيئة الطبيعية خاصة مناطق المحميات . (.....
- ٦- وجود كميات كبيرة من الرمال المفككة تقوم الرياح بتحريكها من مكان لآخر . (.....
- ٧- أرض مرتفعة قليلاً ومكونة من الصخور الجيرية ناصعة البياض . (.....
- ٨- توغل مياه البحر فى اليابس ويتصل بالبحر عن طريق فتحة واحدة . (.....
- ٩- تكوينات أفرزتها حيوانات بحرية دقيقة . (.....
- ١٠- خليج ذو مدخل ضيق متعمق فى اليابس . (.....
- ١١- المدينة التى يزيد عدد سكانها على مليون نسمة . (.....
- ١٢- هجرة أفراد وجماعات إلى خارج الدولة بطرق غير قانونية . (.....
- ١٣- قيام الأمواج بنحت الصخور التى تشكل ساحل البحر . (.....
- ١٤- خروج القوات المحتلة من أراضى الدولة التى احتلتها نهائياً . (.....

السؤال الثالث : ما النتائج المترتبة على؟

- ١- حدوث السيول فى البيئة الصحراوية .
- ٢- هبوب رياح الخماسين على مصر .
- ٣- توفر المياه الجوفية فى الصحارى المصرية .

- ٤- ندرة الماء فى الصحراء المصرية .
- ٥- توفر مناطق التعدين وحقول البترول فى البيئة الصحراوية .
- ٦- تمتع البيئة الصحراوية بمناظرها الخلابة .
- ٧- حركة الرمال على البيئة الصحراوية .
- ٨- إنشاء الدولة للسدود على الأودية .
- ٩- انتشار سلاسل التلال الجيرية فى البيئة الساحلية .
- ١٠- اقتراب الجبال من ساحل خليج العقبة .
- ١١- عقد الاتفاق الودى بين إنجلترا وفرنسا .
- ١٢- اعتراف مؤتمر الصلح بالحماية البريطانية على مصر .
- ١٣- إصدار قانون الإصلاح الزراعى سنة ١٩٥٢م .
- ١٤- كفاح مصطفى كامل ضد الاحتلال البريطانى .
- ١٥- سوء أحوال مصر الاقتصادية فى عهد وزارة رياض باشا .
- ١٦- معركة التل الكبير ١٨٨٢ م .
- ١٧- نفى سعد زغلول وزملائه إلى جزيرة مالطة ١٩١٩ م .
- ١٨- إنشاء طلعت حرب لبنك مصر .
- ١٩- عقد معاهدة السلام بين مصر وإسرائيل ١٩٧٩م .
- ٢٠- انتصار المصريين فى حرب أكتوبر ١٩٧٣ م .

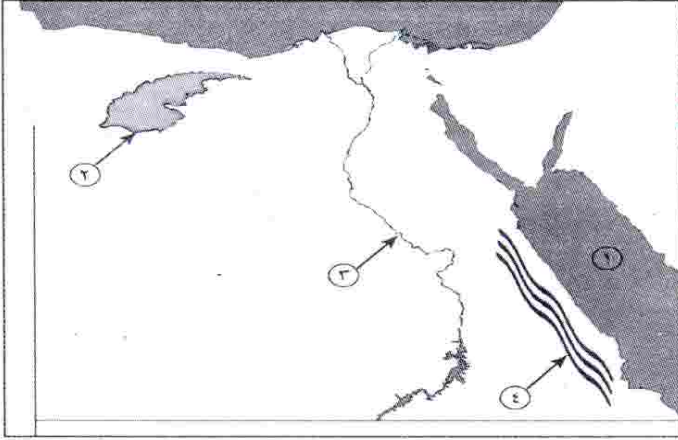
السؤال الرابع : قارن بين كل من :

- ١- الصحراء الغربية - الصحراء الشرقية من حيث مظاهر السطح .
- ٢- سكان البيئة الصحراوية - سكان البيئة الساحلية من حيث العادات والتقاليد .
- ٣- البيئة الصحراوية والبيئة الساحلية من حيث النبات الطبيعى والحيوان البرى .
- ٤- البيئة الصحراوية والبيئة الساحلية من حيث المشكلات فى كل منهما .
- ٥- الخليج - الشرم .
- ٦- العادات الإيجابية والسلبية لسكان البيئة الساحلية .
- ٧- ثورة ١٨٨١ م وثورة ١٩١٩ م من حيث الأسباب والنتائج .
- ٨- ثورة ٢٥ يناير ٢٠١١م و ثورة ٣٠ يونيو ٢٠١٣م من حيث الأسباب والنتائج .
- ٩- الأسباب السياسية - الأسباب الاقتصادية لثورة يوليو ١٩٥٢ م .

السؤال الخامس :

(أ) أمامك خريطة صماء لجمهورية مصر العربية.

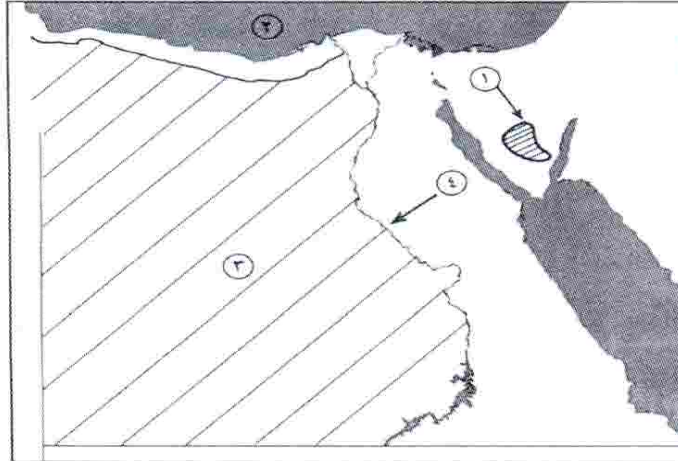
اكتب مدلول الأرقام الموقعة عليها :



- ١- البحر
- ٢- منخفض
- ٣- نهر
- ٤- جبال

(ب) أمامك خريطة صماء لجمهورية مصر العربية.

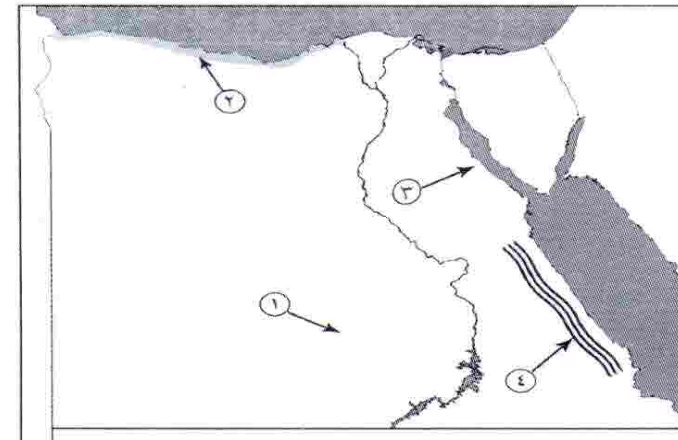
اكتب مدلول الأرقام الموقعة عليها :



- ١- هضبة
- ٢- البحر
- ٣- الصحراء
- ٤- نهر

(ج) أمامك خريطة صماء لجمهورية مصر العربية.

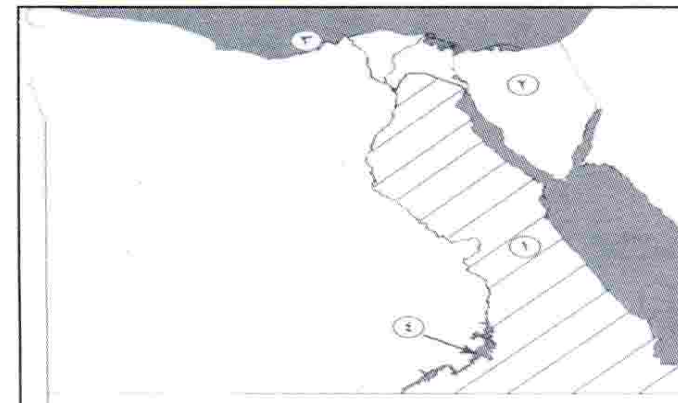
اكتب مدلول الأرقام الموقعة عليها :



- ١- منخفض
- ٢- الساحل
- ٣- خليج
- ٤- جبال

(د) أمامك خريطة صماء لجمهورية مصر العربية.

اكتب مدلول الأرقام الموقعة عليها :-



- ١- الصحراء
- ٢- شبه جزيرة
- ٣- البحر
- ٤- بحيرة

السؤال السادس : أكمل العبارات الآتية بما يناسبها من كلمات :

- ١- توجد البيئة الصحراوية فى ثلاث مناطق وهى و و
- ٢- تمتد الصحراء الغربية من وادى النيل شرقًا إلى حدود دولة غربًا .
- ٣- يخترق وادى هضبتان العجمة و ويصب فى البحر
- ٤- تقع هضبتى و فى الصحراء الشرقية .
- ٥- يعد وادى من الأودية الجافة فى الصحراء الشرقية .
- ٦- يميل مناخ البيئة الصحراوية إلى الحرارة فى فصل الصيف .
- ٧- تتوفر المياه بالبيئة الصحراوية .
- ٨- من أهم الحيوانات البرية فى البيئة الصحراوية
- ٩- تعد من مناطق التركيز السكانى فى البيئة الصحراوية .
- ١٠- من أهم العادات السلبية فى البيئة الصحراوية عمل الأطفال فى
- ١١- تعد حرفة من الحرف الأصلية فى البيئة الصحراوية .
- ١٢- يهتم سكان البيئة الصحراوية بالصناعات
- ١٣- من أهم مناطق تعدين الحديد بالصحراء الغربية منطقة
- ١٤- سياحة الغرض منها التمتع بالبيئة الطبيعية .
- ١٥- تعد البيئة مستقبل مصر .
- ١٦- تؤثر فى إتلاف الحقول الزراعية بالبيئة الصحراوية .
- ١٧- تمتد البيئة على طول ساحل البحر المتوسط والبحر الأحمر .
- ١٨- تقوم بدور مهم فى تخزين مياه الأمطار فى البيئة الساحلية .
- ١٩- من أشهر القبائل الرعوية فى الصحراء الشرقية قبائل
- ٢٠- تنتشر فى مناطق متفرقة على طول ساحل البحر الأحمر .
- ٢١- من أهم النباتات الطبيعية فى البيئة الساحلية شجيرات
- ٢٢- المدن هى المدن التى يزيد عدد سكانها عن مليون نسمة .
- ٢٣- طبع البحر سكان البيئة الساحلية على حب والشجاعة فى مواجهة الأخطار .
- ٢٤- من العادات السلبية لسكان البيئة الساحلية الهجرة غير

- ٢٥- تعد بحيرة أولى بحيرات مصر لإنتاج الأسماك.
- ٢٦- تعد حرفة من الحرف الرئيسة فى البيئة الساحلية.
- ٢٧- تولى زعامة الحركة الوطنية المصرية فى أواخر القرن التاسع عشر.
- ٢٨- بدأ كفاحه ضد استبداد النظام التركى منذ عهد الخديو إسماعيل.
- ٢٩- فشلت القوات البريطانية فى دخول مصر عن طريق
- ٣٠- أسس مصطفى كامل جريدة..... سنة ١٩٠٠ م.
- ٣١- ساندت ثورة يوليو ١٩٥٢ م معظم حركات التحرر الوطنى فى و
- ٣٢- توقفت الملاحة البحرية فى بعد حرب يونيو ١٩٦٧ م.
- ٣٣- عقدت فرنسا مع إنجلترا ما يعرف ب..... عام ١٩٠٤ م.
- ٣٤- عزل اللورد كرومر من منصبه عقب حادثة.....
- ٣٥- تم اختيار وزيراً للحقانية عام ١٩١٠م.
- ٣٦- نفى سعد زغلول وزملائه فى مارس ١٩١٩ م إلى جزيرة
- ٣٧- أعقب تصريح ٢٨ فبراير ١٩٢٢ م إصدار دستور
- ٣٨- شكل سعد زغلول أول فى مصر عام ١٩٢٤ م.
- ٣٩- رفض محمد فريد مد امتياز شركة فى عام ١٩١٠م.
- ٤٠- أسس طلعت حرب بنك عام ١٩٢٠ م.
- ٤١- تم افتتاح عام ١٩٧١ م.
- ٤٢- تجمع الشعب المصرى مرة أخرى فى ٣٠ يونيو عام ٢٠١٣ م للمطالبة ب.....

السؤال السابع : بم تفسر ؟

- ١- حدوث السيول فى البيئة الصحراوية.
- ٢- وجود السكان بالواحات فى البيئة الصحراوية.
- ٣- معاناة سكان البيئة الصحراوية من المشكلات الاقتصادية.
- ٤- تعد السياحة من الأنشطة الاقتصادية المهمة فى البيئة الصحراوية.
- ٥- لحركة الرمال آثارها السلبية فى البيئة الصحراوية.
- ٦- إنشاء السدود على الأودية المنتشرة فى الصحراء.
- ٧- أهمية التلال الجيرية الممتدة على الساحل الشمالى للبحر المتوسط.

- ٨- ضيق السهول الساحلية المطلة على خليج العقبة.
- ٩- اعتدال مناخ البيئة الساحلية.
- ١٠- نمو الشعاب المرجانية على طول ساحل البحر الأحمر.
- ١١- تركيز نسبة كبيرة من سكان مصر فى المحافظات الساحلية.
- ١٢- تنوع الأنشطة الاقتصادية فى البيئة الساحلية.
- ١٣- قيام النشاط الزراعى فى الساحل الشمالى الغربى لمصر.
- ١٤- قيام حرب أكتوبر ١٩٧٣ م.
- ١٥- قيام ثورة ٢٥ يناير ٢٠١١ م.
- ١٦- زيادة التدخل الأجنبى فى شئون مصر قبل الثورة العراقية.
- ١٧- قيام الثورة العراقية ١٨٨١ م.
- ١٨- سوء أحوال المصريين الاقتصادية فى عهد وزارة رياض باشا.
- ١٩- هزيمة أحمد عرابى فى معركة التل الكبير.
- ٢٠- عزل اللورد كرومر من منصبه كمعتمد بريطانى.
- ٢١- نفى سعد زغلول وزملائه إلى جزيرة مالطة.
- ٢٢- العدوان الثلاثى على مصر ١٩٥٦ م.
- ٢٣- عقد معاهدة السلام بين مصر وإسرائيل مارس ١٩٧٩ م.

السؤال الثامن : ماذا يحدث إذا ...؟

- ١- تميز مناخ البيئة الصحراوية بالاعتدال طوال العام.
- ٢- لم تتوفر المياه الجوفية بالبيئة الصحراوية.
- ٣- تميزت تربة البيئة الصحراوية بالتكوينات الطينية.
- ٤- لم توجد سلاسل التلال الجيرية على طول الساحل الشمالى الغربى للبحر المتوسط.
- ٥- قلَّ النشاط السياحى فى البيئة الساحلية.
- ٦- ألقى سكان المدن الساحلية بمياه الصرف الصحى فى البحر.
- ٧- ردم أحمد عرابى قناة السويس من جهة الشمال.
- ٨- رفض مؤتمر الصلح الحماية البريطانية على مصر.

- ٩- لم تصدر بريطانيا تصريح ٢٨ فبراير ١٩٢٢م.
- ١٠- لم تعقد اتفاقية السلام بين مصر وإسرائيل عام ١٩٧٩م.
- ١١- لم يتم تأميم شركة قناة السويس ١٩٥٦م.

السؤال التاسع : (أ) (تتنوع مظاهر السطح فى البيئة الصحراوية تنوعاً ملحوظاً)

على ضوء هذه العبارة أجب ...

- ١- ما أهم الجبال فى الصحراء الشرقية ؟
- ٢- ما أوجه التشابه والاختلاف بين هضاب الصحراء الشرقية والغربية ؟
- ٣- كيف يتكيف النبات فى البيئة الصحراوية مع الظروف الطبيعية ؟
- ٤- ما الفرق بين الرأس الأرضى والخليج مع إعطاء مثال لكل منهما ؟

(ب) (توجد بالبيئة الصحراوية كميات ضخمة من أجود أنواع الصخور التى

تستخدم فى مجالات متعددة). على ضوء هذه العبارة وضع

- ١- أهم أماكن تواجد خامى الحديد والفوسفات فى البيئة الصحراوية .
- ٢- العلاقة بين البيئة الصحراوية والنشاط السياحى .
- ٣- تخيل إنك مسئول عن تعمير الصحراء فما أهم القرارات التى سوف تتخذها فى هذا المجال ؟
- ٤- قارن بين البيئة الصحراوية والبيئة الساحلية من حيث العادات الإيجابية للسكان ؟

(ج) (قاد سعد زغلول الحركة الوطنية من أجل الاستقلال والدستور).

على ضوء هذه العبارة وضع ..

- ١- عوامل قيام ثورة ١٩١٩ م.
- ٢- رأيك فى تصريح ٢٨ فبراير ١٩٢٢ م.
- ٣- الدور الذى قام به الطلبة والعمال فى ثورة ١٩١٩ م.

*** والآن مع الاختبارات العامة ***

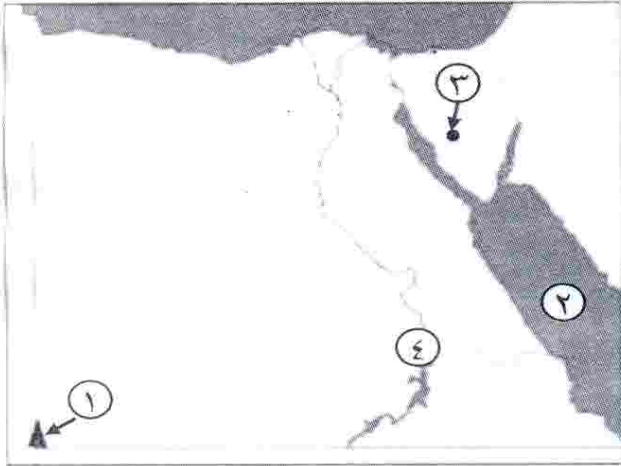
مجاب
عنه

الاختبار الأول

أولاً : الجغرافيا

أجب عن الأسئلة الآتية :

السؤال الأول : (أ) أمامك خريطة صماء لمصر ،
اكتب مدلول الأرقام الموقعة عليها:



- ١- جبل
- ٢- البحر
- ٣- حقل منجنيز
- ٤- محمية

(ب) ما النتائج المترتبة على ...؟

- ١- سقوط الأمطار بغزارة أحياناً على الصحراء .
- ٢- ارتباط سكان البيئة الساحلية بالبحر في معظم أعمالهم .
- ٣- دفء وشفاء وهدوء حركة المياه في البحر الأحمر .

السؤال الثاني : (أ) اكتب كلمة (صح) أمام العبارة الصحيحة ، وكلمة (خطأ) أمام العبارة

الخطأ مع التصويب :

- ١- مساحة الصحراء الشرقية أكبر من مساحة الصحراء الغربية . ()
- ٢- تعد البيئة الساحلية منطقة جذب لسكان البيئات الأخرى . ()
- ٣- تختفى ظاهرة المنخفضات من سطح الصحراء الغربية . ()
- ٤- يتسم السهل الساحلى على خليج العقبة بالضيق . ()
- ٥- المدينة المليونية هي التي يزيد عدد سكانها عن ١٠٠٠٠٠٠ نسمة . ()
- ٦- تتآكل السواحل بفعل الأمطار . ()

(ب) ماذا يحدث إذا ؟

- ١- زادت مياه الأمطار فى المناطق الصحراوية .
- ٢- لم تطل مصر على البحر المتوسط والبحر الأحمر .

ثانياً : التاريخ

السؤال الثالث : (أ) اختر الإجابة الصحيحة مما بين القوسين :-

- ١- أسس جريدة اللواء سنة ١٩٠٠ م .
(مصطفى كامل - محمد فريد - طلعت حرب - سعد زغلول)
- ٢- فشلت القوات البريطانية دخول مصر عن طريق
(كفر الدوار - التل الكبير - كفر الزيات - الإسكندرية)
- ٣- قامت الوحدة بين مصر و عام ١٩٥٨ م .
(ليبيا - السودان - فلسطين - سوريا)
- ٤- ارتبط اسم بالاستقلال الاقصادى لمصر .
(أحمد عرابى - طلعت حرب - ديليسبس - مصطفى كامل)

٥ (ب) ما الدروس المستفادة من ؟

- ١- حرب أكتوبر ١٩٧٣ م.
- ٢- هزيمة أحمد عرابى فى التل الكبير.
- ٣- التعاون العربى فى حرب أكتوبر ١٩٧٣ م.

السؤال الرابع : (أ) بم تفسر ؟

- ١- قيام ثورة ٣٠ يونيو ٢٠١٣ م .
- ٢- فشل العدوان الثلاثى على مصر عام ١٩٥٦ م .
- ٣- اندلاع ثورة الشعب المصرى عام ١٩١٩ م .

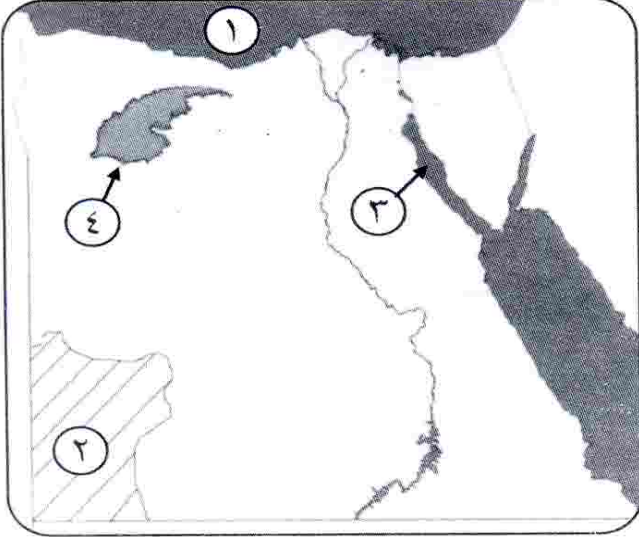
(ب) إلى من تنسب الأعمال الآتية؟

- ١- أسس تنظيم الضباط الأحرار .
- ٢- أنشأ نقابات للعمال ودعا لتأسيس حكومة وطنية وإنشاء مجلس نيابى .

مجاب
عنه

الاختبار الثانى

أولاً : الجغرافيا



السؤال الأول : (أ) أمامك خريطة صماء لمصر .

اكتب مدلول الأرقام الموقعة عليها :

- ١- البحر
- ٢- هضبة
- ٣- خليج
- ٤- منخفض

(ب) اكتب المفهوم الجغرافى الذى تدل عليه العبارات الآتية :

- ١- تجمعات من الرمال تأخذ أشكالاً مختلفة وتنتشر فى مناطق الصحارى.
- ٢- مدينة يزيد عدد سكانها على مليون نسمة.
- ٣- قيام الأمواج بنحت الصخور التى تشكل ساحل البحر.

السؤال الثانى : (أ) بم تفسر؟

- ١- معاناة سكان البيئة الصحراوية من مشكلات اقتصادية عديدة.
- ٢- تملح التربة فى بعض المناطق بالبيئة الصحراوية.
- ٣- تعد السياحة من الأنشطة الاقتصادية المهمة فى البيئة الصحراوية.

(ب) ماذا يحدث إذا ؟

- ١- أهملت الدولة إقامة الفنادق والمخيمات والطرق الجديدة.
- ٢- لم تتواجد التلال الجيرية بالساحل الشمالى الغربى لمصر.

ثانياً : التاريخ

السؤال الثالث : (أ) اختر الإجابة الصحيحة مما بين القوسين وأكمل الفراغات التالية :

- ١- احتلت القوات البريطانية مصر بعد هزيمة الجيش المصرى فى
(كفر الدوار - التل الكبير - الإسماعيلية - القاهرة)
- ٢- فشلت إسرائيل فى اقتحام مدينة أثناء حرب أكتوبر بفضل تعاون الشعب مع الجيش . **بالجيش** (الإسماعيلية - بورسعيد - السويس - القاهرة)
- ٣- التحق أحمد عرابى بالجيش فى عهد الخديو
(توفيق - إسماعيل - سعيد - عباس)
- ٤- كان للرئيس جمال عبد الناصر دور فى تأسيس
(الحركة الوطنية - تنظيم الضباط الأحرار - جريدة اللواء - الحزب الوطنى)

(ب) ما النتائج المترتبة على ؟

- ١- سوء أحوال مصر السياسية والاقتصادية فى أواخر فترة حكم الرئيس الأسبق محمد حسنى مبارك.
- ٢- تأميم شركة قناة السويس عام ١٩٥٦ م.
- ٣- نفى سعد زغلول وبعض زعماء الوفد المصرى للمرة الثانية.

السؤال الرابع : (أ) من الذى قام بالأعمال التالية ؟

- ١- شكل أول حكومة دستورية فى مصر ١٩٢٤ م.
- ٢- دعا لإنشاء مجلس نيابى ومدارس ليلية لتعليم العمال.
- ٣- أسس جريدة اللواء عام ١٩٠٠ م.
- ٤- أسس بنك مصر عام ١٩٢٠ م.
- ٥- أعلن أثناء الحرب العالمية الأولى حق الشعوب فى تقرير مصيرها.

(ب) (تميزت ثورة ٢٥ يناير بأنها ثورة سلمية) .

على ضوء العبارة السابقة - أجب عن الآتى :

- ١- ما الأسباب التى أدت إلى قيام هذه الثورة ؟
- ٢- بم تفسر؟ قيام ثورة ٣٠ يونيو ٢٠١٣ م .
- ٣- عبر بأسلوبك عن كيف يمكن تحقيق العدالة الاجتماعية بالمجتمع المصرى ؟

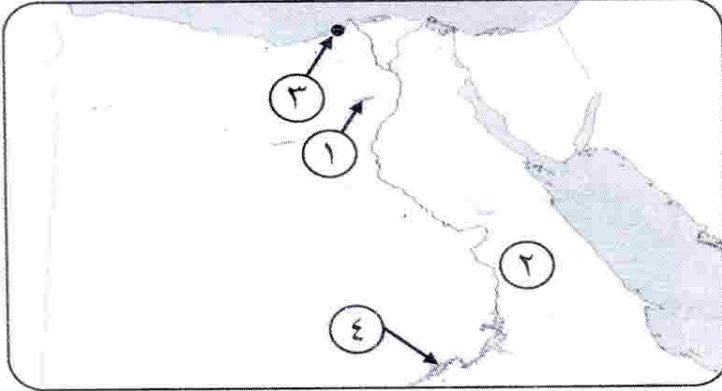
مجاب
عنه

الاختبار الثالث

٤ ٧

أولاً : الجغرافيا

السؤال الأول : (أ) أمامك خريطة صماء لمصر ، اكتب مدلول الأرقام الموقعة عليها :



- ١- منخفض
- ٢- الصحراء
- ٣- مدينة
- ٤- بحيرة

(ب) بم تفسر ؟

- ١- السياحة من الأنشطة الاقتصادية المهمة بالبيئة الصحراوية .
- ٢- نمو الشعاب المرجانية على ساحل البحر الأحمر .
- ٣- أهمية التلال الجيرية بالساحل الشمالى الغربى لمصر .

السؤال الثانى : (أ) اكتب كلمة (صح) أمام العبارة الصحيحة وكلمة (خطأ) أمام العبارة

الخطأ مع التصويب :

- ١- يعتمد سكان الواحات على المياه الجوفية فى الزراعة. ()
- ٢- تملح التربة من المشكلات التى تتعرض لها البيئة الصحراوية. ()
- ٣- تتميز مناطق البيئة الساحلية بالبحر الأحمر بغزارة الأمطار. ()
- ٤- النشاط الزراعى لا يعد نشاطاً رئيساً للسكان فى البيئة الساحلية. ()

(ب) ماذا يحدث إذا ؟

- ١- لم توجد مناطق التعدين فى البيئة الصحراوية.
- ٢- لم تتعرض مصر لرياح الخماسين.
- ٣- أهملت الدولة شواطئ البحر المتوسط والأحمر.

(ج) اذكر نتيجة واحدة لكل من :

- ١- إنشاء السدود على الأودية فى البيئة الصحراوية.
- ٢- تآكل سواحل الدلتا. X
- ٣- تلوث البيئة الساحلية. X

ثانياً : التاريخ

السؤال الثالث : (أ) أكمل العبارات التالية :

- ١- تسلم المستشار سلطة البلاد بعد عزل الرئيس محمد مرسى.
- ٢- رغم موافقة على قرار مجلس الأمن رقم ٣٣٨ إلا أنها لم تلتزم به.
- ٣- قدم أحمد عرابى فى ٩ سبتمبر ١٨٨١م مطالب الأمة ومنها
- ٤- خلف مصطفى كامل فى كفاحه
- ٥- شكل الضباط المصريون تنظيم للقيام بالثورة فى ١٩٥٢م.
- ٦- احتلت مصر فى ١٤ سبتمبر ١٨٨٢م.

(ب) بم تفسر ؟

- ١- قيام ثورة ١٩١٩م .
- ٢- خيب مؤتمر الصلح فى باريس آمال المصريين .

السؤال الرابع : (أ) رتب الأحداث التاريخية الآتية من القديم إلى الحديث :

- ١٩٠٦ - ١٩٠٤ - ١٩١٩ - ١٨٨٢ - ١٩٥٢
- معركة التل الكبير - نفي سعد زغلول - الاتفاق الودى - حادثة دنشواى - صدور أول دستور مصرى .

(ب) اذكر عملاً واحداً لكل من :

- ١- طلعت حرب.
- ٢- أحمد عرابى .
- ٣- محمد فريد .

(ج) ما الدروس المستفادة من ثورة ٢٥ يناير ٢٠١١م ؟

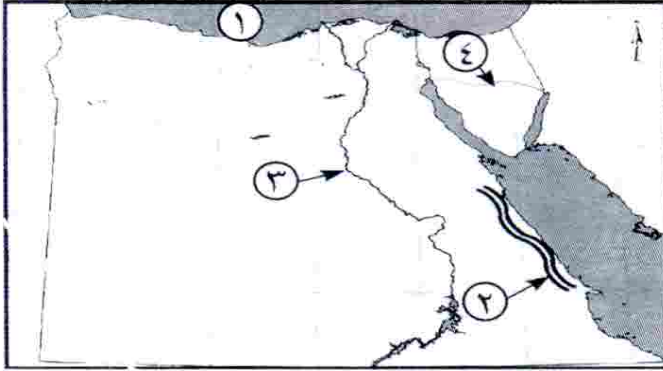
اطلب الآن من جميع مكاتب وفروع قطر الندى
كراسة قطر الندى للمراجعة النهائية والامتحانات
للراغبين فى التفوق

مجاب
عنه

الاختبار الرابع

أولاً : الجغرافيا

السؤال الأول : (أ) أمامك خريطة صماء لمصر ، اكتب مدلول الأرقام الموقعة عليها :



- ١- البحر
- ٢- سلاسل جبال
- ٣- نهر
- ٤- هضبة

(ب) بم تفسر ؟

- ١- تلوث المناطق الشاطئية فى البيئة الساحلية .
- ٢- ضيق السهل الساحلى على خليج العقبة .
- ٣- انتشار الشعاب المرجانية فى مناطق متفرقة على ساحل البحر الأحمر .

السؤال الثانى : (أ) اكتب كلمة (صح) أمام العبارة الصحيحة وكلمة (خطأ) أمام العبارة

الخطأ مع تصويبها :

- ١- من مشكلات السكان فى البيئة الساحلية الازدحام السكانى بالمدن. ()
- ٢- يتسم مناخ البيئة الصحراوية بغزارة الأمطار. ()
- ٣- حرفة الصيد من الحرف الرئيسة فى المدن الساحلية. ()
- ٤- بحيرة المنزلة أولى البحيرات إنتاجاً للأسماك فى مصر. ()

(ب) ما النتائج المترتبة على ؟

- ١- سقوط الأمطار الشتوية على سواحل البحر المتوسط.
- ٢- انتشار المعادن فى البيئة الصحراوية.
- ٣- إنشاء الدولة شبكة من الطرق فى البيئة الصحراوية.

ثانياً : التاريخ

السؤال الثالث : (أ) اختر الإجابة الصحيحة مما بين الأقواس :

- ١- دعا إلى تأسيس حكومة وطنية مستقلة
(جمال عبد الناصر - سعد زغلول - محمد فريد - طلعت حرب)
- ٢- أسس الزعيم أول حكومة دستورية فى مصر.
(أحمد عرابى - سعد زغلول - مصطفى كامل - محمد فريد)
- ٣- أسس مصطفى كامل عام ١٩٠٠م جريدة
(الأهرام - اللواء - المؤيد - العروة الوثقى)
- ٤- تم نفي سعد زغلول فى مارس ١٩١٩م إلى جزيرة
(مالطة - سيشل - قبرص - شديوان)
- ٥- تم يوليو عام ١٩٥٦م .
(تأميم قناة السويس - إعلان الجمهورية - الوحدة بين مصر وسوريا - بناء السد العالى)
- ٦- احتل الإنجليز القاهرة بعد هزيمة عرابى عند
(التل الكبير - كفر الدوار - الإسكندرية - بورسعيد)

(ب) ما المقصود بالمفاهيم الآتية ؟

- ١- الدستور .
- ٢- عدالة اجتماعية .

السؤال الرابع : (أ) أعد كتابة العبارات الآتية بعد تصويب ما فوق الخط :

- ١- تخلت انجلترا عن مساندة القضية المصرية بعد عقد الاتفاق الودى سنة ١٩٠٤م .
- ٢- التحق أحمد عرابى بالجيش فى عهد الخديو توفيق .
- ٣- رفض مصطفى كامل مد امتياز شركة قناة السويس .
- ٤- من نتائج ثورة ٢٣ يوليو توقيع معاهدة السلام مع إسرائيل عام ١٩٧٩م .
- ٥- من مميزات ثورة ٢٥ يناير ٢٠١١ تلاحم الجيش مع النظام الحاكم .
- ٦- تأسيس بنك مصر فى أبريل ١٩٢٠م على يد سعد زغلول .

(ب) أجب عما يأتى :

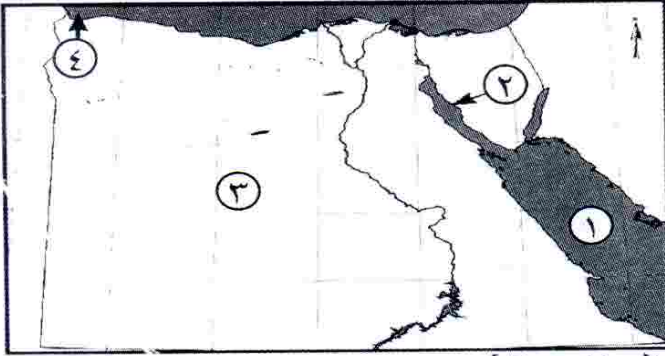
- ١- ما الأسباب المشتركة التى أدت إلى قيام ثورتى ٢٥ يناير ٢٠١١م و ٢٣ يوليو ١٩٥٢م ؟
- ٢- ما دورك اليوم فى بناء مصر؟ X

مجاب
عنه

الاختبار الخامس

أولاً : الجغرافيا

السؤال الأول : (أ) أمامك خريطة صماء لمصر ، اكتب مدلول الأرقام الموقعة عليها :



- ١- البحر
- ٢- خليج
- ٣- الصحراء
- ٤- مدينة

(ب) بم تفسر ؟

- ١- هجرة بعض سكان البيئة الصحراوية إلى البيئات الأخرى .
- ٢- تلوث مياه الشواطئ في البيئة الساحلية .
- ٣- تركيز نسبة كبيرة من السكان في المحافظات الساحلية .

السؤال الثاني : (أ) قارن بين :

البيئة الصحراوية والبيئة الساحلية من حيث (عادات السكان – مشكلات البيئة) .

(ب) اكتب كلمة (صح) أو كلمة (خطأ) أمام العبارات الآتية مع تصويب الخطأ :

- ١- يعيش معظم سكان البيئة الصحراوية في محافظات الحدود . ()
- ٢- صناعة السيارات من الصناعات المنتشرة في البيئة الصحراوية . ()
- ٣- بحيرة المنزلة أقل البحيرات إنتاجاً للأسماك . ()
- ٤- أصدرت الدولة قوانين تجرم إلقاء مخلفات الصرف في البحر . ()

ثانياً : التاريخ

السؤال الثالث : (أ) بم تفسر ؟

- ١- قيام ثورة ٢٥ يناير ٢٠١١ م .
- ٢- دعوة محمد فريد إلى إنشاء المدارس الليلية .
- ٣- مؤتمر الصلح في باريس ١٩١٩ م لم يحقق آمال المصريين .
- ٤- العدوان الثلاثي على مصر ١٩٥٦ م .

(ب) أكمل ما يأتي :

- ١- أصدر الزعيم مصطفى كامل جريدة
- ٢- أعلنت الحماية على مصر في عام ١٩١٤ م .
- ٣- تأسس بنك في ١٩٢٠ م .
- ٤- عادت الملاحة بقناة السويس في يونيو عام م .

السؤال الرابع :

(أ) (كانت ثورة الشعب المصرى فى يناير ٢٠١١م ثورة بيضاء نالت إعجاب العالم).

على ضوء هذه العبارة اذكر :

- ١- سبباً واحداً لقيامها .
- ٢- إحدى مميزاتها .
- ٣- إنجازاً واحداً لها .
- ٤- ما رأيك فى شعار (الجيش والشعب إيد واحدة) .

(ب) لمن تنسب الأعمال الآتية ؟

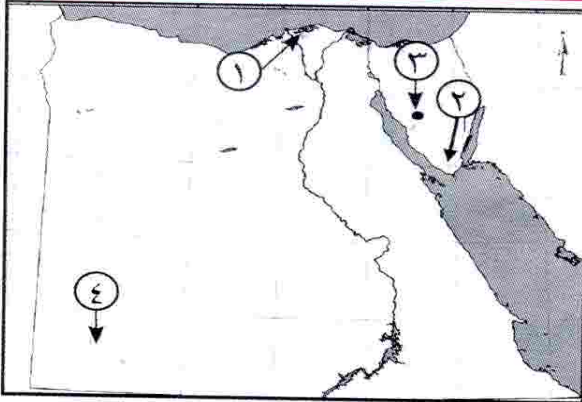
- ١- أسس بنك وطنى بأموال مصرية عام ١٩٢٠ م .
- ٢- قائد ثورة الجيش المصرى ١٨٨١م .
- ٣- زعيم وطنى تم نفيه إلى جزيرة مالطة .
- ٤- أسس تنظيم الضباط الذى قام بثورة ٢٣ يوليو ١٩٥٢م .
- ٥- أنشأ الحزب الوطنى عام ١٩٠٧ م .
- ٦- دعا إلى رفض مد امتياز مشروع قناة السويس بمصر .

مجاب
عنه

الاختبار السادس

أولاً : الجغرافيا

السؤال الأول : (أ) أمامك خريطة صماء لمصر ، اكتب مدلول الأرقام الموقعة عليها :



- ١- بحيرة
- ٢- محمية طبيعية
- ٣- منطقة لتعدين المنجنيز
- ٤- جبل

(ب) ما النتائج المترتبة على ؟

- ١- حركة الرمال فى المناطق الصحراوية .
- ٢- نحت الأمواج للسواحل .
- ٣- تلوث المياه الشاطئية فى البيئة الساحلية .

السؤال الثانى : (أ) صوب ما فوق الخط :

- ١- يعيش سكان البيئة الصحراوية فى محافظات الحضر .
- ٢- تربة البيئة الصحراوية تربة طينية سوداء .

- ٣- يهتم سكان البيئة الصحراوية بالصناعات الثقيلة.
- ٤- يعيش سكان البيئة الصحراوية في ١١ محافظة.
- ٥- يتميز ساحل البحر المتوسط بوجود خلجان مثل خليج العقبة.
- ٦- من جهود الدولة في البيئة الساحلية إنشاء مدن جديدة مثل الإسكندرية.

(ب) قارن بين :

- ١- العادات الإيجابية لسكان البيئتين الصحراوية والساحلية.
- ٢- ما مقترحاتك لتنمية النشاط السياحي بالبيئة الصحراوية؟

ثانياً : التاريخ

السؤال الثالث : (أ) اكتب كلمة (صح) أو (خطأ) مع تصويب الخطأ أمام كل عبارة :

- ١- تخلت فرنسا عن مساندة مصطفى كامل بعد عقد الاتفاق الودى مع إنجلترا عام ١٩٠٤م. ()
- ٢- طالب أحمد عرابى بإقالة وزارة شريف باشا. ()
- ٣- أصدرت بريطانيا تصريح ٢٨ فبراير ١٩٢٢م واعترفت فيه باستقلال مصر. ()
- ٤- أسس طلعت حرب بنك مصر عام ١٩٢٠م برؤوس أموال أجنبية. ()
- ٥- كان إلغاء النظام الملكى وإعلان النظام الجمهورى هو إصلاح لثورة ١٩٥٢م. ()

(ب) بم تفسر ؟

- ١- فشل العدوان الثلاثى على مصر ١٩٥٦م.
- ٢- نجاح حرب أكتوبر ١٩٧٣م.

السؤال الرابع : (أ) لمن تنسب الأعمال الآتية ؟

- ١- تولى سلطة البلاد بعد عزل الرئيس محمد مرسى عام ٢٠١٣م.
- ٢- أسس جريدة اللواء ١٩٠٠م.
- ٣- دعا إلى إنشاء مدارس ليلية للعمال فى مصر.
- ٤- اتخذ القرار بحرب أكتوبر ١٩٧٣م.

(ب) أجب عما يأتى :

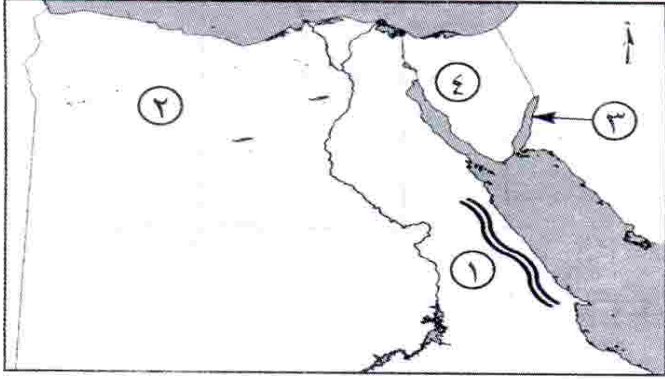
- ١- كيف حققت ثورة يوليو ١٩٥٢م مبدأ القضاء على الاستعمار وأعوانه ؟
- ٢- ما أهداف ثورة ٢٥ يناير ٢٠١١م ؟
- ٣- ما رأيك فى ثورة ١٩١٩م ؟

مجاب
عنه

الاختبار السابع

أولاً: الجغرافيا

السؤال الأول: (أ) أمامك خريطة صماء لمصر، اكتب مدلول الأرقام الموقعة عليها:



- ١- سلاسل جبال
- ٢- منخفض
- ٣- خليج
- ٤- شبه جزيرة

(ب) ماذا يحدث إذا؟

- ١- لم تسقط الأمطار على الساحل الشمالى لمصر.
- ٢- لم تتواجد المياه الجوفية فى الصحراء المصرية.
- ٣- أهملت الدولة إقامة الفنادق والمخيمات والطرق الجديدة.

السؤال الثانى: (أ) اكتب كلمة (صح) أو كلمة (خطأ) أمام العبارات الآتية مع التصويب:

- ١- مساحة الصحراء الشرقية أكبر من مساحة الصحراء الغربية. ()
- ٢- يقع سد الروافعة على وادى العلاقى. ()
- ٣- البيئة الساحلية منطقة جذب لسكان البيئات الأخرى. ()
- ٤- يُعد جبل سانت كاترين أعلى قمة جبلية فى مصر. ()
- ٥- المدينة التى يزيد عدد سكانها عن ١٠٠٠٠٠٠٠ نسمة تعرف بالمدينة المليونية. ()
- ٦- يعمل سكان البيئة الساحلية بالزراعة فى مناطق متعددة. ()

(ب) ما المقصود بكل من؟

- ١- الرأس الأرضى.
- ٢- الواحات.

(ج) ما مقترحاتك: لتنمية النشاط السياحى بالبيئة الصحراوية؟

١٥ من نشاطات الصحراء

السؤال الثالث : (أ) أكمل العبارات الآتية :

- ١- احتلت القوات البريطانية مصر بعد هزيمة الجيش المصرى فى
- ٢- بدأ أحمد عرابى كفاحه منذ عصر الخديو
- ٣- عزل اللورد كرومر من منصبه عقب حادثة
- ٤- ساندت ثورة يوليو ١٩٥٢م معظم الثورات العربية وأبرزها ثورة
- ٥- عقب تصريح ٢٨ فبراير ١٩٢٢م تم إصدار
- ٦- تم نفي .. فى مارس ١٩١٩م إلى جزيرة مالطة .

(ب) بم تفسر ؟

- ١- قيام ثورة ٢٥ يناير ٢٠١١م .
- ٢- فشل العدوان الثلاثى على مصر .

السؤال الرابع : (أ) اختر الإجابة الصحيحة مما بين القوسين :

- ١- تشكلت أول حكومة دستورية برئاسة عام ١٩٢٤م .
- (سعد زغلول - مصطفى كامل - محمد فريد - أحمد عرابى)
- ٢- دعا لتأسيس حكومة وطنية .
- (سعد زغلول - مصطفى كامل - أحمد عرابى - محمد فريد)
- ٣- أسس مصطفى كامل جريدة ١٩٠٠م . (الوقائع - المؤيد - الأهرام - اللواء)
- ٤- يُعد أول إصلاح لثورة ٢٣ يوليو ١٩٥٢م .
- (قانون الإصلاح الزراعى - إعلان الجمهورية - تأميم شركة قناة السويس - إقامة الوحدة بين مصر وسوريا)
- ٥- من أبرز شهداء حرب الاستنزاف الفريق أول
- (عبد المنعم رياض - عبد الحكيم عامر - جمال عبد الناصر - أنور السادات)

(ب) ما رأيك فى ؟

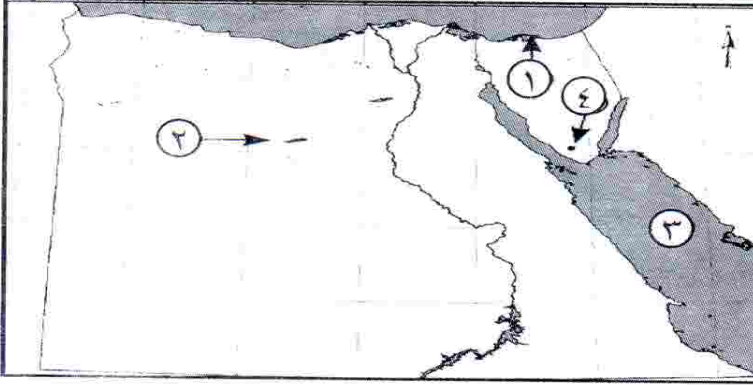
- ١- ثورة ١٩١٩م . ٧٤٥ ١٩٨ ٧
- ٢- الاتفاق الودى بين إنجلترا وفرنسا ١٩٠٤م . ١٨٨٥ ٥٧
- (ج) اذكر نتيجة واحدة لثورة ٣٠ يونيو ٢٠١٣م .

مجاب
عنه

الاختبار الثامن

أولاً : الجغرافيا

السؤال الأول : (أ) أمامك خريطة صماء لمصر ، اكتب مدلول الأرقام الموقعة عليها :



- ١- بحيرة
- ٢- منخفض
- ٣- البحر
- ٤- جبل

(ب) بم تفسر ؟

- ١- نمو النبات الطبيعي في البيئة الصحراوية .
- ٢- ضيق السهول الساحلية المطلة على خليج العقبة .
- ٣- مشاركة المرأة للرجال في كثير من الأعمال في البيئة الساحلية .

السؤال الثاني : (أ) اكتب كلمة (صح) أو (خطأ) أمام العبارات الآتية مع ذكر السبب :

- ١- الجاموس والأبقار من حيوانات البيئة الصحراوية . ()
- ٢- أقيم مشروع استزراع الكتبان الرملية في واحة سيوة لتثبيت الرمال . ()
- ٣- تمتد البيئة الساحلية على البحر المتوسط من طابا حتى حدود السودان . ()
- ٤- تنمو شجيرات المانجروف على سواحل البحر المتوسط . ()
- ٥- البيئة الساحلية منطقة طرد سكانى . ()
- ٦- يعمل عدد كبير من سكان البيئة الصحراوية في حرفة التعدين . ()

(ب) ماذا يحدث إذا ؟

- ١- اهتمت الدولة بإنشاء المدارس في البيئة الصحراوية .
- ٢- أهملت الدولة حماية السواحل .

السؤال الثالث : (أ) اختر الإجابة الصحيحة مما بين القوسين :

- ١- كان أحمد عرابى عضواً بارزاً فى جمعية
(الجامعة المصرية - الوفد المصرى - مصر الفتاة - عابدين)
- ٢- دخل الإنجليز فى سبتمبر عام ١٨٨٢ م .
(الإسكندرية - السويس - الإسماعيلية - القاهرة)
- ٣- أقامت مصر عام ١٩٥٨م وحدة مع (بريطانيا - الجزائر - سوريا - الأردن)
- ٤- نجح الجيش المصرى فى إزالة الساتر الترابى والعبور إلى
(سيناء - الدفرسوار - الإسماعيلية - السويس)
- ٥- من أسباب نجاح حرب أكتوبر ١٩٧٣م
(العقيدة القتالية - قوة الإيمان - السرية التامة - كل ما سبق)
- ٦- من الدول التى شاركت فى العدوان الثلاثى على مصر
(الولايات المتحدة الأمريكية - ألمانيا - إنجلترا - روسيا)

(ب) ما رأيك فى كل مما يأتى ؟

- ١- موقف محمد فريد من مسألة مد امتياز شركة قناة السويس .
- ٢- تشكيل اللجان الشعبية أثناء ثورة ٢٥ يناير ٢٠١١م .

السؤال الرابع : (أ) لمن تنسب الأعمال الآتية ؟

- ١- قاد مظاهرة عابدين السلمية فى سبتمبر ١٨٨١م .
- ٢- عمل محرراً فى جريدة الوقائع المصرية ثم تولى نظارة المعارف ١٩٠٦م .
- ٣- رئيس أمريكى أعلن حق كل أمة فى تقرير مصيرها .
- ٤- قام بتوزيع الثروات بين المواطنين توزيعاً عادلاً .

(ب) ما النتائج المترتبة على ؟

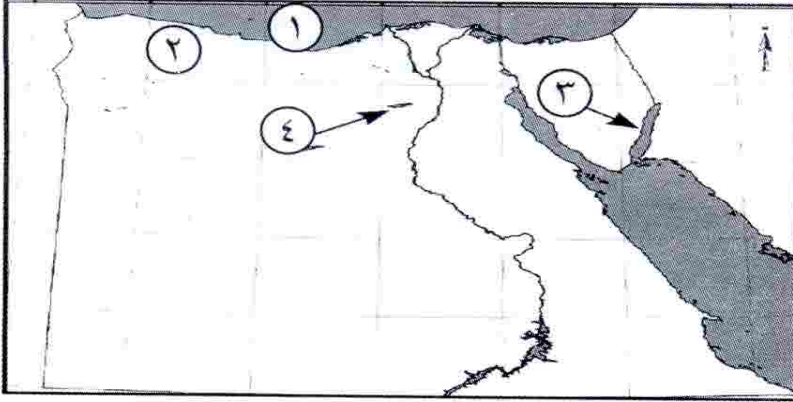
- ١- خطب ومقالات مصطفى كامل .
- ٢- انتصار الجيش المصرى فى حرب أكتوبر ١٩٧٣م .
- ٣- قيام ثورة ٢٥ يناير ٢٠١١م .

مجاب
عنه

الاختبار التاسع

أولاً : الجغرافيا

السؤال الأول : (أ) أمامك خريطة صماء لمصر ، اكتب مدلول الأرقام الموقعة عليها :



- ١- البحر
- ٢- هضبة
- ٣- خليج
- ٤- منخفض

(ب) اكتب المفهوم الجغرافى الذى تدل عليه العبارات التالية :

- ١- تجمعات من الرمال تتراكم بفعل الرياح .
- ٢- قيام الأمواج بنحت الصخور التى تشكل ساحل البحر .

(ج) ما النتائج المترتبة على ؟

- ١- ارتباط سكان البيئة الساحلية بالبحر . X
- ٢- هدوء وصفاء حركة مياه البحر الأحمر .

السؤال الثانى : (أ) بم تفسر ؟

- ١- ظهور عديد من المشكلات الاقتصادية فى البيئة الصحراوية .
- ٢- تملح التربة فى بعض المناطق بالبيئة الصحراوية .
- ٣- اتساع السهول الساحلية المطلة على البحر المتوسط .
- ٤- تلوث المياه الشاطئية فى مصر . X

(ب) ماذا يحدث إذا ؟

- ١- أهملت الدولة إقامة الفنادق والمخيمات والطرق الجديدة فى البيئة الصحراوية .
- ٢- لم تتواجد الكثبان الرملية والتلال الجيرية على الساحل الشمالى لمصر .

السؤال الثالث : (أ) أكمل ما يأتي :

- ١- كان من نتائج ثورة يوليو ١٩٥٢ م إنشاء عديد من المصانع مثل مصنع
- ٢- شارك محمد فريد فى العديد من لبحت المشكلات المصرية السياسية .
- ٣- التحق أحمد عرابى بالجيش فى عهد
- ٤- أعلن الرئيس الأمريكى أثناء الحرب العالمية حق كل شعب فى تقرير مصيره .

(ب) ما النتائج المترتبة على ؟

- ١- سوء الأحوال السياسية والاقتصادية قبل عام ٢٠١٠ م .
- ٢- تأميم شركة قناة السويس ١٩٥٦ م .
- ٣- نفى سعد زغلول وبعض زعماء الوفد المصرى للمرة الثانية .

السؤال الرابع : (أ) من الذى قام بالآتى ؟

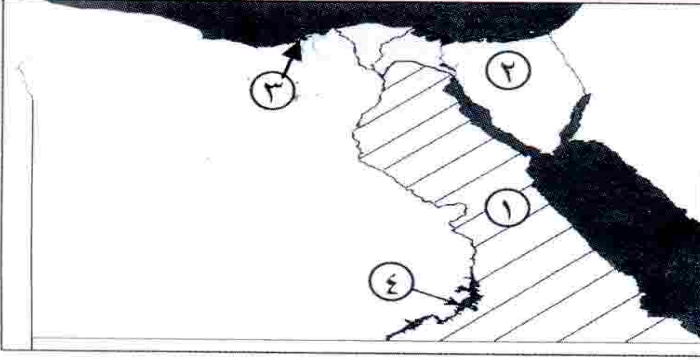
- ١- تولى سلطة البلاد عقب عزل الرئيس محمد مرسى ٢٠١٣ م .
- ٢- أسس جريدة اللواء ١٩٠٠ م .
- ٣- أسس بنك مصر ١٩٢٠ م .
- ٤- قاد ثورة ١٨٨١ م .

(ب) أجب عما يأتي :

- ١- اذكر ثلاثة من نتائج حرب أكتوبر ١٩٧٣ م .
- ٢- ما أسباب قيام ثورة ٣٠ يونيو ٢٠١٣ م؟
- ٣- ما سلبيات تصريح ٢٨ فبراير ١٩٢٢ م بالنسبة لمصر؟

١٩٩

السؤال الأول : (أ) أمامك خريطة صماء لمصر ، اكتب مدلول الأرقام الموقعة عليها :



- ١- الصحراء
- ٢- شبه جزيرة
- ٣- مدينة
- ٤- بحيرة

(ب) بم تفسر؟

- ١- نمو الشعاب المرجانية بسواحل البحر الأحمر .
- ٢- انخفاض نسبة الأمية في المحافظات الصحراوية مؤخراً .
- ٣- تميز سكان البيئة الساحلية بحبهم للعمل الجماعي . X

السؤال الثاني : (أ) اختر الإجابة الصحيحة مما بين الأقواس :

- ١- توجد هضبة مارماريكا في الصحراء الغربية وتقع في الجزء منها .
(الأوسط - الشمالي - الجنوبي - الشرقي)
- ٢- أولى البحيرات إنتاجاً للأسماك بحيرة
(البردويل - المنزلة - البرلس - إيكو)
- ٣- أهم النباتات التي تنمو على ساحل البحر المتوسط أشجار
(المطاط - المانجروف - الزيتون - الغرقد)
- ٤- قامت الدولة بمشروع استزراع الكتبان الرملية جنوب واحة
(الخارجة - الفرافرة - البحرية - سيوة)
- ٥- تعد حرفة من الحرف الرئيسية في البيئة الساحلية .
(الصيد - الرعي - الزراعة - السياحة)
- ٦- من المدن الساحلية المليونية مدينة
(القاهرة - الإسكندرية - الإسماعيلية - الغردقة)

(ب) ما النتائج المترتبة على ؟

- ١- حركة الرمال التي تسببها الرياح فى البيئة الصحراوية .
- ٢- صفاء مياه البحر الأحمر وهدوء حركتها .

ثانياً : التاريخ**السؤال الثالث : (أ) أكمل ما يأتى :**

- ١- احتلت إنجلترا القاهرة بعد معركة
- ٢- تولى زعامة الحركة الوطنية أواخر القرن الـ ١٩ الميلادى
- ٣- شارك فى العدوان الثلاثى على مصر كل من وفرنسا و
- ٤- كان الحاكم الفعلى للبلاد بعد الاحتلال البريطانى لمصر
- ٥- أصدر الزعيم مصطفى كامل جريدة

(ب) رتب الأحداث الآتية :

١٨٨١ ١٩١٤ ١٩٢٢
تصريح ٢٨ فبراير - ثورة ١٩١٩م - الحرب العالمية الأولى - الثورة العرابية .

السؤال الرابع : (أ) دلل على صحة العبارات الآتية :

- ١- عمل محمد فريد على مد نشاط الحركة الوطنية إلى أوروبا .
- ٢- تحرير الاقتصاد المصرى من التبعية الأجنبية .
- ٣- إصدار حكومة ثورة يوليو قانون الإصلاح الزراعى ١٩٥٢م .

(ب) ما المقصود بكل من ؟

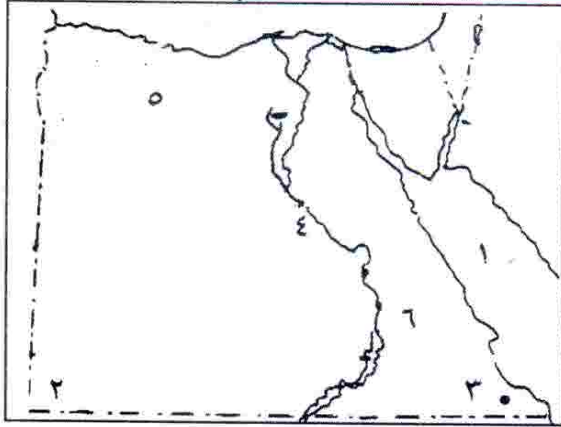
- ١- عدالة اجتماعية .
- ٢- حرب الاستنزاف .

سلسلة كتب قطر الندى التعليمية

* صرح كبير فى سماء التعليم فى مصر يهدف إلى تبسيط المعلومة وتوصيلها إلى عقل الطالب بشكل شيق وبسيط غير معقد .

أولاً : الجغرافيا

السؤال الأول : (أ) أمامك خريطة صماء لمصر اكتب مدلول الأرقام :



- ١- البحر
- ٢- جبل
- ٣- محمية
- ٤- وادى
- ٥- منخفض
- ٦- هضبة

(ب) ما النتائج المترتبة على ؟

- ١- حركة الرمال فى البيئة الصحراوية.
- ٢- تنوع الموارد الطبيعية فى البيئة الصحراوية.
- ٣- نمو الشعاب المرجانية فى البحر الأحمر.

(ج) "قامت الدولة بإقامة العديد من المشروعات فى البيئة الصحراوية"

اذكر اثنين فقط من هذه المشروعات.

السؤال الثانى : (أ) اختر الإجابة الصحيحة مما بين القوسين :

- ١- الشجيرات التى تنمو على طول ساحل البحر الأحمر هى شجيرات
(المانجروف - النخيل - الزيتون - المشمش)
- ٢- من أشهر القبائل التى تعمل بحرفة الرعى فى الصحراء الغربية
هى قبيلة أولاد
(عامر - على - عابد - الشهرى)
- ٣- من المزارات الدينية يشبه جزيرة سيناء دير
(وادى النطرون - المحرق - أبو مقار - سانت كاترين)
- ٤- تعرف المحافظات الصحراوية بمحافظات الحدود وأكثرها سكانًا هى
(الوادى الجديد - شمال سيناء - البحر الأحمر - جنوب سيناء)

(ب) ما المقصود بكل مما يلى ؟

- ١- منخفض.
- ٢- البيئة الساحلية.

(ج) ماذا يحدث إذا ؟ جفت المياه الجوفية فى الواحات.

ثانياً : التاريخالسؤال الثالث : (أ) أكمل العبارات الآتية بكلمات مناسبة :

- ١- أدى كفاح مصطفى كامل إلى عزل من منصبه عقب حادثة عام ١٩٠٦م.
- ٢- انضم أحمد عرابي للجيش المصرى فى عهد باشا وبدأ كفاحه منذ عهد الخديو
- ٣- تم إصدار قانون عام ١٩٥٢م والذي نص على تحديد ملكية الأرض الزراعية.
- ٤- عقدت إنجلترا وفرنسا ما يعرف بـ عام ١٩٠٤م.

(ب) إلى من تنسب الأعمال الآتية ؟

- ١- رفض مد امتياز شركة قناة السويس ١٩١٠م.
- ٢- تولى حكم مصر بعد اغتيال السادات عام ١٩٨١م.
- ٣- أسس بنك مصر عام ١٩٢٠م.

(ج) بم تفسر ؟

- ١- فشل العدوان الثلاثى على مصر ١٩٥٦م.
- ٢- ثورة ٢٥ يناير ٢٠١١م.

السؤال الرابع : (أ) صوب ما تحته خط :

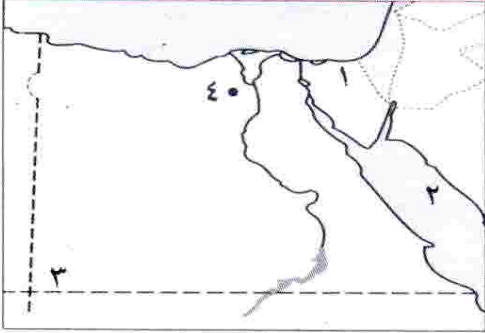
- ١- من مطالب الأمة فى مظاهرة عابدين ١٨٨١م إسقاط وزارة شريف باشا.
- ٢- أعلن الرئيس الأمريكى كارتر مبادئه ومنها حق الشعوب فى تقرير مصيرها.
- ٣- من نتائج ثورة ٢٣ يوليو توقيع معاهدة السلام مع إسرائيل ١٩٧٩م.
- ٤- اكتسب جمال عبد الناصر أهمية فى تاريخ مصر لزعامته ثورة ١٩١٩م.
- ٥- من أسباب حرب أكتوبر ١٩٧٣م إعادة الملاحة البحرية فى قناة بنما.

(ب) رتب الأحداث من القديم إلى الحديث :

- ١- تأميم شركة قناة السويس.
- ٢- افتتاح السد العالى.
- ٣- انتهاء النظام الملكى وإعلان الجمهورية.
- ٤- قيام الوحدة بين مصر وسوريا.

أولاً : الجغرافيا

السؤال الأول : (أ) أمامك خريطة صماء لمصر ، اكتب مدلول الأرقام الموقعة عليها :



- ١- وادى
- ٢- البحر
- ٣- جبل
- ٤- محمية فى الفيوم

(ب) اكتب المصطلح المناسب لكل من:

- ١- أرض منخفضة بالصحراء تقوم بها الزراعة على المياه الجوفية.
- ٢- خليج ذو مدخل ضيق متعمق فى اليابس.

(ج) صنف كلاً ما يأتى إلى العادات الإيجابية والعادات السلبية لسكان البيئة الصحراوية:

- الزواج المبكر - إكرام الضيف - عمل الأطفال فى الرعى -
احترام المجالس العرفية.

السؤال الثانى : (أ) اكتب كلمة (صح) أمام العبارة الصحيحة وكلمة (خطأ) أمام

العبارة الخاطئة :

- ١- تقوم صناعة حفظ التمور على أشجار النخيل. ()
- ٢- تهب رياح الخماسين فى فصل الشتاء. ()
- ٣- لا توجد مزارات سياحية بالبيئة الصحراوية. ()
- ٤- تنتشر التلال الجيرية على السهل الساحلى للبحر المتوسط. ()
- ٥- يتركز السكان فى منطقة أبو طرطور حيث يتم تعدين الحديد. ()

(ب) بم تفسر؟

- تنوع الأنشطة الاقتصادية فى البيئة الصحراوية.

(ج) ما رأيك فى اهتمام الدولة بإقامة المدارس والكليات فى البيئة الصحراوية؟

ثانياً : التاريخ**السؤال الثالث : (أ) أكمل العبارات الآتية بكلمة مناسبة مما يأتي :**

- (طلعت حرب - التدخل الأجنبي - محمد فريد - قناة السويس - الشورى - المعارف)
- ١- من أسباب الثورة العربية ازدياد فى شئون مصر.
 - ٢- رفض الزعيم مد امتياز شركة قناة السويس عام ١٩١٠م.
 - ٣- استطاع تأسيس بنك مصر عام ١٩٢٠م.
 - ٤- تولى سعد زغلول عام ١٩٠٦م نظارة
 - ٥- من أهم إنجازات حرب أكتوبر ١٩٧٣م عودة الملاحة بـ
 - ٦- ما تم تحقيقه من ثورة ٢٥ يناير حل مجلسى الشعب و
- (ب) ماذا كان يحدث إذا :-** لم يتم صدور قانون الإصلاح الزراعى؟

السؤال الرابع : (أ) اختر الإجابة الصحيحة مما بين الأقواس :

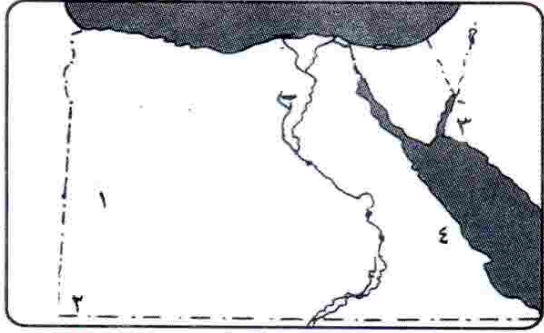
- ١- قام مصطفى كامل بتأسيس جريدة ١٩٠٠م.
- (الوقائع المصرية - المؤيد - اللواء - الأهرام)
- ٢- أصدرت تصريح ٢٨ فبراير ١٩٢٢م واعترفت فيها باستقلال مصر.
- (فرنسا - بريطانيا - ألمانيا - روسيا)
- ٣- قام العدوان الثلاثى على بسبب تأميم شركة قناة السويس ١٩٥٦م.
- (مصر - الجزائر - المغرب - فلسطين)
- ٤- من أسباب ثورة ٢٣ يوليو ١٩٥٢م سوء توزيع وغياب العدالة الاجتماعية.
- (الفقر - الثروات - المرض - الجهل)
- ٥- فى ثورة ٢٥ يناير ٢٠١١م تم تشكيل للمساهمة فى حماية المواطنين.
- (الأحزاب - الرتب المدنية - المؤسسات - اللجان الشعبية)

(ب) ما النتائج المترتبة على :- ثورة ٣٠ يونيو ٢٠١٣م؟

(ج) ما المقصود : بالدستور؟

أولاً : الجغرافيا

السؤال الأول : (أ) أمامك خريطة صماء لمصر اكتب مدلول الأرقام الموقعة عليها :



- ١- بحر
- ٢- جبل
- ٣- خليج
- ٤- منجم بالصحراء الشرقية

(ب) اعط المفهوم الجغرافى الذى تدل عليه كل عبارة من العبارات الآتية :

- ١- مجار مائية كانت تجرى بها المياه قديماً ثم جفت.
- ٢- خليج ذو مدخل ضيق متعمق فى اليابس.
- ٣- امتداد أرضى من اليابس داخل البحر.
- ٤- انخفاض قدرة التربة الإنتاجية وتدهورها.

(ج) ما النتائج المترتبة على؟

- ١- حركة الرمال التى تسببها الرياح فى البيئة الصحراوية.
- ٢- تعمير الصحراء واستصلاح الأراضى.

ثانياً : التاريخ

السؤال الثانى : (أ) اكتب كلمة (صح) أو كلمة (خطأ) أمام كل عبارة مع التصويب:

- ١- مساحة الصحراء الشرقية أكبر من مساحة الصحراء الغربية. ()
- ٢- يستخرج المنجنيز من أم بجمة بسيناء. ()
- ٣- يمتد ساحل شمال الدلتا من الإسكندرية حتى غرب السلوم. ()
- ٤- السهل الساحلى أرض مستوية السطح تمتد من خط الساحل إلى داخل اليابس. ()
- ٥- يسبب سقوط الأمطار فى مناطق البيئة الساحلية للبحر الأحمر دمار كبير للطرق والمنشآت. ()
- ٦- تعد الأرناب البرية والثعالب من الحيوانات البرية. ()

(ب) بم تفسر؟

- ١- اعتدال مناخ البيئة الساحلية.
- ٢- ضيق السهل الساحلى عند خليج العقبة.
- ٣- تراكم الأملاح على سطح التربة وداخل مسامها.
- ٤- نمو الشعاب المرجانية على ساحل البحر الأحمر.

السؤال الثالث : (أ) اختر الإجابة الصحيحة مما بين القوسين :

- ١- احتلت القوات البريطانية مصر بعد هزيمة الجيش المصرى فى
(كفر الدوار - التل الكبير - الإسماعيلية - القاهرة)
- ٢- تولى مصطفى كامل زعامة الحركة الوطنية فى أواخر القرن
(السابع عشر - الثامن عشر - التاسع عشر - العشرين)
- ٣- من الدول التى شاركت فى العدوان الثلاثى على مصر
(فرنسا - ألمانيا - روسيا - اليابان)
- ٤- من أسباب نجاح حرب أكتوبر ١٩٧٣ م
(قوة الإيمان - العقيدة القتالية - السرية التامة - كل ما سبق)
- ٥- أثناء ثورة ٢٥ يناير تم قطع جميع وسائل
(الاتصالات - الإعلام - التواصل الاجتماعى - المواصلات)
- ٦- تولى المستشار عدلى منصور سلطة البلاد بعد عزل
(محمد حسنى مبارك - محمد أنور السادات - محمد مرسى - محمد نجيب)

(ب) عبر برأيك عن ثورة ١٩١٩م ثورة شعبية عامة.

(ج) إلى من تنسب الأعمال الآتية؟

- ١- قاد ثورة الجيش المصرى عام ١٨٨١ م.
- ٢- رفض مد امتياز قناة السويس عام ١٩١٠م.
- ٣- اشترك مع العاملين فى مجال المال وأسس بنك مصر ١٩٢٠م.

السؤال الرابع : (أ) رتب الأحداث التاريخية من القديم إلى الحديث:

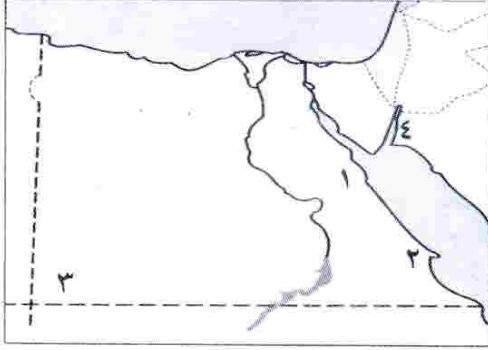
- (إلغاء النظام الملكى - قيام ثورة يوليو - تأميم شركة قناة السويس - العدوان الثلاثى على مصر - قيام الوحدة بين مصر وسوريا - قيام حرب أكتوبر)

(ب) قارن بين :

- (أ) ثورة يوليو ١٩٥٢م وثورة يناير ٢٠١١م من حيث موقف الجيش المصرى.
 - (ب) اتفاقية الجلاء ١٩٥٤م ومعاهدة السلام ١٩٧٩م من حيث الأطراف المشاركة.
- (ج) تحدث عن اثنين من نتائج حرب أكتوبر.**

أولاً : الجغرافيا

السؤال الأول : (أ) أمامك خريطة صماء لمصر اكتب مدلول الأرقام:



- ١- جبل
٢- رأس
٣- هضبة
٤- خليج

(ب) ما النتائج المترتبة على ؟

- ١- تحرك الرمال فى البيئة الصحراوية.
٢- انتشار الكثبان الرملية والتلال الجيرية على ساحل البحر المتوسط.
٣- هبوب رياح الخماسين فى شهرى مارس وأبريل.

السؤال الثانى : (أ) اكتب كلمة (صح) أمام العبارة الصحيحة وكلمة (خطأ) أمام

العبارة الخاطئة :

- ١- أنشأت الدولة سد الروافعة على وادى قنا لحجز مياه السيول. ()
٢- تنمو شجيرات المانجروف فى المناطق الطينية على ساحل البحر الأحمر. ()
٣- تقوم قبائل العباددة بالرعى فى الصحراء الغربية. ()
٤- يتميز سكان البيئة الصحراوية بإكرام الضيف واحترام المجالس العرفية. ()
٥- تمتد البيئة الساحلية على البحر الأحمر من مدينة رفح شمالاً حتى مدينة حلايب جنوباً. ()

(ب) عرف المصطلحات الآتية :

- ١- التصحر. ٢- الخليج.

(ج) قارن بين :

البيئة الصحراوية والبيئة الساحلية من حيث العادات السلبية للسكان.

وجه المقارنة	البيئة الصحراوية	البيئة الساحلية
العادات السلبية

ثانياً : التاريخ**السؤال الثالث : (أ) اخترا الإجابة الصحيحة مما بين القوسين :**

- ١- اشتعلت مظاهرات ٢٥ يناير ٢٠١١م من ميدان
- (بولاق - رمسيس - التحرير - العباسية)
- ٢- فى حرب أكتوبر ١٩٧٣م تم التنسيق بين الجيش المصرى والجيش
- (العراقى - السورى - السعودى - التونسى)
- ٣- من أسباب ثورة ٢٣ يوليو ١٩٥٢م السياسية
- (ارتفاع الأسعار - غياب العدالة الاجتماعية - فساد الحكام - كل ما سبق)
- ٤- فشلت القوات البريطانية فى دخول البلاد عن طريق عام ١٨٨٢م.
- (التل الكبير - قناة السويس - كفر الدوار - الإسماعيلية)
- ٥- تولى سعد زغول نظارة عام ١٩٠٦م.
- (الحقانية - المعارف - الزراعة - الجهادية)

(ب) بم تفسر ؟

- ١- خيب مؤتمر الصلح فى باريس آمال المصريين فى الاستقلال.
- ٢- فشل العدوان الثلاثى على مصر عام ١٩٥٦م.

السؤال الرابع : (أ) اكتب ما تشير إليه العبارات الآتية :

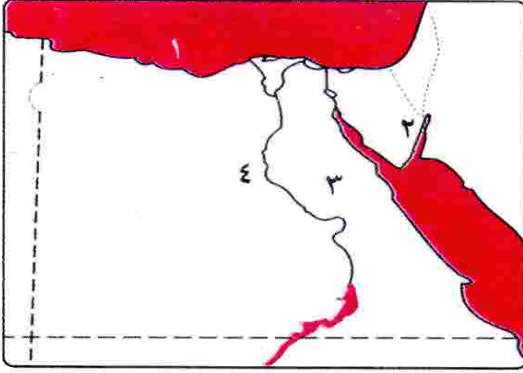
- ١- اتفاقية وقعتها مصر مع إنجلترا فى أكتوبر ١٩٥٤م.
- ٢- زعيم وطنى رفض مد امتياز شركة قناة السويس عام ١٩١٠م.
- ٣- ثورة نتج عنها تعديل دستور ٢٠١٢م وصدر دستور يناير ٢٠١٤م.
- ٤- حرب أعادت لمصر دورها الرائد فى المنطقة العربية.

(ب) " دائماً ما تقوم الثورات بسبب الظلم وانتشار الفساد "**فى ضوء هذه العبارة أجب :**

- ١- ما المقصود بمصطلح (عدالة اجتماعية) ؟
- ٢- ما عوامل قيام ثورة ١٩١٩م؟
- ٣- ماذا يحدث لو : لم تعقد اتفاقية السلام بين مصر وإسرائيل فى مارس ١٩٧٩م؟
- ٤- ما رأيك فى كفاح " مصطفى كامل " لمقاومة الاحتلال البريطانى؟

أولاً : الجغرافيا

السؤال الأول : (أ) أمامك خريطة صماء لمصر اكتب مدلول الأرقام عليها:



- ١- البحر المتوسط
٢- خليج العقبة
٣- الصحراء الغربية
٤- نهر النيل

(ب) بم تفسر ؟

- ١- السهل الساحلى على خليج العقبة يتسم بالضيق.
٢- قيام الزراعة فى الساحل الشمالى الغربى لمصر.
٣- لحركة الرمال آثارها السلبية فى البيئة الصحراوية.

السؤال الثانى : (أ) اكتب كلمة (صح) أمام العبارة الصحيحة وكلمة (خطأ) أمام

العبارة غير الصحيحة :

- () ١- هضبة مارماريكا توجد فى الصحراء الغربية.
() ٢- يوجد جبل العوينات فى شمال غرب مصر.
() ٣- تنتشر صناعة التمور والسجاد اليدوى فى البيئة الصحراوية.
() ٤- يرتبط وجود البيئة الساحلية بالبحار والمسطحات المائية الكبيرة.
() ٥- تنتشر الشعاب المرجانية على طول ساحل البحر المتوسط.
() ٦- الزواج المبكر من العادات السلبية لسكان البيئة الصحراوية.

(ب) اكتب ما تشير إليه العبارات الآتية :

- ١- مجار مائية كانت تجرى بها المياه قديماً ثم جفت.
٢- أرض شبه مستوية السطح تمتد من خط الساحل إلى داخل اليابس.
٣- توغل لجزء من البحر فى اليابس ويتصل بالبحر بفتحة واحدة.

ثانياً : التاريخ

السؤال الثالث : (أ) تخير الإجابة الصحيحة مما بين القوسين :

- ١- من أسباب ثورة ٢٣ يوليو ١٩٥٢م
- (تعدد الأحزاب - فساد الحكام - تأميم البنوك - إلغاء الرتب)
- ٢- خرج الجيش والشعب في مظاهرة عابدين ١٨٨١م لتقديم مطالب الأمة إلى الخديو
- (توفيق - إسماعيل - عباس - سعيد)
- ٣- عادت الملاحة تحت السيادة المصرية الكاملة في يونيو ١٩٧٥م في
- (البحر الأحمر - نهر النيل - خليج العقبة - قناة السويس)
- ٤- من الدول التي شاركت في العدوان الثلاثي على مصر
- (الصين - إنجلترا - ألمانيا - روسيا)
- ٥- نجح الجيش المصري ١٩٧٣م في إزالة الساتر الترابي والعبور إلى
- (سيناء - القاهرة - الإسماعيلية - السويس)
- ٦- تولى سعد زغلول نظارة المعارف عام م.
- (١٩٠١ - ١٩٠٦ - ١٩١٠ - ١٩١٣)

(ب) صوب ما تحته خط في العبارات الآتية :

- ١- التحق أحمد عرابي بالجيش المصري في عهد الخديو توفيق.
- ٢- تأسس بنك مصر في أبريل ١٩٢٠م على يد سعد زغلول.

السؤال الرابع : (أ) تخير من القائمة (ب) ما يناسبها من القائمة (أ) :

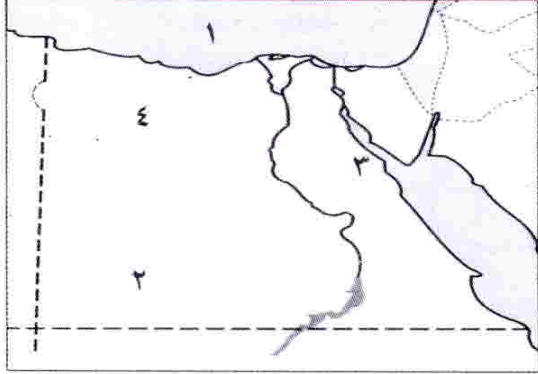
(ب)	(أ)
() مصطفى كامل.	١- دعا إلى إنشاء مدارس ليلية لتعليم العمال والفقراء مجاناً
() جمال عبد الناصر.	٢- قاد مظاهرة عابدين السلمية في سبتمبر ١٨٨١م
() محمد فريد.	٣- شكل أول حكومة دستورية في مصر عام ١٩٢٤م
() ديليسبس.	٤- أدى كفاحه على إنشاء الحزب الوطني عام ١٩٠٧م
() أحمد عرابي.	٥- قام بتأسيس تنظيم الضباط الأحرار
() سعد زغلول.	٦- احتلت القوات البريطانية قناة السويس بعد خيانتته لعرابي

(ب) اذكر نتيجة واحدة لكل مما يأتي:

- ١- إعلان مصر تأميم شركة قناة السويس في يوليو ١٩٥٦م.
- ٢- انتصار الجيش المصري في حرب أكتوبر ١٩٧٣م.

أولاً : الجغرافيا

السؤال الأول : (أ) أمامك خريطة صماء لمصر اكتب مدلول الأرقام عليها :



- ١- البحر المتوسط
- ٢- هضبة اكلين اكلين
- ٣- خليج السويس
- ٤- منخفض النيل

(ب) بم تفسر؟

- ١- ضيق السهل الساحلى على خليج العقبة.
- ٢- استزراع الكثبان الرملية جنوب واحة سيوة.
- ٣- تعد السياحة من الأنشطة الاقتصادية المهمة فى البيئة الصحراوية.

السؤال الثانى : (أ) اختر الإجابة الصحيحة مما بين القوسين :

- ١- يوجد الذهب فى مناجم بالصحراء الشرقية.
- (أم بجمة - السكرى - أبو طرطور - السباعية)
- ٢- من جبال شبه جزيرة سيناء جبل (الشايب - علبة - موسى - العوينات)
- ٣- من أهم النباتات التى تنمو على ساحل البحر المتوسط
- (الزيتون - المطاط - المانجروف - الغرقد)
- ٤- تهب على مصر رياح محملة بالأتربة خاصة فى شهرى مارس وإبريل
- (السموم - السيروكو - الهبوب - الخماسين)
- ٥- من أشهر القبائل التى تعمل بحرفة الرعى فى الصحراء الغربية
- هى قبيلة أولاد
- (عامر - على - عابد - الشهرى)

(ب) اكتب المفهوم المناسب لكل عبارة من العبارات الآتية :

- ١- تدهور التربة الزراعية وانخفاض قدرتها الإنتاجية.
- ٢- أرض منخفضة فى الصحراء تقوم بها الزراعة على المياه الجوفية.
- ٣- مناطق يقل فيها المطر ويسود الجفاف والفقر الشديد فى النباتات مع ندرة الحيوان.
- ٤- تكوينات أفرزتها حيوانات بحرية دقيقة على طول امتداد سواحل البحر الأحمر فى مصر.

ثانياً : التاريخ**السؤال الثالث : (أ) أكمل العبارات الآتية بكلمات مناسبة :**

- ١- احتلت إنجلترا القاهرة بعد معركة
- ٢- نجح الجيش المصرى فى إزالة الساتر الترابى والعبور إلى
- ٣- من الدول التى شاركت فى العدوان الثلاثى على مصر
- ٤- من نتائج ثورة ٣٠ يونيو ٢٠١٣م تسليم السلطة إلى المستشار
- ٥- عقدت إنجلترا وفرنسا ما يعرف بـ عام ١٩٠٤م.

(ب) إلى من تنسب الأعمال الآتية ؟

- ١- أسس بنك مصر عام ١٩٢٠م.
- ٢- رئيس أمريكى أعلن حق كل أمة فى تقرير مصيرها.
- ٣- دعا إلى تأسيس حكومة وطنية مستقلة وإنشاء مجلس نيابى.
- ٤- تولى حكم مصر بعد اغتيال السادات عام ١٩٨١م.
- ٥- رفض مد امتياز شركة قناة السويس ١٩١٠م.

السؤال الرابع : (أ) اكتب كلمة (صح) أمام العبارة الصحيحة وكلمة (خطأ) أمام الخطأ:

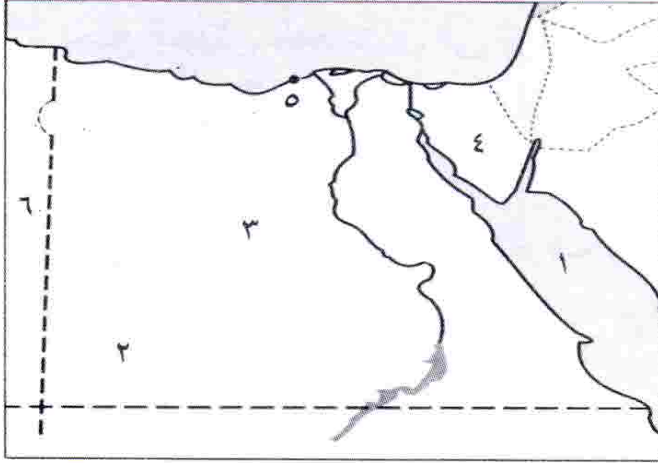
- ١- طالب أحمد عرابى بإسقاط وزارة شريف باشا. ()
- ٢- خيب مؤتمر الصلح آمال المصريين فى الحرية والاستقلال. ()
- ٣- بدأ تجنيد أولاد عمد البلاد ومشايخها فى عهد إبراهيم باشا. ()
- ٤- وجه مصطفى كامل كفاحه ضد الاحتلال داخل وخارج مصر. ()
- ٥- تم جلاء القوات الفرنسية عن مصر بعد اتفاقية الجلاء عام ١٩٥٤م. ()
- ٦- حقق الجيش المصرى تلاحماً وطنياً مع الشعب أثناء ثورة ٢٥ يناير ٢٠١١م. ()

(ب) " شهدت ثورة ٢٣ يوليو ١٩٥٢م وحرب أكتوبر ١٩٧٣م تحولات سياسية**واقصادية واجتماعية " فى ضوء هذه العبارة اذكر :**

- ١- الأسباب الاجتماعية التى أدت إلى قيام ثورة ٢٣ يوليو ١٩٥٢م.
- ٢- عوامل نجاح حرب أكتوبر ١٩٧٣م.

أولاً : الجغرافيا

السؤال الأول : (أ) أمامك خريطة صماء لمصر ، اكتب مدلول الأرقام الموقعة عليها :



- ١- البحر البحر المتوسط
- ٢- هضبة اكليف الكبر
- ٣- الصحراء الخربة
- ٤- أعلى قمة جبلية في مصر جبل كاترين
- ٥- مدينة الإسكندرية
- ٦- دولة ليبيا

(ب) اكتب ما تشير إليه كل عبارة من العبارات الآتية:

- ١- جزء من الأرض يقل مستواه عن الأرض المحيطة به.
- ٢- تدهور التربة الزراعية وانخفاض قدرتها الإنتاجية.
- ٣- خليج ذو مدخل ضيق متعمق في اليابس.

السؤال الثاني : (أ) اكتب كلمة (صح) أمام العبارة الصحيحة وكلمة (خطأ) أمام

العبارة الخاطئة :

- ١- يعتمد سكان الواحات على المياه الجوفية في الزراعة. ()
- ٢- من الخصائص الاجتماعية في البيئة الصحراوية احترام المجالس العرفية. ()
- ٣- تقع الصحراء الشرقية ما بين البحر المتوسط شمالاً وخليج العقبة والسويس جنوباً. ()
- ٤- تنمو شجيرات المانجروف على ساحل البحر الأحمر. ()
- ٥- أكثر الجبال ارتفاعاً في الصحراء الشرقية جبل الشايب. ()
- ٦- تنمو الشعاب المرجانية في مناطق متفرقة على ساحل البحر المتوسط. ()

(ب) ما النتائج المترتبة على ؟

- ١- وجود التلال الجيرية على ساحل البحر المتوسط.
- ٢- كثرة أشجار النخيل والأيدى العاملة في البيئة الصحراوية.
- ٣- حركة الرمال في المناطق الصحراوية.

ثانياً : التاريخ

السؤال الثالث : (أ) تخير الإجابة الصحيحة مما بين القوسين:

- ١- أسس الزعيم جريدة اللواء عام ١٩٠٠م.
(مصطفى كامل - محمد فريد - طلعت حرب - سعد زغلول)
- ٢- احتلت القوات البريطانية مصر بعد هزيمة الجيش المصرى فى
(كفر الدوار - التل الكبير - الإسماعيلية - القاهرة)
- ٣- تم فى يوليو عام ١٩٥٦م.
(بناء السد العالى - تأمين قناة السويس - إعلان الجمهورية - قانون الإصلاح الزراعى)
- ٤- من أسباب نجاح حرب أكتوبر عام ١٩٧٣م
(العقيدة القتالية - قوة الإيمان - السرية التامة - كل ما سبق)
- ٥- أسس الزعيم أول حكومة دستورية فى مصر عام ١٩٢٤م.
(سعد زغلول - أحمد عرابى - مصطفى كامل - محمد فريد)

(ب) بم تفسر ؟

- ١- العدوان الثلاثى على مصر.
- ٢- تعد ثورة ١٩١٩م ثورة شعبية.
- ٣- تكوين اللجان الشعبية فى جميع أنحاء الجمهورية أثناء ثورة ٢٥ يناير ٢٠١١م.

السؤال الرابع : (أ) تخير من العمود (أ) ما يناسبها من العمود (ب) :

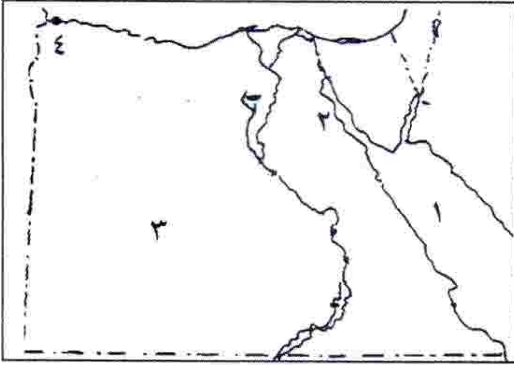
(ب)	(أ)
- الاتفاق الودى.	١- من تحصينات إسرائيل أمام الجيش المصرى عام ١٩٧٣م
- التواصل الاجتماعى.	٢- تم نفى سعد زغلول للمرة الأولى إلى جزيرة
- مالطة.	٣- من إنجازات ثورة ٢٣ يوليو ١٩٥٢م إصدار قانون
- خط بارليف.	٤- أثناء ثورة ٢٥ يناير تم قطع جميع وسائل
- الإصلاح الزراعى.	٥- أقامت مصر فى عام ١٩٥٨م وحدة مع
- سوريا.	٦- عقد بين إنجلترا وفرنسا عام ١٩٠٤م ما سمي بـ

(ب) إلى من تنسب الأعمال الآتية ؟

- ١- أسس بنك مصر عام ١٩٢٠م.
- ٢- قاد مظاهرة عابدين السلمية عام ١٨٨١م.
- ٣- أنشأ المدارس الليلية لتعليم العمال والفقراء مجاناً.

أولاً : الجغرافيا

السؤال الأول : (أ) أمامك خريطة صماء لمصر أكتب مدلول الأرقام عليها :



- ١- البحر الأحمر
- ٢- خليج السويس
- ٣- الصحراء الغربية
- ٤- مدينة أسيوط

(ب) ما النتائج المترتبة على ؟

- ١- صفاء مياه البحر الأحمر وهدوء حركتها.
- ٢- إقامة الدولة للعديد من المدارس وبعض الكليات والمعاهد بالمحافظات الصحراوية.

السؤال الثاني : (أ) أكمل العبارات الآتية بالكلمات المناسبة:

- ١- أكثر جبال البحر الأحمر ارتفاعاً جبل
- ٢- تقوم بحرفة الرعى فى محافظة مطروح بالصحراء الغربية قبيلة
- ٣- قامت الدولة باستزراع الكتبان الرملية لتثبيت الرمال جنوب واحة
- ٤- توجد محمية الصحراء البيضاء فى واحة

(ب) اكتب المفهوم الجغرافى الدال على كل عبارة من العبارات الآتية :

- ١- مجار مائية كانت تجرى بها المياه قديماً ثم جفت.
- ٢- تدهور التربة الزراعية وانخفاض قدرتها على الإنتاج.
- ٣- كميات كبيرة من الرمال تحركها الرياح.

ثانياً : التاريخ

السؤال الثالث : (أ) اختر الإجابة الصحيحة من بين القوسين:

- ١- أسس مصطفى كامل عام ١٩٠٠م جريدة
(الوقائع المصرية - الوفد - اللواء - الأهرام)

- ٢- احتلت إنجلترا مصر بعد معركة
 (كفر الدوار - مرج دابق - الريدانية - التل الكبير)
 ٣- شكلت أول حكومة دستورية عام ١٩٢٤م برئاسة
 (محمود سامى البارودى - سعد زغلول - مصطفى النحاس - طلعت حرب)
 ٤- نجح الجيش المصرى فى حرب أكتوبر عام ١٩٧٣م فى تحطيم
 (خط ألوان - خط بارليف - الحاجز المائى - الثغرة الأولى)

(ب) لمن تنسب الأعمال الآتية ؟

- ١- ترقى حتى وصل إلى رتبة أمير آلاى فى عهد الخديو توفيق.
 ٢- دعا إلى رفض مد امتياز شركة قناة السويس عام ١٩١٠م.
 ٣- كان له دور فى تأسيس تنظيم الضباط الأحرار.
 ٤- تولى حكم مصر بعد اغتيال السادات عام ١٩٨١م.

السؤال الرابع : (أ) اكتب كلمة (صح) أمام العبارة الصحيحة وكلمة (خطأ) أمام

العبارة الخاطئة :

- ١- أدت الامتيازات الأجنبية إلى زيادة التدخل الأجنبى فى شئون البلاد. ()
 ٢- تحسنت أحوال مصر الاقتصادية والاجتماعية أثناء الحرب العالمية الأولى. ()
 ٣- قامت مصر بإعادة تنظيم وتسليح القوات المسلحة
 بعد هزيمة ٥ يونيو ١٩٦٧م. ()
 ٤- وقعت مصر اتفاقية السلام مع إنجلترا عام ١٩٧٩م
 لاستعادة أراضيها المحتلة. ()
 ٥- كان شعار ثورة ٢٥ يناير ٢٠١١م عيش - حرية - عدالة اجتماعية. ()

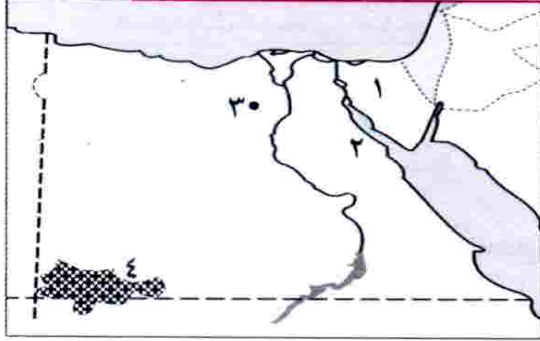
(ب) " قام الشعب المصرى بعدة ثورات على مر التاريخ للتخلص من الفساد والظلم والعدوان "

فى ضوء هذه العبارة أجب عما يأتى:

- ١- اذكر اثنين من مبادئ ثورة ٢٣ يوليو ١٩٥٢م.
 ٢- اذكر اثنين من أسباب فشل العدوان الثلاثى على مصر.

أولاً : الجغرافيا

السؤال الأول : (أ) أمامك خريطة صماء لمصر اكتب ما تدل عليه الأرقام:-



- ١- وادى العرب
- ٢- خليج السويس
- ٣- محمية وادى الرينات
- ٤- هضبة الكلب الأحمر

(ب) بم تفسر؟

- ١- انخفاض نسبة الأمية فى البيئة الصحراوية مؤخرًا.
- ٢- تنوع الأنشطة الاقتصادية فى البيئة الصحراوية.

(ج) ما المقصود بالمفاهيم الآتية؟

- ١- الكثبان الرملية.
- ٢- الخليج.

السؤال الثانى : (أ) صوب ما تحته خط :

- ١- حرفة الزراعة هى الحرفة الرئيسية لسكان البيئة الصحراوية.
- ٢- يؤدى تملح التربة إلى تدمير الحقول الزراعية والمباني والطرق.
- ٣- تنتشر الشعاب المرجانية على ساحل البحر المتوسط.

(ب) أجب عما يأتى :

- ١- قارن بين البيئة الصحراوية والبيئة الساحلية من حيث الموقع والمناخ.
- ٢- ما مقترحاتك فى حل المشكلات الاقتصادية لسكان البيئة الصحراوية؟

ثانياً : التاريخ

السؤال الثالث : (أ) اكتب كلمة (صح) أو كلمة (خطأ) أمام العبارات الآتية :

- ١- طالب أحمد عرابى بالمساواة بين أبناء مصر وغيرهم من باقى الأجناس. ()
- ٢- ساندت ثورة ٢٣ يوليو ١٩٥٢م حركات التحرر الوطنى فى إفريقيا وآسيا. ()
- ٣- استجاب النظام السياسى لمطالب الشباب يوم ٢٥ يناير ٢٠١١م. ()

(ب) بم تفسر؟

- ١- قيام الثورة العرابية.
- ٢- تعد ثورة ١٩١٩م ثورة شعبية عامة.
- ٣- قيام ثورة ٢٣ يوليو ١٩٥٢م.
- ٤- قيام ثورة ٣٠ يونيو ٢٠١٣م.

السؤال الرابع : (أ) اختر الإجابة الصحيحة من بين الأقواس:

- ١- قام مصطفى كامل بتأسيس جريدة عام ١٩٠٠م.
- (الوقائع المصرية - المؤيد - الأهرام - اللواء)
- ٢- من نتائج ثورة ٢٣ يوليو ١٩٥٢م تأميم
- (بنك مصر - شركة قناة السويس - مصر للتأمين - مصر الفتاة)
- ٣- سيطر حزب قبل ثورة ٢٥ يناير ٢٠١١م على أغلبية مقاعد مجلسي الشعب والشورى.
- (الوطنى - الديمقراطى - الثورى - الوفدى)

(ب) اكتب ما تشير إليه العبارات الآتية :

- ١- توزيع الثروات القومية بين المواطنين توزيعاً عادلاً.
- ٢- عدم تبعية اقتصاد مصر لأى دولة أجنبية واعتماد مصر على رؤوس أموالها الوطنية.

(ج) ما النتائج المترتبة على كل من ؟

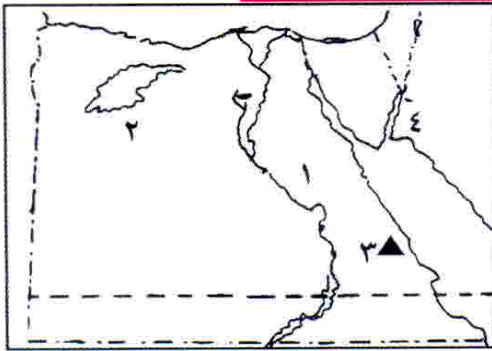
- ١- تصريح ٢٨ فبراير ١٩٢٢م.
- ٢- انتصار السادس من أكتوبر ١٩٧٣م.

محافظة الدقهلية - إدارة بلماس التعليمية

٢٠

أولاً : الجغرافيا

السؤال الأول : (أ) أمامك خريطة صماء لمصر اكتب مدلول الأرقام:



- ١- الصحراء
- ٢- منخفض الملاحة
- ٣- منجم لإنتاج الذهب
- ٤- خليج العقبة

(ب) اكتب ما تشير إليه العبارات الآتية :

- ١- تدهور التربة وانخفاض قدرتها على الإنتاج.
- ٢- مجار مائية كانت تجرى بها المياه قديماً ثم جفت.
- ٣- كميات كبيرة من الرمال المفككة تقوم الرياح بتحريكها من مكان إلى آخر.
- ٤- شريط سهلى قد يتسع أو يضيق تبعاً لاقتراب الجبال أو الهضاب من البحر.

السؤال الثاني : (أ) اكتب كلمة (صح) أو كلمة (خطأ) مع تصويب الخطأ :

- ١- أكثر جبال البحر الأحمر ارتفاعاً جبل حماطة. ()
- ٢- من العادات الإيجابية في البيئة الصحراوية عمل الأطفال في الرعى. ()
- ٣- تعيش نسبة كبيرة من سكان مصر في البيئة الصحراوية. ()
- ٤- تعد الصحراء الشرقية أكبر صحارى مصر من حيث المساحة. ()

(ب) بم تفسر؟

- ١- قيام صناعة التمر في البيئة الصحراوية.
- ٢- نمو الشعاب المرجانية على ساحل البحر الأحمر.

ثانياً : التاريخ

السؤال الثالث : (أ) اختر الإجابة الصحيحة مما بين القوسين:

- ١- كان أحمد عرابى عضواً بارزاً فى جمعية
(الجامعة المصرية - الوفد المصرى - مصر الفتاة - عابدين)
- ٢- تم فى يوليو ١٩٥٦م.
(تأميم شركة قناة السويس)
- ٣- إعلان الجمهورية - الوحدة بين مصر وسوريا - بناء السد العالى)
عزل اللورد كرومر من منصبه عقب حادثة
- ٤- قامت الوحدة بين مصر و عام ١٩٥٨م.
(ليبيا - سوريا - السودان - فلسطين)

(ب) قال الزعيم أحمد عرابى : " لقد خلقنا الله أحراراً ولم يخلقنا تراثاً أو عقاراً "

- ١- اذكر أسماء زعماء الثورة العرابية الذين أدوا دورهم الوطنى بجانب أحمد عرابى.
- ٢- ما اسم الاتفاقية التى عقدت بين مصر وبريطانيا أكتوبر ١٩٥٤م؟
- ٣- ما هى مطالب الأمة فى مظاهرة عابدين السلمية ٩ سبتمبر ١٨٨١م؟

السؤال الرابع : (أ) اكتب ما تشير إليه العبارات الآتية :

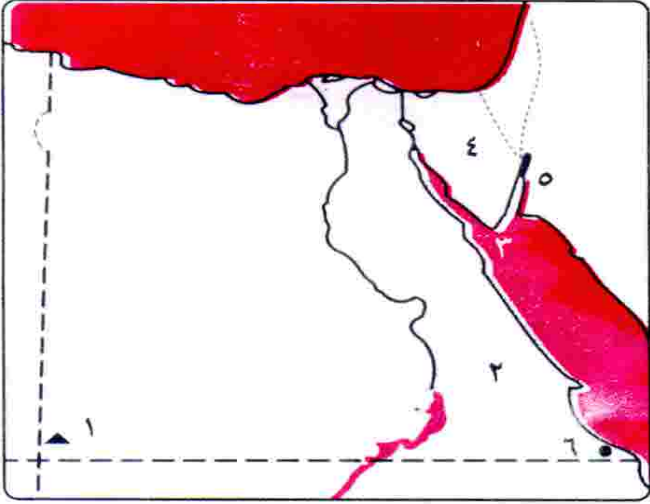
- ١- توزيع الثروات القومية بين المواطنين توزيعاً عادلاً.
- ٢- من التحصينات العسكرية التى أقامتها إسرائيل أمام الجبهة المصرية.
- ٣- مجموعة منظمة تشترك فى وضع برامج لتحسين شئون الدولة.
- ٤- صدر فى سبتمبر ١٩٥٢م ونص على تحديد ملكية الأراضى الزراعية.

(ب) ما النتائج المترتبة على؟

- ١- تأميم شركة قناة السويس عام ١٩٥٦م.
- ٢- نفى سعد زغلول وبعض زعماء الوفد المصرى للمرة الثانية.

أولاً : الجغرافيا

السؤال الأول : (أ) أمامك خريطة صماء لمصر ، اكتب مدلول الأرقام الموضحة :



- ١- جبل جبل الشيخ
- ٢- وادى وادى النيل
- ٣- محمية محمية رأس مينا
- ٤- حقل منجنيز حقل منجنيز
- ٥- خليج خليج السويس
- ٦- مدينة مدينة الإسكندرية

(ب) ماذا يحدث إذا ؟

- ١- أهملت الدولة إقامة الفنادق والمحميات الطبيعية.
- ٢- لم تقم الدولة بإنشاء سد الروافعة.

(ج) برهن على صحة العبارة الآتية :

(تهتم الدولة بنشر التعليم بين أبناء البيئة الصحراوية)

السؤال الثانى : (أ) اختر الإجابة الصحيحة مما بين القوسين :

- ١- من هضاب الصحراء الغربية هضبة
(الجلف الكبير - الجلالة البحرية - التيه - العباددة)
- ٢- تعرف المحافظات الصحراوية بمحافظات الحدود وأكثرها سكانًا هي
(الوادى الجديد - شمال سيناء - البحر الأحمر - جنوب سيناء)
- ٣- من أشهر القبائل التى تعمل بحرفة الرعى فى الصحراء الغربية قبيلة أولاد
(عامر - على - عابد - الشهرى)
- ٤- تراكم الأملاح على سطح التربة وداخلها يسمى
(حركة الرمال - التسميد - تملح التربة - السيول)
- ٥- الشجيرات التى تنمو على طول ساحل البحر الأحمر شجيرات
(المانجروف - النخيل - الزيتون - المشمش)

(ب) ما النتائج المترتبة على ؟

- ١- توافر الصوف فى البيئة الصحراوية.
- ٢- صفاء مياه البحر الأحمر وهدوء حركتها.

ثانياً : التاريخ

السؤال الثالث : (أ) أكمل العبارات الآتية :

- ١- التحق أحمد عرابى بالجيش فى عهد
- ٢- أسس الحزب الوطنى لمصر.
- ٣- رفض مد امتياز قناة السويس عام ١٩١٠م.
- ٤- أعلن الرئيس الأمريكى مبادئه ومنها حق الشعوب فى تقرير مصيرها.
- ٥- أسس تنظيم الضباط الأحرار عام ١٩٥٢م.
- ٦- أقيمت وحدة عربية بين مصر و عام ١٩٥٨م.

(ب) بم تفسر ؟

- ١- ارتباط استقلال مصر السياسى باستقلالها الاقتصادى.
- ٢- قيام حرب أكتوبر عام ١٩٧٣م.

(ج) رتب الأحداث الآتية من القديم إلى الحديث:

(ثورة ٣٠ يونيو ٢٠١٣م - الحرب العالمية الأولى - العدوان الثلاثى على مصر - حادثة دنشواى)

السؤال الرابع : (أ) اكتب كلمة (صح) أو كلمة (خطأ) أمام العبارات الآتية:

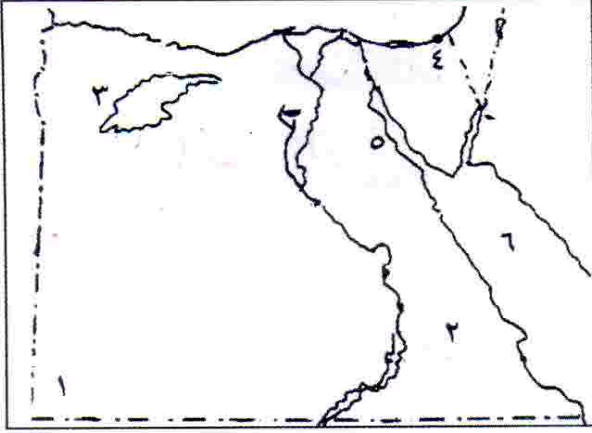
- ١- أدت الامتيازات الأجنبية إلى التدخل الأجنبى فى شئون مصر. ()
- ٢- رفضت سلطات الاحتلال سفر أعضاء الوفد المصرى إلى إنجلترا. ()
- ٣- ساهم تدنى الأحوال السياسية والاقتصادية فى قيام ثورة ٢٥ يناير ٢٠١١م. ()

(ب) ما النتائج المترتبة على ؟

- ١- مقاطعة المصريين للبضائع الإنجليزية.
- ٢- ثورة ٣٠ يونيو عام ٢٠١٣م.

أولاً : الجغرافيا

السؤال الأول : (أ) أمامك خريطة صماء لمصر . اكتب مدلول الأرقام الموقعة عليها:



- ١- جبل المرتبات
- ٢- وادى اللوات
- ٣- منخفض القطارة
- ٤- مدينة بورسعيد
- ٥- خليج السويس
- ٦- البحر الأحمر

(ب) ما النتائج المترتبة على؟

- ١- وجود الآبار والعيون المائية داخل الواحات.
- ٢- صفاء مياه البحر الأحمر وهدوء حركتها.
- ٣- كثرة أشجار النخيل فى البيئة الصحراوية.

السؤال الثانى : (أ) اكتب كلمة (صح) أو كلمة (خطأ) أمام العبارات الآتية:

- ١- من أشهر جبال شبه جزيرة سيناء جبل سانت كاترين وجبل الشايب وجبل علبة. ()
- ٢- يعمل معظم سكان البيئة الصحراوية بحرفة الرعى. ()
- ٣- أقيم مشروع استزراع الكثبان الرملية جنوب واحة الفرافرة لتثبيت الرمال. ()
- ٤- السهول الساحلية على خليج العقبة ضيقة. ()
- ٥- الشرم خليج ذو مدخل ضيق متعمق فى اليابس. ()
- ٦- يتركز السكان حول الواحات بالصحراء الشرقية. ()

(ب) اكتب المصطلح الجغرافى الدال على العبارات الآتية :

- ١- تجمعات من الرمال تتراكم بفعل الرياح.
- ٢- عبارة عن تكوينات أفرزتها حيوانات بحرية دقيقة على سواحل البحر الأحمر.
- ٣- مجار مائية كانت تجرى بها المياه قديماً ثم جفت.

ثانياً : التاريخ

السؤال الثالث : (أ) اختر الإجابة الصحيحة مما بين الأقواس:

- ١- قاد مظاهرة عابدين فى سبتمبر ١٨٨١م.
(محمود سامى البارودى - أحمد عرابى - على الروبى - محمد عبده)
- ٢- قام مصطفى كامل بتأسيس جريدة عام ١٩٠٠م.
(الوقائع المصرية - المؤيد - اللواء - الأهرام)
- ٣- دعا إلى إنشاء مدارس ليلية لتعليم العمال والفقراء مجاناً.
(مصطفى كامل - محمد فريد - سعد زغول - رياض باشا)
- ٤- أعلن الرئيس الأمريكى لمبادئه ومنها حق الشعوب فى تقرير مصيرها.
(ولسن - أوباما - كلينتون - جورج بوش)
- ٥- عقدت اتفاقية الجلاء بين مصر و فى أكتوبر ١٩٥٤م.
(فرنسا - إسرائيل - ألمانيا - بريطانيا)

(ب) ما المقصود بـ ؟

- ١- مؤتمر الصلح.
- ٢- عدالة اجتماعية.

السؤال الرابع : (أ) اختر من القائمة (ب) الكلمة المناسبة لعبارة القائمة (أ) :

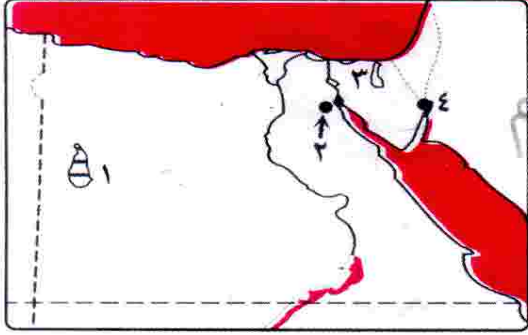
(ب)	(أ)
() التحرير.	١- نفى سعد زغلول فى المرة الأولى إلى جزيرة
() مالطة.	٢- أسس بنك مصر عام ١٩٢٠م
() طلعت حرب.	٣- نص على تحديد ملكية الأرض الزراعية
() قانون الإصلاح الزراعى.	٤- القضاء على أسطورة التفوق للجيش الإسرائيلى من نتائج حرب
() ٦ أكتوبر ١٩٧٣م.	٥- الميدان الرئيسى لاشتعال مظاهرات ٢٥ يناير ٢٠١١م.
() الخديو إسماعيل.	

(ب) بم تفسر ؟

- ١- أسباب حرب أكتوبر ١٩٧٣م.
- ٢- فشل العدوان الثلاثى على مصر.
- ٣- ازدياد التدخل الأجنبى فى شئون مصر فى عصر الخديو توفيق.

أولاً : الجغرافيا

السؤال الأول : (أ) أمامك خريطة صماء لمصر وضع مدلول الأرقام الموقعة عليها :



- ١- منطقة تنتشر بها الكثبان الرملية بحر الشمال
- ٢- هضبة البلية البحرية
- ٣- وادى الحريش
- ٤- مدينة هليان

(ب) اكتب المفهوم الجغرافى الذى تشير إليه كل عبارة من العبارات الآتية:

- ١- تدهور التربة الزراعية وانخفاض قدرتها الإنتاجية.
- ٢- شريط سهلى قد يتسع أو يضيق تبعاً لاقتراب الجبال أو الهضاب من البحر.

السؤال الثانى : (أ) اكتب كلمة (صح) أو كلمة (خطأ) أمام العبارات الآتية:

- ١- تمد أشجار الدوم جذورها لمسافات بعيدة للتغلب على ظروف الجفاف. ()
- ٢- يعانى سكان البيئة الصحراوية من مشكلات اقتصادية لوفرة الموارد الطبيعية بها. ()
- ٣- تتميز السهول الساحلية المطلة على البحر المتوسط بوجود الشروم. ()

(ب) برهن على صحة كل العبارات الآتية :

- ١- اعتماد الصناعات الحرفية بالبيئة الصحراوية على الموارد المتوفرة بها.
- ٢- اهتمام الدولة بإقامة مشروعات لتنمية البيئة الصحراوية.

ثانياً : التاريخ

السؤال الثالث : (أ) أكمل العبارات الآتية :

- ١- يعد اشتراك فى ثورة ١٩١٩م تطوراً اجتماعياً ملحوظاً فى تاريخ مصر.
- ٢- تمكنت قواتنا المسلحة من إزالة وعبور الجيش المصرى إلى سيناء ١٩٧٣م.
- ٣- كان لاطمئنان الجماهير إلى موقف المؤيد لمطالبهم دوره فى نجاح ثورة ٢٥ يناير سنة ٢٠١١م.

(ب) اذكر نتيجة واحدة لكلاً مما يأتى :

- ١- توقيع الاتفاق الودى بين إنجلترا وفرنسا عام ١٩٠٤م.
- ٢- العدوان الإسرائيلى على مصر عام ١٩٦٧م.

السؤال الرابع : (أ) اختر الإجابة الصحيحة مما بين الأقواس :

١- قامت الثورة العرابية بسبب

(الاحتلال البريطاني لمصر – تزوير انتخابات مجلس الشعب –

ازدياد التدخل الأجنبي – جميع ما سبق)

٢- ترتب على قبول الحكومة المصرية لتصريح ٢٨ فبراير سنة ١٩٢٢م

(إعلان الحماية البريطانية على مصر – تشكيل أول حكومة دستورية –

توقيع اتفاقية الجلاء – جميع ما سبق)

٣- يعد أحد الأسباب الاجتماعية لقيام ثورة ٢٣ يوليو سنة ١٩٥٢م.

(الامتيازات الأجنبية – سوء توزيع الثروات – ارتفاع الأسعار – جميع ما سبق)

(ب) قارن بين : ثورة ٢٣ يوليو ١٩٥٢م وثورة ٢٥ يناير سنة ٢٠١١م

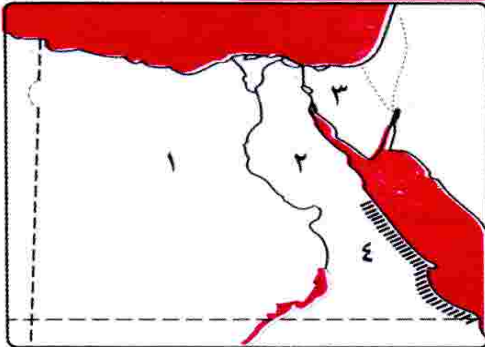
من حيث إنجازات كلاّ منهما.

محافظة المنيا – إدارة بنى مزار التعليمية

٢٤

أولاً : الجغرافيا

السؤال الأول : (أ) أمامك خريطة صماء لمصر اكتب مدلول الأرقام:



١- الصحراء الفريم

٢- الصحراء الشرق

٣- شبه جزيرة سيناء

٤- جبال الجبال

(ب) بم تفسر :- تنوع الأنشطة الاقتصادية فى البيئة الصحراوية.

(ج) ما النتائج المترتبة على :- تحرك الرمال فى البيئة الصحراوية.

السؤال الثانى : (أ) أكمل العبارات الآتية :

١- تنتشر الشعاب المرجانية على ساحل نظرًا المياه و حركتها.

٢- تمتد البيئة الساحلية على طول ساحل البحر المتوسط من شرق مدينة
فى أقصى الشرق حتى غرب مدينة غربًا.

(ب) ضع المفهوم المناسب لكل من العبارات الآتية:

- ١- خليج ذو مدخل ضيق متعمق فى اليابس.
- ٢- امتداد أرضى من اليابس داخل البحر.

ثانياً : التاريخ**السؤال الثالث : (أ) اكتب كلمة (صح) أمام العبارات الصحيحة وكلمة (خطأ) أمام****العبارات الخاطئة :**

- ١- التحق أحمد عرابى بالجيش المصرى فى عهد سعيد باشا. ()
- ٢- وافق مؤتمر الصلح فى باريس على استقلال مصر. ()
- ٣- أسس طلعت حرب بنك مصر برؤوس أموال مصرية. ()
- ٤- دعم محمد فريد مد امتياز شركة قناة السويس. ()

(ب) بم تفسر : ثورة ١٩١٩م ثورة شعبية؟**(ج) ما المقصود بـ : الدستور؟****السؤال الرابع : (أ) اختر الإجابة الصحيحة من بين الأقواس :**

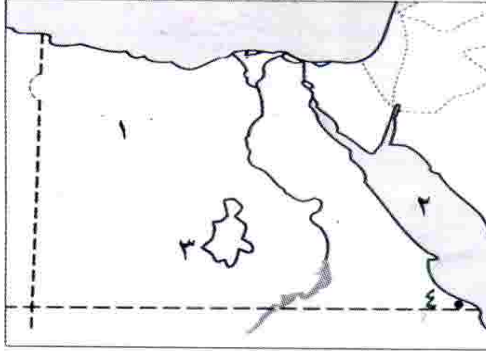
- ١- من أسباب سوء أحوال مصر قبل ثورة ١٩٥٢ م
- (فساد الحكم – تعدد الأحزاب – تأمين قناة السويس – إلغاء الرتب)
- ٢- عادت الملاحة فى تحت السيطرة المصرية الكاملة فى يونيو ١٩٧٥م.
- (قناة السويس – البحر الأحمر – البحر المتوسط – خليج العقبة)
- ٣- سيطر الحزب قبل ثورة يناير ٢٠١١ م على أغلبية مقاعد مجلس الشعب والشورى.
- (الوفد – الديموقراطى – الوطنى – الثورى)

(ب) ما النتائج المترتبة على ؟

- ١- سوء الحالة الأمنية بالمجتمع المصرى بعد ٢٥ يناير ٢٠١١م.
- ٢- تأمين شركة قناة السويس فى يوليو ١٩٥٦م.

أولاً : الجغرافيا

السؤال الأول : (أ) على خريطة مصر الصماء اكتب مدلول الأرقام التالية :



- ١- الصحراء الغربية
- ٢- البحر الأحمر
- ٣- منخفض النصار
- ٤- محمية سهل سيناء

(ب) ما النتائج المترتبة على .. ؟

- ١- وجود الآبار والعيون المائية داخل الواحات بالمنخفضات.
- ٢- حركة الرمال بفعل الرياح على البيئة الصحراوية.

السؤال الثانى : (أ) أكمل الجمل الآتية بكلمات مناسبة :

- ١- تنمو فى البيئة الصحراوية بعض النباتات الطبيعية منها
- ٢- من الخصائص الاقتصادية لسكان البيئة الصحراوية
- ٣- يتميز ساحل البحر المتوسط بوجود الرؤوس الأرضية مثل رأس
- ٤- يوجد الذهب فى مناجم
- ٥- من أشهر القبائل التى تعمل بحرفة الرعى فى الصحراء الشرقية قبيلة

(ب) بم تفسر؟ ضيق السهل الساحلى على خليج العقبة.

ثانياً : التاريخ

السؤال الثالث : (أ) اكتب كلمة (صح) أمام العبارة الصحيحة وكلمة (خطأ) أمام

العبارة غير الصحيحة :

- ١- أدت الامتيازات الأجنبية إلى التدخل الأجنبى فى شئون مصر. ()
- ٢- رفضت سلطات الاحتلال سفر الوفد المصرى إلى باريس. ()
- ٣- احتلت إسرائيل الضفة الغربية لقناة السويس بعد عدوان ١٩٦٧م. ()
- ٤- التزمت كل من مصر وإسرائيل بقرار مجلس الأمن رقم ٣٣٨. ()

(ب) بم تفسر؟

- ١- تكوين اللجان الشعبية فى جميع أنحاء الجمهورية أثناء ثورة ٢٥ يناير ٢٠١١م.
- ٢- فشل إسرائيل فى اقتحام مدينة السويس.

السؤال الرابع : (أ) اختر الإجابة الصحيحة من بين الأقواس :

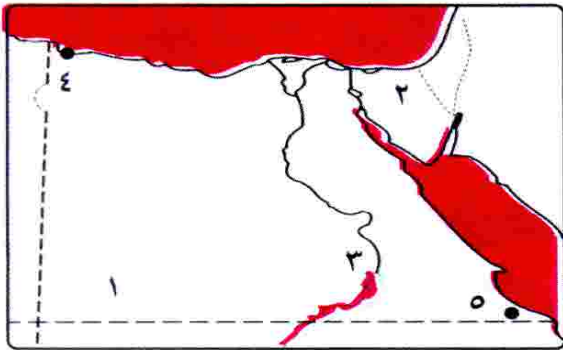
- ١- قام مصطفى كامل بتأسيس جريدة عام ١٩٠٦م.
(الوقائع المصرية - المؤيد - اللواء - الأهرام)
- ٢- يساهم بنك مصر فى تمويل المشروعات
(العامة - الشخصية - الوطنية - الحربية)
- ٣- بدأت ثورة ٢٥ يناير من ميدان بوسط القاهرة.
(المهندسين - التحرير - العتبة - الهرم)

(ب) اكتب المفهوم الذى تدل عليه كل عبارة مما يأتى :

- ١- توزيع الثروات القومية بين المواطنين توزيعاً عادلاً.
- ٢- مجموعة منظمة من الأعضاء تشترك فى وضع برامج محددة لتحسين شئون الدولة فى كافة المجالات من خلال المشاركة فى مسئوليات الحكم.

محافظة أسبوط - إدارة منفلوط التعليميه

٢٦

أولاً : الجغرافيا**السؤال الأول : (أ) أمامك خريطة صماء لمصر وضع مدلول الأرقام الموقعة عليها :**

- ١- جبل
جبل القوس
- ٢- وادى
وادي النيل
- ٣- محمية جزيرة بأسوان.
محمية جزيرة سانت بطرس
- ٤- مدينة
مدينة الأقصر
- ٥- مدينة
مدينة أسبوط

(ب) اكتب ما تدل عليه كل عبارة :

- ١- مجار مائية كانت تجرى بها المياه قديماً ثم جفت.
- ٢- تدهور التربة الزراعية وانخفاض قدرتها الإنتاجية.
- ٣- امتداد أرضى من اليابس داخل البحر.

(ج) بم تفسر؟

- ١- ضيق السهول الساحلية المطلة على البحر الأحمر.
- ٢- ارتفاع نسبة الوفيات بين أطفال البيئة الصحراوية.

السؤال الثاني : (أ) اكتب كلمة (صح) أو كلمة (خطأ) أمام العبارات الآتية :

- ١- يعتمد سكان الواحات على المياه الجوفية في الزراعة. ()
- ٢- يتميز سكان البيئة الصحراوية بإكرام الضيف. ()
- ٣- يستخرج الذهب من منطقة أم بجمة بالصحراء الشرقية. ()

(ب) ما النتائج المترتبة على ؟

- ١- قلة الأمطار في البيئة الصحراوية.
- ٢- صفاء مياه البحر الأحمر وهدوء حرقتها.

ثانياً : التاريخ

السؤال الثالث : (أ) لمن تنسب الأعمال الآتية ؟

- ١- تأسيس جريدة اللواء ١٩٠٠م.
- ٢- أمر بتجنيد أولاد عمد البلاد ومشايخها.
- ٣- أبرز شهداء حرب الاستنزاف واستشهد وسط قواته.

(ب) أكمل العبارات الآتية :

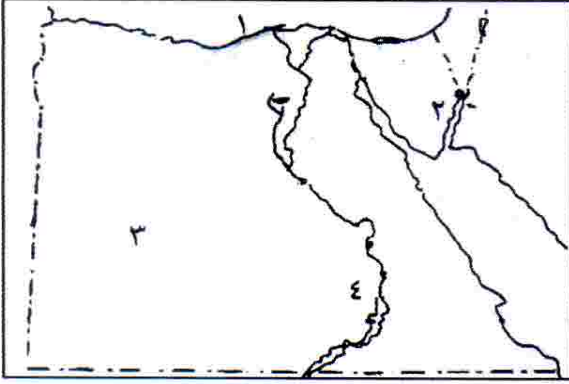
- ١- تولى سعد زغلول عام ١٩٠٦م نظارة
- ٢- يرتبط اسم بالاستقلال الاقتصادي لمصر.
- ٣- تم افتتاح في عام ١٩٧١م.
- ٤- تم تسليم السلطة في ٣ يوليو ٢٠١٣ م للمستشار
- ٥- أثناء ثورة ٢٥ يناير تم قطع جميع وسائل

السؤال الرابع : (أ) بم تفسر؟

- ١- ازدياد التدخل الأجنبي في شئون مصر.
- ٢- تعد ثورة ١٩١٩م ثورة شعبية عامة.
- ٣- فشل العدوان الثلاثي على مصر ١٩٥٦م.
- ٤- تكوين اللجان الشعبية في جميع انحاء الجمهورية أثناء الثورة.

(ب) رتب الأحداث التاريخية من القديم للحديث :

- (تصريح ٢٨ فبراير - اتفاقية الجلاء - الثورة العرابية - ثورة ١٩١٩م
- الحرب العالمية الأولى)

أولاً : الجغرافياالسؤال الأول : (أ) أمامك خريطة صماء لمصر اكتب مدلول الأرقام:

- ١- خليج على ساحل البحر المتوسط
 ٢- مدينة
 ٣- بحر
 ٤- محمية داخل النيل

(ب) أكمل العبارات التالية بوضع كلمة مناسبة :

- ١- تشتهر منطقة أبو طرطور بالوحدات الداخلة باستخراج معدن
 ٢- يحد الصحراء الشرقية من جهة الشمال منطقة شرق
 ٣- المنظر الخلاب يجذب السياح بالصحراء البيضاء لسياحة
 ٤- من أمثلة الامتداد الأرضي داخل البحر المتوسط على الساحل الغربي رأس

السؤال الثاني : (أ) اختر الإجابة الصحيحة مما بين القوسين:

- ١- أهم النباتات الطبيعية على ساحل البحر الأحمر
 (الزيتون - المانجروف - النخيل - كل ما سبق)
 ٢- أقل محافظات الحدود المصرية سكاناً
 (الوادي الجديد - البحر الأحمر - جنوب سيناء - شمال سيناء)
 ٣- كل مما يأتي من المشاكل البيئية في البيئة الصحراوية ما عدا
 (حركة الرمال - خصوبة التربة - زيادة التصحر - السيول المدمرة)
 ٤- يخترق وادي العريش سيناء ليصب في البحر المتوسط.
 (وسط - شمال - غرب - شرق)

(ب) ماذا يحدث ؟

- ١- لم تتعرض الإسكندرية خلال فصل الشتاء للنوات.
 ٢- نجحت الدولة في توفير المدارس والمستشفيات الحديثة بالبيئة الصحراوية.

ثانياً : التاريخالسؤال الثالث : (أ) اكتب اسم الشخصية التي قامت بالأعمال الآتية :

- ١- أسس بنك مصر عام ١٩٢٠م.
- ٢- فاز بأخر انتخابات رئاسية مصرية.
- ٣- اهتمت بمشروعات البنية التحتية وإنشاء المدارس خلال ثلاثين عام من حكمه لمصر.
- ٤- قاد ثورة ١٩٥٢م وأسس تنظيم الضباط الأحرار.

(ب) ما النتائج المترتبة على ؟

- ١- قبول الحكومة المصرية لتصريح ٢٨ فبراير ١٩٢٢م.
- ٢- كفاح الزعيم الوطنى مصطفى كامل.
- ٣- تأمين قناة السويس.

السؤال الرابع : (أ) صوب ما تحته خط:

- ١- كان شعار ثورة ٢٥ يناير ٢٠١١ م (الاتحاد - النظام - العمل) .
- ٢- مد الزعيم محمد فريد نشاط الحركة الوطنية إلى آسيا .
- ٣- وصل أحمد عرابى إلى رتبة الأدميرال فى عهد الخديو توفيق.
- ٤- أعلنت بريطانيا الوصاية على مصر فى الفترة من ١٩١٤م وحتى عام ١٩٢٢م.

(ب) " قامت فى مصر الحديثة ثورة شعبية وأخرى قام بها الشعب

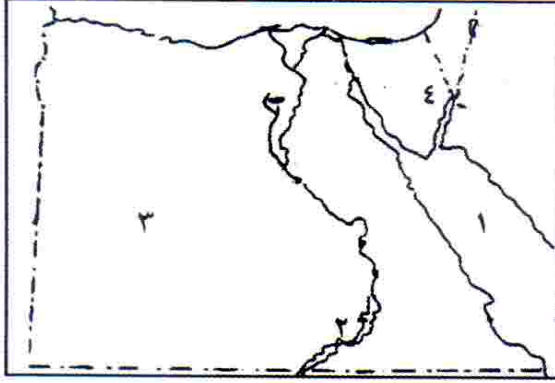
وأيدها الجيش وثالثة قام بها الجيش وأيدها الشعب "

فى ضوء هذه العبارة وضع :

- ١- ما المقصود بتنظيم الضباط الأحرار؟
- ٢- لماذا كانت ثورة ١٩١٩م ثورة شعبية عامة؟
- ٣- ظهر تلاحم الجيش مع الشعب فى الدفاع عن أرض الوطن فى ١٩٥٦ و ١٩٧٣ م وضح ذلك.

أولاً : الجغرافيا

السؤال الأول : (أ) أمامك خريطة صماء لمصر اكتب مدلول الأرقام:



- ١- البحر البحر
- ٢- بحيرة نهر النيل
- ٣- الصحراء العزيم
- ٤- خليج البحر

(ب) اعط تعريفًا صحيحًا لكل من المفاهيم الآتية :

- ١- أودية جافة
- ٢- تملح التربة
- ٣- الشرم

السؤال الثانى : (أ) اختر الإجابة الصحيحة مما بين القوسين:

- ١- يحد صحراء مصر الغربية من ناحية الشرق
- (وادى النيل - البحر الأحمر - البحر المتوسط - السودان)
- ٢- من أشهر القبائل التى تعمل بحرفة الرعى فى الصحراء الغربية
قبيلة أولاد
- (عامر - عابد - على - الشاهرى)
- ٣- من أهم النباتات الطبيعية على ساحل البحر الأحمر أشجار
- (الصفصاات - المانجروف - البلوط - الأرز)
- ٤- توجد بعض العادات السلبية فى البيئة الصحراوية منها
- (الزواج المبكر - الشجاعة - التعاون - كرم الضيافة)
- ٥- من جبال شبه جزيرة سيناء جبل
- (الشايب - موسى - علبة - العوينات)

(ب) بم تفسر؟

- ١- تركز سكان البيئة الصحراوية في الواحات.
- ٢- ضيق السهل الساحلى المطل على البحر الأحمر.

ثانياً : التاريخ :

السؤال الثالث : (أ) إلى من تنسب الأعمال الآتية :

- ١- أسس جريدة اللواء عام ١٩٠٠م.
- ٢- دعا إلى إنشاء مدارس ليلية لتعليم العمال و الفقراء مجاناً.
- ٣- شكل أول حكومة دستورية فى مصر عام ١٩٢٤ م.
- ٤- قاد مظاهرة عابدين السلمية ٩ سبتمبر ١٨٨١ م.
- ٥- تأسس بنك مصر عام ١٩٢٠ م.

(ب) بم تفسر؟ سبب واحد يكفى :

- ١- فشل العدوان الثلاثى على مصر.
- ٢- عقد معاهدة السلام بين مصر و إسرائيل مارس ١٩٧٩ م.

السؤال الرابع : (أ) اكتب كلمة (صح) أو كلمة (خطأ) أمام العبارات الآتية :

- ١- التحق أحمد عرابى بالجيش المصرى فى عهد توفيق باشا. ()
- ٢- تخلت فرنسا عن تأييدها للحركة الوطنية بقيادة مصطفى كامل بعد الاتفاق الودى ١٩٠٤م. ()
- ٣- رفضت سلطات الاحتلال سفر أعضاء الوفد المصرى إلى باريس. ()
- ٤- نجحت ثورة ٢٥ يناير فى إسقاط الرئيس والنظام الحاكم. ()
- ٥- من نتائج حرب أكتوبر ١٩٧٣ عودة الملاحة لقناة السويس. ()
- ٦- سعد زغول تزعم الثورة العرابية. ()

(ب) رتب الأحداث الآتية من القديم إلى الحديث:

- (افتتاح السد العالى – مظاهرة عابدين – تأسيس بنك مصر – حادثة دنشواى)

والآن مع الإجابات النموذجية

إجابة تدريبات الكتاب المدرسي على الوحدة الأولى

- ج ١: (١) شبه جزيرة سيناء. (٢) موسى. (٣) الجلف الكبير.
 (٤) الخماسين. (٥) على. (٦) الحلال. (٧) الأودية الجافة.
 ج ٢: (١) بسبب وجود مصادر المياه في الأودية أو في الواحات أو مناطق السهول القريبة من السواحل حيث تسقط بعض الأمطار.
 (٢) بسبب تنوع الموارد الطبيعية بها.
 (٣) لتثبيت الرمال ومراقبة حركتها على الطريق.
 (٤) لتوفير كمية كبيرة من المياه الجوفية.
 (٥) بسبب كثرة أشجار النخيل ووفرة الأيدي العاملة - وفرة أصواف الأغنام وأوبار الإبل.
 (٦) بسبب وجود الكثير من الموارد المعدنية في البيئة الصحراوية.
 (٧) بسبب انتشار المناطق السياحية في البيئة الصحراوية.
 ج ٣: (١)

العادات السلبية لسكان البيئة الصحراوية	العادات الإيجابية لسكان البيئة الصحراوية
(١) الزواج المبكر.	(١) الحفاظ على التقاليد والتراث القديم في الزواج.
(٢) عمل الأطفال في الرعى والزراعة.	(٢) احترام المجالس العرفية التي يرأسها شيخ القبيلة.
(٣) العلاج بوسائل بدائية مما يؤدي إلى زيادة الوفيات خاصة بين الأطفال.	(٣) تكوين علاقات طيبة مع سكان البيئات الأخرى.
	(٤) إكرام الضيف.

(٢)

هضاب الصحراء الشرقية	هضاب الصحراء الغربية
- هضبة الجلالة القبلية ، وهضبة الجلالة البحرية ، هضبة المعازة.	- هضبة مارماريكا في الشمال .
- هضبة العبابدة والذي يقطعها وادى العلاقى .	- الهضبة الوسطى .
	- هضبة الجلف الكبير في الجنوب .

- ج ٤: (١) العوينات . (٢) البحر الأحمر . (٣) مارماريكا .
 (٤) العجمة . (٥) قنا .
 ج ٥: (١) (صح) (٢) (صح) (٣) خطأ) بالصحراء الغربية .
 (٤) (صح) (٥) خطأ) لمنع حركة الرمال .
 ج ٦: (١) البيئة الصحراوية. (٢) المنخفض. (٣) تملح التربة. (٤) الأودية الجافة.
 (٥) خطأ) على وادى العريش . (٦) خطأ) على وادى العريش . (٧) (صح) .

إجابة اختبار عام (٢) على الوحدة الأولى

- ج ١: (١) (صح). (٢) خطأ) وادى العريش . (٣) خطأ) الربيع. (٤) (صح).
 ج ٢: (١) السطح - المناخ - التربة . (٢) بحر الرمال العظيم .
 (٣) جبل الشايب . (٤) مارماريكا - الجلف الكبير .
 ج ٣: (١) جبل موسى. (٢) إكرام الضيف. (٣) السودان. (٤) القطار.
 ج ٤: (١) تملح التربة. (٢) حركة الرمال. (٣) محافظات الحدود. (٤) حفظ التمور.
 ج ٥: (١) لأنهم ينتقلون بحثاً عن العشب والماء . (٢) بسبب توافر مياه الآبار والعيون .
 (٣) للحصول على المياه الجوفية.
 (٤) بسبب تبخر المياه وترسب الملح على سطح التربة .

إجابة تدريبات الكتاب المدرسى على الوحدة الثانية

- ج ١ : (١) امتداد أرضى من اليابس داخل البحر
(٢) إنشاء العديد من الموانئ الهامة مثل شرم الشيخ ونويبع على
(٣) يوجد العديد من الخلجان المتسعة مثل خليج أبو قير وخليج العرب على
(٤) تكوينات أفرزتها حيوانات بحرية دقيقة
(٥) توغل لجزء من البحر فى اليابس يتصل به بفتحة واحدة
- ج ٢ : (١) برج العرب - الكبارى . (٢) يزيد عدد سكانها عن مليون نسمة .
(٣) التلوث البيئى - الازدحام السكانى . (٤) مطروح - الإسكندرية .
(٥) السمكية - الغاز الطبيعى . (٦) الزراعة . (٧) رفح - السلوم .
- ج ٣ : (١) بسبب اقتراب الجبال من ساحل خليج العقبة .
(٢) بسبب كثرة الخلجان والشروم على ساحل البحر الأحمر .
(٣) بسبب وجود مياه الأمطار الشتوية .
(٤) بسبب صفاء مياهه وارتفاع درجة حرارته وهدوء حركة المياه فيه .
(٥) بسبب توفر فرص العمل والخدمات مثل التعليم والصحة ووسائل الترويح .
- ج ٤ : (١) أدى إلى إزالة الشواطئ الرملية - تدمير بعض الشاليهات المخصصة للاصطياف .
(٢) أدى إلى تدهور الثروة السمكية - انتشار الأمراض للإنسان - إصدار الدولة قوانين تجرم إلقاء المخلفات فى مياه البحر .
(٣) أدى إلى قيام حرفة الزراعة ووجود المراعى الطبيعية .
(٤) أدى إلى ضيق السهول الساحلية المطلة على البحر الأحمر .
(٥) أدى إلى هجرة الكثير من سكان البيئات الأخرى إليها .
- ج ٥ : (١) السويس . (٢) السويس . (٣) العقبة . (٤) الأحمر . (٥) حلايب .
- ج ٦ : - شرم : خليج ذو مدخل ضيق متعمق فى اليابس .
- خليج : توغل لجزء من البحر فى اليابس ويتصل به بفتحة واحدة .
- رأس أرضى : امتداد أرضى من اليابس داخل البحر .
- مدينة مليونية : المدينة التى يزيد عدد سكانها عن مليون نسمة .
- هجرة غير شرعية : هجرة أفراد أو جماعات إلى خارج الدولة بطرق غير قانونية .
- شعاب مرجانية : تكوينات أفرزتها حيوانات بحرية على طول ساحل البحر الأحمر .
- ج ٧ :

وجه المقارنة	المشكلات البيئية للبيئة الساحلية	المشكلات السكانية
المشكلات فى البيئة الساحلية	١- تلوث المياه الشاطئية . ٢- مشكلة تآكل السواحل .	١- التلوث البيئى الذى أدى إلى انتشار كثير من الأمراض . ٢- الازدحام السكانى .
جهود الدولة	١- أصدرت الدولة قوانين تجرم إلقاء مخلفات الصرف فى مياه البحر . ٢- المحافظة على الشواطئ من التآكل بعمل مصدات للأمواج . ٣- تجديد رمال الشواطئ .	١- قامت الدولة بإنشاء مدن جديدة . مثل : برج العرب الجديدة . ٢- مد الطرق والكبارى . ٣- إنشاء مصانع جديدة .

إجابة اختبار عام (٢) على الوحدة الثانية

- ج ١ : ١- (صح) ٢- (خطأ) - (بالضيق) ٣- (خطأ) - البحر المتوسط شمالاً، البحر الأحمر شرقاً. ٤- (صح)
 ج ٢ : ١) الصرف الصحى والصناعى والزراعى فى مياه البحار .
 ٢) التلوث البيئى - الازدحام السكانى. ٣) الإسكندرية. ٤) المنزلة - البردويل.
 ج ٣ : ١) المانجروف. ٢) البحر الأحمر. ٣) البحر المتوسط. ٤) السلوم.
 ج ٤ : ١) الشعاب المرجانية. ٢) الشرم. ٣) ساحل البحر المتوسط. ٤) الرأس الأرضى.
 ج ٥ : ١) بسبب سقوط الأمطار الشتوية. ٢) للترويج والعمل بالأنشطة الاقتصادية المختلفة.
 ٣) لأنها تقوم بدور مهم فى تخزين مياه الأمطار.
 ٤) لاقتراب الجبال من ساحل خليج العقبة.

إجابة تدريبات الكتاب المدرسى على الوحدة الثالثة

- ج ١ : ١) (خطأ) ٢) (صح) ٣) (خطأ) ٤) (صح)
 ج ٢ : ١) بريطانيا. ٢) عابدين - توفيق. ٣) سعد زغلول ورفاقه. ٤) باستقلال مصر شكلياً.
 ج ٣ : ١) لتمويل المشروعات الوطنية.
 ٢) بسبب : أ) ازدياد الوعى القومى والدعوة للتحرر من الاستعمار.
 ب) الإجراءات العنيفة التى فرضتها بريطانيا على مصر أثناء الحرب العالمية الأولى.
 ج) إعلان الرئيس الأمريكى ولسن مبادئه التى تنادى بحق الشعوب فى تقرير مصيرها.
 ٣) لأن السلطات الحاكمة وسلطات الاحتلال فى مصر كانت تضيق عليه وتراقبه.
 ٤) بسبب : التدخل الأجنبى ، الامتيازات الأجنبية ، القروض ، وسوء الأحوال الاقتصادية.
 ج ٤ :

وجه المقارنة	الثورة العربية ١٨٨١م	ثورة ١٩١٩م
الأسباب	١- ازدياد التدخل الأجنبى فى شئون مصر نتيجة : أ- الامتيازات الأجنبية . ب- المراقبة الثنائية . ج- القروض. ٢- تسريح الكثير من الجنود والضباط المصريين . ٣- سوء الأحوال الاقتصادية للمصريين خاصة فى عهد وزارة رياض باشا .	١- ازدياد الوعى القومى والدعوة إلى التحرر من الاستعمار . ٢- الإجراءات العنيفة التى فرضتها إنجلترا على مصر أثناء الحرب العالمية الأولى . ٣- إعلان مبادئ الرئيس الأمريكى ولسن بحق كل أمة فى تقرير مصيرها .
النتائج	١- اضطر الخديو توفيق للموافقة على مطالب الجيش والأمة . ٢- إسقاط وزارة رياض باشا المستبدة وتأليف الوزارة الجديدة فى سبتمبر ١٨٨١ م .	١- إصدار تصريح ٢٨ فبراير ١٩٢٢ م الذى اعترف بمصر دولة مستقلة ذات سيادة شكلية وإلغاء الحماية البريطانية . ٢- وضع دستور ١٩٢٣ م . ٣- تشكيل أول حكومة دستورية فى مصر عام ١٩٢٤ م .

- ج ٥ : (١) مؤتمر الصلح : هو مؤتمر عقدته بعض الدول الأوروبية في باريس بعد انتهاء الحرب العالمية الأولى للنظر في الأوضاع السياسية بعد انتهاء الحرب .
 (٢) دستور : هو مجموعة من المبادئ والقوانين التي تحدد نظام الحكم في الدولة .
 (٣) استقلال مصر الاقتصادي : هو عدم تبعية اقتصاد مصر لأي سيطرة أجنبية والاعتماد على رؤوس الأموال الوطنية .

اجابة اختبار عام (٢) على الوحدة الثالثة

- ج ١ : ١- (خطأ) اللواء . ٢- (صح) ٣- (خطأ) - أحمد عرابي ٤- (خطأ) - سعيد باشا
 ج ٢ : (١) حمايتها على مصر (٢) سعد زغلول وزعماء الوفد المصري .
 (٣) ٢٨ فبراير ١٩٢٢ - باستقلال مصر (٤) التل الكبير .
 ج ٣ : (١) الإمام محمد عبده . (٢) ١٩٢٠ م . (٣) ١٩٠٤ م . (٤) الوقائع المصرية .
 ج ٤ : (١) الدستور . (٢) محمد فريد . (٣) اللورد كرومر . (٤) التل الكبير .
 ج ٥ : (١) بسبب رفض سلطات الاحتلال البريطاني السماح لأعضاء الوفد المصري بالسفر إلى باريس لحضور مؤتمر الصلح .
 (٢) بسبب (أ) ازدياد التدخل الأجنبي في شئون مصر نتيجة الامتيازات الأجنبية والقروض والمراقبة الثنائية .
 (ب) تسريح الكثير من الجنود والضباط المصريين .
 (٣) بسبب تضيق السلطات الحاكمة والاحتلال البريطاني عليه ومراقبة نشاطه .
 (٤) لتمويل المشروعات الوطنية .

إجابة تدريبات الكتاب المدرسى على الوحدة الرابعة

- ج ١ : (١) فساد الحكام . (٢) شركة قناة السويس . (٣) قناة السويس . (٤) الوطنى .
 ج ٢ : (١) التواصل الاجتماعى . (٢) النظام السياسى . (٣) المصرى - السورى . (٤) ارتفاع الأسعار - قلة الدخل . (٥) قوة الإيمان - الخداع الاستراتيجى . (٦) اللاحرب و اللاسلم . (٧) الملكى - الجمهورية .
 ج ٣ : (١) (صح) (٢) (صح) (٣) (صح) (٤) (خطأ) (٥) (صح) .
 ج ٤ : (١) بسبب (أ) وقوف الجيش والشعب بجانب قيادته السياسية لصد العدوان . (ب) تضامن الشعوب العربية بجانب مصر . (ج) معارضة الاتحاد السوفيتى للعدوان وتهديده بالتدخل العسكرى .
 (٢) بسبب (١) نجاح مصر فى مناصرة حركات التحرر الوطنى فى آسيا وإفريقيا . (٢) للقضاء على زعامة مصر للعالم العربى .
 (٣) بسبب (١) سوء الأوضاع السياسية والاجتماعية والاقتصادية والتعليمية والصحية . (٢) انتشار الفساد فى مرافق الدولة ومؤسساتها . (٣) تزوير انتخابات مجلسى الشعب والشورى وسيطرة الحزب الوطنى الحاكم على أغلبية البرلمان .
 (٤) بسبب : سوء الحالة الأمنية أثناء ثورة يناير - المساهمة فى حماية المواطنين - المحافظة على المنازل والمؤسسات العامة .
 ج ٥ : (١) أدى إلى (٢) تغيير نظرة العالم للجيش المصرى وانبهاره بأدائه العسكرى . (أ) استعادة مصر دورها الرائد فى المنطقة العربية . (ب) عودة الملاحة لقناة السويس . (ج) توقيع اتفاقية السلام بين مصر وإسرائيل فى مارس ١٩٧٩ م . (د)

- (٣) أدى إلى قيام إسرائيل بالعدوان على مصر في ٥ يونيو ١٩٦٧ م .
 (٤) أدى إلى نزول القوات المسلحة إلى الميادين لحماية ممتلكات الدولة -
 تشكيل اللجان الشعبية .
 (٥) أدى إلى : (أ) عزل الرئيس محمد مرسي وتسليم السلطة للمستشار عدلى منصور .
 (ب) تعديل دستور ٢٠١٢ و صدور دستور جديد يناير ٢٠١٤ .
 (ج) عقدت انتخابات رئاسية وإعلان فوز المرشح عبد الفتاح السيسي .
 ج ٦ : تأميم قناة السويس - العدوان الثلاثي على مصر - العدوان الإسرائيلي على مصر
 - حرب الاستنزاف - افتتاح السد العالي .
 ج ٧ :

وجه المقارنة	ثورة ٢٣ يوليو ١٩٥٢ م	ثورة ٢٥ يناير ٢٠١١ م
أحوال مصر قبيل الثورة	- حرم الفلاحون من امتلاك الأراضي الزراعية . - عاش المصريون ظلماً اجتماعياً تحت الاحتلال البريطاني . - تدهور أحوال الجيش المصري .	- انتشار الفساد في مرافق الدولة . - تدهور الخدمات . - عدم احترام القانون والقضاء
أسباب الثورة	١- أسباب سياسية : فساد الحكم - الاحتلال البريطاني ٢- أسباب اقتصادية : ارتفاع الأسعار - انخفاض الدخل . ٣- اجتماعية : سوء توزيع الثروات - غياب العدالة الاجتماعية - انتشار المرض والجهل .	١- سوء الأوضاع السياسية والاجتماعية والاقتصادية . ٢- تزوير انتخابات مجلسي الشعب والشورى وسيطرة الحزب الوطني . ٣- انتشار الفساد في كل مرافق الدولة
أهداف / مبادئ الثورة	١- القضاء على الاستعمار وأعوانه . ٢- القضاء على الإقطاع . ٣- القضاء على الاحتكار وسيطرة رأس المال . ٤- إقامة عدالة اجتماعية . ٥- إقامة جيش وطني قوى . ٦- إقامة حياة ديمقراطية سليمة	- تحقيق العدالة الاجتماعية . - تحقيق الحرية والكرامة للمواطن المصري .
ما تم تحقيقه من إنجازات	١- صدور قوانين الإصلاح الزراعي . ٢- عقد اتفاقية الجلاء مع بريطانيا . ٣- تأميم شركة قناة السويس . ٤- إقامة وحدة بين مصر وسوريا . ٥- بناء السد العالي .	١- إسقاط النظام السياسي . ٢- حل مجلسي الشعب والشورى . ٣- الإفراج على المعتقلين السياسيين . ٤- ارتفاع الوعي السياسي للمصريين . ٥- تأكيد الإحساس بالموطنة بين المسلمين والمسيحيين .

- ج ٨ : (١) لم يحدث العدوان الثلاثي على مصر ١٩٥٦ م .
 (٢) حُرِّم المصريون من ملكية للأراضي الزراعية ، ظل نظام الإقطاع في مصر .
 (٣) استمرت حالة الحرب مع إسرائيل - لم تعود حركة الملاحة في قناة السويس .

إجابة اختبار عام (٢) على الوحدة الرابعة

- ج١ : ١- (صح) ٢- (خطأ) ٣- (صح) ٤- (خطأ)
 ج٢ : ١- ٢٥ يناير ٢٠١١ م ٢- رأس النظام السياسى .
 ٣- ارتفاع الأسعار وانخفاض الدخل . ٤- الاسلام واللاحرب .
 ج٣ : ١- الوطنى ٢- فساد الحكام ٣- الجزائر ٤- إسرائيل .
 ج٤ : ١- عدالة اجتماعية ٢- خط بارليف ٣- تنظيم الضباط الأحرار .
 ٤- حرب الاستنزاف .
 ج٥ : ١- بسبب مناصرة مصر لحركات التحرر فى آسيا وإفريقيا، القضاء على زعامة مصر للعالم العربى .
 ٢- بسبب وقوف الجيش والشعب بجانب قيادته السياسية ووقوف الشعوب العربية ومعارضة الاتحاد السوفيتى وتهديده بالتدخل العسكرى .
 ٣- لحماية الثورة والممتلكات العامة والخاصة والمنازل .
 ٤- بسبب التدريب المستمر والإصرار والسرية التامة فى وضع الخطط .

إجابة الاختبار الأول

أولاً : الجغرافيا

- ج١ : (أ) ١- العوينات ٢- الأحمر ٣- أم بجمة ٤- سالوجا .
 (ب) ١- أدى إلى حدوث السيول .
 ٢- أدى إلى اتصاف سكان البيئة الساحلية بالشجاعة ومشاركة المرأة للرجل فى معظم الأعمال .
 ٣- أدى إلى نمو الشعاب المرجانية فى البحر الأحمر .
 ج٢ : (أ) ١- (خطأ) أصغر من ٢- (صح) ٣- (خطأ) الصحراء الشرقية ٤- (صح) ٥- (خطأ) مليون نسمة ٦- (خطأ) يفعل الأمواج .
 (ب) ١- يزداد عدد السكان وتقوم الزراعة ٢- لم توجد فى مصر بيئة ساحلية .

ثانياً : التاريخ

- ج٣ : (أ) ١- مصطفى كامل ٢- كفر الدوار ٣- سوريا ٤- طلعت حرب .
 (ب) ١- أن الدولة التى تمتلك جيشًا قويًا تجد لها مكانًا بين دول العالم وتحقق نهضة شاملة .
 ٢- أن الخيانة سببًا فى هزيمة عرابى فى معركة التل الكبير والمصريين هم من يدافعون عن مصر .
 ٣- أن العرب قوة إذا اتحدوا فى وجه أعدائهم .
 ج٤ : (أ) ١- بسبب : أ) استمرار سوء الأحوال الاقتصادية والاجتماعية والسياسية .
 ب) لم تقدم السياسات الجديدة حلولاً للمشكلات .
 ج) ازدياد الأصوات المعارضة للحكم ، والمطالبة بإجراء انتخابات رئاسية مبكرة .
 ٢- بسبب : وقوف الجيش والشعب بجانب قيادته وتضامن الشعوب العربية ومعارضة الاتحاد السوفيتى له وتهديده بالتدخل العسكرى .
 ٣- بسبب : ازدياد الوعى القومى عند المصريين بالإضافة إلى الإجراءات العنيفة للإنجليز أثناء الحرب العالمية الأولى .
 (ب) ١- جمال عبد الناصر ٢- محمد فريد .

إجابة الاختبار الثانى

أولاً : الجغرافيا

- ج١ : (أ) ١- المتوسط ٢- الجلف الكبير ٣- السويس ٤- القطارة .
 (ب) ١- كثبان رملية ٢- المدينة المليونية ٣- تآكل الشواطئ .

- ج ٢ : (أ) ١- بسبب: قلة الموارد وندرة الأراضي الزراعية ومن ثم نقص الغذاء .
 - الهجرة للبيئات الأخرى نتيجة قلة الموارد وانخفاض مستوى المعيشة .
 - الاعتماد على البيئات الأخرى خاصة البيئة الزراعية .
 ٢- بسبب: تبخر المياه وترسب الملح على سطح التربة .
 ٣- بسبب: تمتعها بالنباتات والحيوانات والطيور النادرة .
 - تعدد المزارات السياحية .
 - مناظرها الخلابة مما يجذب السياح لسياحة السفارى .
 - توفر المنشآت من فنادق ومخيمات وطرق جيدة لخدمة السياحة .
- (ب) ١- قد يؤدي ذلك إلى افتقار عنصر الجذب السياحي لمصر وقلة أعداد السائحين الوافدين إليها
 لعدم توافر الخدمات السياحية .
 ٢- لم يتم تخزين مياه الأمطار .

ثانياً : التاريخ

- ج ٣ : (أ) ١- التل الكبير . ٢- السويس . ٣- سعيد . ٤- تنظيم الضباط الأحرار .
 (ب) ١- أدى إلى قيام الشعب المصرى بثورة ٢٥ يناير ٢٠١١م . ٢- أدى إلى العدوان الثلاثى على مصر .
 ٣- أدى إلى قيام الثورة مرة أخرى فى مصر ، وإصدار تصريح ٢٨ فبراير .
 ج ٤ : (أ) ١- سعد زغلول . ٢- محمد فريد . ٣- مصطفى كامل . ٤- طلعت حرب . ٥- ولسن .
 (ب) أجب بنفسك .

إجابة الاختبار الثالث

أولاً : الجغرافيا

- ج ١ : (أ) (١) الفيوم . (٢) الشرقية . (٣) الإسكندرية . (٤) ناصر .
 (ب) (١) - لتمتعها بالنباتات والحيوانات والطيور البرية النادرة .
 - مناظرها الخلابة مما يجذب سياحة السفارى .
 - تعدد المزارات السياحية مثل دير سانت كاترين .
 - توفر المنشآت من فنادق ومخيمات .
 (٢) بسبب صفاء وهدوء حركة المياه فى البحر الأحمر .
 (٣) لأنها تستخدم فى تخزين مياه الأمطار الشتوية - الاستفادة منها .
- ج ٢ : (أ) (١) (صح) (٢) (صح) (٣) (خطأ) ندرة الأمطار . (٤) (صح)
 (ب) (١) يقل تركيز السكان فى البيئة الصحراوية .
 (٢) لما تعرض الإنسان للضرر/وكذلك المحاصيل الزراعية .
 (٣) يقل عدد السياح القادمين إلى مصر - ولم تقم سياحة الشواطئ .
 (ج) (١) للاستفادة من مياه السيول .
 (٢) بسبب نحت الأمواج لساحل الدلتا .
 (٣) بسبب إلقاء المخلفات فى مياه البحر ، والتلوث الناتج عن حركة السفن ونقل البترول .

ثانياً : التاريخ

- ج ٣ : (أ) (١) عدلى منصور . (٢) إسرائيل . (٣) تشكيل مجلس النواب .
 (٤) محمد فريد . (٥) الضباط الأحرار . (٦) بريطانيا .
 (ب) (١) بسبب: ازدياد الوعي القومى والدعوة للتحرر - الإجراءات العنيفة التى فرضتها
 بريطانيا على مصر - إعلان الرئيس الأمريكى ولسن مبادئه فى حق الشعوب
 فى تقرير مصيرها .
 (٢) لأنه اعترف بالحماية البريطانية على مصر .

- ج ٤ : (أ) معركة التل الكبير - الاتفاق الودى - حادثة دنشواى - نفى سعد زغلول - صدور أول دستور مصرى .
 (ب) (١) طلعت حرب : أنشأ بنك مصر عام ١٩٢٠ م لتمويل المشروعات الوطنية .
 (٢) أحمد عرابى : قاد مظاهرة عابدين فى سبتمبر ١٨٨١ م وعرض مطالب الجيش والشعب على الخديو توفيق .
 (٣) محمد فريد : رفض مد امتياز شركة قناة السويس عام ١٩١٠ م .
 (ج) أجب بنفسك .

إجابة الاختبار الرابع

أولاً : الجغرافيا

- ج ١ : (أ) (١) المتوسط . (٢) البحر الأحمر . (٣) النيل . (٤) التيه .
 (ب) (١) بسبب إلقاء مخلفات الصرف فى مياه البحر - التلوث الناتج عن حركة السفن وناقلات البترول .
 (٢) بسبب اقتراب الجبال من ساحل خليج العقبة .
 (٣) بسبب صفاء وهدوء حركة المياه فى البحر الأحمر .
 ج ٢ : (أ) (١) (صح) (٢) (خطأ) - ندرة الأمطار (٣) (صح) (٤) (صح) (ب) (١) أدى إلى قيام حرفة الزراعة .
 (٢) أدى إلى عمل بعض سكان البيئة الصحراوية بحرفة التعدين واستخراج البترول ، والاستقرار فى المراكز العمرانية القريبة منها .
 (٣) أدى إلى تسهيل حركة التجارة - ربط البيئة الصحراوية بالوادى والدلتا

ثانياً : التاريخ

- ج ٣ : (أ) (١) محمد فريد . (٢) سعد زغلول . (٣) اللواء .
 (٤) مالطة . (٥) تأميم قناة السويس . (٦) التل الكبير .
 (ب) ١- الدستور : هو مجموعة من المبادئ والقوانين التى تحدد نظام الحكم فى الدولة .
 ٢- عدالة اجتماعية : هى توزيع الثروات القومية بين المواطنين توزيعاً عادلاً .
 ج ٤ : (أ) (١) فرنسا . (٢) سعيد . (٣) محمد فريد .
 (٤) حرب أكتوبر . (٥) الشعب المصرى . (٦) طلعت حرب .
 (ب) (١) سوء الأوضاع السياسية والاقتصادية والاجتماعية والتعليمية والصحية للدولة .
 (٢) أجب بنفسك .

إجابة الاختبار الخامس

أولاً : الجغرافيا

- ج ١ : (أ) (١) الأحمر . (٢) السويس . (٣) الغربية . (٤) السلوم .
 (ب) (١) بسبب انخفاض مستوى المعيشة وقلة الموارد - يعمل معظم سكان البيئة الصحراوية بحرفة الرعى والزراعة .
 (٢) بسبب (أ) إلقاء مخلفات الصرف الصحى والصناعى والزراعى فى مياه البحر .
 (ب) التلوث الناتج عن حركة سفن الشحن وناقلات البترول .
 (٣) بسبب : توفر الموارد الغذائية والمواد الخام - توفر المناظر الطبيعية الهامة التى تعتبر مقصدًا للترويج والجذب السياحى - المنطقة الساحلية مجالاً حيويًا للنقل البحرى والتجارة .

وجه المقارنة	البيئة الصحراوية	البيئة الساحلية
عادات السكان	<p>(أ) عادات إيجابية مثل :</p> <p>١- الحفاظ على التقاليد والتراث القديم.</p> <p>٢- احترام المجالس العرفية التي يرأسها شيخ القبيلة .</p> <p>٣- إكرام الضيف .</p> <p>(ب) عادات سلبية مثل :</p> <p>١- الزواج المبكر .</p> <p>٢- عمل الأطفال في الرعى والزراعة.</p> <p>٣- العلاج بوسائل بدائية مما يؤدي إلى زيادة عدد الوفيات بين الأطفال .</p>	<p>(أ) عادات إيجابية : عادات إيجابية</p> <p>١- العمل الجماعي لأن أعمال البيئة الساحلية تحتاج إلى التعاون .</p> <p>٢- حب المخاطرة والشجاعة .</p> <p>٣- مشاركة المرأة للرجل بنصيب وافر في الأعمال .</p> <p>(ب) عادات سلبية :</p> <p>١- الهجرة غير الشرعية .</p> <p>٢- تصريف المخلفات المنزلية والصناعية في البحر .</p> <p>٣- الصيد غير القانوني .</p>
مشكلات البيئة	<p>١- ندرة الماء .</p> <p>٢- حركة الرمال .</p> <p>٣- السيول .</p> <p>٤- تملح التربة .</p>	<p>١- تلوث المياه الشاطئية .</p> <p>٢- تآكل السواحل بفعل نحت الأمواج .</p>

(ب) (١) صح . (٢) خطأ . (صناعة السجاد اليدوى) (٣) خطأ . (أولى البحيرات) (٤) صح .

ثانياً : التاريخ

ج ٣ : (أ) (١) بسبب : - سوء الأوضاع الاقتصادية والاجتماعية والسياسية .

- انتشار الفساد فى جميع مرافق الدولة .

- تزوير انتخابات مجلس الشعب والشورى وسيطرة الحزب الوطنى .

(٢) لتعليم العمال والفقراء مجاناً .

(٣) لأنه اعترف بالحماية البريطانية على مصر ، ولم تأت قراراته لصالح القضية المصرية .

(٤) بسبب إعلان تأميم شركة قناة السويس فى يوليو ١٩٥٦ م .

(ب) (١) اللواء . (٢) بريطانيا . (٣) مصر . (٤) ١٩٧٥ م .

ج ٤ : (أ) (١) بسبب : انتشار الفساد فى مرافق الدولة وجميع مؤسساتها .

(٢) تلاحم الجيش مع الشعب - نزول القوات المسلحة إلى الشوارع والميادين .

(٣) إسقاط النظام السياسى ، ووضع خطة زمنية لإجراء انتخابات رئاسة

الجمهورية ووضع دستور جديد .

(٤) أجب بنفسك .

(ب) (١) طلعت حرب . (٢) أحمد عرابى . (٣) سعد زغلول .

(٤) جمال عبد الناصر . (٥) مصطفى كامل . (٦) محمد فريد .

إجابة الاختبار السادس

أولاً : الجغرافيا

- ج ١ : (أ) (١) البرلس. (٢) رأس محمد. (٣) أم بجمة. (٤) العوينات.
 (ب) (١) أدى إلى : إتلاف الحقول الزراعية - تعطيل حركة النقل على الطرق
 - ردم الآبار - زيادة التصحر.
 (٢) أدى إلى إزالة الشواطئ الرملية - تدمير بعض الشاليهات المخصصة للاصطياف
 (٣) أدى إلى تدهور الثروة السمكية وانتشار الأمراض للإنسان.
 ج ٢ : (أ) (١) الحدود. (٢) الزراعية. (٣) الحرفية.
 (٤) الساحلية. (٥) البحر الأحمر. (٦) برج العرب.
 (ب) أجب بنفسك.
 (ج) (١) تشجيع المستثمرين على إنشاء المنتجعات والفنادق في البيئة الصحراوية.
 (٢) تشجيع سياحة السفارى .

ثانياً : التاريخ

- ج ٣ : (أ) (١) صح. (٢) خطأ (رياض باشا). (٣) صح.
 (٤) خطأ (أموال وطنية). (٥) صح.
 (ب) (١) بسبب :
 ١- تلاحم الجيش والشعب بجانب قيادته السياسية.
 ٢- تضامن الشعوب العربية بجانب مصر .
 ٣- معارضة الاتحاد السوفيتى (روسيا حالياً) للعدوان وتهديدها بالتدخل العسكرى.
 (٢) بسبب : الخداع الاستراتيجى - العقيدة القتالية - قوة الإيمان - التعاون العربى .
 ج ٤ : (أ) (١) عدلى منصور (٢) مصطفى كامل. (٣) محمد فريد. (٤) الرئيس محمد أنور السادات.
 (ب) (١) حيث عقدت اتفاقية الجلاء بين مصر وبريطانيا فى أكتوبر ١٩٥٤م.
 (٢) تحقيق الكرامة والحرية والعدالة الاجتماعية للمواطن المصرى.
 (٣) أجب بنفسك.

إجابة الاختبار السابع

أولاً : الجغرافيا

- ج ١ : (أ) (١) البحر الأحمر. (٢) القطارة. (٣) العقبة. (٤) سيناء.
 (ب) (١) لم تقم الزراعة على الساحل الشمالى لمصر.
 (٢) لم يتركز السكان فى الواحات - يقل عدد السكان فى البيئة الصحراوية .
 (٣) لم تعد السياحة أحد الأنشطة الاقتصادية الهامة فى البيئة الصحراوية .
 ج ٢ : (أ) (١) خطأ (الصحراء الغربية أكبر الصحارى مساحة) (٢) خطأ (على وادى العريش).
 (٣) صح. (٤) صح. (٥) صح. (٦) صح.
 (ب) ١- الرأس الأرضى : هو امتداد أرضى من اليابس داخل البحر .
 ٢- الواحات : هى أرض منخفضة بالصحراء تقوم بها الزراعة على المياه الجوفية
 (الآبار والعيون) .
 (ج) أجب بنفسك.

ثانياً : التاريخ

- ج ٣ : (أ) (١) التل الكبير . (٢) إسماعيل . (٣) دنشواى .
 (٤) الجزائر . (٥) دستور عام ١٩٢٣ م . (٦) سعد زغول .
 (ب) (١) بسبب : سوء الأوضاع الاقتصادية والسياسية والاجتماعية – انتشار الفساد
 فى جميع مرافق الدولة .
 (٢) بسبب : إعلان مصر تأميم شركة قناة السويس فى يوليو ١٩٥٦ م .
 ج ٤ : (أ) (١) سعد زغول . (٢) محمد فريد . (٣) اللواء .
 (٤) قانون الإصلاح الزراعى . (٥) عبد المنعم رياض .
 (ب) أجب بنفسك .
 (ج) عزل الرئيس محمد مرسى وتسليم السلطة للمستشار عدلى منصور لحين إجراء انتخابات
 رئاسية مبكرة .

إجابة الاختبار الثامن

أولاً : الجغرافيا

- ج ١ : (أ) (١) البردويل . (٢) البحرية . (٣) الأحمر . (٤) سانت كاترين .
 (ب) (١) بسبب : وجود مناطق الأودية أو الواحات حيث مصادر المياه ومناطق
 السهول القريبة من السواحل حيث سقوط بعض الأمطار .
 (٢) بسبب اقتراب الجبال من ساحل خليج العقبة .
 (٣) لأن الرجال يقضون معظم أوقاتهم فى الأعمال المرتبطة بالبحر .
 ج ٢ : (أ) (١) خطأ (الأغنام والماعز) . (٢) صح .
 (٣) خطأ (من رفح إلى السلوم) . (٤) خطأ (على ساحل البحر الأحمر) .
 (٥) خطأ (جذب سكانى) . (٦) صح .
 (ب) (١) زادت نسبة التعليم فى البيئة الصحراوية وتحسنت أحوال البيئة الصحراوية .
 (٢) تعرضت السواحل للتآكل .

ثانياً : التاريخ

- ج ٣ : (أ) (١) مصر الفتاة . (٢) القاهرة . (٣) سوريا . (٤) سيناء .
 (٥) كل ما سبق . (٦) إنجلترا .
 (ب) أجب بنفسك .
 ج ٤ : (أ) (١) أحمد عرابى . (٢) سعد زغول . (٣) ولسن . (٤) جمال عبد الناصر .
 (ب) (١) أدى إلى مقاومة الاحتلال البريطانى داخل مصر/ ورفض وجوده .
 (٢) أدى إلى : (أ) تغيير استراتيجيات الحرب فى العالم .
 (ب) القضاء على أسطورة الجيش الإسرائيلى الذى لا يقهر .
 (ج) عودة الملاحة البحرية لقناة السويس يونيو ١٩٧٥ م .

- (٣) أدى إلى : (أ) ارتفاع الوعي السياسى لدى الشعب المصرى .
 (ب) حل مجلس الشعب والشورى .
 (ج) إسقاط النظام السياسى .

١٧٤ هـ
إجابة الاختبار التاسع
أولاً : الجغرافيا

- ج ١ : (أ) (١) المتوسط . (٢) مارماريكا . (٣) العقبة . (٤) الفيوم .
 (ب) (١) حركة الرمال . (٢) تآكل السواحل .
 (ج) (١) أدى إلى : أصبحت من عادات سكان البيئة الساحلية العمل الجماعى والتعاون - حب المخاطرة والشجاعة فى مواجهة أخطار البحر .
 (٢) أدى إلى نمو الشعاب المرجانية على ساحل البحر الأحمر .
 ج ٢ : (أ) (١) بسبب : (أ) انخفاض مستوى المعيشة . (ب) قلة الموارد .
 (٢) بسبب تبخر المياه وترسب الملح على سطح التربة وداخل مسامها .
 (٣) بسبب ابتعاد الجبال عن ساحل البحر المتوسط .
 (٤) بسبب إلقاء مخلفات الصرف فى مياه البحر - التلوث الناتج عن سفن الشحن وناقلات البترول .
 (ب) (١) لم يحدث تنمية للبيئة الصحراوية - لم تعد السياحة أهم الأنشطة الاقتصادية فى البيئة الصحراوية .
 (٢) لم يتم تخزين مياه الأمطار ولم يتم الاستفادة منها .

ثانياً : التاريخ

- ج ٣ : (أ) (١) حلوان للحديد والصلب . (٢) المؤتمرات . (٣) سعيد باشا . (٤) ولسن - الأولى .
 (ب) (١) أدى إلى : قيام ثورة ٢٥ يناير ٢٠١١ م
 (٢) أدى إلى العدوان الثلاثى على مصر .
 (٣) أدى إلى تجدد الثورة مرة ثانية - لجأ المصريون إلى المقاطعة للبضائع والسفن والبنوك البريطانية - إصدار تصريح ٢٨ فبراير عام ١٩٢٢ م .
 ج ٤ : (أ) (١) عدلى منصور . (٢) مصطفى كامل . (٣) طلعت حرب . (٤) أحمد عرابى .
 (ب) (١) ١- تغيير نظرة العالم للجيش المصرى .
 ٢- القضاء على أسطورة التفوق المطلق للجيش الإسرائيلى .
 ٣- عودة الملاحة لقناة السويس فى يونيو ١٩٧٥ م .
 (٢) بسبب : (أ) استمرار سوء الأحوال الاقتصادية والاجتماعية والسياسية .
 (ب) ازدياد الأصوات المعارضة للحكم والمطالبة بإجراء انتخابات مبكرة .
 (٣) أجب بنفسك .

إجابة الاختبار العاشر

أولاً : الجغرافيا

- ج ١ : (أ) (١) الشرقية . (٢) سيناء . (٣) الإسكندرية . (٤) ناصر .
 (ب) (١) بسبب صفاء وهدوء حركة المياه في البحر الأحمر .
 (٢) بسبب جهود الدولة في مواجهة مشكلات التعليم في البيئة الصحراوية .
 (٣) لأن أعمال البيئة الساحلية تحتاج إلى التعاون مثل أعمال الصيد والشحن وتفريغ السفن .
- ج ٢ : (أ) (١) الشمالي . (٢) المنزلة . (٣) الزيتون . (٤) سيوة .
 (٥) الصيد . (٦) الإسكندرية .
 (ب) (١) أدى إلى : (أ) إتلاف المحاصيل الزراعية .
 (ب) تعطيل حركة النقل على الطرق .
 (ج) ردم الآبار . (د) زيادة التصحر .
 (٢) أدى إلى : نمو الشعاب المرجانية على طول ساحل البحر الأحمر .

ثانياً : التاريخ

- ج ٣ : (أ) (١) التل الكبير . (٢) مصطفى كامل .
 (٣) إنجلترا - إسرائيل . (٤) المعتمد البريطاني . (٥) اللواء .
 (ب) الثورة العربية عام ١٨٨١ م - الحرب العالمية الأولى ١٩١٤ م - ثورة ١٩١٩ م -
 تصريح ٢٨ فبراير ١٩٢٢ م
- ج ٤ : (أ) (١) شارك محمد فريد في العديد من المؤتمرات لبحث المشكلات السياسية والاقتصادية
 لمصر .
 (٢) تأسيس طلعت حرب بنك مصر عام ١٩٢٠ م لتمويل المشروعات الوطنية .
 (٣) قضى على الإقطاع - توزيع الأراضي الزراعية على الفلاحين .
 (ب) ١- عدالة اجتماعية : هي توزيع الثروات القومية بين المواطنين توزيعاً عادلاً .
 ٢- حرب الاستنزاف : هي الفترة ما بعد حرب ١٩٦٧ م حتى قبل حرب أكتوبر ١٩٧٣ م ،
 وهي عبارة عن غارات متقطعة قامت بها قواتنا المسلحة
 المصرية ضد العدو الإسرائيلي لاستنزاف قوة العدو العسكرية
 ومحو هزيمة ١٩٦٧ م .

مع أطيب أمنيات أسرة فادة الدراسات الاجتماعية بسلسلة

كتب قطر الندى بالنجاح والتفوق